



























ULANGAN AKHIR SEMESTER GANJIL
TAHUN PELAJARAN 2014/2015

Mata Pelajaran	: TIK	Nama	:
Kelas/Semester	: III / I	No. Absen	:
Hari/Tanggal	:	Nilai	:

I. Berilah tanda silang pada satu jawaban A, B, C, atau D yang menurutmu benar!

- Arti komputer yang benar adalah ...
 - Alat elektronik untuk berhitung
 - Alat elektronik untuk mengolah dan menyimpan data
 - Alat untuk menggambar
 - Alat untuk menyimpan lagu dan video
- Di bawah ini yang termasuk kegunaan komputer adalah ...
 - Memasak
 - Menjahit
 - Menggambar
 - Membuat video
- Gambar berikut yang merupakan mouse yaitu ...
 - 
 - 
 - 
 - 
- Menekan tombol kiri mouse disebut ...
 - Press
 - Klik kanan
 - Dobel klik
 - Klik
-  Gambar di samping adalah ...
 - Monitor
 - Mouse
 - Keyboard
 - CPU
- Kegunaan CPU adalah untuk ...
 - Menggerakkan kursor
 - Mencetak di kertas
 - Mengetik huruf
 - Menyimpan data - data
- Jika ingin menghidupkan komputer, kita harus menekan tombol ...
 - Delete
 - Enter
 - Power
 - Panah
- Untuk membuka program – program di komputer kita tekan tombol ...
 - CTRL
 - Start
 - Close
 - Print
- Paint adalah program aplikasi pengolah ...
 - Kata
 - Angka
 - Uang
 - Gambar
- Yang merupakan lambang/gambar program paint adalah ...
 - 
 - 
 - 
 - 
- Program paint bisa kita temui di kelompok ...
 - Games
 - Accessories

- C. Tools
D. Window
12. Bagian paint yang berisi ikon – ikon untuk menggambar disebut ...
A. Color box
B. Kanvas
C. Menu
D. Toolbox
13. Ikon untuk menutup program paint adalah ...
A.  B.  C.  D. 
14.  Ikon di samping digunakan untuk ...
A. Menggambar dengan kuas
B. Menggambar dengan pensil
C. Menggambar lingkaran
D. Menggambar kotak
15.  Ikon di samping disebut ...
A. Ellips
B. Rectangle
C. Pencil
D. Brush
16. Ikon untuk mengecat dengan cat semprot yaitu ...
A.  B.  C.  D. 
17. Ikon pensil yaitu ...
A.  B.  C.  D. 
18.  Untuk menggambar seperti di samping digunakan ikon ...
A. Line
B. Eraser
C. Sprayer
D. ellips
19.  gambar di samping dibuat dengan menggunakan ikon ...
A. Fill color
B. Brush
C. Line
D. Save
20. Untuk membuka gambar yang sudah pernah kita simpan, perintahnya adalah ...
A. Open
B. New
C. Delete
D. Close


II. Isilah titik – titik berikut ini dengan benar!

21. Untuk mengetik huruf dan angka adalah kegunaan dari ...
22. Untuk menghapus huruf, kita bisa menekan tombol ...
23. Tombol mouse yang sebelah kiri, ditekan menggunakan jari ...
24. Untuk menyimpan gambar yang sudah kita buat, kita menekan file lalu ...
25. Bagian paint yang berisi pilihan warna – warna disebut ...
26. Ikon untuk menghapus gambar yang sudah kita buat disebut ...
27. Gambar ikon ellips yaitu ...

28. Ikon di samping digunakan untuk ...
29. Guna tombol enter di keyboard adalah untuk ...
30. Saat menyalakan komputer, biasanya kita harus mengisi ... terlebih dahulu, lalu klik OK.

III. Jawablah pertanyaan berikut ini dengan tepat!

31. Apakah kegunaan komputer itu? Sebutkan!
32. Gambarlah bentuk CPU!
33. Bagaimanakah cara membuka program paint? Jelaskan!



34. Bagaimanakah cara membuat gambar rumah seperti di atas? Jelaskan!
35. Bagaimanakah cara menghapus gambar yang salah? Jelaskan!