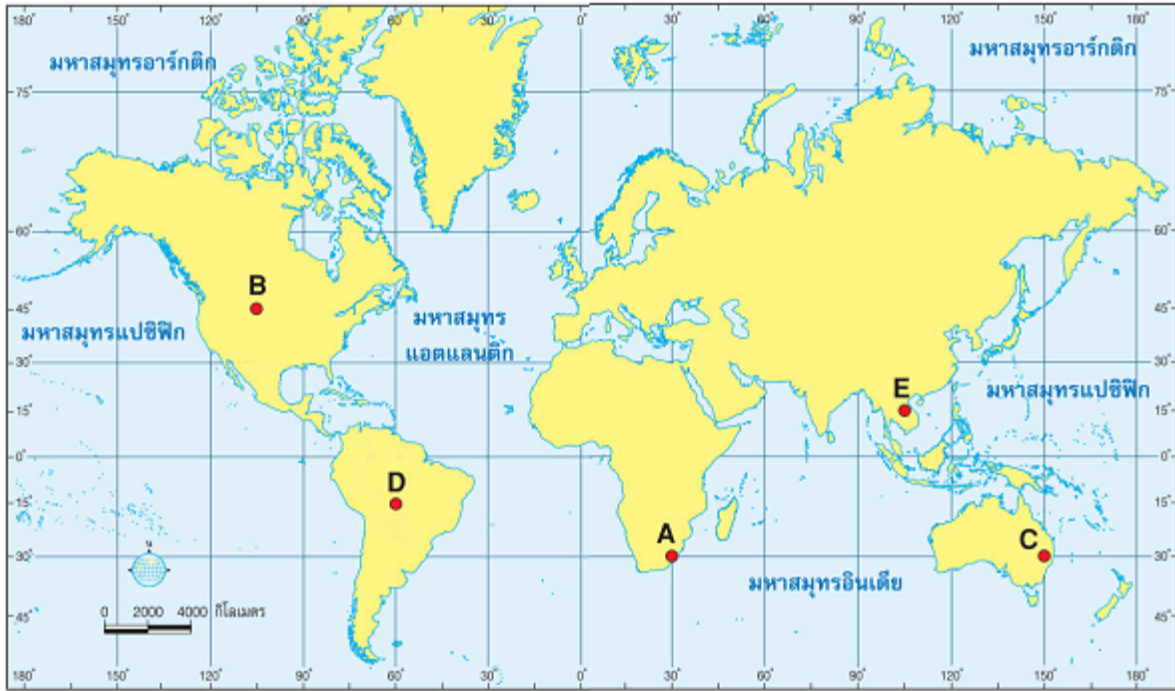


ใบงานที่ 1.1

เรื่อง พิกัดภูมิศาสตร์ และเวลาของโลก

บอกค่าละติจูด และลองจิจูด ในภาพ



1. ตำแหน่ง A ตั้งอยู่พิกัดภูมิศาสตร์ใด

2. ตำแหน่ง B ตั้งอยู่พิกัดภูมิศาสตร์ใด

3. ตำแหน่ง C ตั้งอยู่พิกัดภูมิศาสตร์ใด

4. ตำแหน่ง D ตั้งอยู่พิกัดภูมิศาสตร์ใด

5. ตำแหน่ง E ตั้งอยู่พิกัดภูมิศาสตร์ใด

6. พิกัดภูมิศาสตร์ของประเทศไทยอยู่ที่ตำแหน่งใด

พิกัดภูมิศาสตร์ หมายถึง

ถึง.....
.....
.....

3. นักเรียนศึกษาแผนที่เขตภาคเวลารอบโลก และตอบคำถาม



1 ผู้ประกาศข่าวรายงานว่า เกิดเหตุแผ่นดินไหวที่ประเทศเม็กซิโก เมื่อวันจันทร์ เวลา 18.00 น. ตามเวลาท้องถิ่น จากเหตุการณ์ดังกล่าว ตรงกับวันและเวลาใดของประเทศไทย




2 ได้ะโต๊ะจึงเดินทางจากประเทศญี่ปุ่นเพื่อไปเที่ยวประเทศฝรั่งเศสกับครอบครัว ถ้าได้ะโต๊ะจึงเดินทางถึงประเทศฝรั่งเศสเวลา 13.00 น. จะตรงกับเวลาใดของประเทศไทย



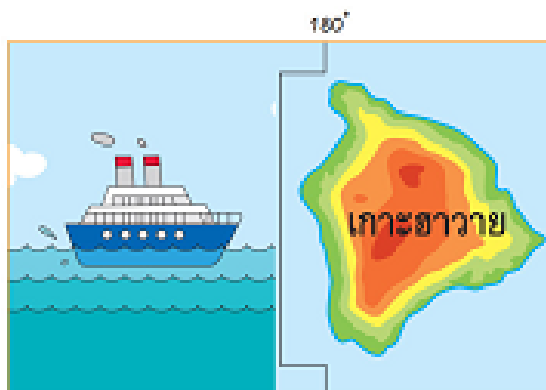
3 หมีขาวอยู่ที่ 45 องศาตะวันตก แพนดากอยู่ที่ 120° ตะวันออก เวลาที่ GMT 10.00 น. วันพุธ เวลาที่หมีขาวอยู่เป็นเวลาใด

เวลาที่แพนดากอยู่เป็นเวลาใด

หมีขาว



3.4 ซานีโทรศัพท์คุยกับมาเรียเวลา 08.00 น. ของประเทศซาอุดีอาระเบียจะตรงกับเวลาใดของประเทศนิวซีแลนด์



3.5 เรือโดยสารท่องเที่ยวสำหนึ่งเดินทางข้ามมหาสมุทรแปซิฟิก เพื่อมาที่เกาะฮาวาย เมื่อเวลา 13.00 น. ของวันศุกร์ ถ้าเรือข้ามเส้นเขตวันสากล จะเป็นวันและเวลาใด