



Examen de Geografía de la PAU+25 de la Comunidad Valenciana. Convocatoria de mayo de 2024

Proves d'accés per a majors de 25 i 45 anys Pruebas de Acceso para mayores de 25 y 45 años Assignatura: GEOGRAFIA Asignatura: GEOGRAFÍA	Convocatòria: Convocatoria: 2024	 SISTEMA UNIVERSITARI VALENCIÀ SISTEMA UNIVERSITARIO VALENCIANO  GENERALITAT VALENCIANA Conselleria d'Educació, Universitats i Ocupació
--	---	--

Primer bloc: Geografia física / Primer Bloque: Geografía Física

1. Utilitzant com a base el següent mapa del medi físic de la Península Ibèrica:
 - a. Identifique les unitats del relleu peninsular a què fan referència els diferents números que figuren en el mapa.
 - b. Indique quin tipus de paisatge vegetal s'associa la unitat de relleu 3, assenyalada en el mapa. Després, explique les principals característiques del paisatge vegetal esmentat i comente de quina manera està condicionat pel relleu.

Valor de la pregunta: 3,33 punts.

1. Utilizando como base el siguiente mapa del medio físico de la Península Ibérica:
 - a. Identifique las unidades del relieve peninsular a que hacen referencia los distintos números que figuran en el mapa.
 - b. Indique qué tipo de paisaje vegetal se asocia a la unidad del relieve 3, señalada en el mapa. Después, explique las principales características de dicho paisaje vegetal y comente de qué manera está condicionado por el relieve.

Valor de la pregunta: 3,33 puntos.



Font/Fuente: mapaspdf.com

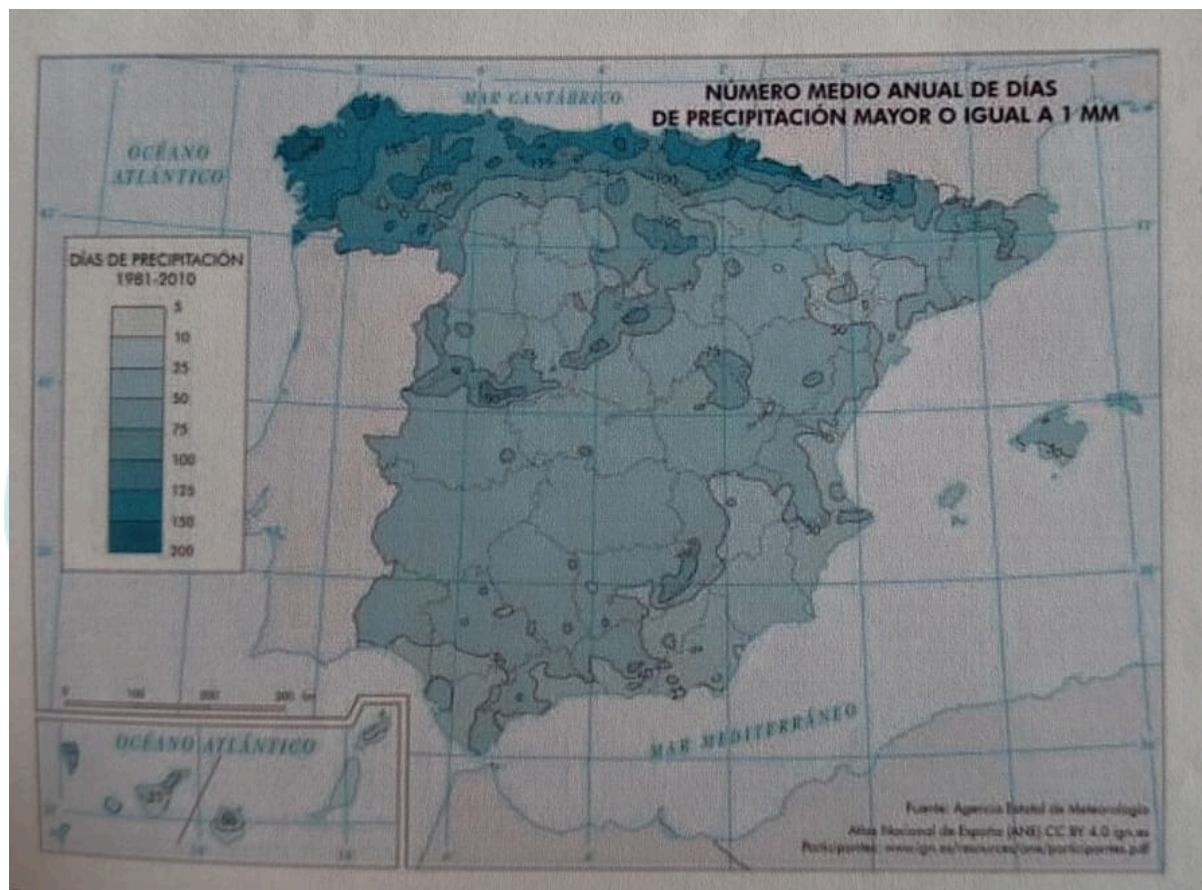
2. A partir del mapa següent, que representa el nombre mitjà anual de dies de precipitació major o igual a 1 mil·límetre a Espanya:

- Explique les causes de la diferent distribució del nombre de dies de precipitació a Espanya.
- Indique les conseqüències d'aquesta distribució de la precipitació en la disponibilitat de recursos hídrics del sud-est d'Espanya.

2. A partir del siguiente mapa, que representa el número medio anual de días de precipitación mayor o igual a 1 milímetro en España:

- Explique las causas de la diferente distribución del número de días de precipitación en España.
- Indique las consecuencias de esta distribución de la precipitación en la disponibilidad de recursos hídricos del sureste de España.

Valor de la pregunta: 3,33 punts.



Font/Fuente: Agència Estatal de Meteorologia. Atlas Nacional de España.

SEGON BLOC: Geografia humana i econòmica / SEGUNDO BLOQUE: Geografía Humana y Económica

3. El sector agrari a Espanya i en el conjunt de la Unió Europea és estratègic a nivell econòmic, territorial i ambiental. Així doncs,

- Explique los objetivos básicos y específicos de la Política Agraria Comuna (PAC) de la Unió Europea.
- Comente los principales problemas que pateix en l'actualitat el sector agrari a Espanya.

Valor de la pregunta: 3.33 puntos.

3. El sector agrario en España y en el conjunto de la Unión Europea es estratégico a nivel económico, territorial y ambiental. Así pues:

- Explique los objetivos básicos y específicos de la Política Agraria Común (PAC) de la Unión Europea.
- Comente los principales problemas que sufre en la actualidad el sector agrario en España.

Valor de la pregunta: 3,33

4. A partir de les dades poblacionals d'Espanya que es mostren en la taula següent:

- Calcule el porcentaje de població jove i el de població envellida a Espanya.
- Explique les conseqüències de l'envelliment de la població a Espanya, així com les possibles solucions.

Valor de la pregunta: 3.33 puntos.

4. A partir de los datos poblacionales de España que se muestran en la siguiente tabla:

- Calcule el porcentaje de población joven y de población envejecida en España.
- Explique las consecuencias del envejecimiento de la población en España, así como de sus posibles soluciones.

Valor de la pregunta: 3.33 puntos.

POBLACIÓN ESPAÑA 2022

Edad	Población
0-15 Años	7,070,515
16-64 Años	30,925,895
65 y +	9,479,010
POBLACIÓN TOTAL	47,475,420

Fuente: INE