

Họ và tên:.....Số báo danh:.....Phòng thi:.....

I. TRẮC NGHIỆM (4 điểm)

Câu 1. (1 điểm) Khoanh vào chữ cái đặt trước câu trả lời đúng.

a, Số nhỏ nhất có hai chữ số là:

A. 10 B. 9 C. 19 D. 99

b. Số nhỏ nhất có hai chữ số giống nhau là:

A. 89 B. 98 C. 99 D. 11

Câu 2. (1 điểm) Khoanh vào chữ đặt trước câu trả lời đúng.

a, Số 59 lớn hơn số nào?

A. 60 B. 54 C. 72 D. 99

b. Số 3 chục và 9 đơn vị viết là:

A. 33 B. 93 C. 39 D. 99

Câu 3. (1 điểm) Đúng điền Đ, sai điền S:

a, $25 - 10 = 13$

b, $60 + 7 = 67$

Câu 4. (1 điểm) Khoanh vào chữ đặt trước câu trả lời đúng:

a, Kết quả của phép tính $57 - 32 + 14$ là:

A. 25 B. 39 C. 93

b, Trong một tuần lễ nếu ngày 19 là thứ Hai thì ngày 20 là thứ mấy?

A. Thứ Năm B. Thứ Tư C. Thứ Ba

II. TỰ LUẬN (6 điểm)

Câu 5. (1 điểm) Đặt tính rồi tính

$67 - 17$

$25 + 4$

$99 - 90$

$35 - 15$

.....

.....

.....

.....

.....

.....

.....

.....

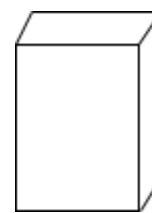
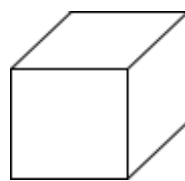
.....

.....

.....

.....

Câu 6. (1 điểm) Ghi tên hình thích hợp vào chỗ chấm



Hình.....

Hình.....

Khối.....

Khối.....

Câu 7(1 điểm) Sắp xếp các số 36, 25, 14, 65, 12 theo thứ tự từ bé đến lớn

.....

Câu 8 (1 điểm) Tính:

$15 + 20 + 3 =$


$12 - 2 + 5 =$

$79 - 40 - 17 =$

$48 + 10 + 20 =$

Câu 9. (1 điểm) Viết phép tính và số thích hợp:

Đàn gà có 52 con gà. Trong đó, có 31 con gà mái. Hỏi đàn gà có bao nhiêu con gà trống?



Đàn gà có con gà trống.

Câu 10. (1 điểm) Hình bên có:

a, Có hình vuông

b, Có hình tam giác

