

8 клас

Урок №27

Дата:

КОНТРОЛЬНА РОБОТА.

Мета: узагальнити та систематизувати знання учнів за вивченими темами; вдосконалити навички та вміння працювати з картами атласу, виконувати тестові завдання різних типів; визначити рівень засвоєння учнями навчального матеріалу; розвивати вміння самостійно контролювати свій час, самостійно оцінювати правильність виконання завдань, вносити корективи за необхідності; виховувати самостійність, відповідальність за прийняття рішень.

Обладнання: атласи, дидактичні картки з варіантами завдань.

Тип уроку: оцінювання навчальних досягнень учнів (письмова контрольна робота).

ХІД УРОКУ

I. ОРГАНІЗАЦІЙНИЙ МОМЕНТ

II. АКТУАЛІЗАЦІЯ ОПОРНИХ ЗНАНЬ ТА ВМІНЬ

Приєм «Бліцопитування»

Під час вивчення розділу ви опрацювали такі теми: «Географічна карта і робота з нею», «Географічний простір України», «Природні умови і ресурси України».

Пригадайте, що ви дізналися та чого навчилися з кожної теми.

III. МОТИВАЦІЯ НАВЧАЛЬНОЇ ТА ПІЗНАВАЛЬНОЇ ДІЯЛЬНОСТІ (НАЛАШТУВАННЯ НА УСПІХ)

Ви добре попрацювали під час вивчення теми, багато чого нового дізналися та навчилися. Настав час повторити, систематизувати та перевірити ваші знання, вдосконалити уміння працювати з тестовими завданнями.

Прочитайте завдання та поставте уточнювальні запитання.

Учитель проводить інструктаж з виконання завдань.

IV. ЕТАП ВИКОНАННЯ ЗАВДАНЬ КОНТРОЛЬНОЇ РОБОТИ (35 ХВ)

Завдання I та II варіантів у додатку до уроку.

V. ПІДСУМОК УРОКУ, РЕФЛЕКСІЯ

Приєм «Мікрофон»

Оцініть результати власної роботи: виконав добре; виконав лише окремі завдання, тому що...

Які завдання контрольної роботи були складними?

VI. ДОМАШНЄ ЗАВДАННЯ

Повторити параграфи 1-22 підручника.

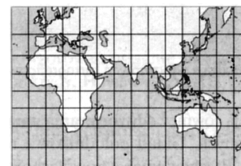
КОНТРОЛЬНА РОБОТА

I варіант

I рівень

1. Укажіть проекцію, у якій виконана наведена карта.

- А азимутальна
- Б циліндрична
- В конічна
- Г умовна



2. Визначте, з якою із перелічених держав Україна має не тільки сухопутний, а й морський кордон.

- А Польща Б Румунія В Словаччина Г Білорусь

3. Укажіть цифру, якою на картосхемі позначена територія, що увійшла до складу УРСР у 1939 році.

- А 1
- Б 2
- В 3
- Г 4



4. Виберіть рівнину, яка в рельєфі відповідає Українському щиту.

- А Приазовська височина Б Донецька височина В Придніпровська низовина Г Поліська низовина

5. Укажіть, які руди залягають на Керченському півострові.

- А —
- В ▣

- Б ▲
- Г ■

6. Укажіть, як називається перехідна зона між двома повітряними масами, що мають різні властивості.

- А циклон Б антициклон В атмосферний фронт Г циркуляція атмосфери

II рівень

7. Форма правління, за якої формальна або фактична верховна влада в державі передається у спадок, — це _____.

8. Установіть відповідність між назвами корисних копалин та басейнів, де вони залягають.

1	Буре вугілля	А	Львівсько-Волинський		А	Б	В	Г	Д
2	Кам'яне вугілля	Б	Нікопольський	1					
3	Залізна руда	В	Дніпровський	2					
4	Марганцева руда	Г	Причорноморський	3					
		Д	Керченський	4					

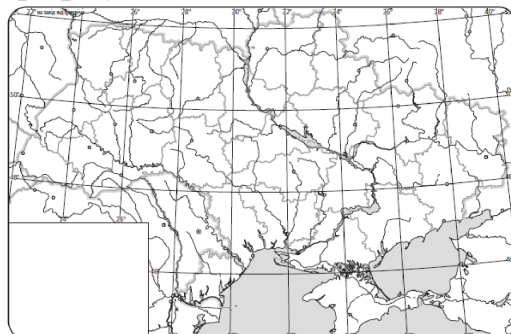
9. Виберіть три найважливіші корисні копалини, які залягають у надрах Дніпровсько-Донецької западини.

1 кухонна сіль 2 кам'яне вугілля 3 марганцеві руди 4 самородна сірка 5 природний газ 6 графіт 7 нафта

III рівень

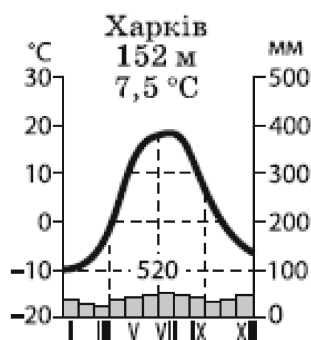
10. Позначте на контурній карті розташування корисних копалин України відповідними умовними знаками та цифрами:

1 — Львівсько-Волинський кам'яновугільний басейн, 2 — Південний нафтогазоносний район, 3 — ридніпровський марганцеворудний басейн, 4 — Кременчуцьке родовище залізних руд, 5 — Слов'янське родовище кухонної солі, 6 — Заваллівське родовище графіту.



IV рівень

11. Опишіть за наведеною кліматодіаграмою клімат міста Харкова. Визначте тип клімату.



II варіант

I рівень

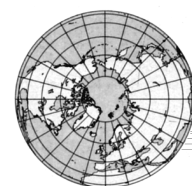
1. Укажіть проекцію, у якій виконана наведена карта.

А азимутальна

Б циліндрична

В конічна

Г умовна



2. Визначте, з якою із перелічених держав Україна має не тільки сухопутний, а й морський кордон.

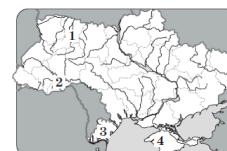
А Білорусь Б Угорщина В Молдова Г Росія

3. Укажіть цифру, якою на картосхемі позначена територія, що увійшла до складу УРСР у 1954 році.

А 1

Б 2

В 3



Г 4

4. Виберіть рівнину, яка в рельєфі відповідає Дніпровсько-Донецькій западині.

А Придніпровська височина Б Середньоруська височина В Донецька складчаста область Г Придніпровська низовина

5. Укажіть, які руди залягають на території Донецької складчастої області.

А 
В 

Б 
Г 

6. Укажіть, як називається величезний повітряний вихор із низьким тиском у центрі.

А циклон Б антициклон В атмосферний фронт Г циркуляція атмосфери

II рівень

7. Форма правління, за якої глава держави обирається на певний термін і не передає свою владу у спадок, — це _____.

8. Установіть відповідність між назвами форм рельєфу та тектонічних структур, яким вони відповідають.

1	Приазовська височина	А	Дніпровсько-Донецька западина	А	Б	В	Г	Д
2	Волинська височина	Б	Донецька складчаста споруда	1				
3	Придніпровська низовина	В	Скіфська плита	2				
4	Північнокримська низовина	Г	Волино-Подільська плита	3				
		Д	Український щит	4				

9. Виберіть три найважливіші корисні копалини, які залягають у надрах

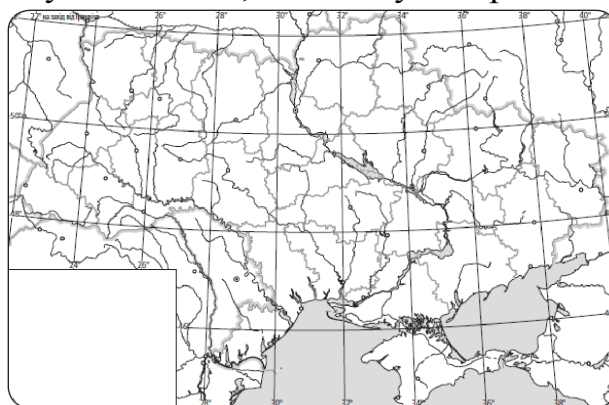
Передкарпатського прогину.

1 калійна сіль 2 кам'яне вугілля 3 марганцева руда 4 самородна сірка 5 природний газ 6 графіт 7 нікелеві руди

III рівень

10. Позначте на контурній карті розташування корисних копалин України відповідними умовними знаками та цифрами:

1 — Донецький кам'яновугільний басейн, 2 — Східний нафтогазоносний район, 3 — Іршанське родовище титанових руд, 4 — Керченський басейн залізних руд, 5 — Солотвинське родовище кухонної солі, 6 — Калуське родовище калійних солей.



IV рівень

11. Опишіть за наведеною кліматодіаграмою клімат міста Одеси. Визначте тип клімату.

