


108年國中教育會考—社會科

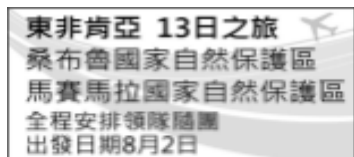
一、單題(1-53題)

(D) 1. 1854年某英國博物學家前往東印度群島考察，八年內總共蒐集了12萬餘件的生物標本，並著有《馬來群島自然考察記：紅毛猩猩與天堂鳥的原鄉》。該博物學家在當地所見到的傳統住屋型式最可能是下列何者？



(C) 2. 近年來我國政府審慎評估「農村引進農業外勞」的可行性，研擬該政策最主要是為了因應下列哪一項臺灣農業特色？  
(A)農作種類多樣 (B)農業耕地狹小  
(C)農村人力老化 (D)農產品商品化

(C) 3. 圖(一)是雜誌上的旅遊廣告，該行程的主要特色最可能是下列何者？  
(A)針葉林生態探索  
(B)峽灣海岸郵輪行  
(C)莽原動物大遷徙  
(D)葡萄酒莊體驗遊



圖(一)

(A) 4. 「2016年初，滿載商品的貨運列車從中國浙江義烏出發，經西安、蘭州和烏魯木齊等城市後，駛往伊朗德黑蘭，歷時14天完成首航，再現古絲路的輝煌。」這班列車在駛離中國後，最可能途經下列何地？  
(A)中亞 (B)南亞 (C)東歐 (D)東南亞

(C) 5. 圖(二)是阿政繪製某大洲海岸特色的成因分析，●代表特色，□代表成因。該大洲最可能是下列何者？  
(A)亞洲  
(B)非洲  
(C)美洲  
(D)歐洲



圖(二)

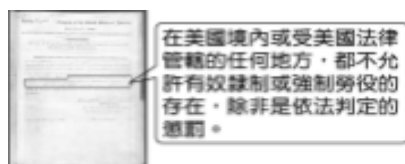
(C) 6. 臺灣因山林面積廣大、巡查不易，出現許多違法開發山林資源的事件。政府機關若要快速比對不同時間的地表狀況，找出可能遭到大範圍違法伐林的地點，使用下列哪一種地圖最為適合？  
(A)分層設色圖 (B)地形剖面圖  
(C)衛星影像圖 (D)等高線地形圖

(A) 7. 圖(三)分別是保存在新竹和宜蘭的歷史文物，根據圖片內容判斷，這些文物與下列何者關係最密切？



圖(三)

(C) 8. 圖(四)是《美國憲法》某次修正案的內容。此一修正案的通過最可能與下列哪一事件有關？  
(A)獨立宣言的頒布  
(B)門羅宣言的發表  
(C)南北戰爭的影響



圖(四)

(D)經濟大恐慌蔓延

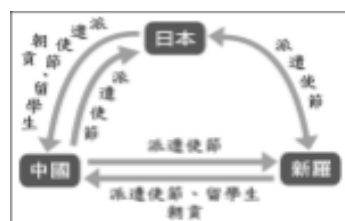
(C) 9. 以下是對中國近代史上某組織的介紹：「他們號召建立一個土地財產公有和男女平等的社會，科舉考試也向女性開放，考試內容取自於統治者所闡述的「拜上帝會」教義。他們沒有獲得西方基督教國家的支持，也無法得到士紳階級的認同，但還是在南京堅持了十年。」此組織應是下列何者？

- (A)義和團
- (B)滿洲國
- (C)太平天國
- (D)中國共產黨

圖(五)

(B) 10. 圖(五)是臺灣一份報紙的頭版標題，下列何項政策的施行與標題的公告關係密切？  
(A)推廣公地放領  
(B)開放人民組織政黨  
(C)宣布興建十大建設  
(D)實施九年國民義務教育

(A) 11. 圖(六)是某一時期亞洲三個國家交流的情形，根據內容判斷，此時期的交流對當時日本造成了何種影響？  
(A)採行「大化革新」，努力吸收中國文化  
(B)推動「大政奉還」，天皇重新掌權執政  
(C)推行「明治維新」，日本成為亞洲強國  
(D)採行「鎖國政策」，只許中荷前來貿易

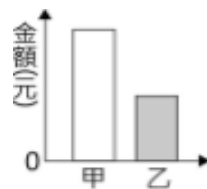


圖(六)

(D) 12. 爸爸與剛上國中的女兒一同參加家長座談會，看到教室牆上貼著「班級生活公約」，感慨地說：「以前我們唸書時，學生只能遵守由學校制定的校規與班規，真羨慕你們現在師生可以相互溝通，共同擬定大家願意接受的生活公約。」上述父親所描述的轉變，最可能是因下列何項概念逐漸受到重視？

- (A)主權在民
- (B)地方自治
- (C)終身學習
- (D)學生自治

(B) 13. 圖(七)為某班園遊會擺設冷飲攤的營收結果，其中甲代表銷貨收入，乙代表利潤。若後來發現生產成本中少列入一筆設備租金費用，在此筆費用列入計算後，圖中甲、乙最可能出現的情況為下列何者？



圖(七)

- (A)甲不變，乙不變
- (B)甲不變，乙下降
- (C)甲下降，乙不變
- (D)甲下降，乙下降

(D) 14. 圖(八)是某商品的廣告情節，廠商藉由甲、乙二人的對話，凸顯該商品量販包的上市，讓大量採購該商品的民眾更加便利。若甲所提及親屬皆是自己的家人，依圖中訊息判斷，則下列關於甲家中五人的敘述何者正確？



圖(八)

- (A)甲的奶奶與家人間皆沒有姻親關係
- (B)甲的媽媽與家人間皆沒有配偶關係
- (C)甲的哥哥與家人間皆沒有直系血親關係
- (D)甲的爸爸與家人間皆沒有旁系血親關係

(D) 15. 圖(九)是新聞報導中的標題，若新聞事件中的受害者要尋求權利救濟，下列哪一項法律最能



提供他協助？

- (A)《刑法》
- (B)《少年事件處理法》
- (C)《性別工作平等法》
- (D)《性別平等教育法》

- ( D ) 16. 對於具有歷史意義的建築，有些專家會向政府提報列為古蹟，經被列為古蹟後，依法不得擅自裝修，導致部分仍住在古蹟內的居民，可能因建材腐朽影響居住安全而感到不滿。關於上述內容，從我國對於人民權利保障與限制的角度判斷，下列何者最適當？
- (A) 居民認為隱私權受到侵害
  - (B) 居民認為遷徙自由受到侵害
  - (C) 專家的目的是為了維持社會秩序
  - (D) 專家的目的是為了增進公共利益

- ( B ) 17. 表(一)是某一作物三大品種在全球及中國分布的比較。根據表中資訊判斷，該作物最可能為下列何者？

表(一)

- (A) 玉米
- (B) 咖啡
- (C) 棉花
- (D) 葡萄


- ( B ) 18. 中國某行政區的南部位於農牧過渡地帶，因氣候乾燥少雨、生態環境脆弱、水土流失嚴重及自然災害頻繁，被聯合國認為是最不適宜人類生存的地區之一，因此2011年當地政府對人民實施搬遷計畫。上述行政區應是圖(十)中何者？



圖(十)

- (A) 甲
- (B) 乙
- (C) 丙
- (D) 丁

- ( A ) 19. 圖(十一)為2010年世界各國都市化程度示意圖，圖中圓圈大小代表該國的都市人口數，圓圈顏色深淺代表該國的都市化程度。其中都市化程度最高的圖例應為下列何者？



圖(十一)

- (A) ○
- (B) ●
- (C) ●
- (D) ●

- ( A ) 20. 圖(十二)為小芬在網路上看到的某日下午一點臺灣部分測站的氣溫資料，當時臺灣氣溫空間分布的差異與下列何者關係最為密切？



圖(十二)

- (A) 大陸冷氣團逐漸南下
- (B) 蒸發旺盛形成熱對流
- (C) 熱帶低氣壓逐漸增強
- (D) 滯留鋒面持續向北移

- ( A ) 21. 有位中國老農夫回憶：「當時煉鋼要超英趕美，因此人人將鍋、鏟全丟進煉鐵爐燒煉。因為上級交代蓋一條用來運鋼的道路，所以只好將鄭和墓塚的石頭拿去墊路基，但我們一直沒有煉出夠多的數量，讓卡車來載運。」上述情況最可能與下列何者有關？

- (A) 大躍進
- (B) 抗美援朝
- (C) 文化大革命
- (D) 六四天安門事件

- ( C ) 22. 圖(十三)是政治諷刺漫畫，呈現一帝國在某戰爭結束後，因被迫簽署和約而產生的變化，此戰爭最可能是下列何者？



圖(十三)

- (A) 普法戰爭
- (B) 英法百年戰爭
- (C) 第一次世界大戰

(D)第二次世界大戰

- ( B ) 23. 表(二)呈現史前人類生活情形的變化，若要以「舊石器時代→新石器時代」的方式，表示舊石器時代至新石器時代的文化變遷，表中甲、乙、丙、丁何者最為適切？
- (A) 甲
  - (B) 乙
  - (C) 丙
  - (D) 丁

表(二)

- ( C ) 24. 圖(十四)是某時期日本在臺灣發布的告示，此告示最可能與下列何者有關？
- (A) 霧社事件
  - (B) 牡丹社事件
  - (C) 臺灣民主國
  - (D) 臺灣民眾黨



- ( B ) 25. 「這個帝國興盛時期，疆域廣大，橫跨三洲。皇帝在政治上享有至高無上的權力，同時在宗教上也是上帝的代表，可以任命帝國首都主教，主導教會行事，而且也常頒布與基督教教義有關的規定。」此一帝國最可能是下列何者？

- (A) 查理曼帝國
- (B) 拜占庭帝國
- (C) 亞歷山大帝國
- (D) 神聖羅馬帝國

- ( D ) 26. 某媒體常在網站上以虛擬動畫呈現新聞內容，但因表現方式有時過於血腥、暴力，引起輿論譴責。民間團體呼籲該媒體應顧及報導對社會可能產生的負面影響，勿以商業利益為優先考量。上述團體的訴求內容，主要凸顯出下列何項議題的重要性？

- (A) 資訊科技的多元發展
- (B) 社會團體的監督力量
- (C) 新聞報導的自由程度
- (D) 傳播媒體的社會責任

- ( D ) 27. 近年來醫療機構中醫護人員遭攻擊的暴力事件頻傳，不但嚴重干擾醫療行為的進行，還危及醫護人員的人身安全，因此醫護團體推動相關修法，將這種暴力行為的追究改為非告訴乃論，以遏止此類事件發生。根據上述內容判斷，下列何者正確？

- (A) 文中團體的類型屬《人民團體法》中的政治團體
- (B) 文中團體若想要達成目的，應向立法院進行訴願
- (C) 修法通過後，相關法律條文將交由行政院院長公布施行
- (D) 修法通過後，醫護人員同意和解也不會停止檢察官偵查

- ( C ) 28. 公民老師在課堂上講述「無罪推定原則」時，請同學舉出例子加以說明，下列何者的舉例最適當？

- (A) 甲：「小偉因闖紅燈遭處罰鍰，所以他是無罪的。」
- (B) 乙：「花花因涉嫌殺人遭警察逮捕，所以她是無罪的。」
- (C) 丙：「大雄雖因恐嚇鄰居遭起訴，但仍不能認定他有罪。」
- (D) 丁：「阿姐雖因辱罵他人遭處罰鍰，但仍不能認定她有罪。」

- ( B ) 29. 花蓮縣境內有許多高山，隨著近年登山活動日益盛行，轄內的登山意外事故也隨之增加，每次搜救工作常須動員大量人力、物力。為因應此情況，該縣已通過自治條例，將對擅入管制區的民眾處以罰鍰，且若發生山難事故，當事人須自行支付搜救費用。根據上述內容判斷，下列敘述何者正確？

- (A) 文中通過規定的機關為立法院
- (B) 文中通過規定的機關為縣議會
- (C) 違規遭處罰者是負起民事責任
- (D) 違規遭處罰者是負起刑事責任

- ( A ) 30. 甲、乙、丙、丁四人分別進行了一項投資，其投資報酬率如表(三)所示，若他們各自投資所獲得的利潤

表(三)

皆相同，根據表中內容判斷，何者的投資金額最高？

- (A)甲 (B)乙  
(C)丙 (D)丁

- ( A )31. 表(四)是1949年至2014年臺灣北、中、南、東四大區域平均逕流量的相關數據，其中何者為南部區域？  
(A)甲  
(B)乙  
(C)丙  
(D)丁

表(四)

- ( D )32. 封裝酒瓶的軟木塞是由栓皮櫟的樹皮製成。根據圖(十五)栓皮櫟的分布區判斷，其生長環境的氣候特色，主要為下列何者？  
(A)全年有雨，無明顯乾季  
(B)乾燥少雨，年降水量250 mm以下  
(C)夏雨冬乾，年降水量1,000 mm以上  
(D)冬雨夏乾，年降水量400至800 mm

圖(十五)

- ( B )33. 圖(十六)為蔣渭水高速公路路線圖，其中甲路段經過的地形主要為下列何者？  
(A)山地  
(B)平原  
(C)丘陵  
(D)盆地

圖(十六)

- ( A )34. 我國海軍敦睦艦隊在遠航訓練前，會先繞行臺灣進行短程的航訓任務，並停靠主要港口供民眾參觀。表(五)甲至己為2015年該艦隊依序停靠的本島港口，根據各港口位置判斷，該航線應為下列何者？  
(A)由西南部出發行經臺灣北部至東部沿海  
(B)由西南部出發行經臺灣南部至東部沿海  
(C)由東部出發行經臺灣北部至西南部沿海  
(D)由東部出發行經臺灣南部至西南部沿海

表(五)

- ( C )35. 圖(十七)的●處是歷史上某軍事行動後，統治者在征服區所興建的城市。根據分布範圍判斷，此行動最可能是下列何者？  
(A)十字軍東征  
(B)拿破崙征俄  
(C)亞歷山大東征  
(D)日耳曼民族入侵

圖(十七)

- ( D )36. 圖(十八)是中國歷史上某一史事的相關內容，根據內文判斷，該史事最可能是下列何者？  
(A)齊桓公尊王攘夷  
(B)漢武帝獨尊儒術  
(C)秦始皇焚書坑儒  
(D)清世宗下令禁教

圖(十八)

- ( B )37. 有一本書提到：「啟蒙運動的基礎是科學革命」，下列何項敘述，對這句話的詮釋最為恰當？  
(A)希臘、羅馬文化再發現，強調古代經典作品以人為本的價值  
(B)人類社會如同自然世界，可以依循理性尋找普遍的

運作原則

- (C)機器逐漸取代人工生產，實施工廠制度促進物質生活的發展  
(D)白種人優越意識的提升，肩負開化世界其他地區的神聖使命

- ( C )38. 圖(十九)的四張卡片分別代表清朝曾對臺灣採取的統治措施，若依這些措施最早在臺施行的時間先後順序排列，下列何者正確？  
(A)甲→丁→乙→丙  
(B)乙→甲→丙→丁  
(C)丙→乙→丁→甲  
(D)丁→丙→甲→乙

圖(十九)

- ( C )39. 學者對日本統治時期臺灣學生的校外旅行有以下敘述：「臺北因是政治中心，常是外地學校旅行的首選，當時參訪景點包含臺灣神社、臺北市街、總督府等，讓學童藉此感受臺北的文明進步。隨著此一史事的發生，日本展開對外作戰，之後的旅遊行程則以到臺灣神社參拜、為國祈福，並前往醫院慰問戰爭中受傷士兵為主。」文中的「史事」應為下列何者？  
(A)苗栗事件  
(B)噶吧哖事件  
(C)盧溝橋事變  
(D)臺灣議會設置請願運動

- ( D )40. 新聞報導：新竹縣及縣內的竹北市人口成長快速，若照目前的增長速度推估，到了2018年底舉辦地方選舉時，依據相關法律的規定，竹北市選民所能選出的地方民意代表席次，都各將增加一席。上述報導中所指稱的地方民意代表，應為下列哪一組合？  
(A)市議員、立法委員  
(B)縣議員、立法委員  
(C)市議員、市民代表  
(D)縣議員、市民代表

- ( A )41. 小邁家每個月第一天自製400罐醬菜販售，且為保持產品品質，當月沒賣完的產品就會銷毀，絕不在下個月販售。圖(二十)為上半年消費者對小邁家自製醬菜的需求數量圖。根據圖中資料判斷，小邁家的醬菜上半年銷售總量為多少罐？  
(A) 2,000  
(B) 2,100  
(C) 2,300  
(D) 2,400

圖(二十)

- ( B )42. 表(六)為某一時期官方所頒行機關學校放假日期的部分內容，根據內容判斷，此一日程最可能由下列何者所頒行？

表(六)

- (A) 1895年的清廷  
(B) 1929年的南京國民政府  
(C) 1945年的臺灣總督府  
(D) 1979年的中華人民共和國

- ( C )43. 圖(二十一)為某國以該國著名的景觀為主題所發行的郵票。這些郵票最可能是由下列何國所發行？  
(A)法國

圖(二十一)

- (B)瑞士
- (C)德國
- (D)西班牙

- ( C )44. 王先生計畫在圖(二十二)中的甲、乙、丙、丁選擇一地開設工廠，表(七)呈現選擇不同地點設廠的生產成本。若不同設廠地點的成本差異僅來自運輸成本，則相較於原料，該工廠的產品具有下列何種特性？
- (A)易腐敗
  - (B)易破碎
  - (C)體積變小
  - (D)重量增加

表(七)

圖(二十二)

- ( D )45. 外流就業人口是指不住在戶籍地縣市，而住在外縣市之就業人口，例如某人戶籍地在嘉義縣，但因工作而住在臺南市，則計入嘉義縣的外流就業人口。表(八)為2012年桃園縣(已改制為桃園市)、雲林縣、臺東縣、澎湖縣四個行政區的外流就業人口統計資料，其中何者為桃園縣？

表(八)

- (A)甲
- (B)乙
- (C)丙
- (D)丁

- ( D )46. 十九世紀後期，一位美國學者到臺南考察，當地西拉雅族頭目帶著二十餘份文件讓他瀏覽，這些文件以羅馬字母、漢字拼寫，標注清朝 雍正、乾隆及嘉慶的年號和日期，又蓋有印章。他認為這是極有價值的史料，因此便以槍枝換取了這些文件。這些文件的內容最可能包含下列何者？
- (A)噶吧哖事件始末
  - (B)安平洋行貿易資料
  - (C)臺灣總督府林野調查紀錄
  - (D)原住民與漢人土地交易契約

- ( C )47. 第二次世界大戰後，許多殖民地脫離原殖民母國獨立而成為新興國家，但由於當初列強占領時未考慮該地區族群、宗教等因素，導致這些新興國家境內常因不同立場、生活方式等而發生衝突。下列何種作法最有助於減緩上述衝突？
- (A)發揚主流價值，同化少數族群
  - (B)削弱次文化勢力，獨尊強勢文化
  - (C)尊重不同族群，包容多元文化差異
  - (D)鼓勵全球化思維，限制本土文化發展

- ( B )48. 圖(二十三)為日本近年來對於中國和東協國家的投資金額統計，對兩者投資金額差距擴大與下列何者關係最為密切？

圖(二十三)

- (A)東南亞天災日益頻繁
- (B)東協的生產成本較低
- (C)中國實施全面開放二胎
- (D)東協反日意識漸趨高漲

- ( D )49. 全球穆斯林人口成長快速，市場商機相當龐大，資訊科技產業針對該族群的需求，設計相關產品，例如智慧型手機的應用程式可在任何地點指引禮拜方向、提醒禮拜

時間、判別經過認證的食物等。下列何者也是針對上述族群所設計？

- (A)線上拉丁文翻譯字典
- (B)手機查詢無牛肉料理的餐廳
- (C)《聖經》閱讀筆及口袋電子書
- (D)利用虛擬實境技術做麥加的虛擬朝聖

- ( D )50. 宋朝宰相王安石力圖變法，但因個性固執，不接納眾人意見，加上用人不當，導致變法失敗。若某部連續劇讓王安石以穿越時空的方式，意外成為我國最高行政機關首長，然而他的作風依舊不變，引發朝野不滿。根據我國現行憲政體制判斷，下列何者最可能是穿越時空後的王安石將面臨的處境？
- (A)由憲法法庭審理
  - (B)被監察院提案糾正
  - (C)遭立法院提出彈劾案
  - (D)遭立法院提出不信任案

- ( C )51. 表(九)是一件發生在中國境內的案件審判概況，根據內容判斷，此審判最可能出現在下列何時？

表(九)

- (A)十七世紀前期
- (B)十八世紀前期
- (C)十九世紀後期
- (D)二十世紀後期

- ( D )52. 「這個國家有著多處世界文化遺產，包括馬雅文明的城市遺址、阿茲提克帝國神廟遺跡、西班牙殖民時期重要銀礦區，和多座壯麗的天主教堂及修道院。」此一國家最可能是下列何者？

- (A)巴西
- (B)古巴
- (C)秘魯
- (D)墨西哥

- ( A )53. 我國總統自直接民選以來，歷屆總統、副總統選舉的選舉資料概況，如表(十)所示。根據表中資料判斷，可對近年的社會現象做出何項推論？

表(十)

- (A)人口結構顯示出少子化現象
- (B)民眾政治參與意願逐年上升
- (C)自然增加率大於社會增加率
- (D)政黨輪替後兩黨制日趨成型

## 二、題組(54-63題)

閱讀下列選文，回答第54至56題：

高雄市 岡山區的開發甚早，過去曾隸屬於萬年州，當時的「統治政權」亦派官員進駐治理。岡山當地迄今仍保有許多傳統，例如：至今已有兩百多年歷史的「籃籮會」，一年固定舉辦三次，時間分別在農曆3月23日(媽祖生日)、農曆8月14日(中秋節前夕)及農曆9月15日(義民爺生日)，早期以販售竹製農用器具為主，現今販售的商品內容已逐漸多元化，類似一般傳統的市集。

近年來，區公所還時常將當地羊肉料理特產與籃籮會結合，擴大宣傳岡山羊肉文化節與籃籮會，希望藉此吸引更多的遊客，活絡地方經濟。但部分住戶反應，舉辦籃籮會所吸引而來的遊客車潮，經常導致鄰近地區大塞車，因此希望相關單位規畫解決之道，不要讓問題一再重演。

- ( B )54. 上述「統治政權」，曾同時在臺灣設置下列哪一個行政區？  
 (A)淡水廳 (B)天興州  
 (C)噶瑪蘭廳 (D)臺東直隸州
- ( D )55. 上文中的區公所主要是經由下列何種方式，來達到活絡地方經濟的目的？  
 (A)提高農漁牧業比例 (B)興建社區活動中心  
 (C)增加地方賦稅收入 (D)發展地方特色產業
- ( C )56. 由文中內容判斷，下列何項作法最有助於解決「籃簍會」活動所產生的問題，且不影響區公所舉辦此活動的目的？  
 (A)調高到訪遊客的入場停車費用  
 (B)調降販售業者的攤位承租費用  
 (C)提供免費公車以減少車輛進出  
 (D)提供觀光資訊以及商品優惠券

閱讀下列選文，回答第57至58題：

每天黎明時，來自海上的厚重霧氣會逐漸瀰漫到智利的沙漠邊緣。研究人員發明一種如圖(二十四)的採霧設備，將其裝置在迎風面，使霧中水氣凝結在無數細微黑線上，再匯聚成水滴，最終落入容器中累積。由於架設方便、集水效率高，此技術已推廣至其他水資源相對稀少的地區。

圖(二十四)

- ( B )57. 文中所指的霧氣最可能來自下列何者？  
 (A)大西洋 (B)太平洋  
 (C)印度洋 (D)北極海
- ( B )58. 根據上文判斷，下列何者最可能是適宜推廣此項設備的地區？  
 (A)亞洲東南部 (B)非洲西南部  
 (C)歐洲西北部 (D)北美洲東北部

閱讀下列選文，回答第59至61題：

在紅豆播種期間，有些農民會在田間施用毒餌，以避免小型鳥類啄食剛撒在土壤上的種子而影響收成，這樣的作法雖能降低農業損失，但由於黑鳶會檢食遭毒死的小型鳥類屍體，所以也間接造成許多黑鳶中毒死亡，影響整體生態環境。  
 有位林姓農夫因認同守護黑鳶的想法和作為，決定改採較友善的耕作方式種植紅豆，他以機械播種將紅豆深埋入土中，取代毒害鳥群的行為，雖然生產成本因而上升，但他相信這才是正確的作法。  
 此情況經媒體報導後，吸引某一企業主的關注，決定與農民簽訂耕作契約，保證以特定價格收購農產品，讓農民專心生產，而由該企業負責銷售。受到契約保障的鼓勵，有更多農夫願意嘗試改變作法，與生態環境和諧共生。

- ( D )59. 關於文中最初提及的降低農業損失作法及其影響，隱含了下列哪一概念？  
 (A)比較利益  
 (B)供給法則  
 (C)受益原則  
 (D)外部效果
- ( C )60. 文中林姓農夫的轉變，可用下列何者說明？  
 (A)制度變遷影響生產者行為  
 (B)制度變遷影響消費者行為  
 (C)理念變遷影響生產者行為  
 (D)理念變遷影響消費者行為
- ( A )61. 關於文中提及企業主與農夫合作的方式，若雙方在合作內容簽訂生效後，對於內容發生爭議，以下列何種方式處理最為適當？  
 (A)向調解委員會聲請調解  
 (B)向當地警察局提出告訴  
 (C)向地方法院提起刑事訴訟  
 (D)向訴願管轄機關提起訴願

閱讀下列選文，回答第62至63題：

「歐洲綠化帶」是一條覆蓋歐洲24個國家，長達12,500公里的生態保護區域。這個保護區域最早是沿著歷史上東德、西德之間的邊界形成，當時邊界滿布隔離設施，阻絕人車，

圖(二十五)

使得這片地帶近40年免於人為開發與破壞，土地和生物都得以喘息。之後，環保人士倡議繼續沿著過去敵對雙方的邊界線拓展保護區域，形成如圖(二十五)所示的「歐洲綠化帶」。近年來「歐洲綠化帶」的工作團隊，也在亞洲已經軍事對峙六十餘年的「停戰線」處，協助規畫設立生態保護區域，提供野生動植物棲息地。

- ( D )62. 根據上文與圖中資訊判斷，上述「歐洲綠化帶」主要路線的形成，最可能與下列何者關係密切？  
 (A)希臘正教與羅馬天主教的衝突對立  
 (B)第一次世界大戰時壕溝戰的僵持  
 (C)德蘇互不侵犯條約下的勢力畫分  
 (D)冷戰時期共產和反共集團的對峙

- ( A )63. 根據上文，近年來「歐洲綠化帶」的工作團隊，應是在圖(二十六)中甲、乙、丙、丁何處，協助規畫設立生態保護區域？

圖(二十六)

- (A)甲  
 (B)乙  
 (C)丙  
 (D)丁