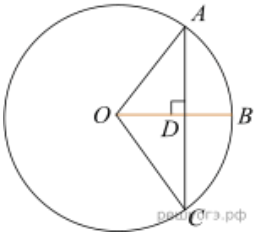
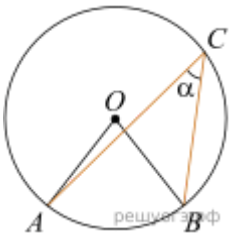


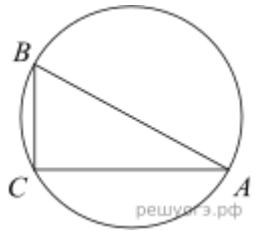
1. К окружности с центром в точке O проведены касательная AB и секущая AO . Найдите радиус окружности, если $AB = 12$ см, $AO = 13$ см.



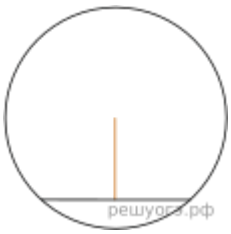
2. Радиус OB окружности с центром в точке O пересекает хорду AC в точке D и перпендикулярен ей. Найдите длину хорды AC , если $BD = 1$ см, а радиус окружности равен 5 см.



3. Найдите величину (в градусах) вписанного угла α , опирающегося на хорду AB , равную радиусу окружности.

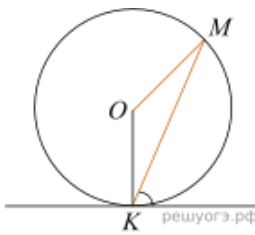


4. В треугольнике ABC угол C равен 90° , $AC = 30$, $BC = 5\sqrt{13}$. Найдите радиус окружности, описанной около этого треугольника.



5. Длина хорды окружности равна 72, а расстояние от центра окружности до этой хорды равно 27. Найдите диаметр окружности.

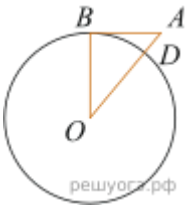
6. Вершины треугольника делят описанную около него окружность на три дуги, длины которых относятся как 3:4:11. Найдите радиус окружности, если меньшая из сторон равна 14.



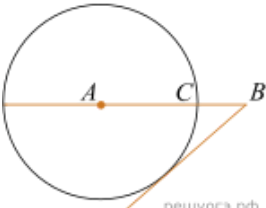
7. Прямая касается окружности в точке K . Точка O — центр окружности. Хорда KM образует с касательной угол, равный 83° . Найдите величину угла OMK . Ответ дайте в градусах.

8. Отрезки AB и CD являются хордами окружности. Найдите длину хорды CD , если $AB = 20$, а расстояния от центра окружности до хорд AB и CD равны соответственно 24 и 10.

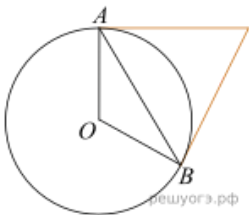
9. Отрезки AB и CD являются хордами окружности. Найдите расстояние от центра окружности до хорды CD , если $AB = 18$, $CD = 24$, а расстояние от центра окружности до хорды AB равно 12.



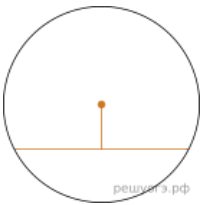
10. Отрезок $AB = 40$ касается окружности радиуса 75 с центром O в точке B . Окружность пересекает отрезок AO в точке D . Найдите AD .



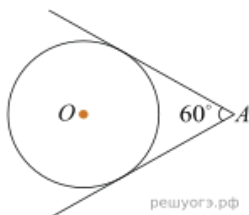
11. На отрезке AB выбрана точка C так, что $AC = 75$ и $BC = 10$. Построена окружность с центром A , проходящая через C . Найдите длину отрезка касательной, проведенной из точки B к этой окружности.



12. Касательные в точках A и B к окружности с центром O пересекаются под углом 72° . Найдите угол ABO . Ответ дайте в градусах.



13. Найдите длину хорды окружности радиусом 13 см, если расстояние от центра окружности до хорды равно 5 см. *Ответ запишите в сантиметрах.*



14. Из точки A проведены две касательные к окружности с центром в точке O . Найдите радиус окружности, если угол между касательными равен 60° , а расстояние от точки A до точки O равно 8.