

Toán**CÁC SỐ ĐẾN 20 (Tiết 2)****I. MỤC TIÊU:****1. Năng lực :**

- Lập số, đếm, đọc, viết các số từ 10 đến 20.
- Phân tích cấu tạo số, tổng hợp số trong phạm vi 20.
- So sánh các số trong phạm vi 20 (trên cơ sở mở rộng cách so sánh các số trong phạm vi 10).
- Vận dụng thứ tự các số trong dãy số từ 1 đến 20, dự đoán qui luật, viết dãy số.

**2. Phẩm chất :**

- Trung thực: Thật thà, ngay thẳng trong việc học và làm bài tập.
- Chăm chỉ: Chăm học, chăm làm, tích cực tham gia các hoạt động học tập.
- Trách nhiệm: Có trách nhiệm tham gia tốt các hoạt động học tập, hoàn thành nhiệm vụ được giao, làm bài tập đầy đủ.

**II. CHUẨN BỊ:****1. Giáo viên:**

- SGK, 20 khối lập phương, bản đồ.

**2. Học sinh:**

- Bút chì, thước kẻ, SGK, 20 khối lập phương.

**III. CÁC HOẠT ĐỘNG HỌC:****1. Khởi động:** HS hát bài “Đếm sao”.**2. Luyện tập:**

Học sinh quan sát tranh:

- + Tranh vẽ gì? (Vẽ một đội bóng/ các cầu thủ và thủ môn.)

(Tích hợp TV: *cầu thủ* là từ chỉ chung các vận động viên thể thao hoạt động với trái bóng, bao gồm: ... Nhắc đến "cầu thủ" thường được hiểu là cầu thủ bóng đá. *Thủ môn* là cầu thủ đứng ở vị trí cuối cùng, giữ khung thành)


+ Đội bóng có mấy người? Gồm ai với ai?( Có 11 người. Gồm 10 cầu thủ và 1 thủ môn.)

+ Gộp 10 cầu thủ và 1 thủ môn được 11 người. vậy em viết vào ô vuông số 11.

Giáo viên khuyến khích để học sinh nói theo cách tách gộp số.

Học sinh tự làm vào sách giáo khoa câu b, c, d

b




?

Tích hợp


+ Liên hệ cuộc sống: Ví dụ trứng được làm từ giấy hoặc nhựa để giữ trứng khó vỡ. thường 1 vỉ đựng 10 trứng để dễ đếm.

c



?





d



?

84

2 SỐ?



Học sinh đếm, xác định đủ 10 rồi đếm tiếp, viết số vào ô vuông, đọc số.

+ Em viết số mấy vào ô vuông? (Viết số 16)

+ Tại sao viết số 16? (Em đếm được 16 hình tròn/ Có 10 hình tròn và 6 hình tròn nên có 16 hình tròn...)

Học sinh hoàn thành bài 2 vào sách giáo khoa.



Đền Hùng  
(tỉnh Phú Thọ) -  
Nơi thờ 18 vị Vua Hùng.



85

Đền Hùng: là quần thể đền chùa, thờ kính 18 vị vua Hùng và tôn thất của các vua trên núi Nghĩa Lĩnh, tỉnh Phú Thọ. Hằng năm tại đây vào ngày mùng 10 tháng 3 âm lịch đều tổ chức lễ hội đền Hùng để kính nhớ các vị tổ tiên đã có công dựng nước

- GV hỏi:

+ Đền Hùng ở tỉnh nào của nước ta? (Đền ở tỉnh Phú Thọ.)

+ Đền thờ bao nhiêu vị vua Hùng? (Thờ 18 vị vua Hùng.)

+ Ngày giỗ tổ các vua Hùng là ngày nào? (Ngày 10 tháng 3 âm lịch.)

+ Các vua Hùng đã có công dựng nước, chúng ta phải làm gì? (Phải luôn ghi nhớ công ơn, ra sức học tập để mai sau xây dựng đất nước.)

\* **Củng cố, dặn dò:**

- Các em vừa được học bài gì?

- Chuẩn bị bài: Các số đến 20 (tiết 3).

*Chúc các em học tốt nhé !*