


1. Розв'язати задачу.

У дитячий садок привезли 5 ящиків апельсинів, по 2 кг у кожному, і 24 кг яблук. Скільки всього кілограмів фруктів привезли у дитячий садок?



2. Обчислити.

$$2 * 7 + 46 =$$

$$50 - 2 * 6 =$$

$$6 + 2 * 2 =$$

$$45 + 18 : 2 =$$

$$12 : 2 + 39 =$$

$$53 - 2 * 9 =$$

3. Порівняти (< , > , =).


$$2 + 2 + 2 \underline{\quad} 2 * 5$$

$$6 * 2 \underline{\quad} 2 * 6$$

$$14 : 2 \underline{\quad} 8$$

$$16 - 2 \underline{\quad} 16 : 2$$


4. Накреслити один відрізок завдовжки 8 см, а другий – у 2 рази коротший.



Варіант 2

1. Розв'язати задачу.

У магазині було 6 пакетів цукру, по 2 кг у кожному, і ще 50 кг у мішку. Скільки всього кілограмів цукру було у магазині?



2. Обчислити.

$$2 * 6 + 38 =$$

$$40 - 2 * 4 =$$

$$4 + 2 * 2 =$$

$$2 * 9 - 15 =$$

$$35 + 16 : 2 =$$

$$10 : 2 + 47 =$$

3. Порівняти (< , > , =)

$$2 + 2 + 2 \underline{\quad} 2 * 4$$

$$5 * 2 \underline{\quad} 2 * 5$$

$12 : 2 \underline{\quad} 8$

$10 - 2 \underline{\quad} 10 : 2$

4. Накреслити один відрізок завдовжки 6 см, а другий – у 2 рази довший.

