

Краева Анастасия

Практическая работа №44


Система упражнений для развития логического мышления младших школьников

1 класс

- 1) В каждую шляпу фокусник посадил кролика. Один кролик выпрыгнул. Какая шляпа пустая?

Варианты ответов:

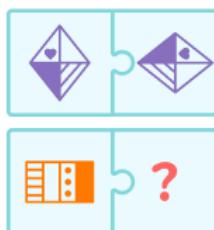
- а) 3
- б) 2
- в) 1



- 2) Определи закономерность и продолжи ряд.

Варианты ответов:


- а) 2
- б) 3
- в) 4
- г) 1



3) На тарелке два яблока и груша. Таня хочет съесть яблоко и грушу.
Ваня - два красных фрукта. Какой фрукт придётся
разделить на пополам?

Варианты ответов:

- а) 2
- б) 1



4) Сосчитай все треугольники.

Варианты ответов:

- а) 5
- б) 4
- в) 3
- г) 6



5) Укажи значение арбуза.

Варианты ответов:

- а) 11
- б) 19
- в) 9
- г) 12

$$8 + \text{yellow box with apple} = 10$$

$$\text{red box with apple} - 6 = 3$$

$$\text{yellow box with apple} + \text{red box with apple} = \text{green box with apple}$$

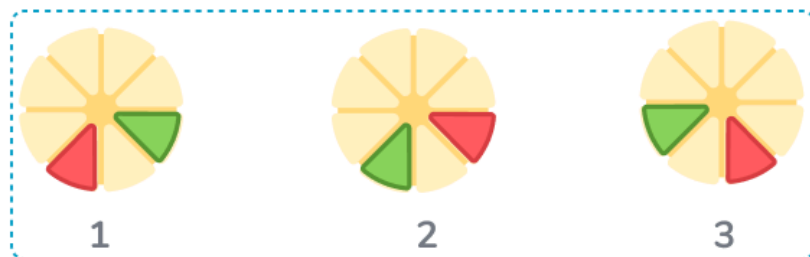
6) Какой круг продолжит ряд?

Варианты ответов:

а) 3

б) 1

в) 2



7) Сколько времени на часах?


Варианты ответов:

а) 13 : 15

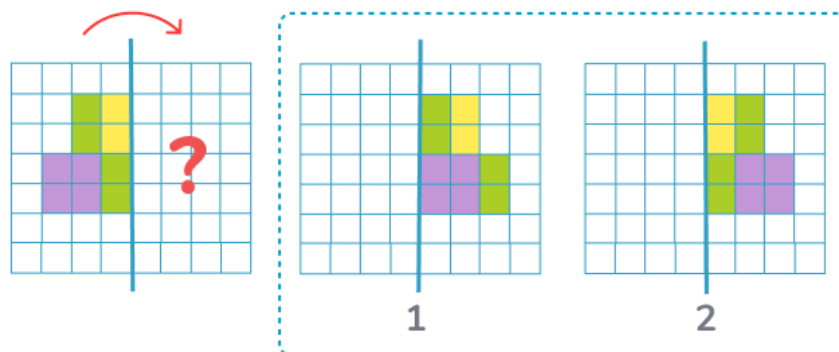
б) 13 : 30

в) 14 : 45

г) 15 : 10



- 8) Какая фигура получится, если поднести зеркало?
- Варианты ответов:
- а) 1
 - б) 2



- 9) В поезде 11 вагонов. Таня и Ваня договорились ехать в шестом вагоне. Таня считала, начиная с первого вагона, а Ваня - с последнего. Окажутся ли они в одном вагоне?
- Варианты ответов:
- а) нет
 - б) да



- 10) Найди закономерность в ряду, какая фигура продолжит ряд?
 Варианты ответов:
 а) 1
 б) 2
 в) 3

