

ورقة عمل تقييمية في التربية الوطنية والحياتية - للصف الثاني الأساسي

شهر سبتمبر (الفصل الأول) العام الدراسي 2023-2024م

الدروس / الوحدة الأولى

اسم الطالب/ة: التقدير /

السؤال الأول: أضع إشارة (✓) أمام العبارة الصحيحة و إشارة □ أمام العبارة الخاطئة:



1. () بابلور الكاز من الأدوات الحديثة.
2. () من الأمثال الشعبية "الجار قبل الدار"
3. () عدد ألوان علم فلسطين ستة ألوان.
4. () لون السهل على الخريطة أخضر.
5. () من الأدوات التراثية الزراعية المحراث والمذراة.
6. () يوجد المسجد الإبراهيمي في مدينة نابلس.

السؤال الثاني: أصل بين الصورة وما يناسبها:



قصر هشام

جبل جرزيم

مسجد قبة الصخرة

كنيسة البشارة

السؤال الثالث: أضع دائرة حول الإجابة الصحيحة ممّا بين القوسين:

- 1- يوجد الجامع الكبير في { الخليل - غزة - أريحا }
- 2- من المواد التي يجذبها المغناطيس { قلم رصاص - دبابيس - مسطرة خشب }
- 3- تسقط المواد على الأرض بفعل قوة { الدفع - السحب - الجاذبية }
- 4- من الملابس التراثية للرجل { القمباز - الثوب - الجاكيت }

السؤال الرابع: أكمل النشيد بالكلمة المناسبة:



موطني موطني

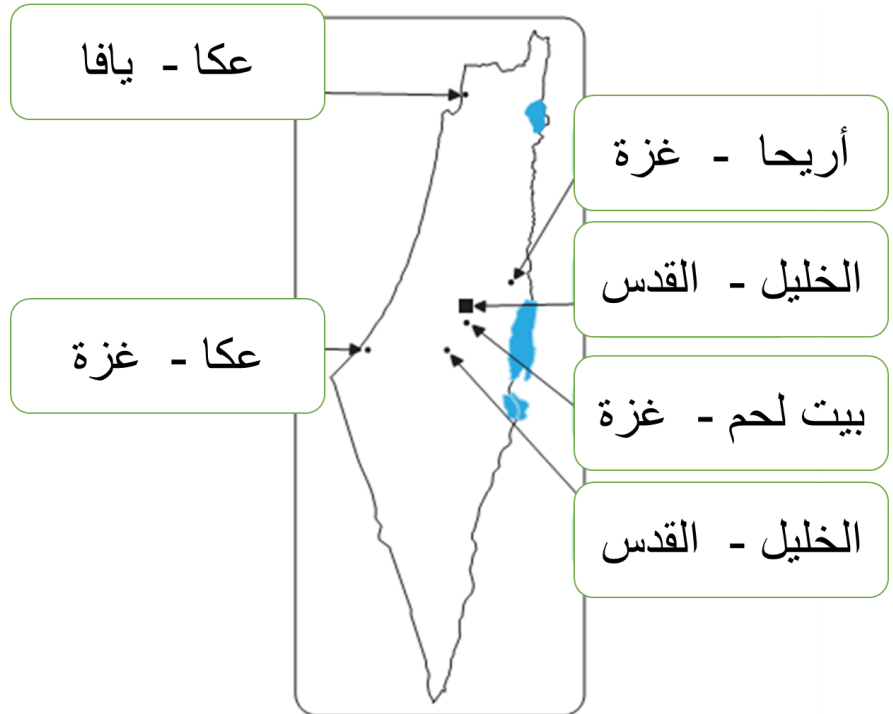
الجلال والجمال والسناء و _____

في رباك في _____

والحياة والنجاة والهناء و _____

في هواك في _____

السؤال الخامس: أختار اسم المدينة حسب السهم المشار إليها:



السؤال السادس: من أنا؟

إبريق فخار

سراج

طاحونة

1- أصنع من الصلصال، وأستخدم لحفظ الماء: _____

2- أستخدم للإضاءة، ووقودي الكاز أو الزيت: _____

3- أنا من الحجر، وأستخدم في طحن الحبوب: _____

أطيب الأمنيات بالنجاح والتميز

ورقة عمل تقييمية في التربية الوطنية والحياتية - للصف الثاني الأساسي

شهر سبتمبر (الفصل الأول) العام الدراسي 2023-2024م

الدروس / الوحدة الأولى

اسم الطالب/ة: التقدير /

السؤال الأول: أضع إشارة (✓) أمام العبارة الصحيحة و إشارة □ أمام العبارة الخاطئة:



1. () يوجد جامع الجزائر في مدينة عكا.
2. () لون المثلث في علم فلسطين أبيض.
3. () لون الصحراء على الخريطة أصفر.
4. () المذراة تستخدم في طحن الحبوب.
5. () من الأكلات الشعبية "المسخن"
6. () شد الحبل من أمثلة قوة الدفع.

السؤال الثاني: أصل بين الصورة وما يناسبها:



هاون

منجل

غربال

محرث

السؤال الثالث: أضع دائرة حول الإجابة الصحيحة ممّا بين القوسين:

- 1- من أمثلة قوة السحب { شد الحبل - الحجلة - المطر }
- 2- يوجد جبل جرزيم في مدينة { القدس - نابلس - غزة }
- 3- من المدن الفلسطينية { عكا - بيت لحم - الاثنتين معاً }
- 4- لون البحر على الخريطة { أزرق - بني - بني }

السؤال الرابع: أكمل الفراغ بالكلمة المناسبة:

السحب - المقص - الجاذبية - الدفع





1- تتحرك الأجسام بفعل قوة _____ أو الدفع.

2- يقوم المغناطيس بجذب _____

3- يسقط المطر بفعل _____

4- نغلق درج المكتب بفعل قوة _____

السؤال الخامس: أختار الإجابة الصحيحة حسب الصورة:

			
قمباز ثوب	قمباز ثوب	قوة سحب قوة دفع	قوة سحب قوة دفع

السؤال السادس: أصل الصورة بما يناسبها:



مواد لا يجذبها المغناطيس

مواد يجذبها المغناطيس

أطيب الأمنيات بالنجاح والتميز