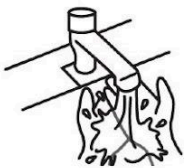


Te cuento que... Un instructivo es una serie de explicaciones o instrucciones, organizadas y agrupadas de diferentes formas, para darle a un usuario la posibilidad de actuar de acuerdo a como lo requiere una situación.

www.diccionarioactual.com
Consultado el 04/agosto/2021

Texto adaptado para fines didácticos MEAD.

 **ORDENA** los pasos para lavarte las manos de una manera adecuada escribiendo dentro de los círculos los números del 1 al 6.



Primero comienza mojándote las manos con agua templada.



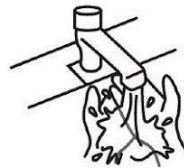
Después frota los dedos entre si.



Enseguida deposita suficiente jabón sobre tus manos.



Finalmente seca con una toalla.




Posteriormente retira bien todo el jabón.



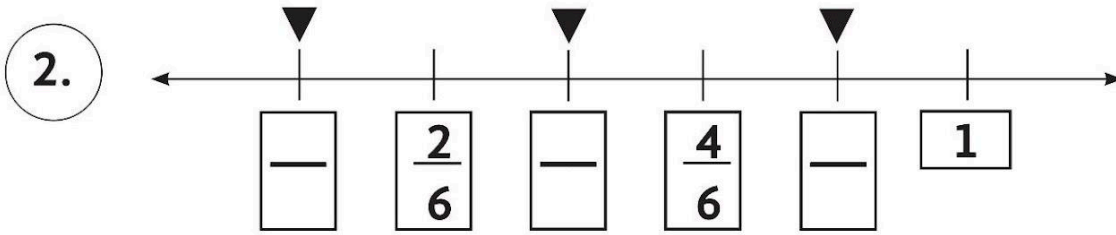
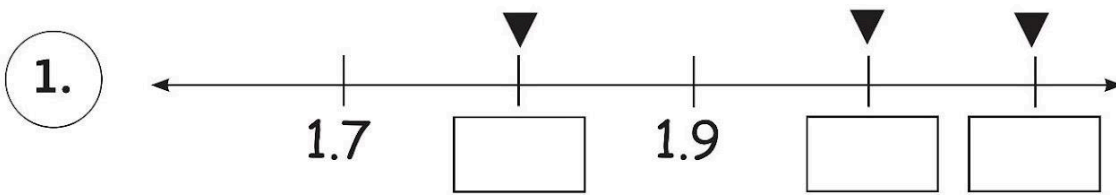
También cepilla las uñas.

 **ENCIERRA** del instructivo anterior los adverbios de orden temporal con color verde y después escríbelos en el recuadro.

 **ELABORA** en tu cuaderno un instructivo sobre algún juego que te guste, apoyándote en el siguiente diagrama.



LOCALIZA el número que corresponde a las flechas que se indican en la recta. Apóyate en tu libro **Desafíos Matemáticos** en la página 73 y 74.

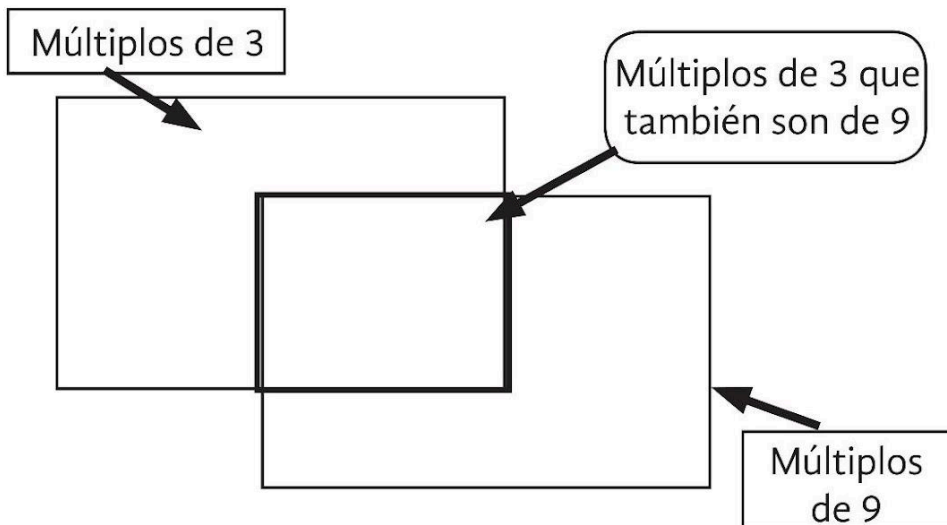


ESCRIBE el número antecesor o sucesor de los números que están en las tablas.

Antecesor	Número	Sucesor
	23	
	199	
	23.99	
	68.79	
	125.10	

Antecesor	Número	Sucesor
	1.55	
	9.02	
	95	
	836	
	999.99	

ESCRIBE los múltiplos de los números que se indican. Puedes apoyarte de las páginas 77 a 87 de tu libro **Desafíos Matemáticos**.

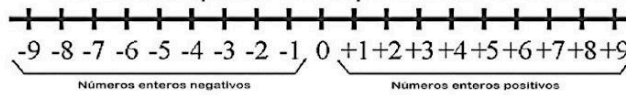


Los múltiplos de un número son todos los posibles resultados de multiplicar ese número por todos y cada uno de los números naturales.

Ejemplo:
 $2 \times 0 = 0$
 $2 \times 1 = 2$
 $2 \times 2 = 4$
 ...
Los resultados son los múltiplos del 2.

La recta numérica

Es un gráfico de una línea en la que los números enteros son mostrados como puntos especialmente marcados que están separados a la misma distancia.

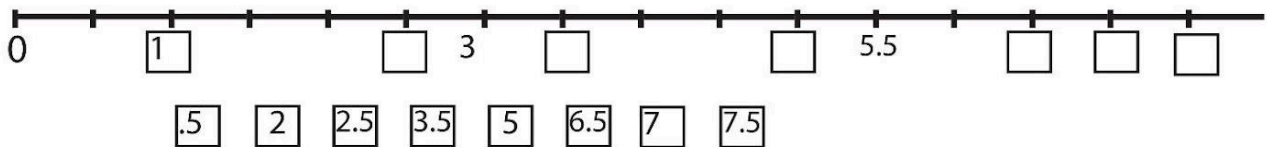


<https://www.foyel.com/paginas>
Consultado el 8/08/2019

Texto adaptado para fines didácticos MEAD.

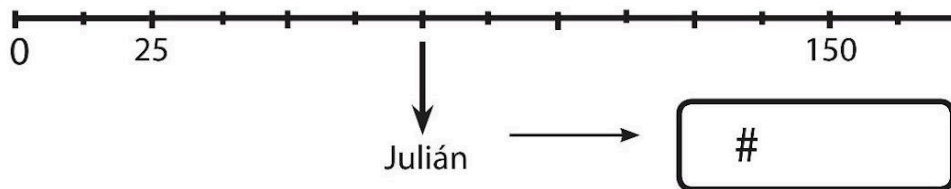
RESUELVE los siguientes ejercicios.

1. Encierra con un círculo azul los números que completan la siguiente recta.

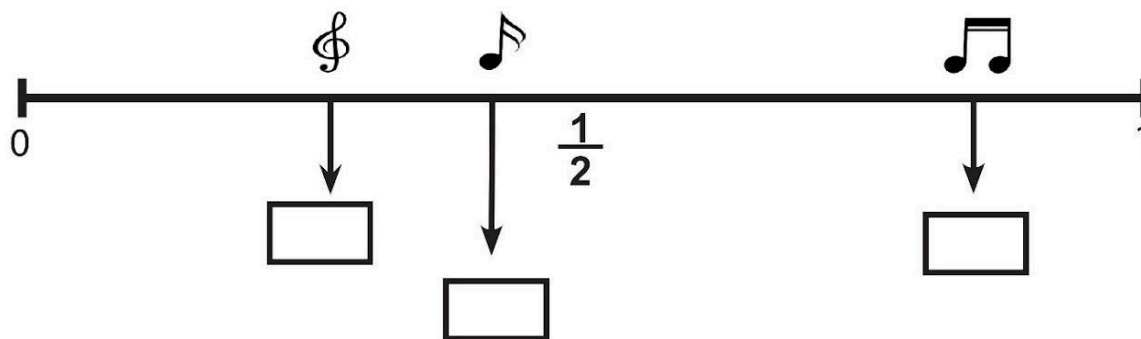


2. Contesta el siguiente problema.

Los amigos de Julián viven en su misma calle, Enrique vive en el número 25 y Susana en el 150, de acuerdo a las ubicaciones en la recta, ¿En qué número de casa vive Julián?



ESCRIBE la fracción bajo cada nota, según corresponda su ubicación en la recta.



VISITA:

<https://materialeducativo.org/>

&

<https://materialeseducativos.m>

X