

<p style="text-align: center;">NAMA SD</p> <p style="text-align: center;">PENILAIAN AKHIR SEMESTER</p> <p style="text-align: center;">(PAS)</p>	Nama :
	No. Absen :
	Nilai :
Mata Pelajaran : Tema 3	
Kelas : II (Dua)	
Waktu : 90 menit	
Tanggal :	

I. Berikan tanda silang (x) pada jawaban yang benar !

- Sikap yang harus dikembangkan dalam mewujudkan persatuan dalam keragaman adalah
 - Menghapuskan semua perbedaan.
 - Membeda-bedakan
 - Membuat jarak pemisah.
 - Memikirkan kepentingan pribadi
- Sikap kita terhadap teman yang berbeda agama adalah..
 - Mejauhi
 - Menghargai.
 - Memusuhi
 - Menghindar
- Suku Sunda berasal dari
 - Jawa barat
 - Jawa tengah
 - Jawa timur
 - Bali
- Walaupun beberapa siswa memiliki agama yang berbeda, tapi mereka saling
 - Saling menghina satu sama lain.
 - Saling menyalahkan satu sama lain.
 - Saling membenci satu sama lain.
 - Saling menghormati satu sama lain.
- Dengan tidak membedakan agama antara orang satu dengan yang lain berarti mereka mempraktikkan budaya kerukunan antar
 - Kerukunan antar umat bertetangga
 - Kerukunan antar umat.
 - Kerukunan antar umat beragama.
 - Kerukunan antar umat islam .
- Tugas siswa terhadap lingkungan sekolah...
 - Menjaga dan merawat lingkungan sekolah.
 - Menjaga dan mengotori lingkungan sekolah.
 - Menjaga dan merusak lingkungan sekolah.
 - Menjaga dan mengabaikan lingkungan sekolah.

7. Suku Dayak berasal dari

- a. Kalimantan
- b. Sulawesi
- c. Sumatera
- d. Lampung

8. Persamaan kata dari gembira adalah

- a. senang
- b. susah
- c. sedih
- d. sepi

9. “Selamat pagi, selamat siang, selamat sore, atau selamat malam”. Merupakan contoh dari ...

- a. ucapan salam
- b. ucapan selamat
- c. ucapan perpisahan
- d. ucapan buruk

10. Amatilah denah berikut ini!



Berdasarkan denah di atas sebutkan rumah yang letaknya dekat dengan rumah Adi adalah .

- a. rumah budi dan rumah ayu
- b. rumah siti dan dan rumah rama
- c. rumah budi dan rumah siti
- d. rumah ayu dan rumah siti

11. Persamaan kata dari membantu adalah

- a. Menolong
- b. Mendukung
- c. Memilih
- d. memahami

12. Seluruh siswa sangat dapat membantu korban banjir.

- a. takjub
- b. senang
- c. sedih
- d. duka

13. Lengkapilah titik-titik di bawah ini dengan kata yang tersedia!

bertengkar menendang bola
kerja sama menggiring membantu

Bermain kucing-kucingan dilakukan dengan ...

- a. menggiring
- b. menendang
- c. kerja sama
- d. membantu

14. Ali mendapat uang dari nenek sebesar Rp5.000,00. Ali membeli penghapus seharga Rp1.000,00. Berapa sisa uang Ali sekarang?

- a. Rp 6.000
- b. Rp 4.000
- c. Rp 8.000
- d. Rp 2.000

15. Berikut bahan-bahan yang dibeli siswa.



Siti dan kelompoknya membeli biji jagung, kacang tanah, kacang hijau, dan kacang kedelai. Berapakah yang harus dibayar oleh Siti dan kelompoknya?

- a. 5000
- b. 3000
- c. 7000
- d. 9000

16. Berapakah nilai uang yang ada dibawah ini?




- a. Lima ratus rupiah
- b. Lima ribu rupiah
- c. Lima puluh ribu
- d. Lima ratus ribu

17. Urutkan dari yang nilainya terkecil!

A

B

C



- a. ABC
- b. CBA
- c. ACB
- d. BCA

18. Perhatikan harga barang-barang tersebut!



Berapa jumlah nilai keseluruhan dari barang diatas?

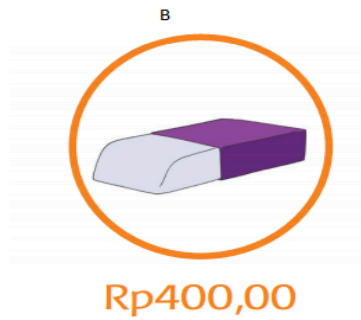

a. Rp. 2000.

c. Rp. 1600.

b. Rp. 1800.

d. Rp. 1400.

19. Urutkanlah harga alat tulis di bawah ini dari yang paling murah!



a. BAC

c. ABC

b. CAB

d. CBA

20. Bagaimana tulisan latin dari pecahan uang di bawah ini?



a. Enam ribu rupiah

c. Enam ratus rupiah

b. Enam rupiah

d. Enam ratus Ribu

Isilah titik titik dengan jawaban yang tepat !

21. Sebutkan tugas anak perempuan di rumah!

22. Keberagaman karakteristik dapat kita ketahui melalui...

23. Sebutkan karakteristik individu yang ada di kelas...


24. Sebutkan tugas siswa terhadap lingkungan sekolah...

25. Perhatikan gambar dibawah ini!



Dari gambar diatas, dimanakah Siti tinggal?

26. Buatlah kalimat dari gambar di bawah :



27. Buat kalimat dari kata -kata di bawah ini:

- a. Rounders
- b. Uang

28. Buatlah kalimat dari kata berikut!

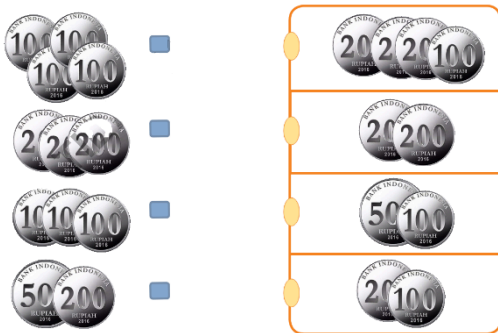
- Berkunjung
- Pandai

29. Perhatikan harga barang-barang tersebut!



Siti memiliki uang Rp5.000,00. Kira-kira barang apa yang dapat ia beli?

30. Pasangkan pecahan uang berikut yang memiliki nilai sama!



Kunci Jawaban

1	A	11	A
2	B	12	B
3	A	13	C
4	D	14	B
5	A	15	A
6	A	16	B
7	A	17	C
8	A	18	B
9	A	19	A

10	C	20	C
----	---	----	---

21. Tugas anak perempuan di rumah yaitu Membantu ibu mengerjakan pekerjaan rumah.
22. Asal, adat istiadat, dan agama.
23. Pintar, Rajin, dan Malas.
24. Menjaga dan merawat lingkungan sekolah.
25. Jl. Kh. Dewantara
26. Ibu guru mengucapkan salam sebelum pelajaran di mulai.
27. Beni bermain rounders di lapangan.
Ibu mengambil uang di ATM.
28. Berkunjung : Sindi sedang berkunjung ke tempat nenek saat liburan.
Pandai : Ali sangat pandai dalam mengerjakan soal matematika.
29. Siti bisa membeli :
 - 1 buku, 1 tipe-x, dan 1 penggaris. Atau
 - 2 pensil, 2 penghapus, 1 buku, 1 penggaris. Atau
 - 2 tipe-x, 1 pensil, dan 1 penghapus.
30. Pasangannya adalah :

