

|   |             |
|---|-------------|
| <b>SDN KHERYSURYAWAN.ID</b><br><b>PENILAIAN HARIAN KURIKULUM 2013</b><br><b>TAHUN PELAJARAN 20../20..</b> | Nama :      |
|   | No. Absen : |
|   | Nilai :     |
| Pelajaran : Tema 7 Subtema 1  |             |
| Kelas : 3 (Tiga)  |             |
| Waktu : 90 menit  |             |
| Tanggal :   |             |

**I. Isilah soal berikut dengan jawaban yang benar !**

**SOAL A**

**A. PPKN**

1. Beragam artinya ....
2. Baju adat kebaya berasal dari ....

**B. B. INDO**

1. Dalam teknologi pangan tahu dan tempe memakai bahan dasar ....
2. Dakak-dakak, karak kaliang, rendang singkong, merupakan hasil olahan singkong khas daerah ...

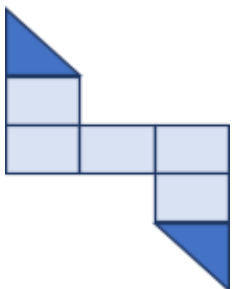
**C. MTK**

1.



Luas bidang di atas adalah \_\_\_\_ satuan

2.



\_\_\_\_\_ satuan persegi

**D. SBDP**

1. Lagu " Rotiku " diciptakan oleh ....
2. Bila kita bernyanyi diiringi dengan ....

E. PJOK

1.



Gerakan mengambang di samping menggunakan alat bantu ....



2. Gerakan pada gambar disamping merupakan contoh gerakan ....

II. Jawablah pertanyaan berikut dengan jawaban yang tepat!

SOAL B

A. PPKN

1. Apa yang dimaksud dengan keberagaman?

2.



Berasal dari manakah baju adat seperti gambar diatas?

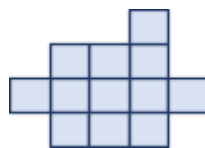
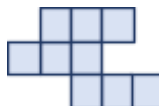
B. B. INDO

1. Sebutkan beberapa makanan yang berbahan dasar susu sapi dalam bacaan "Teknologi Pangan"!

2. Jelaskan cara penyimpanan hasil olahan agar dapat bertahan lama !

C. MTK

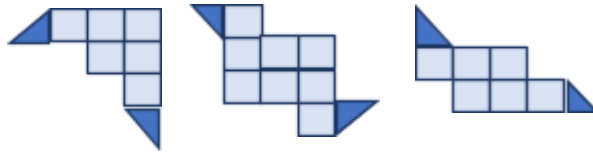
1.



1 2 3

Hitunglah luas bidang 1, 2, dan 3!

2.



1 2 3

Luas bidang 1 \_\_\_\_ satuan persegi

Luas bidang 2 \_\_\_\_ satuan persegi

Luas bidang 3 \_\_\_\_ satuan persegi

#### D. SBDP

1.



Lengkapilah lirik lagu pada gambar diatas !

2. Jelaskan yang dimaksud dengan pola irama!

#### E. PJOK

1. Jelaskan tahap-tahap gerakan dasar mengambang!

2. Sebutkan 3 alat pelampung yang kamu ketahui!

## KUNCI JAWABAN

### SOAL A

- A. PPKN
  - 1. Bermacam - macam
  - 2. Jawa tengah
- B. B. Indo
  - 1. Kacang kedelai
  - 2. Daerah Sumatra Barat
- C. MTK
  - 1. 6 satuan
  - 2. 6 satuan persegi
- D. SBDP
  - 1. A.T Mahmud
  - 2. Musik
- E. PJOK
  - 1. Papan peluncur
  - 2. mengambang

### SOAL B

- A. PPKN
  - 1. Keberagaman adalah kebiasaan yang berbeda-beda yang dimiliki oleh setiap orang.
  - 2. Dari Denpasar Bali
- B. B. Indo
  - 1. Mentega, susu bubuk, dan keju.
  - 2. Memasukannya didalam kaleng atau memasukannya kedalam plastik kedap udara
- C. MTK
  - 1.
    - a. Luas bidang 1. 12 satuan
    - b. Luas bidang 2. 9 satuan
    - c. Luas bidang 3. 12 satuan
  - 2.
    - a. Luas bidang 1. 7 satuan persegi
    - b. Luas bidang 2. 9 satuan persegi
    - c. Luas bidang 3. 7 satuan persegi

D. SBDP

1. Supaya jangan dimakan lalat
2. Pola irama adalah sekelompok bunyi dengan susunan tertentu.

E. PJOK

1.
  - a. Berdiri tegak di pinggir kolam.
  - b. Peganglah tepi kolam dengan dua jari dari setiap tangan.
  - c. Rapatkan perut pada dinding kolam.
  - d. Tarik napas dalam-dalam. Lepaskan pegangan.
  - e. Masukkan kepala kedalam air.
  - f. Kepala muncul perlahan di permukaan air sambil hembuskan napas.
  - g. Posisi tangan sejajar bahu.
  - h. Lakukan gerakan berenang di tempat dengan posisi tubuh sejajar dengan air. Kedua kaki digerakkan bergantian.
  - i. Lakukan berulang-ulang.
2.
  1. Rompi renang
  2. Papan luncur
  3. Ban renang