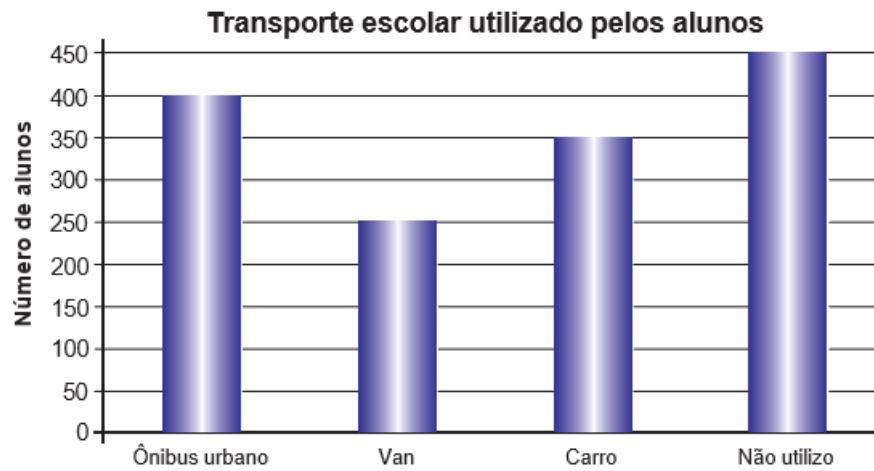


Resolver problema envolvendo informações apresentadas em gráfico de colunas e linhas

Para resolver as atividades de 01 a 05, veja, no gráfico abaixo, o tipo de transporte mais utilizado pelos alunos para ir à escola



De acordo com essa pesquisa, o número de alunos que utilizam ônibus urbano para ir à escola é

- A) 450.
- B) 400.**
- C) 350.
- D) 250.

2º) De acordo com essa pesquisa, o número de alunos que utilizam carro para ir à escola é

- A) 250.
- B) 350.**
- C) 400.
- D) 450.

3º) De acordo com essa pesquisa, o número de alunos que utilizam van para ir à escola é

- A) 250.**
- B) 350.
- C) 400.
- D) 450.

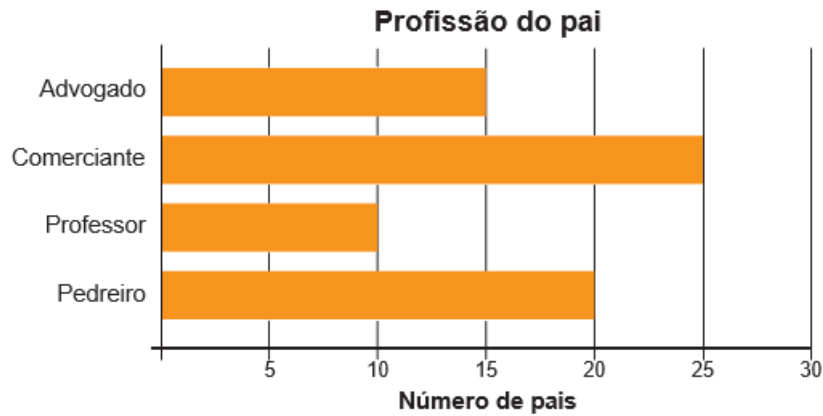
4º) De acordo com essa pesquisa, o número de alunos que não utilizam transporte para ir à escola é

- A) 450.**
- B) 400.
- C) 350.
- D) 250.

5º) De acordo com essa pesquisa, o número de alunos que utilizam algum transporte para ir à escola é

- A) 450.
- B) 650.
- C) 1 000.**
- D) 1 450.

Para resolver as atividades de 06 a 10, veja, no gráfico abaixo, a profissão dos pais dos alunos das duas turmas em que Vanda leciona.



6º) De acordo com esse gráfico, qual dessas profissões apresenta o menor número de pais?

- A) Advogado.
- B) Comerciante.
- C) Pedreiro.
- D) Professor.**

7º) De acordo com esse gráfico, qual dessas profissões apresenta o maior número de pais?

- A) Advogado.
- B) Comerciante.**
- C) Pedreiro.
- D) Professor.

8º) De acordo com esse gráfico, quantos pais são pedreiros?

- A) 10
- B) 15
- C) 20**
- D) 25

9º) De acordo com esse gráfico, quantos pais são advogados?

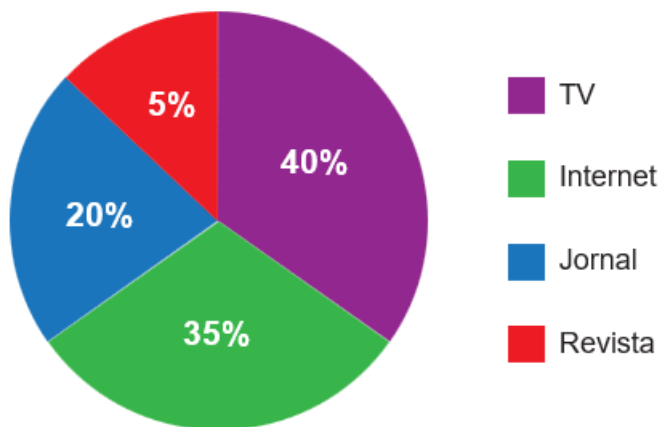
- A) 10
- B) 15**
- C) 20
- D) 25

10°) De acordo com esse gráfico, quantos pais participaram dessa pesquisa?

- A) 65
- B) 70**
- C) 100
- D) 105

Para resolver as atividades de 11 a 15, veja, no gráfico abaixo, o resultado de uma pesquisa realizada em uma escola para identificar o meio de comunicação mais utilizado pelos alunos.

**Meios de comunicação mais utilizados**



11°) Nessa pesquisa, o meio de comunicação mais utilizado por esses alunos é

- A) Internet.
- B) Revista.
- C) Jornal.
- D) TV.**

12°) Nessa pesquisa, o meio de comunicação menos utilizado por esses alunos é

- A) Internet.
- B) Revista.**
- C) Jornal.
- D) TV.

13°) Nessa pesquisa, qual é o percentual de alunos que utilizam jornal?

- A) 5%
- B) 20%**
- C) 35%
- D) 40%

14°) Nessa pesquisa, qual é o percentual de alunos que utilizam jornal e internet?

- A) 40%
- B) 50%**

C) 55%

D) 75%

15°) Nessa pesquisa, qual é o percentual de alunos que utilizam revista e TV?

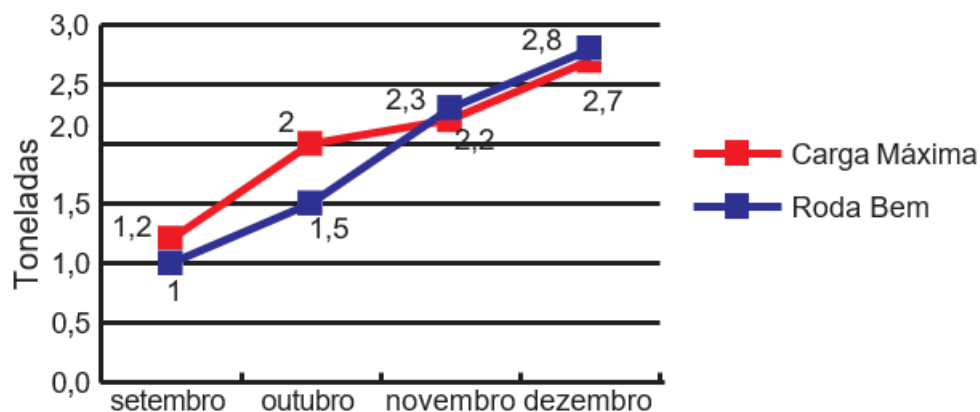
A) 40%

B) 60%

C) 45%

D) 65%

16°) O gráfico abaixo mostra a quantidade de minério transportada pelas transportadoras Roda Bem e Carga Máxima nos últimos quatro meses do ano passado.



Em que mês a quantidade de minério transportada pela Roda Bem superou a da Carga Máxima?

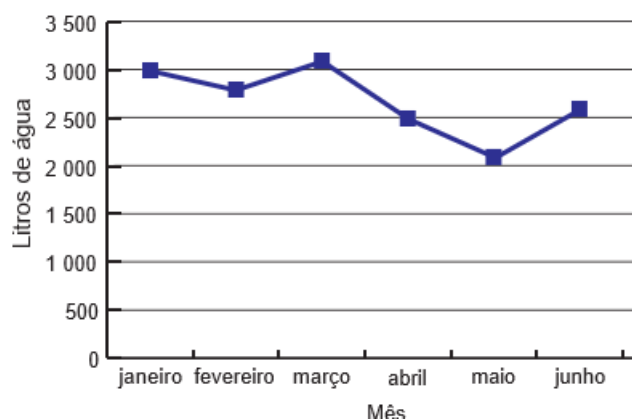
A) Setembro.

B) Outubro.

C) Novembro.

D) Dezembro.

Para resolver as atividades de 17 a 19, observe o gráfico abaixo, que mostra a média de litros de água gastos na casa de José no primeiro semestre do ano passado.



17°) Em qual desses meses o consumo de água dessa casa foi maior?

A) Janeiro.

- B) **Março.**
- C) Abril.
- D) Junho.

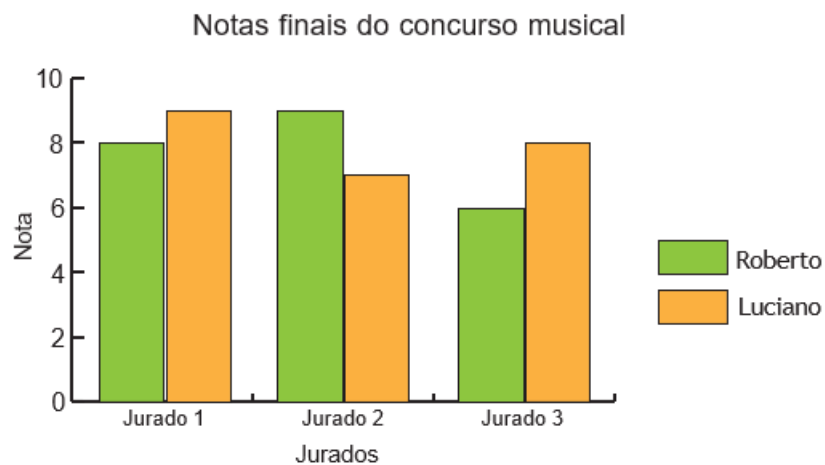
18°) Em quais desses meses o consumo de água dessa casa foi menor?

- A) Março.
- B) Abril.
- C) **Maio.**
- D) Junho.

19°) Em qual dos meses abaixo o consumo de água dessa casa ficou entre 2 500 litros e 3 000 litros?

- A) Janeiro.
- B) Fevereiro.
- C) **Março.**
- D) Abril.

20°) Na final de um concurso musical, os cantores Roberto e Luciano foram avaliados por três jurados. As notas finais alcançadas por eles foram apresentadas no gráfico abaixo.



Qual é a soma das notas que Luciano obteve dos três jurados?

- A) 16
- B) 17
- C) 23
- D) **24**