

केन्द्रीय विद्यालय संगठन, लखनऊ संभाग
KENDRIYA VIDYALAYA SANGATHAN, LUCKNOW REGION
PRE BOARD QUESTION PAPER 2023-24
GEOGRAPHY THEORY (029)
CLASS XII

TIME: 3 hours

Maximum Mark: 70

सामान्य निर्देश

1. इस प्रश्न पत्र में 30 प्रश्न हैं सभी प्रश्न अनिवार्य हैं ।
2. यह प्रश्न पत्र 5 खंडों ए बी, सी, डी और ई में विभाजित है ।
3. खंड ए में 1 से 17 प्रश्न हैं जो बहुविकल्पीय प्रश्न हैं, प्रत्येक प्रश्न एक अंक का है ।
4. खंड बी में प्रश्न संख्या 18 और 19 स्रोत आधारित प्रश्न हैं जिनमें से प्रत्येक के लिए 3 अंक हैं ।
5. खंड सी में प्रश्न संख्या 20 से 23 तक हैं जो लघु उत्तरीय प्रश्न हैं जिनमें से प्रत्येक के लिए 3 अंक हैं। इन प्रश्नों का उत्तर 80 से 100 शब्दों में लिखना है ।
6. खंड डी में प्रश्न संख्या 24 से 28 तक हैं, जो दीर्घ उत्तरीय प्रश्न हैं, प्रत्येक प्रश्न 5 अंक का है, इन प्रश्नों का उत्तर 120 से 150 शब्दों में लिखा जाएगा।
7. खंड ई में प्रश्न संख्या 29 और 30 हैं जो मानचित्र आधारित प्रश्न हैं।

General instructions

1. This question paper contains 30 questions. All questions are compulsory.
2. This question paper is divided into 5 sections section A B, C, D, & E.
3. Section A has 1 to 17 questions which are multiple choice questions carrying one mark each.
4. Section B has question number 18 and 19 which are source based questions carrying 3 marks each
5. Section C has question number 20 to 23 which are short answer type questions carrying 3 marks each. Answer to these questions shall be written in 80 to 100 words.
6. Section D has question number 24 to 28 which are long answer type questions carrying 5 marks each. Answer to these questions shall be written in 120 to 150 words.
7. Section E has question number 29 and 30 which are map based questions.

Section A

इस खंड में 17 प्रश्न हैं, सभी अनिवार्य हैं।

There are 17 questions in this section, all are mandatory.

Q1. निम्नलिखित में से कौन सा कथन गलत है?

a- सस्ते जल परिवहन ने हुगली नदी के किनारे जूट मिल उद्योग को सुविधाजनक बनाया है।

ब- चीनी, सूती कपड़ा और वनस्पति तेल फुटलूज उद्योग हैं।

स- जल विद्युत एवं पेट्रोलियम के विकास ने कोयला ऊर्जा के महत्व को काफी हद तक कम कर दिया है।

द- भारत में बंदरगाह कस्बों ने उद्योगों को आकर्षित किया है

Which one of the following statement is wrong?

- a- Cheap water transport has facilitated the jute mill industry along the Hugli River.
- b- Sugar, cotton textile and vegetable oils are footloose industries.
- c- The development of hydro electricity and petroleum has reduced the importance of coal energy to a great extent.
- d- Port towns in India have attracted industries

Q2. निम्नलिखित में से किस प्रकार की अर्थव्यवस्था में उत्पादन के कारकों का स्वामित्व सरकार के पास होता है?

अ-पूंजीवादी ब-मिश्रित स-समाजवादी द-कोई नहीं

In which of the following types of economy are the factors of production are owned by the government

a-Capitalist b- Mixed c- Socialist d- None

Q3. वे नौकरियाँ जिनमें उच्च और स्तर के नवाचार शामिल होते हैं, कहलाती हैं

अ- प्राथमिक गतिविधियाँ ब- द्वितीय गतिविधि स- चतुर्थक गतिविधि द-पंचम गतिविधि

Jobs which involve high and level of innovations are known as

a- Primary activities b- Secondary activity c- Quaternary activity d-Quinary activity

Q4. निम्नलिखित में से कौन सा कथन सत्य नहीं है

अ- आउटसोर्सिंग से लागत कम होती है और दक्षता बढ़ती है

ब- कई बार इंजीनियरिंग और मैनुफैक्चरिंग जॉब्स को भी आउटसोर्स किया जा सकता है

स- बीपीओ में केपीओ की तुलना में बेहतर व्यावसायिक अवसर हैं।

द- जिन देशों में नौकरियाँ आउटसोर्स की जाती हैं वहाँ नौकरी चाहने वालों में असंतोष हो सकता है।

Which one of the following statement is not true

- a- Outsourcing reduces cost and increases efficiency
- b- At times engineering and manufacturing Jobs can also be outsourced
- c- BPO has better business opportunities than KPO.
- d- There may be dissatisfaction among job seekers in the countries that outsource the jobs.

Q5. “बिग इंच” पाइपलाइन परिवहन करती है

अ-दूध

बी- तरल पेट्रोलियम गैस (एलपीजी)

स- पानी

द- पेट्रोलियम

The Big inch pipeline transports

a- Milk

b- Liquid petroleum gas(LPG)

b- Water

d- Petroleum

Q6. निम्नलिखित में से कौन सा स्थान चैनल सुरंग द्वारा जुड़ा हुआ है?

अ-लंदन-बर्लिन

ब-पेरिस-लंदन

स-बर्लिन-पेरिस

द- बार्सिलोना-बर्लिन।

Which one pair of the following places is linked by Channel tunnel?

a- London-Berlin

b-Paris -London

c- Berlin -Paris.

d- Barcelona -Berlin.

Q7. भारत का सबसे दक्षिणी हवाई अड्डा कौन सा है?

अ- मुंबई

ब- तिरुवनंतपुरम

स- बेंगलुरु

द- चेन्नई.

Which is the Southern most Airport of India?

a- Mumbai

b- Tiruvanntapuram

c- Bangalore

d- Chennai

Q8. अनुकूल व्यापार संतुलन का अर्थ है

अ- आयात निर्यात से अधिक है

ब- निर्यात आयात से अधिक है

स- दोनों बराबर हैं

द-इनमें से कोई नहीं।

Favourable balance of trade means

a- Import exceeds Export

b- Export exceeds Import

b- Both are equal

d-None of them.

Q9. निम्नलिखित में से कौन सा कथन गलत है?

अ- रालेगन-सिदधि महाराष्ट्र के अहमदनगर जिले में स्थित है

ब- यह भारत का आदर्श गांव है

स- यह वर्षा जल संचयन के लिए जाना जाता है

द- प्रदूषण नियंत्रण के लिए युवा मंडल का गठन किया गया।

Which of the following statement is incorrect?

- Ralegan-siddhi is located in Ahmednagar district of Maharashtra
- It is the model village of India
- It is known for Rain water harvesting
- Youth mandal was formed to control pollution.

Q10. निम्नलिखित में से किस महाद्वीप में वैश्विक व्यापार का प्रवाह सर्वाधिक है?

- अ- एशिया
ब- उत्तरी अमेरिका
स - यूरोप
द- अफ्रीका।

Which one of the following continents has the maximum flow of global trade.

- a- Asia b North America
c – Europe d Africa.

Q11. निम्नलिखित में से कौन सा सही सुमेलित है?

- अ- खेत्री- कोयला ब- कोरापुट- लौह अयस्क
स-डिगबोई-पेट्रोलियम द-रानीगंज-तांबा।

Which among the following is correctly matched?

- a- Khetri- Coal b- Koraput - Iron ore
c -Digboi –Petroleum d -Raniganj -Copper.

Q12. विश्व के अधिकांश महान पत्तन को इस प्रकार वर्गीकृत किया गया है

- | | |
|------------------|--------------------|
| अ- नौसेना पत्तन | बी-तेल पत्तन |
| स- विस्तृत पत्तन | डी- औद्योगिक पत्तन |

Most of the world's great port are classified as

- a- Naval ports. b-Oil ports
- b- Comprehensive ports d- Industrial Port

Q13. दो देशों के बीच व्यापार को कहा जाता है

- अ- आंतरिक व्यापार ब- बाह्य व्यापार
स- अंतर्राष्ट्रीय व्यापार द- स्थानीय व्यापार।

Trade between two countries is termed as

- a- Internal Trade.
- b- External Trade
- b- International Trade
- d- Local Trade

प्रश्न 14. निम्नलिखित में से कौन सा एक भूमि से घिरा बंदरगाह है?

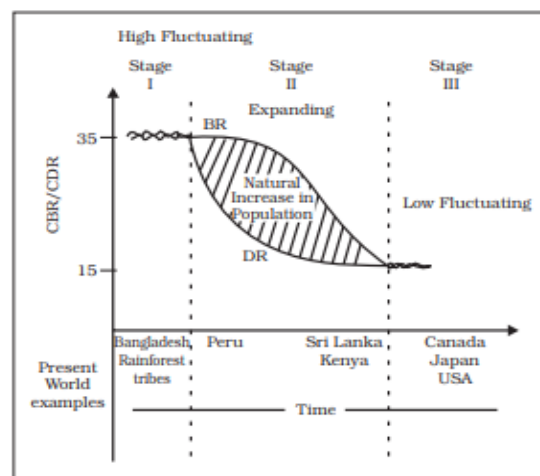
- अ- विशाखापत्तनम
- ब- मुंबई
- स- एन्नोर
- द- हल्दिया

Which one of the following is a land locked harbour?

- a- Vishakhapatnam.
- b- Mumbai
- b- Ennor
- d - Haldia

निम्नलिखित ग्राफ का अध्ययन करें और प्रश्न संख्या 15 से 17 का उत्तर दें

Study the following graph and answer Question no 15 to 17



Q15. उपरोक्त ग्राफ में जनसांख्यिकीय संक्रमण के किस चरण में जनसंख्या विस्फोट होता है?

- अ-स्टेज एक
- ब-स्टेज दो
- स- स्टेज तीन
- द. इनमे से कोई भी नहीं

In the above graph in which stage of demographic transition the population explosion takes place?

- a-Stage I
- b-Stage II
- c- Stage III
- d. None of the above

Q16. उपरोक्त ग्राफ में जनसांख्यिकीय संक्रमण का तृतीय चरण दर्शाता है ।

- अ- उच्च जन्म दर और उच्च मृत्यु दर
- ब- कम जन्म दर और उच्च मृत्यु दर
- स- उच्च जन्म दर और निम्न मृत्यु दर

द- निम्न जन्म दर और निम्न मृत्यु दर

In the above graph the 3rd stage of demographic transition attributes to

- a- High birth rate and high death rate
- b- Low Birth rate and high death rate
- c- High birth rate and low death rate
- d- Low birth rate and low death rate

Q17. ग्राफ में दिखाया गया कौन सा देश जनसांख्यिकीय संक्रमण के प्रथम चरण से संबंधित है

- अ- बांग्लादेश
- ब- पेरू
- स- भारत
- द- केन्या।

Which country shown in the graph belongs to the 1st stage of demographic Transition

- a- Bangladesh.
- b- Peru.
- c- India.
- d- Kenya.

प्रश्न संख्या 15,16 और 17 के स्थान पर निम्नलिखित प्रश्न केवल दृष्टिबाधित उम्मीदवारों के लिए हैं

The following questions are for visually impaired candidates only in lieu of Q No 15,16 and 17

प्रश्न 15. जनसांख्यिकीय संक्रमण के किस चरण में जनसंख्या विस्फोट होता है?

- अ- चरण एक
- ब - चरण दो
- स- चरण तीन
- द- उपरोक्त में से कोई नहीं।

In which stage of demographic transition the population explosion takes place

- a- Stage I
- b – Stage II
- b- Stage III
- d- None of the above.

Q16. जनसांख्यिकीय संक्रमण के तीसरे चरण की विशेषताएँ हैं ।

- अ- उच्च जन्म दर और उच्च मृत्यु दर
- ब- कम जन्म दर और उच्च मृत्यु दर
- स- कम जन्म दर और कम मृत्यु दर
- द- उच्च जन्म दर और निम्न मृत्यु दर

3rd stage of demographic transition attributes to

- a- High birth rate and high death rate
- b- Low birth rate and high death rate

c- Low birth rate and Low death rate

d -High birth rate and low death rate

Q17. कौन सा देश जनसांख्यिकीय संक्रमण के प्रथम चरण से संबंधित है?

अ- बांग्लादेश.

ब - पेरू

स- भारत.

द - केन्या।

Which country belongs to the 1st stage of demographic transition

a- Bangladesh.

b – Peru

c- India.

d – Kenya.

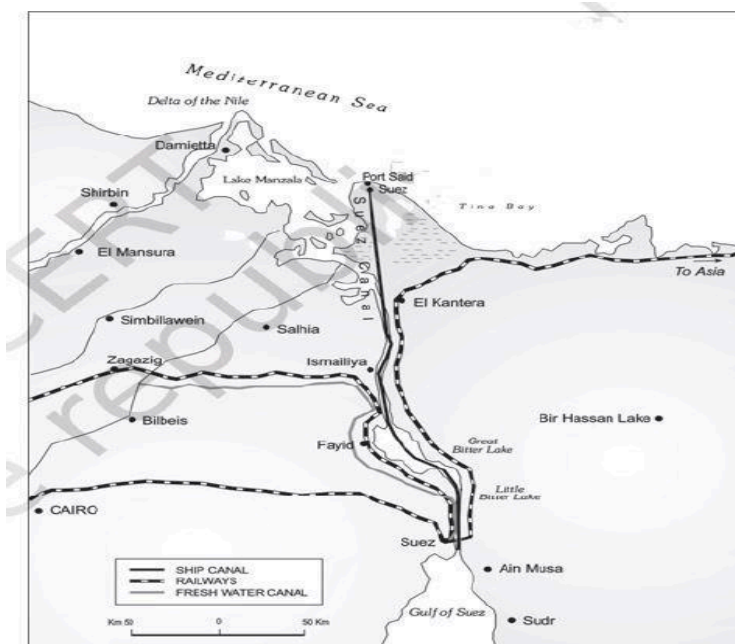
SECTION -B

प्रश्न 18 और 19 स्रोत आधारित प्रश्न हैं।

Q 18 and 19 are source based questions.

नीचे दिए गए मानचित्र का अध्ययन करें और उसके बाद आने वाले प्रश्नों के उत्तर दें।

Study the map given below and answer the questions that follow.



अ- मानचित्र में दिखाए गए नहर का नाम बताएं।

ब- यह किस देश में स्थित है

स- इस नहर से जुड़े दो समुद्रों के नाम बताइए।

a. Name the canal shown in the map.

b- In which country it is located

c- Name the 2 seas connected by this canal.

Q18. के स्थान पर निम्नलिखित प्रश्न केवल दृष्टिबाधित अभ्यर्थियों के लिए हैं

अ- उस नहर का नाम बताएं जो बंदरगाह सईद और बंदरगाह स्वेज को जोड़ती है

ब- यह किस देश में स्थित है?

स- इस नहर से जुड़े दो समुद्रों के नाम बताइये

The following questions are for visually impaired candidates only in lieu of question Number 18

a Name the canal which connects port Said and port Suez.

b In which country it is located?

c Name the two seas connected by this canal.

Q19. नीचे दिए गए स्रोत को पढ़ें और उसके बाद आने वाले प्रश्नों के उत्तर दें

नियोजन शब्द आपके लिए नया नहीं है क्योंकि यह रोजमर्रा के उपयोग का एक हिस्सा है, आपने इसका उपयोग अपनी परीक्षा की तैयारी या किसी हिल स्टेशन की यात्रा के संदर्भ में किया होगा। इसमें किसी लक्ष्य को प्राप्त करने के लिए सोचने की प्रक्रिया, एक योजना या कार्यक्रम तैयार करना और कार्यों के एक सेट को लागू करना शामिल है। हालाँकि यह एक बहुत व्यापक शब्द है, इसका उपयोग आर्थिक विकास की प्रक्रिया के संदर्भ में किया गया है। इस प्रकार यह पारंपरिक हिट और मिस तरीकों से अलग है जिसके द्वारा सुधार और पुनर्निर्माण अक्सर किए जाते हैं। आम तौर पर योजना बनाने के दो दृष्टिकोण होते हैं। इ। खंडीय योजना और प्रादेशिक योजना। खंडीय नियोजन का अर्थ है अर्थव्यवस्था के विभिन्न खण्डों, जैसे कृषि, सिंचाई विनिर्माण, बिजली निर्माण, परिवहन, संचार, सामाजिक बुनियादी ढांचे और सेवाओं के विकास के उद्देश्य से योजनाओं या कार्यक्रमों के सेट का निर्माण और कार्यान्वयन।

अ- नियोजन प्रक्रिया में उन क्षेत्रों का विशेष ध्यान रखना होगा जो पिछड़े रह गये हैं

i. मैं- सामाजिक रूप से,

ii- राजनीतिक रूप से

iii- सांस्कृतिक रूप से

iv- आर्थिक दृष्टि से।

ब- क्षेत्रीय और सामाजिक असमानताओं को बढ़ने से रोकने के लिए योजना आयोग ने शुरुआत की

i- सतत विकास

ii- लक्ष्य क्षेत्र और लक्ष्य समूह दृष्टिकोण

iii- कमान क्षेत्र विकास दृष्टिकोण।

iv- आर्थिक आधार का विविधीकरण।

स- लघु किसान विकास एजेंसी (एसएफडीए) और सीमांत किसान विकास एजेंसी (एमएफडीए) इसके उदाहरण हैं

i-लक्ष्य क्षेत्र कार्यक्रम

ii- निवेश कार्यक्रम

iii- अवसंरचना विकास कार्यक्रम

iv- लक्ष्य समूह कार्यक्रम।

Read the source given below and answer the questions that follow

The word planning is not new to you as it is a part of everyday usage you must have used it with reference to preparation for your examination or visit to a hill station. It involves the process of thinking, formulation of a scheme or programme and implementation of a set of actions to achieve some goal. Though it is a very broad term, It has been used with reference to the process of economic development. It is thus different from the traditional hit and miss methods by which reforms and reconstruction are often undertaken .Generally there are two approaches to planning i. e. sectoral planning and regional planning. Sectoral planning means formulation and implementation of the sets of schemes or programmes aimed at development of various sectors of the economy, such as agriculture, irrigation manufacturing, power construction transport communication social infrastructure and services.

a- The planning process has to take special care of those areas which have remained backward

i- Socially,

ii- Politically

iii- Culturally

iv- Economically.

- b- In order to arrest the accentuation of regional and social disparities the Planning Commission introduced
- i- Sustainable development
 - ii- Target area and Target group approaches
 - iii- Command area development approach.
 - iv- Diversification of economic base.
- c- The small farmers development agency(SFDA)and marginal farmers development agency (MFDA)are the examples of
- i-Target area programme
 - ii- Investment programme
 - iii- Infrastructure development programme
 - iv- Target group programme.

SECTION C

प्रश्न संख्या 20 से 23 लघु उत्तरीय प्रश्न हैं।

Question numbers 20 to 23 are short answer type questions.

Q20. संचार के क्षेत्र में इंटरनेट के तीन लाभ बताइये

Describe 3 advantages of Internet in the field of communication

Or

"पर्यटन" को परिभाषित करते हुए पर्यटन को प्रभावित करने वाले किन्हीं दो कारकों को लिखिए

Define "Tourism" write down any 2 factors that influence tourism

Q21. "भारतीय ग्रामीण घरों के प्रकार और उनकी निर्माण सामग्री क्षेत्रीय विशिष्टताएं और स्थानीय प्रभाव दर्शाती है" किसी भी 3 उदाहरणों के साथ इस कथन का समर्थन करें।

"Indian rural house types and their building materials show regional distinctions and local influences" Support this statement with any 3 examples.

Q22. भारत में लोग रेलवे से यात्रा करना क्यों पसंद करते हैं? कोई तीन कारण स्पष्ट कीजिए।

Why do people in India prefer to travel by railways. Explain any 3 reasons.

Or

भारत में सड़क परिवहन रेल परिवहन से अधिक महत्वपूर्ण क्यों है? कोई तीन कारण स्पष्ट कीजिए।

Why is road transport in India more important than rail transport? Explain any 3 reasons.

Q23. "प्रकृति और मनुष्य अविभाज्य तत्व हैं"। उपयुक्त उदाहरणों सहित कथन की पुष्टि कीजिए।

“Nature and humans are inseparable elements”. Justify the statement with suitable examples.

SECTION D

प्रश्न संख्या 24 से 28 तक दीर्घ उत्तरीय प्रश्न हैं।

Question numbers 24 to 28 are Long answer type questions.

Q24. मानव विकास के चार दृष्टिकोणों का वर्णन करें। प्रोफेसर अमर्त्य सेन द्वारा सामने लाए गए मानव विकास के पहलू पर प्रकाश डालें।

Describe 4 approaches to human development. Highlight the aspect of human development brought forward by Prof. Amartya Sen.

Q25. आदिम निर्वाह खेती और गहन निर्वाह खेती के बीच अंतर बताएं।

Give difference between Primitive subsistence farming and Intensive subsistence farming.

Q26. जनसंख्या वृद्धि का क्या अर्थ है भारतीय जनसांख्यिकीय इतिहास के चार चरणों में से प्रत्येक चरण की दो मुख्य विशेषताओं का वर्णन करें।

What is the meaning of population growth describe 2 main features each of the 4 phases of Indian demographic history.

Or

भारत में भाषाओं के 4 प्रमुख परिवार कौन से हैं, इनमें से प्रत्येक भाषा परिवार की 2 विशेषताएँ लिखें।

Which are the 4 major families of languages in India write 2 characteristics of each of these language families.

Q27. उन कृषि तकनीकों का वर्णन करें जो खेती योग्य भूमि की उत्पादकता में सुधार करने में मदद कर सकती हैं।

Describe the agricultural techniques which could help to improve the productivity of cultivated land.

Or

भारत में कृषि उत्पादकता अभी भी कम क्यों है? 5 मुख्य कारण लिखिए।

Why is agricultural productivity still low in India? Write 5 main reasons.

Q28. प्रवासन क्या है? शहरी क्षेत्रों में तीव्र प्रवासन के प्रमुख कारण क्या हैं?

What is Migration? What are the major causes of rapid migration to the urban areas?

Or

वायु प्रदूषण के कारण एवं परिणाम बताइये।

Explain the causes and consequences of air pollution.

SECTION E

प्रश्न संख्या 29 और 30 मानचित्र आधारित प्रश्न हैं जिनमें प्रत्येक में 5 उप-भाग हैं।

Question numbers 29 and 30 are map based questions having 5 sub-parts each.

Q29. विश्व के दिए गए राजनीतिक मानचित्र पर, सात भौगोलिक विशेषताओं को ए, बी, सी, डी, ई, एफ और जी के रूप में चिह्नित किया गया है। निम्नलिखित जानकारी की सहायता से किन्हीं पांच को पहचानें और उनके सही नाम पास खींची गई रेखाओं पर लिखें। प्रत्येक सुविधा.

अ- एक प्रमुख बंदरगाह.

ब- एक अंतरराष्ट्रीय हवाई अड्डा.

स- एक महत्वपूर्ण समुद्री मार्ग

द- दक्षिण अमेरिका में निर्वाह संग्रहण का एक क्षेत्र।

ई- एशिया का एक महत्वपूर्ण बंदरगाह.

फ- खानाबदोश पशुपालन का एक क्षेत्र

ज- व्यापक वाणिज्यिक अनाज कृषि का क्षेत्र

On the given political map of the World, seven geographical features have been marked as A, B, C, D, E, F and G. Identify any five with the help of the following information and write their correct names on the lines drawn near each feature.

a. A major seaport.

b. An international airport.

c. An important Seaway

d. An area of subsistence gathering in South America.

e. An important seaport of Asia.

f. An area of Nomadic Herding

g. Region of extensive commercial grain agriculture

प्रश्न संख्या 29 के स्थान पर निम्नलिखित प्रश्न केवल दृष्टिबाधित अभ्यर्थियों के लिए हैं।

निम्नलिखित में से किन्हीं पाँच प्रश्नों के उत्तर दीजिए:

अ- अफ्रीका के सबसे दक्षिणी सिरे पर स्थित एक प्रमुख बंदरगाह का नाम बताइए।

ब- इटली के एक महत्वपूर्ण अंतरराष्ट्रीय हवाई अड्डे का नाम बताइए।

स- उत्तरी अमेरिका में कौन सी नदी ग्रेट लेक्स को अटलांटिक महासागर से जोड़ती है?

द- दक्षिण अमेरिका में निर्वाह संग्रहण के एक क्षेत्र का नाम बताइए।

इ- चीन के एक महत्वपूर्ण बंदरगाह का नाम बताइये।

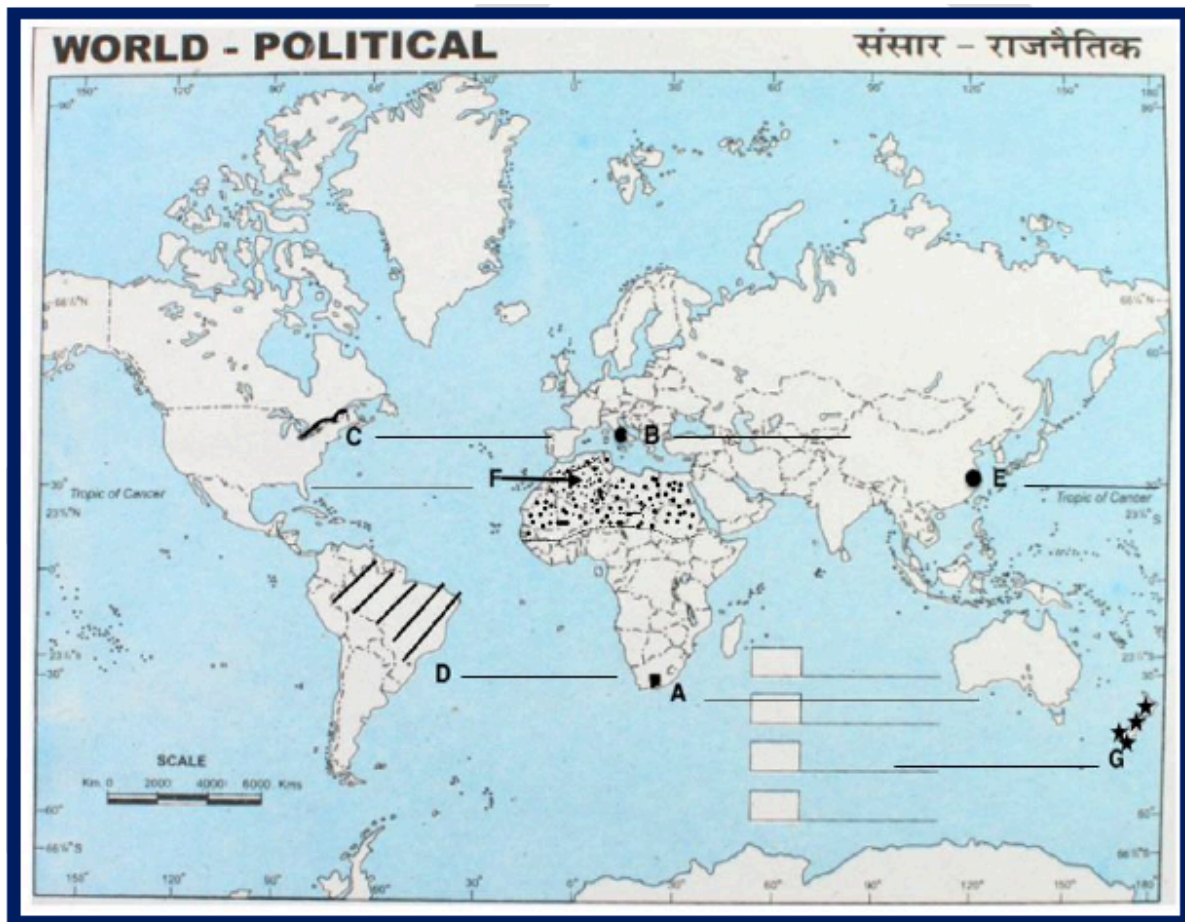
फ- उत्तरी अफ्रीका में खानाबदोश चरवाहे के एक क्षेत्र का उल्लेख करें।

ज- न्यूजीलैंड में व्यापक वाणिज्यिक अनाज कृषि के क्षेत्र का नाम बताइए।

The following questions are for Visually Impaired Candidates only in lieu of Question No.29.

Answer any five questions out of the following:

- Name a major seaport situated at the southernmost tip of Africa.
- Name an important international airport of Italy.
- Which river in North America connects the Great Lakes to the Atlantic Ocean?
- Name an area of subsistence gathering in South America.
- Name an important seaport of China.
- Mention an area of nomadic herding in North Africa.
- Name the area of extensive commercial grain agriculture in New Zealand.

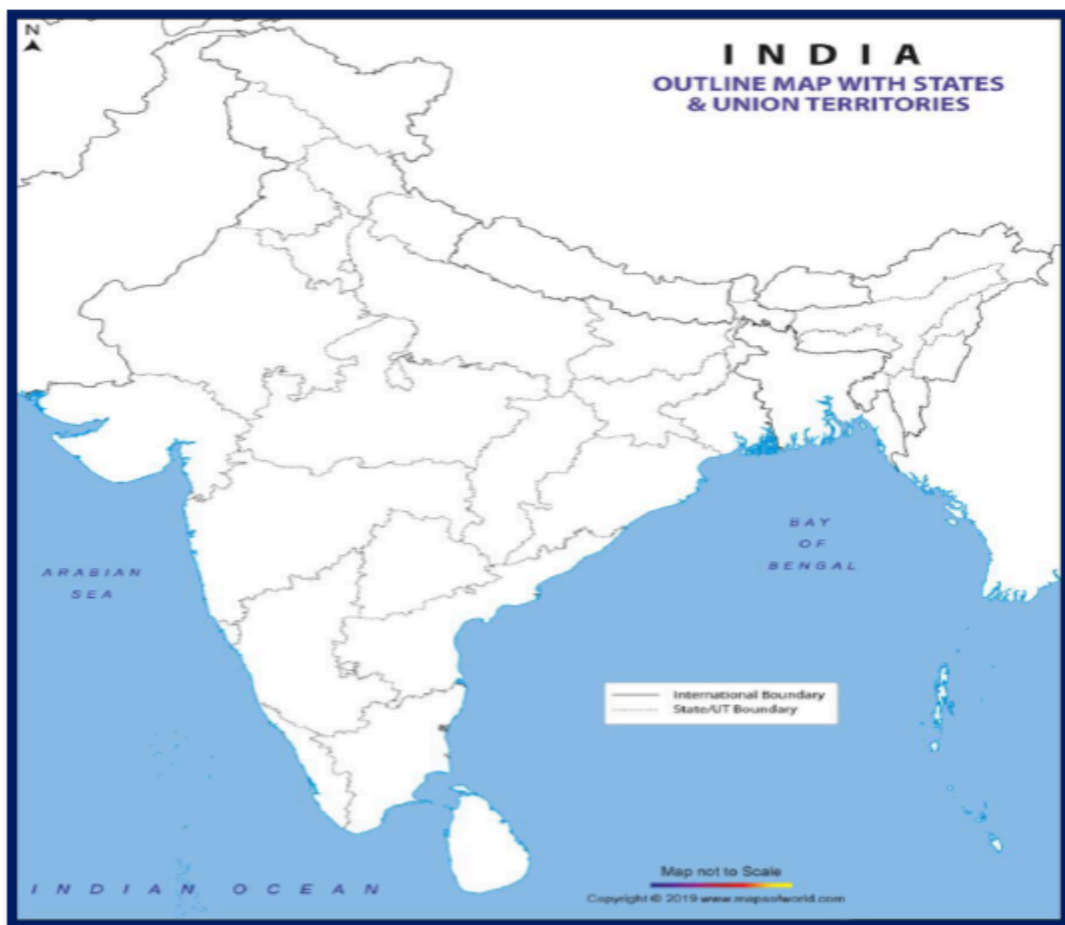


Q30. भारत के राजनीतिक रूपरेखा मानचित्र पर निम्नलिखित में से किन्हीं पांच भौगोलिक विशेषताओं को उपयुक्त प्रतीकों के साथ ढूँढ़ें और लेबल करें:

- अ- महाराष्ट्र का एक महत्वपूर्ण बंदरगाह।
- ब- तमिलनाडु में एक महत्वपूर्ण कोयला खदान।
- स- बैलाडिला - लौह अयस्क की खदानें।
- द- उत्तर प्रदेश में एक तेल रिफाइनरी।
- ई- सबसे कम जनसंख्या घनत्व वाला राज्य।
- फ- जूट के उत्पादन में राज्य अग्रणी।
- ज- केरल में एक अंतरराष्ट्रीय हवाई अड्डा।

Q30. Locate and label any five of the following geographical features on the Political Outline map of India with appropriate symbols:

- a. An important seaport in Maharashtra.
- b. An important coal mine in Tamil Nadu.
- c. Bailadila - iron ore mines.
- d. An oil refinery in Uttar Pradesh.
- e. The state with lowest population density.
- f. The state leading in the production of jute.
- g. An international airport in Kerala.



प्रश्न संख्या 30 के स्थान पर निम्नलिखित प्रश्न दृष्टिबाधित छात्रों के लिए हैं। किन्हीं पाँच का प्रयास करें।

अ- महाराष्ट्र में एक महत्वपूर्ण बंदरगाह का नाम बताइए।

ब- तमिलनाडु की एक महत्वपूर्ण कोयला खदान का नाम बताइये।

स- बैलाडिला लौह अयस्क खदानें किस राज्य में स्थित है?

द- उत्तर प्रदेश में एक तेल रिफाइनरी का नाम बताइये।

ई- सबसे कम जनसंख्या घनत्व वाले राज्य का नाम बताइये।

फ- जूट के उत्पादन में अग्रणी राज्य का नाम बताइये।

ज- केरल में अंतरराष्ट्रीय हवाई अड्डे का नाम बताएं।

The following questions are for visually impaired students in lieu of Question No.30. Attempt any five.

a- Name an important seaport in Maharashtra.

b- Name an important coal mine in Tamil Nadu.

c- In which state is Bailadila iron ore mines located?

d- Name an oil refinery in Uttar Pradesh.

e- Name the state with lowest population density.

f- Name the state leading in the production of jute.

g- Name the international airport in Kerala.