

**SOAL PILIHAN GANDA**

Pilihlah salah satu jawaban yang benar!

1. Perhatikan beberapa pernyataan berikut :

- (1) Meningkatnya korban kecelakaan lalu lintas di jalan tol.
- (2) Globalisasi memicu perilaku hedonisme dan konsumerisme.
- (3) Minimnya budaya gotong royong dan semangat kekeluargaan di kota.
- (4) Konflik sosial akibat perbedaan budaya di masyarakat majemuk.
- (5) Pemanfaatan potensi alam dengan menggunakan teknologi tepat guna.

Dari pernyataan di atas, yang merupakan obyek kajian sosiologi adalah nomor ....

- A. 1), 2), dan 3)
- B. 1), 3), dan 4)
- C. 2), 3), dan 4)
- D. 2), 4), dan 5)
- E. 3), 4), dan 5)

2. Pemerintah akan melaksanakan pemberdayaan masyarakat nelayan di pesisir pantai daerah X agar kesejahteraannya meningkat. Sebelum merencanakan program tersebut, pemerintah meminta bantuan untuk menyediakan data-data mengenai permasalahan dan kebutuhan nelayan di daerah X.

Berdasarkan deskripsi tersebut, fungsi kajian sosiologi adalah ....

- A. merencanakan program pembangunan
- B. mengevaluasi program pembangunan
- C. menjadi dasar pembuatan keputusan
- D. memecahkan permasalahan sosial
- E. menjadi sarana penelitian social

3. Ibu menasehati adik agar ikut membawa alat-alat untuk memasak ke sekolah seperti teman sekelompoknya. Pada mulanya adik keberatan karena menganggap merepotkan jika harus membawa kompor ke sekolah, walau akhirnya ia menuruti nasehat ibu. Ilustrasi tersebut menjelaskan fungsi nilai sebagai ....

- A. pemaksa individu dalam berperilaku
- B. pembentuk solidaritas dalam kelompok
- C. pemberi sanksi pada perilaku menyimpang
- D. pengatur cara berpikir individu untuk hidup
- E. penerjemah dalam pelaksanaan norma sosial

4. Perhatikan pernyataan berikut!

- (1) Sebagai tempat sosialisasi paling dini.
- (2) Merupakan sarana transmisi ilmu dan teknologi.
- (3) Sebagai pembentukan kepribadian individu.
- (4) Menanamkan nilai-nilai dasar kehidupan.
- (5) Sebagai wadah aktualisasi diri di luar keluarga.

Dari pernyataan di atas, yang merupakan penerapan dari tujuan media sosialisasi primer adalah nomor ....

- A. 1), 2), dan 3)
- B. 1), 3), dan 4)
- C. 2), 3), dan 4)
- D. 2), 4), dan 5)
- E. 3), 4), dan 5)

5. Kedua orang tua Bimo adalah pebisnis yang sibuk. Tidak jarang kedua orang tuanya harus keluar kota untuk mengurus bisnis mereka. Akhirnya Bimo menjadi kurang kasih sayang dan terjerumus ke dalam penyalahgunaan narkoba.

Dari deskripsi di atas, menunjukkan hubungan antara proses sosialisasi dengan ....

- A. dasar pembentukan kepribadian seorang individu.
- B. penyimpangan sosial yang positif.
- C. penanaman nilai-norma sosial.
- D. penyerapan nilai norma yang tidak sempurna.
- E. penyerapan nilai-nilai budaya menyimpang.

6. Orang tua selalu mengajak anaknya untuk berkunjung ke rumah kerabatnya terutama saat hari raya Idul Fitri. Orang tua berkeinginan agar anaknya tetap menyambung silaturahmi dan terus mengenal para kerabat. Tujuan sosialisasi dalam hal ini adalah ....

- A. memperoleh peluang dibantu kerabat dalam hidupnya
- B. mendapatkan uang saku yang banyak saat berkunjung
- C. mengetahui status keluarga di antara para kerabat luas
- D. membanggakan keberhasilan keluarga kepada kerabat
- E. mengembangkan nilai afeksi anak pada kerabat keluarga

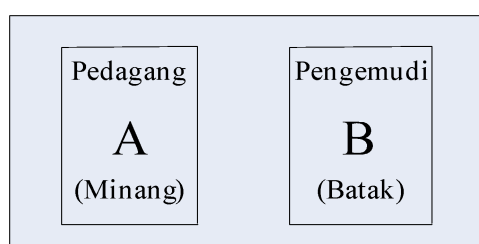
7. Seorang siswa melakukan proses penelitian sosial dengan cara mengamati fenomena di lapangan, mencari pola dari objek yang diamati kemudian menyusun kesimpulan tentang kondisi yang terjadi. Dilihat dari langkah-langkahnya jenis penelitian ini adalah...

- A. penelitian kuantitatif
- B. penelitian kualitatif
- C. penelitian eksperimen
- D. penelitian survei
- E. penelitian deskriptif

8. Guru memberikan ulangan bagi siswa-siswa di kelas untuk mengukur ketercapaian belajarnya. Dari hasil ulangan dapat dikelompokkan siswa yang sangat pandai, pandai, dan kurang pandai. Panji yang tadinya tergolong kelompok bawah dengan ketekunan belajarnya sekarang menjadi peringkat ketiga di kelas. Sifat stratifikasi seperti ilustrasi menunjukkan bahwa ....

- A. terjadi pembagian tiga kelompok secara berjenjang
- B. tingkat keberhasilan belajar siswa bersifat dinamis
- C. seorang siswa tidak mungkin turun hasil belajarnya
- D. juara kelas selalu siswa yang paling dekat dengan guru

- E. perubahan strata tergantung kevalidan alat ukurnya
9. Maraknya penggunaan *handphoneAndroid*(HP) di masyarakat mendorong peneliti melakukan penelitian tentang makna HP bagi remaja dengan obyek kajian peserta didik Sekolah Menengah Atas. Rumusan masalah yang tepat dalam penelitian ini adalah....
- Seberapa banyak siswa SMA yang menggunakan *handphone* ?
  - Bagaimana cara menggunakan *handphone* yang benar ?
  - Mengapa remaja banyak menggunakan *handphone* ?
  - Apa makna *handphone* bagi siswa SMA ?
  - Siapa sajakah yang menggunakan *handphone* dengan benar ?
10. Perhatikan gambar hubungan antarkelompok berikut!



- Konsekuensi dari struktur sosial seperti bagan di atas adalah ....
- muncul integrasi kelompok yang satu terhadap yang lain
  - mudah dalam berkomunikasi karena saling sepaham
  - interaksi menimbulkan potensi konflik horizontal
  - kerjasama antarkeduanya membentuk kerukunan
  - terjadi peleburan budaya pada kedua kelompok
11. Perhatikan tabel : Mata pelajaran yang disukai siswa IPS

No	Mata pelajaran	Prosentase(%)
1	Bahasa Indonesia	20
2	Matematika	15
3	Geografi	10
4	Sosiologi	45
5	Ekonomi	10
	Jumlah	100

- Makna data dari tabel tersebut adalah ....
- kecintaan siswa pada suatu mata pelajaran tergantung gurunya
  - guru Bahasa Indonesia sangat bersemangat dalam mengajar para siswanya
  - Matematika menjadi pelajaran yang ditakuti baik IPS
  - 10% dari siswa IPS bercita-cita menjadi ahli di bidang Ekonomi
  - mata pelajaran favorit bagi siswa IPS adalah Sosiologi

12. Perhatikan beberapa pernyataan berikut ini !

- (1) Laporan penelitian ditulis setelah pelaksanaan penelitian
- (2) Laporan mengandung hasil manipulasi data
- (3) Dibuat secara singkat, jelas dan padat
- (4) Dibuat berdasarkan perintah pembimbing
- (5) Mendasarkan pada prinsip teoritis

Prinsip-prinsip yang menjadi dasar penyusunan laporan penelitian yaitu..

- A. 1,2 dan 3
- B. 1,2 dan 4
- C. 1,3 dan 5
- D. 2, 3 dan 4
- E. 3,4 dan 5

13. Para petani membentuk kelompok untuk bekerjasama (paguyuban) dalam upaya meningkatkan hasil panennya. Kelompok ini berubah menjadi koperasi petani yang bertujuan untuk menjadi wadah kegiatan para petani. Peran kelompok sosial terhadap para anggota sesuai ilustrasi tersebut adalah ....

- A. memberikan kebebasan petani menanam jenis tertentu
- B. menyediakan segala kebutuhan petani untuk bekerja
- C. mengendalikan harga dari hasil panen para petani
- D. meningkatkan peran masyarakat dalam pertanian
- E. menambah luas lahan petani yang membutuhkan

14. Perhatikan aktivitas sosial berikut!

- (1) Guru menegur siswa yang tidak mengerjakan tugasnya dengan benar
- (2) Ketua RT tidak mau memberikan surat pengantar bagi warga yang malas kerja bakti
- (3) Ibu melarang adik bermain bersama teman jika malas untuk makan

Contoh tersebut dapat diselesaikan secara koersi dengan alasan ....

- A. dapat ditempuh jalan tengah untuk kedua pihak
- B. keinginan kedua pihak untuk mengurangi tuntutan
- C. penyimpangan tidak memiliki konsekuensi hukum
- D. dapat mempertemukan keinginan kedua pihak
- E. menghentikan dengan segera suatu penyimpangan

15. Perhatikan pernyataan berikut!

- (1) Badan Usaha Milik Negara (BUMN)
- (2) Persatuan Guru Republik Indonesia (PGRI)
- (3) Keluarga besar Martoyu dan Suromenggolo
- (4) Rukun Tetangga / Rukun Warga (RT / RW)
- (5) Perkumpulan pecinta motor gede Karawang

Yang memiliki bentuk ikatan *Gemeinschaft* atau paguyuban menurut Ferdinand Tonnies adalah ....

- A. (1), (2), dan (3)

- B. (1), (2), dan (4)
- C. (1), (3), dan (5)
- D. (2), (4), dan (5)
- E. (3), (4), dan (5)

16. Perhatikan pernyataan berikut

- (1) Pelecehan seksual yang marak terjadi di dalam angkutan kota
- (2) Aksi kebut-kebutan di jalan raya pada malam hari oleh remaja
- (3) Penggunaan HP dalam angkutan sepeda motor dan mobil
- (4) Bocoran kunci jawaban ujian sekolah
- (5) Minimnya pemakaian kompor gas LPG di pedesaan.

Berdasarkan pernyataan diatas, Yang tergolong masalah sosial ditunjukkan nomor ...

- A. 1), 2), dan 3)
- B. 1), 2), dan 4)
- C. 1), 2), dan 5)
- D. 1), 3), dan 5)
- E. 1), 4), dan 5)

17. Masyarakat desa yang sebagian berprofesi yang sama (petani), dan berasal dari suku bangsa yang sama akan mendorong proses integrasi yang lebih kuat dibandingkan dengan masyarakat kota. Faktor yang menentukan integrasi sosial pada masyarakat desa adalah.....

- A. jumlah penduduk yang banyak,
- B. mobilitas sosial yang bergerak cepat
- C. homogenitas masyarakat
- D. heterogenitas masyarakat
- E. jaringan komunikasi

18. Banyak remaja yang menyukai budaya populer dibandingkan budaya tradisional terutama di perkotaan. Hal ini menarik perhatian peneliti untuk mengkaji kenyataan tersebut. Ia mencoba mengetahui pendapat mereka tentang budaya pop dan budaya tradisional. Peneliti memutuskan untuk menggunakan metode survei dalam penelitiannya karena ....

- A. mencari latar belakang timbulnya keengganan terhadap budaya tradisional
- B. menggunakan siswa yang banyak jumlahnya untuk memperoleh data
- C. mengetahui persaingan antara budaya pop dengan budaya tradisional
- D. membandingkan remaja yang suka budaya pop dengan tradisional
- E. penggemar budaya tradisional yang masih remaja hanya sedikit jumlahnya

19. Perhatikan pernyataan di bawah ini :

- (1) Yanius berasal dari suku bangsa Papua, sedangkan Tono berasal dari suku Jawa
- (2) Pengusaha sukses yang berdomisili di perumahan elit, Pedagang keliling tinggal di kampung kumuh
- (3) H. Ichsan yang taat dalam menjalankan agama Islam. Yohanes sebagai pastur.
- (4) Keturunan Sri Sultan Hamengkubuwono menjadi gubernur di DI Yogyakarta.

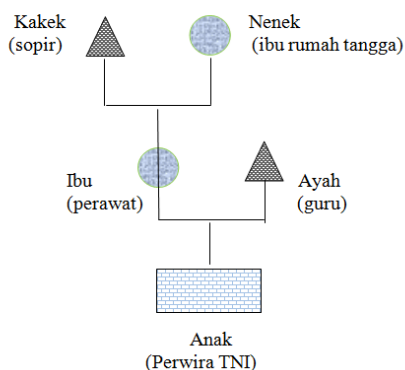
(5) Sebagian besar, masyarakat Indonesia tergolong ras Mongoloid

Berdasarkan pernyataan diatas, yang tergolong diferensiasi ditunjukkan oleh nomor ....

- A. 1), 2), dan 3)
- B. 1), 2), dan 4)
- C. 1), 3), dan 5)
- D. 2), 3), dan 4)
- E. 3), 4), dan 5)

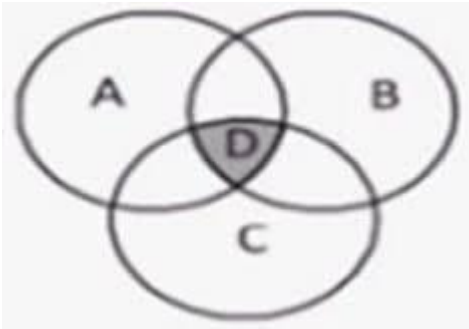
20.

Perhatikan bagan Mobilitas Sosial berikut ini :



Berdasarkan bagan di atas, maka mobilitas sosial yang terjadi dalam keluarga tersebut adalah mobilitas ....

- A. intragenerasi turun
  - B. antargenerasi naik
  - C. intergenerasi turun
  - D. antargenerasi turun
  - E. intragenerasi naik.
21. Husni anak seorang hakim. Pada suatu hari Husni terlibat penganiayaan terhadap temannya yang berakibat fatal, sehingga keluarga korban menuntut secara hukum di pengadilan. Kebetulan hakim yang menangani kasus ini adalah ayah Husni sendiri. Menghadapi hal demikian, ayah Husni mengalami konflik.....
- A. antarpribadi
  - B. antargolongan
  - C. antarkelas
  - D. antargenerasi
  - E. antar struktur sosial
22. Interseksi sosial dalam masyarakat Multikultur adalah hal yang sangat baik untuk mewujudkan integrasi sosial. Proses interseksi bisa digambarkan dalam bagan berikut ini



Poses interseksi ditunjukkan oleh bidang yang diarsir (D), penjelasan yang paling tepat untuk mendeskripsikan bidang D adalah

- A. Perbedaan suku bangsa dan agama
- B. Persaingan yang ketat antar kelompok masyarakat
- C. Faktor pengikat atau pemersatu dari perbedaan suku, ras, budaya dalam masyarakat
- D. Konflik yang bernuansa SARA sehingga bidangnya diarsir dengan warna hitam
- E. Integrasi sosial yang berhasil diwujudkan dalam masyarakat

23. Perhatikan pernyataan berikut ini

- (1) Penjual Nasi Padang Minangkabau berpindah lokasi berjualan di Jakarta
- (2) Tono, PNS Surabaya yang dimutasi ke Jakarta
- (3) Ali lolos seleksi mahasiswa Perguruan Tinggi Negeri
- (4) Ali karena prestasinya mendapatkan Kenaikan pangkat
- (5) Karena mengikuti transmigrasi, Yanto menjadi petani yang sukses

Berdasarkan pernyataan tersebut diatas, yang tergolong mobilitas sosial horizontal ditunjukkan nomor....

- A. 1) dan 2)
- B. 2) dan 3)
- C. 3) dan 4)
- D. 3) dan 5)
- E. 4) dan 5)

24. Munculnya gejala sosial di masyarakat tidak selalu identik dengan hal-hal yang negatif. Ada juga gejala sosial yang bersifat positif. Adapun gejala sosial yang positif adalah....

- A. Peningkatan arus urbanisasi dari daerah Pacitan ke Surabaya
- B. Merebaknya penggunaan obat tradisional oleh masyarakat modern
- C. Perbaikan jalan oleh dinas pekerjaan umum menjelang Lebaran
- D. Tingginya tingkat konsumsi masyarakat yang hidup di perkotaan
- E. Tingginya penggunaan kendaraan bermotor di kalangan remaja

25. Perhatikan pernyataan-pernyataan berikut ini!

- (1) Berlangsung dalam kurun waktu yang lama
- (2) Terjadi secara bertahap
- (3) Menimbulkan perubahan secara mendasar
- (4) Berdampak luas dalam kehidupan bermasyarakat

Dari pernyataan-pernyataan tersebut, yang termasuk bentuk perubahan sosial secara evolutif adalah.....

- A. 1 dan 2
- B. 1 dan 3
- C. 1 dan 4
- D. 2 dan 3
- E. 2 dan 4

26. Perhatikan pernyataan-pernyataan berikut!
- (1) Pendidikan formal yang maju dan tinggi
  - (2) Iklim yang menyenangkan bagi media masa
  - (3) Sikap vested interest golongan penguasa
  - (4) Pandangan hidup berorientasi ke masa yang akan datang
  - (5) Tidak menghargai adanya prestasi dan karya seseorang

Yang merupakan faktor pendorong terjadinya perubahan sosial adalah....

- A. (1), (2), dan (3)
- B. (1), (2), dan (4)
- C. (1), (3), dan (5)
- D. (2), (4), dan (5)
- E. (3), (4), dan (5)

27. Cermatilah pernyataan di bawah ini !

- 1) Perubahan sosial merupakan perubahan yang diulang-ulang
- 2) Perubahan sosial yang tidak dapat diarahkan pada suatu titik tertentu
- 3) Perubahan yang ditujukan pada suatu titik tertentu
- 4) Perubahan sosial yang dilakukan secara bertahap

Pernyataan diatas yang merupakan pengertian teori siklus adalah....

- A. 1) dan 2)
- B. 1) dan 3)
- C. 2) dan 3)
- D. 2) dan 4)
- E. 3) dan 4)

28. Proses globalisasi tidak hanya membawa dampak positif, tetapi juga membawa akibat perilaku hidup bersenang-senang tanpa memperdulikan lingkungan sekitar. Dampak negatif perilaku tersebut ditinjau dari sudut sosiologis adalah ....

- A. memudarnya jati diri keutuhan masyarakat Indonesia
- B. maraknya penggunaan gadget di kalangan remaja
- C. transformasi budaya barat menjadi mainstream publik
- D. berkembangnya sifat individualis dalam masyarakat
- E. masyarakat mengadopsi budaya Barat sebagai gaya hidup

29. Perhatikan pernyataan berikut ini!

- (1) Alih ilmu pengetahuan dan teknologi
- (2) Meningkatkan kesejahteraan masyarakat
- (3) Kepedulian terhadap bahaya ekologi global meningkat
- (4) Berkembangnya paham individualisme
- (5) Terjadinya degradasi moral di kalangan remaja

Yang merupakan dampak positif globalisasi adalah....

- A. 1), 2), dan 3)
- B. 1), 2), dan 4)
- C. 2), 3), dan 4)
- D. 2), 3), dan 5)
- E. 3), 4), dan 5)

30. Perhatikan pernyataan berikut !

- (1) Mobil produksi Jepang dijual ke Indonesia
- (2) Seni karawitan dapat dinikmati masyarakat Amerika dan Perancis
- (3) Makanan cepat saji dari eropa dapat dinikmati masyarakat asia
- (4) Pergantian pemerintahan diharapkan dapat meningkatkan kesejahteraan masyarakat
- (5) Masyarakat menggunakan gas elpiji sebagai bahan bakar karena kelangkaan minyak tanah

Pernyataan-pernyataan yang menunjukkan fenomena globalisasi adalah....

- A. 1), 2), dan 3)
- B. 1), 2), dan 4)
- C. 1), 3), dan 5)
- D. 2), 4), dan 5)
- E. 3), 4), dan 5)

31. Globalisasi meningkatkan jaringan teknologi komunikasi yang tidak terbatas (*borderless*). Semua informasi dapat diakses individu dari mana saja dan kapan saja tanpa ada *filter* yang baik. Dampak negatif globalisasi dalam hal ini adalah ....

- A. para remaja senang mengakses informasi terbaru mengenai gaya hidup
- B. inovasi alat komunikasi berkembang untuk memenuhi kebutuhan masyarakat
- C. meningkatkan potensi konflik karena issue yang diekspos media sosial
- D. jaringan internet menjadi kebutuhan pokok di semua institusi
- E. masyarakat menggunakan alat komunikasi dalam kehidupan sehari-hari

32. Perhatikan pernyataan berikut!

- (1) Pengumpulan data keadaan
- (2) Pemilihan masalah yang akan dipecahkan
- (3) Analisis data keadaan
- (4) Perumusan tujuan-tujuan
- (5) Identifikasi masalah

Urutan yang benar dalam tahapan perencanaan program/kegiatan pemberdayaan komunitas adalah.....

- A. 1), 2), 3), 4), dan 5)
- B. 1), 3), 4), 5), dan 2)
- C. 1), 4), 5), 2), dan 3)
- D. 1), 3), 5), 2), dan 4)
- E. 1), 4), 2), 3), dan 5)



33. Perhatikan beberapa pernyataan berikut!
- (1) Negara dapat memenuhi kebutuhan hidup rakyat melalui perdagangan internasional
  - (2) Terjadinya kapitalisasi perusahaan negara oleh asing
  - (3) Transfer teknologi dari negara maju
  - (4) Memperluas pangsa pasar bagi produksi dalam negeri
  - (5) Terjadinya gaya hidup yang konsumtif

Yang termasuk dampak positif globalisasi dalam bidang ekonomi.....

- A. 1), 2), dan 3)
  - B. 1), 2), dan 4)
  - C. 2), 3), dan 5)
  - D. 1), 3), dan 4)
  - E. 3), 4), dan 5)
34. Anak perempuan di desa masih sulit mengakses pendidikan yang cukup tinggi. Di samping fasilitas yang kurang, mereka cenderung dinikahkan orang tuanya setelah lulus SMP bahkan SD. Faktor penghambat terjadinya perubahan sosial progresif sesuai ilustrasi tersebut adalah ....
- A. tingkat kemiskinan yang tinggi di desa
  - B. struktur sosial masyarakat sulit berubah
  - C. kemajuan teknologi tidak sampai di desa
  - D. tingginya harapan orang tua pada anak perempuan
  - E. keinginan untuk mengurangi beban ekonomi orang tua

35. Perhatikan beberapa pernyataan berikut!
- (1) Memperbaiki kualitas pendidikan
  - (2) Meningkatkan fasilitas kesehatan
  - (3) Melakukan pemberdayaan kelompok di masyarakat
  - (4) Terjadinya kemiskinan di daerah-daerah perkotaan
  - (5) Munculnya sikap apatis terhadap kehidupan

Yang merupakan upaya mengatasi ketimpangan sosial dalam meningkatkan kualitas penduduk adalah.....

- A. 1), 2), dan 3)
  - B. 1), 2), dan 4)
  - C. 2), 3), dan 5)
  - D. 1), 3), dan 5)
  - E. 3), 4), dan 5)
36. Perhatikan pernyataan di bawah ini!
- (1) Masyarakat Bali menyiapkan 4 (empat) nama untuk anaknya
  - (2) Melarang menebang pohon sebelum pohon berusia 5 tahun
  - (3) Hanya membolehkan mengambil ikan dengan kail dan jala
  - (4) Membolehkan pasar swalayan berdiri di pelosok daerah
  - (5) Mengadakan festival musik yang diikuti beberapa negara



Yang termasuk menjaga nilai kearifan lokal ditunjukkan nomor ....

- A. (1), (2), dan (3)
- B. (1), (2), dan (4)
- C. (1), (3), dan (5)
- D. (2), (3), dan (5)
- E. (3), (4), dan (5)

37. Perhatikan pernyataan berikut ini :

- (1) Kemajuan di bidang ilmu pengetahuan dan teknologi
- (2) Lembaga sosial tidak berfungsi secara optimal
- (3) Muncul nilai dan norma baru yang sesuai perkembangan zaman
- (4) Terjadi disorientasi nilai dan norma
- (5) Terbentuk struktur sosial baru

Yang merupakan dampak positif perubahan sosial adalah.....

- A. 1), 2), dan 3)
- B. 1), 2), dan 4)
- C. 1), 3), dan 5)
- D. 2), 3), dan 4)
- E. 3), 4), dan 5)

38. Di bawah ini merupakan pengaruh globalisasi di bidang budaya yaitu....

- A. Persaingan harga dan kualitas semakin tinggi sejalan dengan kebutuhan masyarakat
- B. Masuknya nilai-nilai bangsa barat yang ditiru bangsa lain melalui internet, parabola, dan lain-lain
- C. Hubungan internasional lancar, multi sentris, dan saling ketergantungan
- D. Menguatnya supremasi sipil menundukkan tentara dan polisi sebatas penjaga dan keamanan
- E. Kebebasan gerak para pekerja

39. Identifikasi masalah dalam perencanaan program pemberdayaan diperlukan untuk....

- A. Menganalisis data
- B. Memperoleh data untuk kegiatan analisis
- C. Merumuskan hal-hal yang tidak dikehendaki atau faktor-faktor yang menyebabkan tidak tercapainya tujuan yang dikehendaki
- D. Menentukan masalah, tujuan, dan cara mencapai tujuan atau kegiatan yang akan direncanakan
- E. Perumusan tujuan

40. Program PNPM Mandiri yang digalakkan oleh pemerintah merupakan salah satu upaya pemberdayaan masyarakat untuk membangun daerahnya. Kearifan lokal yang mendukung suksesnya program tersebut adalah.....
- A. Sikap ramah dan sopan masyarakat
  - B. Toleransi antarwarga
  - C. Saling menghormati
  - D. Gotong royong
  - E. Saling menghargai

### SOAL URAIAN

41. Fenomena perkelahian antarpelajar di kota-kota besar menimbulkan kerugian harta benda, rusaknya sarana prasana umum, bahkan korban jiwa. Identifikasikan bentuk-bentuk interaksi sosial asosiatif dan disosiatifnya!
42. Seorang peneliti akan melakukan penelitian tentang "Pengaruh Media Sosial Terhadap Perubahan Interaksi Remaja". Dalam pengambilan sampelnya peneliti memilih menggunakan teknik *random sampling* (sampel acak). Jelaskan yang dimaksud dengan teknik *random sampling*, dan uraikan 3 syarat yang harus dipenuhi dalam pengambilan sampel tersebut!
43. Didalam masyarakat terdapat berbagai kelompok sosial, diantaranya kelompok sosial in grup dan out grup. Berikan perbedaan antara kelompok sosial in grup dan out grup!
44. Perubahan sosial yang terjadi di dalam masyarakat dapat disebabkan oleh beberapa faktor. Identifikasikan minimal 3 faktor internal penyebab perubahan sosial!
45. Ketimpangan sosial dalam kehidupan masyarakat dapat menimbulkan masalah sosial yang beragam seperti munculnya kenakalan remaja. Jelaskan minimal 3 upaya yang dapat dilakukan untuk mengatasi kenakalan remaja tersebut!