



SUBDIRECCIÓN DE EDUCACIÓN PRIMARIA EN LA
REGIÓN DE ATLACOMULCO

CICLO ESCOLAR 2021-2022

PRIMER PERIODO



PRIMER GRADO

Nombre de la escuela: _____

Nombre del alumno: _____

Grupo: _____


INSTRUCCIÓN GENERAL: El examen debe ser dirigido por el docente, con el propósito de obtener información cualitativa que le permita conocer los elementos cognitivos del alumno.

ESPAÑOL

1. Escribe tu nombre con apellidos en la siguiente línea.

2. En los siguientes recuadros escribe el nombre de tres personas que empiezan igual que el tuyo.

3. Observa la imagen y escribe tres palabras que empiecen igual.



4. Une con líneas el lugar con la actividad que realizas.

Lugar

1. Escuela

2. Casa

Actividad

a)



b)



c)




d)



5. Es la imagen que muestra una sana convivencia en el aula.




A)



B)



C)



D)

6. Lee y elige la palabra que rima con **salón** para completar la calaverita.

A la hora del recreo

la calavera llegó al salón,

tenía mucha hambre

y se comió mi torta de _____.

A) queso

B) miel

C) jamón

D) frijoles

7. Selecciona la opción que contiene las palabras que completan el siguiente enunciado.

Al _____ polar le gusta comer _____ y nadar.

A) gato - ratones

B) oso - peces

C) león - cebras

D) cerdo - mazorcas

8. ¿Cuál de las siguientes palabras es más larga que **cartel**?

A) Papel

B) Pintura

C) Lápiz

D) Gis

9. ¿En cuál de los siguientes cuentos puedes leer acerca de un lobo que se quiere comer a tres cerditos?



A)



B)



C)



D)

10. Elige los enunciados que ayudan a recomendar un cuento.

1. Porque está roto
2. El cuento esta aburrido
3. Me gustó de que trata la historia
4. El título del cuento está interesante

















MATEMÁTICAS

La suma de $12 + 13$ es igual a 25

1. Escribe tres sumas diferentes que su resultado sea 25 .

2. Observa la imagen y responde las preguntas.

“Golosinas que prefieren los niños de 1º”

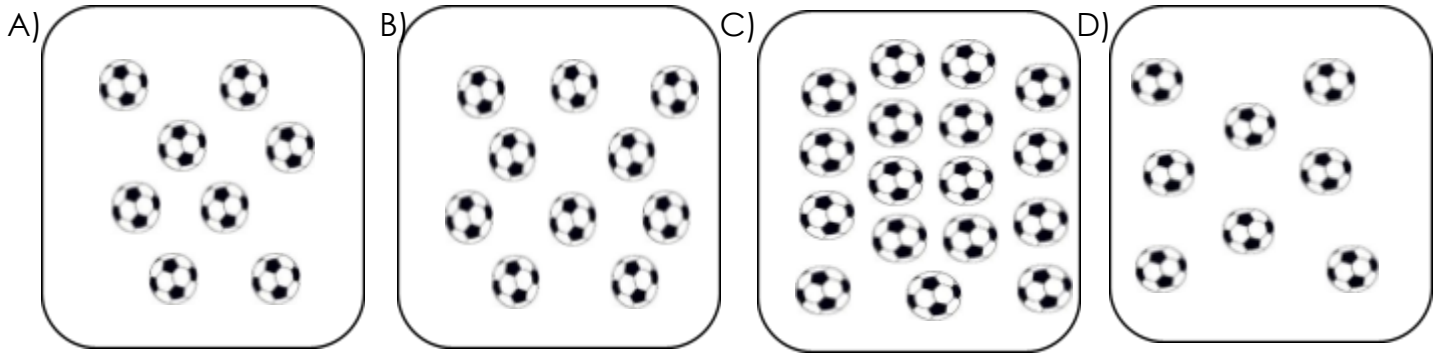
				
				
				
				
				
Paletas	Dulces	Helados	Papas	Galletas

a) ¿Cuál es la golosina de mayor preferencia? _____

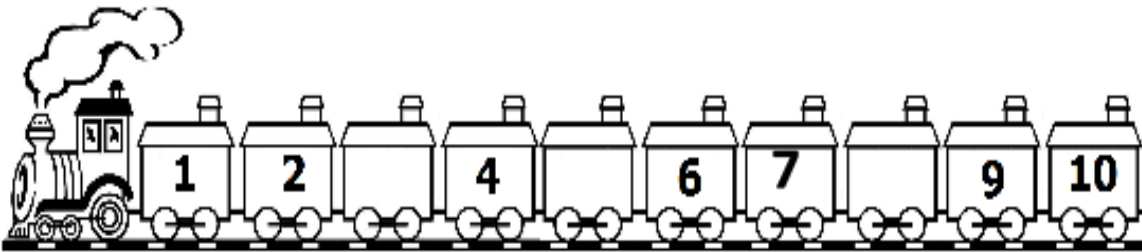
b) ¿Cuántos niños prefieren las paletas? _____

c) ¿Cuál es la golosina que prefieren tres niños? _____

3. ¿Cuál es la colección que tiene 17 elementos?



4. Los números que completan la siguiente serie son...



A) 3, 5, 8

B) 0, 3, 8

C) 5, 8, 11

D) 3, 5, 12

5. María le da de comer 10 zanahorias a su conejo, si sólo se come 5, ¿cuántas zanahorias le quedan?

A)

B)

C)

D)

6. Es la suma que da como resultado 30.


A) $10 + 15 + 2$

B) $15 + 3 + 12$

C) $20 + 11 + 2$

D) $25 + 2 + 1$

7. Numera del 1 al 4 las imágenes, desde lo que pasa primero hasta lo que pasa al final.



8. Relaciona correctamente con líneas las monedas y los precios de los helados.

Moneda

Helado

1.




2.



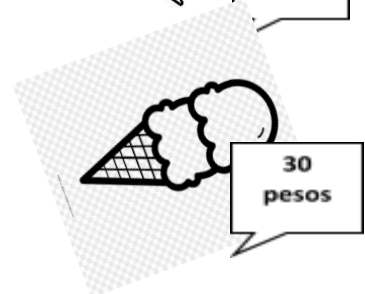
3.




a)




b)

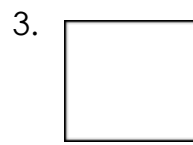
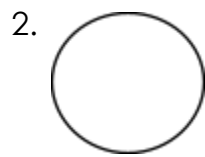
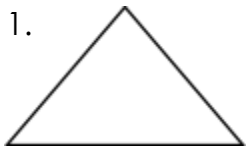


c)



9. Elige dos piezas que se necesitan para armar la siguiente figura.





10. Elige la opción que completa correctamente el siguiente problema.

Alejandro tenía 25 canicas y jugando perdió ____, por lo tanto ahora tiene 15.

A) 5

B) 7

C) 9

D) 10

CONOCIMIENTO DEL MEDIO

1. Escribe tres materiales que necesites para lavarte los dientes y así mantener tu salud bucal.

2. Elige las imágenes que ayudan al cuidado del medio ambiente.



1.



2.



3.



4.

3. Une con una línea la regla que sigues en tu salón con su imagen.

Regla

Imagen

1. Tirar la basura en el bote

a)



2. Pedir la palabra

b)



3. Utilizar el cubrebocas

c)

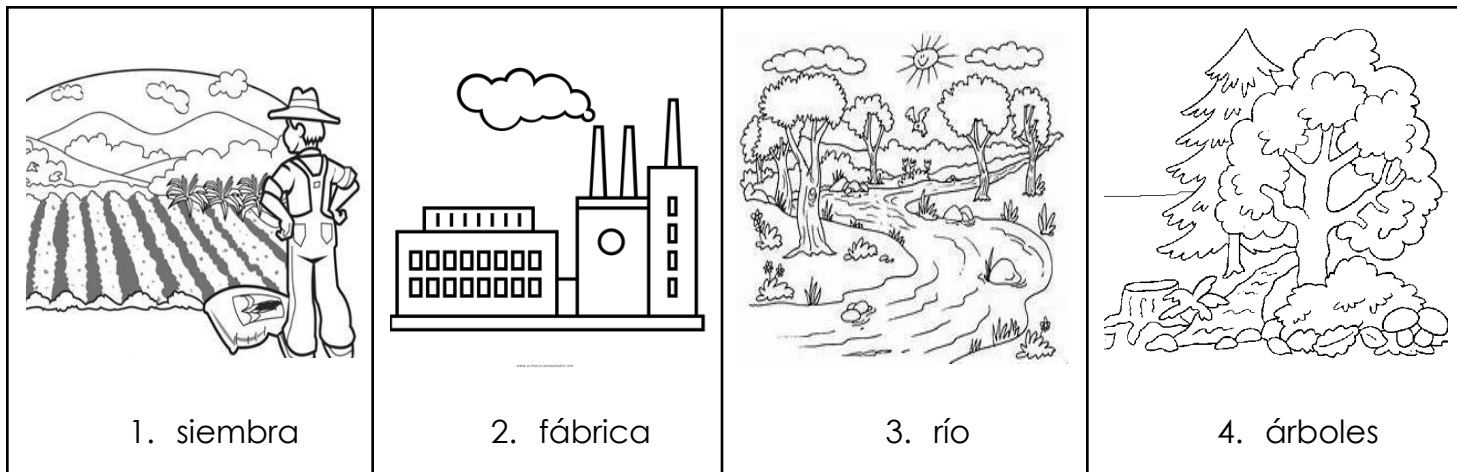


4. No gritar

d)



4. Elige las imágenes que tienen elementos naturales.



5. Selecciona la opción que contiene las palabras que completan el siguiente enunciado.

La _____ y el _____ son animales domésticos.

- A) rana - pato B) gallina - oso C) vaca - conejo D) jirafa - perro

FORMACIÓN CÍVICA Y ÉTICA

1. Escribe tres materiales que se requieren para prevenir la Covid-19 al asistir a la escuela.



2. ¿Cuál de los siguientes documentos contiene datos personales?



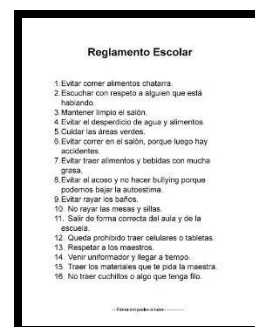
A)



B)



C)



D)

3. Une con líneas a las personas con sus características de acuerdo con las imágenes.

Persona	Característica
1.	• Mete goles
2.	• Usa lentes
	• Sonriente
	• Delgado

4. Ana estudió matemáticas y ciencias para esta actividad es de los...



A) delegados



B) compañeros



C) papás



D) maestros

5. Es la imagen que muestra una acción positiva.



A)



B)



C)



D)