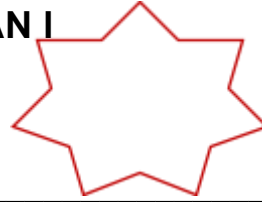


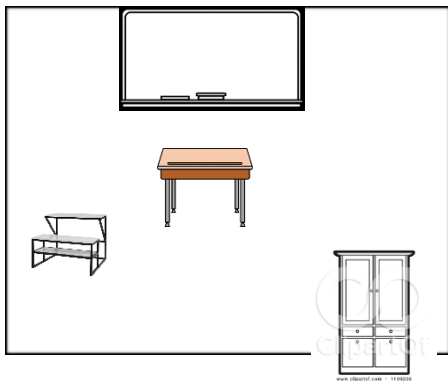


**IKA-A PAT MARKAHANG PAGSUSULIT**  
**ARALING PANLIPUNAN I**



Pangalan: \_\_\_\_\_ Score: \_\_\_\_\_

Panuto: Basahin at unawain. Bilugan ang letra ng tamang sagot.



1. Aling bagay ang malapit sa pisara?

- A. desk      B. mesa      C. cabinet


2. Ang pagitan o layo ng dalawang bagay ay tinatawag na \_\_\_\_\_.

- A. haba      B. mapa      C. distansya

3. Mula sa pisara, ang kabinet ang \_\_\_\_\_.

- A. pinakamalaki      B. pinakamalapit      C. pinakamalayo

4. Saang direksiyon nakaharap ang kabayo?

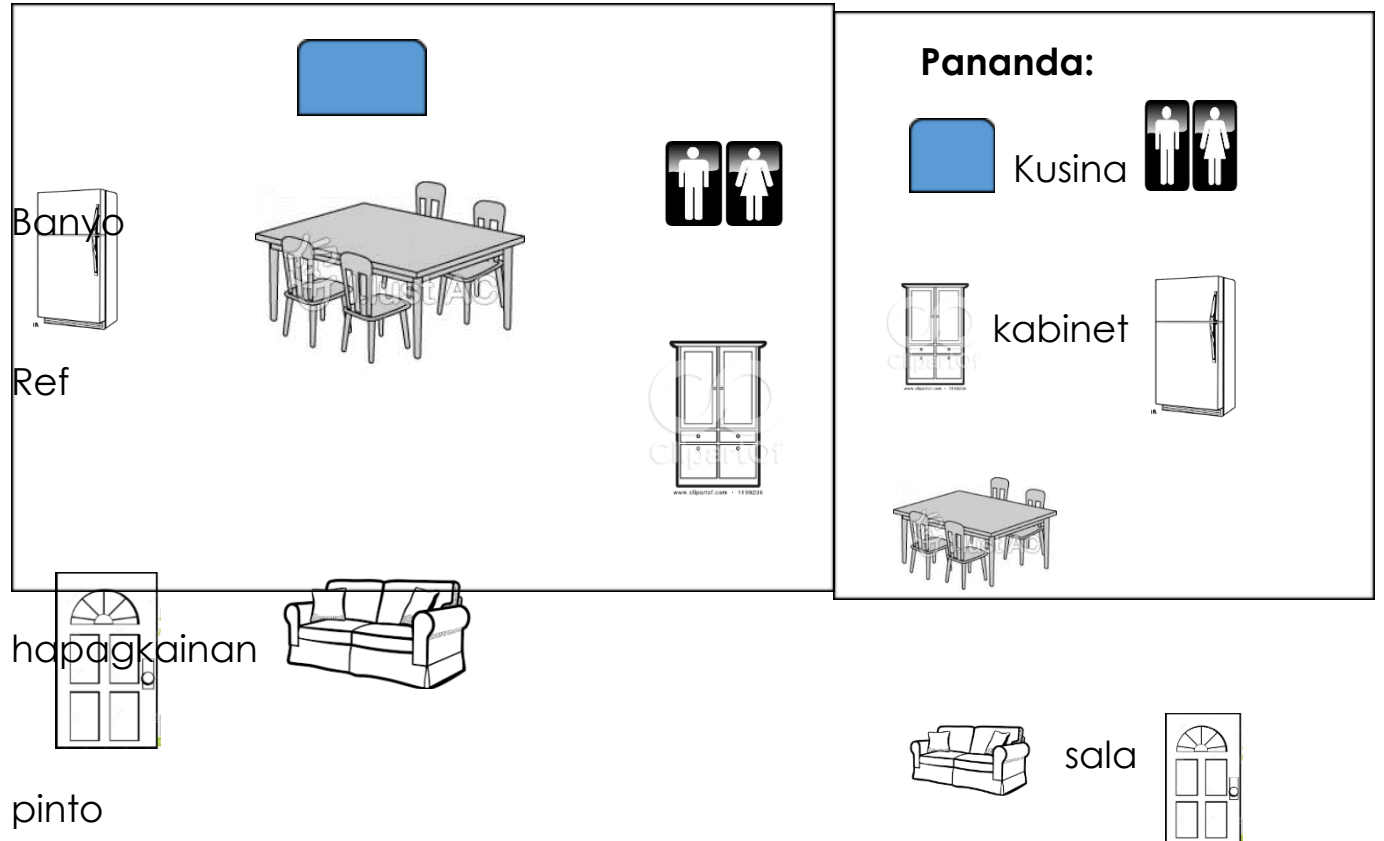


- A. Itaas      B. kanan      C. kaliwa

5. Alin ang wasto?

- A. Ang direksiyon ay panturo.
- B. Ang direksiyon ay walang pupuntahan.
- C. Ang direksiyon ay nakatutulong sa pagtukoy ng kinalalagyan ng isang bagay.

Pag-aralan ang mapa ng bahay. Sagutin ang tanong 6-10.



6. Ayon sa mapa, ang sala ay nasa harapan ng \_\_\_\_\_.

- A. pinto
- B. kabinet
- C. hapagkainan

7. Saan matatagpuan ang kabinet?

- A. itaas
- B. kanan
- C. kaliwa

1. Nasa dakong kaliwa ang \_\_\_\_\_.

A. Ref

B. banyo

C. cabinet

2. Nais mong maligo, saan dako ka pupunta?

A. kaliwa ng sala

B. likuran ng cabinet

C. harapan ng sala

10. Alin ang wasto?

A. Ang pinto ay nasa itaas

B. Ang pinto ay nasa kanan.

C. Ang pinto ay nasa kaliwa.

11. Alin ang istruktura o gusali ng mga bumbero?




12. Anong istruktura ang nasa larawan?

A. Ospital

B. Palengke

C. Pamilihan



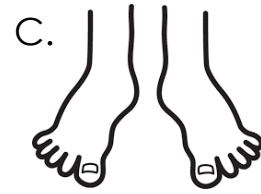

13. Saan bumibili ng pagkain ang mga mamamayan?

A. Ospital

B. Pamilihan

C. Sementeryo

14. Malapit lamang ang bahay mo sa paaralan. Alin ang mas makatutulong sayo upang makarating sa paralan?



15. Makakatulong ito upang makapunta sa isang lugar patungo sa iba pang lokasyon.

A. edukasyon

B. populasyon

C. transportasyon

16. Alin ang karaniwang nakikita sa daan patungo sa paaralan?

A. ilog

B. bundok

C. mga bahay




17. Alin ang makikita sa kapatagan?

A. puno

B. kubo

C. simbahan

Pag-aralan ang mapa ng paaralan

		Pananda:
		 silid-aralan
		 kantina
		 opisina
		 entablado

18. Aling gusali ang malapit sa silid-aralan?

A. kantina

B. opisina

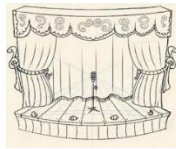
C. entablado

19. Alin ang pananda sa entablado?

A.



B.



C.



20. Ang opisina ng punongguro ay makikita sa \_\_\_\_\_.

A. tabi ng silid-aralan

B. harapan ng kantina

C. likuran ng entablado

21. Niyaya ka ng iyong mga kamag-aral na magsulat sa pader ng silid-aralan sa inyong paaralan. Ano ang dapat mong gawin?

A. Sumama sa kanila

B. Sumama sa kanila at manghikayat pa ng iba

C. Hindi sasama dahil nakasasama ito sa paaralan.

22. Kumakain kayong magpipinsan sa tabing ilog ng iba't ibang prutas.

Ano ang dapat gawin sa pinagkainan?

A. Iwanan ang balat ng mga prutas

B. Ipaanod ang balat ng prutas sa ilog

C. Ipunin ang mga balat ng pinagkainan at itapon sa tamang basurahan

23. Alin ang **HINDI** nagpapakita ng pangangalaga sa kapaligiran?

A.



B.



C.



24. Bakit mahalagang panatilihin ang kalinisan ng paaralan?






- A. Upang maraming pumasok na mag-aaral .
- B. Upang maging ligtas sa anumang sakit ang mga mag-aaral.
- C. Upang bigyan ng maraming baon ang mga bata ng magulang.

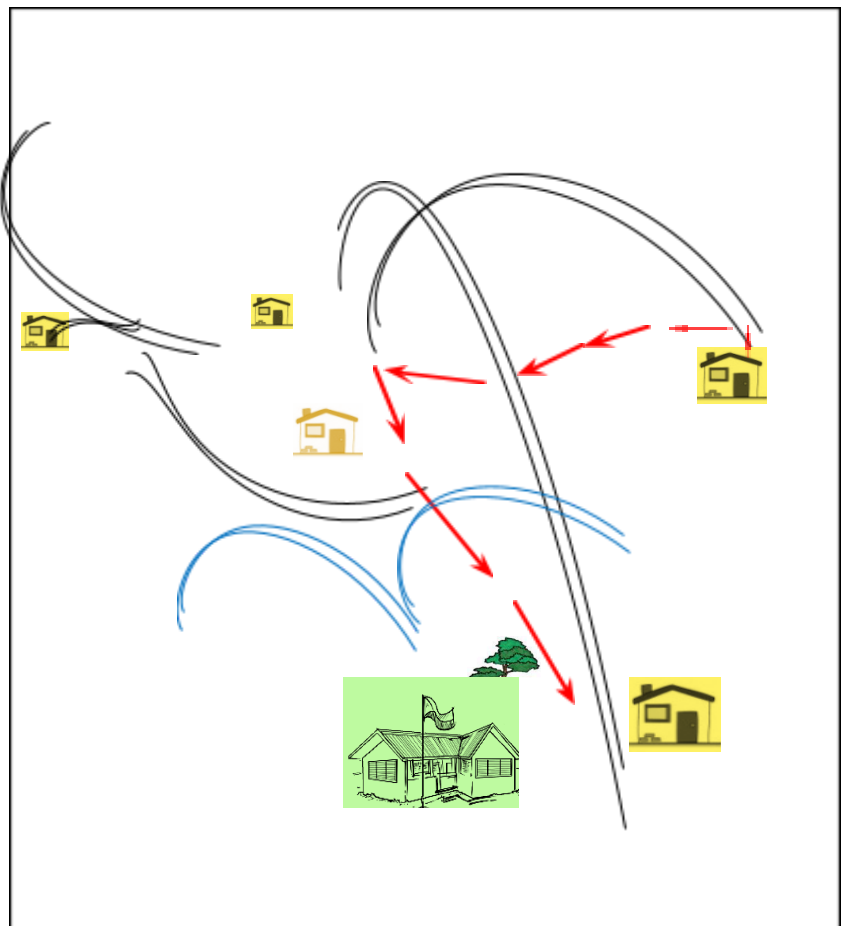
25. Alin ang nakakatulong upang mapanatiling malinis at maayos ang ating kapaligiran?

- A. tree planting
- B. reuse, reduce, recycle
- C. itapon ang basura a ilog

26-30. Gumawa ng mapa mula sa iyong bahay patungong paaralan gamit ang mga pananda.

Pananda:

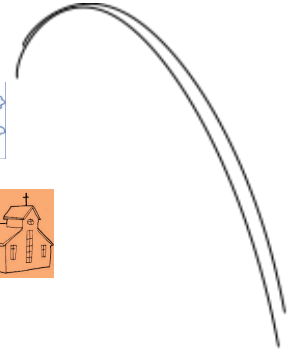
-  Bahay mo
-  simbahan
-  palaruan
-  puno
- 





palikuran

paaralan



**Prepared by:**

**MERLITA G. NARNE**  
**Teacher**

**Noted:**

**MARIA LORENA S. REGANIT**  
**ESP - I**

File Submitted by DepEd Club Member – [depedclub.com](http://depedclub.com)