



Department of Education
Region III
Schools Divisions of Zambales
Municipality of Sta.Cruz
SAN FERNANDO ELEMENTARY SCHOOL













UNANG MARKAHANG PAGSUSULIT SA AP III

Pangalan: _____ Marka: _____

Panuto: Hanapin sa Hanay B ang kahulugan ng mga simbolo sa Hanay A. Isulat sa patlang ang titik ng tamang sagot.

HANAY A

1.  _____
2.  _____
3.  _____
4.  _____
5.  _____
6.  _____
7.  _____
8.  _____
9.  _____
10.  _____

HANAY B

- a. Ilog
- b. Ospital
- c. Bulubundukin
- d. kagubatan
- e. bulkan
- f. paaralan
- g. lawa
- h. talampas
- i. kabahayan
- j. Burol

II. Isulat ang titik ng tamang sagot.

- _____ 11. Ito ay laging nakaturo sa hilaga.
A. compass B. cardinal C. compass rose D. mapa
- _____ 12. Alin dito ang pananda para sa hilagang-kanluran?
A. TS B. HK C. HS D. TK
- _____ 13. Ito ang direksyon na makikita sa itaas na bahagi ng mapa.
A. timog B. silangan C. hilaga D. kanluran
- _____ 14. Madaling hanapin ang kinaroroonan ng isang lugar sa pamamagitan ng paggamit ng_____.
A. panturo B. larawan C. mapa D. guhit

- ____ 15. Ito ang tawag sa pangunahing direksiyon?
 A. North Arrow C. cardinal na direksiyon
 B. bisinal na direksiyon D. ordinal na direksiyon
- ____ 16. Kung ilalarawan ang pangalawang direksiyon, binabanggit muna ang direksiyong ____.
 A. kardinal B. Relatibo C. bisinal D. Silangan
- ____ 17. Nagtuturo ito ng eksaktong kinalalagyan ng isang lugar o pook at ng mga natatagpuan dito.
 A. globo B. Simbolo C. Mapa D. Compass
- ____ 18. Ito ang bilang ng pangunahing direksyon sa mapa.
 A. 5 B. 4 C. 3 D. 2
- ____ 19. Kabilang ang Nueva Ecija sa rehiyon na ito?
 A. Region IV-A B. Region 2 C. Region 1 D. Region 3
- ____ 20. Ito ang tawag sa pangalawang direksiyon?
 A. ordinal na direksiyon C. bisinal na direksiyon
 B. cardinal na direksiyon D. mapa

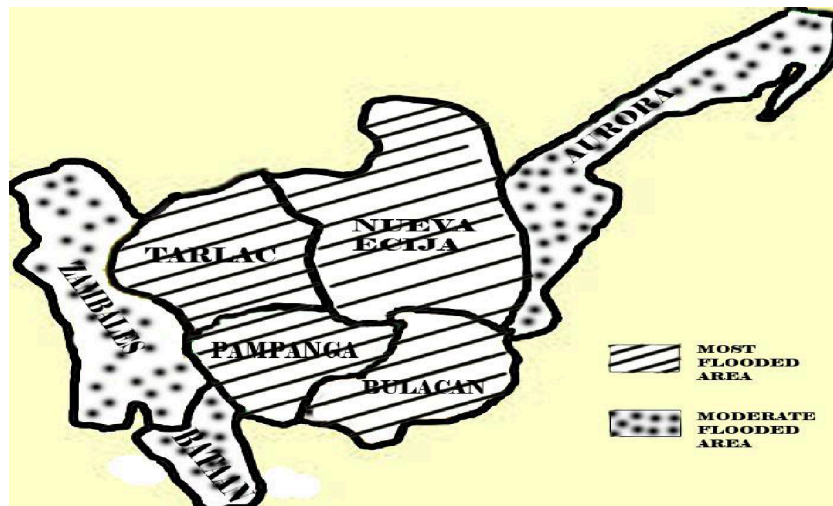
III. Basahin at unawain ang sumusunod na pahayag batay sa datos tungkol sa bahagi ng populasyon ng mga lalawigan sa Region III. Tukuyin ang pinakatamang sagot sa bawat tanong/pahayag. Isulat ang titik ng tamang sagot.

Lalawigan	Manggagawa	Mangingisda	Magsasaka	Kabuuan
Bulacan	4500	13402	35671	53573
Aurora	1060	2944	9595	13599
Bataan	2560	3488	11641	17689
Nueva Ecija	1250	200	106,596	108,046
Zambales	1985	9551	22711	34247

21. Aling dalawang lalawigan ang pinakamarami ang populasyon ng mangingisda?
 A. Bulacan at Bataan C. Nueva Ecija at Zambales
 B. Zambales at Bulacan D. Aurora at Bataan
22. Alin sa sumusunod ang may pinakamaliit na kabuuang populasyon?
 A. Aurora B. Bataan C. Zambales D. Bulacan
23. Aling lalawigan ang mas marami ang mangingisda kaysa sa manggawa?
 A. Aurora B. Bataan C. Bulacan D. Zambales
24. Kung pagsama samahin ang mga populasyon ng mangingisda at magsasaka, aling lalawigan ang may pinakamarami sa buong rehiyon?
 A. Nueva Ecija B. Bataan C. Zambales D. Aurora
25. Alin dito ang dahilan kung bakit kakaunti ang populasyon ng mangingisda sa lalawigan ng Nueva Ecija?

- A. Mas gusto ng mga taga rito ang pagsasaka kaysa pagingisda.
- B. Kakaunti lamang ang anyong tubig kung saan makapangisda ang mga tao.
- C. Mas gusto ng mga taga- Nueva Ecija magtrabaho sa iba't ibang kompanya.
- D. Maraming pumupunta sa mga karatig na lalawigan upang maging magsasaka

IV. Pag-aralan ang mapa ng tinatayang pagguho ng lupa at pagbaha. Sagutin ang mga sumusunod na tanong.

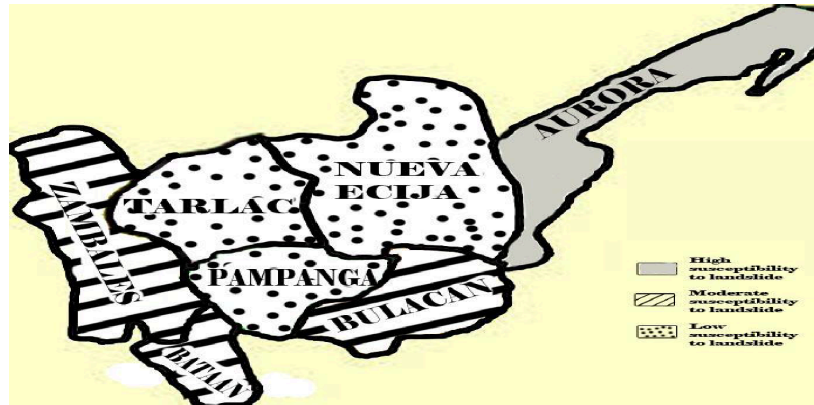


26. Aling lalawigan/lungsod ang may katamtamang antas na makaranas ng pagbaha?
- A. Zambales
 - B. Tarlac
 - C. wala sa A at B
 - D. lahat ng lalawigan
27. Alin sa mga lalawigan/lungsod ang may mataas na antas na makaranas ng pagbaha?
- A. Nueva Ecija
 - B. Bataan
 - C. wala sa A at B
 - D. lahat ng lalawigan

28. Alin sa mga lalawigan/lungsod ang may pinakamababang antas na makaranas ng pagbaha?

- A. Bataan
- B. Aurora
- C. wala sa A at B
- D. lahat ng lalawigan

V. Basahin at unawaing mabuti ang bawat tanong. Piliin ang titik ng tamang sagot.



29. Saang lugar ang may mataas na antas na maaaring maganap ang pagguho ng lupa?

- A. Aurora
- B. Pampanga
- C. Nueva Ecija
- D. Bulacan

30. Saang lugar ang may mababang antas na maaaring maganap ang pagguho ng lupa?

- A. Nueva Ecija
- B. Aurora
- C. Zambales
- D. lahat ng lalawigan

31. Sa panahon ng bagyo nararapat na ako ay _____.

- A. maligo sa ulan.
- B. manatili sa loob ng bahay.
- C. sumilong sa ilalim ng mesa.
- D. mamasyal sa labas ng bahay.

32. Kapag lumilindol kailangang kong _____.

- A. manatiling nakaupo sa sariling upuan.
- B. mataranta at magsisigaw
- C. sumilong sa ilalim ng mesa
- D. itulak ang aking mga kamag-aral

33. May bagyong parating kaya't ako ay _____.

- A. makikinig ng balita tungkol sa bagyo.
- B. babaliwalain ang mga babala.
- C. magtatago sa ilalim ng mesa.
- D. mamamasyal sa parke.

- _____ 34. Malakas ang ulan kaya bumaha sa inyong lugar. Ano ang nararapat mong gawin?
- Ipagwalang-bahala ang pagtaas ng tubig.
 - Mag-imbak ng tubig ulan upang ipanlinis.
 - Makipaglaro sa mga kaibigan sa baha.
 - Sumunod kaagad sa panawagang lumikas.
- _____ 35. Nakatira kayo sa gilid ng bundok at malakas ang ulan. Napansin mong malakas na ang agos ng tubig
- mula sa bundok at may kasama na itong putik. Ano na nararapat mong gawin?
- Maglaro sa ulan.
 - Lumikas na kaagad.
 - Manatili na lamang sa bahay.
 - Paglaruan ang putik mula sa bundok.



Department of Education
Region III
Schools Divisions of Zambales
Municipality of Sta.Cruz
SAN FERNANDO ELEMENTARY SCHOOL



**TALAN NG ISPISIPIKASYON
UNANG MARKAHANG PAGSUSULIT
ARALING PANLIPUNAN 3**

Mga Layunin	Bilang ng Araw	Bahagdan	Bilang ng Aytam	Kinalalagan ng Bilang
1. Naipapaliwanag ang kahulugan ng mga simbolo na ginagamitan sa mapa sa tulong ng panuntunan	5	30	10	1-10
2. Nakapagbabasa at nakapagsasagawa ng interpretasyon tungkol sa kinalalagan ng ibat ibang lalawigan sa rehiyon gamit ang mga batayang heograpiya tulad ng distansya at direksyon	3	8	3	11-13

3. Nailalarawan ang kinalalagyan ng mga lalawigan ng sariling rehiyon batay sa mga nakapaligid ditto gamit ang pangunahing direksyon	3	8	3	14-16
4. Naihahambing ang mga lalawigan sa sariling rehiyon ayon sa lokasyon, direksyon, laki at kaanyuan	4	12	4	17-20
5. Nailalarawan/Naihahambing ang populasyon ng ibat ibang pamayanan sa sariling lalawigan gamit ang tsart	5	14	5	21 - 25
7. Nailalarawan ang ibat ibang lalawigan sa rehiyon ayon sa katangiang pisikal at pagkakakilanlang heograpikal nito gamit ang mapang topograpiya ng rehiyon	3	8	3	26 - 28
8. Napaghahambing ang ibat ibang anyong lupa at anyong tubig ng ibat ibang lalawigan sa sariling rehiyon	3	6	2	29 - 30
11. Natutukoy ang mga lugar na sensitibo sa panganib batay sa lokasyon at topograpiya nito	6	14	5	31 - 35
Kabuuan	32	100	35	1 – 35

Prepared by:

IMELDA G. MESIA
Master Teacher I

Noted by:

VICTORIA V. IGNACIO
Principal I