


BASMEDİO 2.DÖNEM 2. YAZILI SINAVI

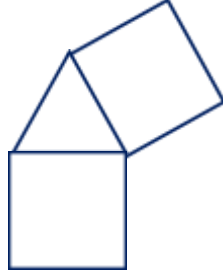


Adı Soyadı :

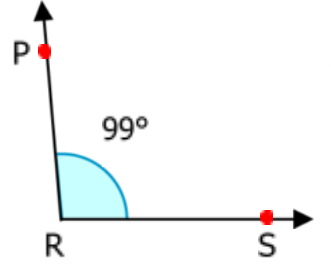
SORULAR

1) Yandaki şekilde birbirine eş iki kare ve bir eşkenar üçgen vardır.

Karenin bir kenar uzunluğu 9 cm olduğuna göre şeklin çevresi kaç santimetredir? (5p)



2) Yanda verilen açı ile ilgili aşağıdaki ifadelerden hangisi yanlıştır? (4p)

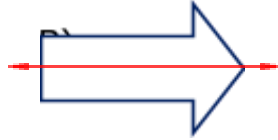
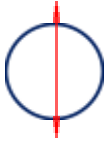


- Geniş açıdır.
- \widehat{R} 'k açıdan 9° fazladır.
- P olarak adlandırılır.
- PR ışını kollarından biridir.

3) Bir otomobil 168 km'lik yolun önce 'sini sonra 'ini gidiyor. Otomobilin kalan yolu kaç km'dir? (5p)

4) 480 sayının si ile ünün toplamı kaçtır? (7p)

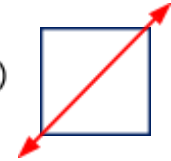
5) Aşağıdaki şekillerden hangisinin üzerindeki doğru o şekle ait bir simetri doğrusu olamaz? (4p)



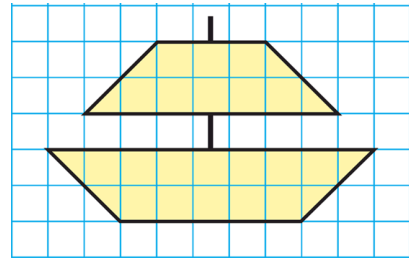
C)



D)

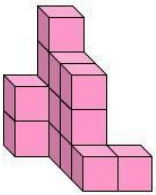


6) Aşağıdaki şeklin alanı kaç birimkareden oluşmuştur? (4p)

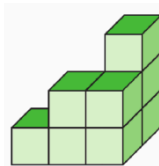


Alan =birimkare

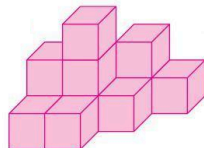
7) Aşağıdaki yapıların kaç birim küpten oluştuğunu bulup yazınız. (9p)



.....



.....



.....

8) Bir çiftçin tarlanın $\frac{4}{16}$ 'üne biber, $\frac{9}{16}$ 'ine

domates ekecektir. Tarlanın geri kalan kısmında ayçiçeği ekecektir. Bu durumda tarlanın kaçta kaçına ayçiçeği ekecektir? (7p)

9) Yandaki saat Yusuf'un uyandığı saati göstermektedir. Yusuf 9 saat 55 dakika uyumuştur.



Buna göre Yusuf saat kaçta uyumuştur? (5p)

10) (4p)

11) Bir terzi 3000 mm'lik bir kumaşın 1 m 78 cm'si ile bir gömlek dikiyor. Buna göre kalan kumaşın uzunluğu kaç **mm'dir?** (6p)

12) En küçük geniş açı ile en büyük dar açının toplamı kaç derecedir? (4p)

13) Aşağıdaki noktalı yere düzlem, "düzlemsel şekil" kelimelerinden uygun olanını yazalım. (6p)

Duvar bir ise tablo

Kağıt bir kağıda çizilen kare

Kapıdaki tabela kapı ise

14) Aşağıda verilen ölçme birimlerini istenilen birimlere dönüştürerek yazınız. (10p)

- 5000 cm =m
- 23 km =m
- 69 000 mm =cm
- 7060 g = kgg
- 30 062 kg = kgg

15)



8 birim

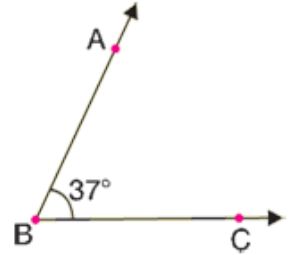


13 birim

Yukarıdaki karesel ve dikdörtgensel bölgenin alanları eşittir.

Buna göre dikdörtgensel bölgenin kısa kenar uzunluğu kaç birimdir? (6p)

16) Aşağıda verilen B açısının geniş açı olabilmesi için en az kaç derece artırılması gerekir? (4p)



17)

(6p)

18) Okulumuzda 1525 öğrenci vardır. Her sınıfta 25 öğrenci olduğuna göre okulumuzda kaç derslik vardır? (4p)