


Pangalan: _____


I. Kagandahang Sosyo-Emosyonal (KSE)

Makinig ng mabuti sa babasahing panuto ng guro sa bawat bilang.


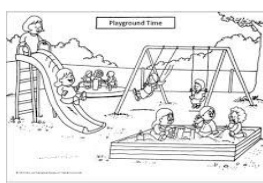

1. Ito ay isa sa bahagi ng paaralan kung saan bumibili ng pagkain ang mga mag-aaral. Bilugan ang tamang sagot.



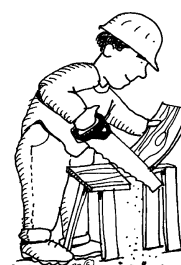

2. Isa din sa bahagi ng paaralan kung saan dinadala ang mga batang nasusugatan o may dinaramdam. Kahunan ang iyong sagot.



3. Bahagi ng paaralan o silid na matatagpuan ang mga batang nagbabasa, nagsusulat at nagbibilang. Lagyan ng _____ ang larawan. ✓





4. Siya ang nagtuturo upang matutong magsulat at magbasa ang mga bata. Lagyan ng ♥ ang iyong sagot.



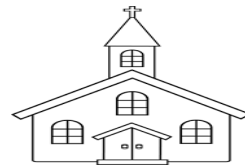

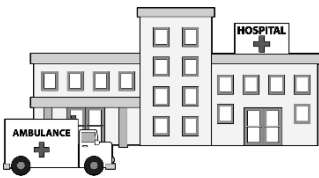
5. Ito ay isang bagay na ginagamit ng mga mag-aaral sa pagsusulat. Kulayan ng dilaw ang tamang sagot.




6. Ito ang lugar kung saan pumapasok ang mga batang nag-aaral. Kulayan naman ng pula ang sagot.





7. Dito sa lugar na ito tayo ay nanalangin at nagpapasalamat sa mga biyayang natanggap natin sa Panginoon. Bilugan ang sagot.



8. Siya ang gumagamot sa taong maysakit o may karamdaman. Salungguhitan ang sagot.



9. Ito ang kailangan ng halaman upang mabuhay at lumaki? Kulayan ng dilaw ang iyong sagot.



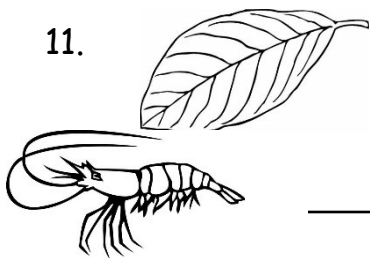
10. Sa paanong paraan natin aalagan ang mga halaman? Kulayan ng berde ang sagot.



II. LANGUAGE, LITERACY AND COMMUNICATION (LL)

Panuto: Isulat ang nawawalang unang titik ng bawat larawan.

11. _____ahon

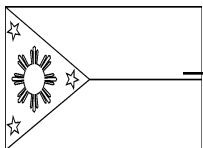


_____ipon



_____alabaw

14. _____atawat



15. _____oyo



16. Bilugan ang maliit na titik R.

g

r

n

17. Isulat sa loob ng tatsulok ang kaparehang titik h.



Isulat ang titik na tinutukoy ng bawat tunog na bibigkasin ng iyong guro.

(Oral)

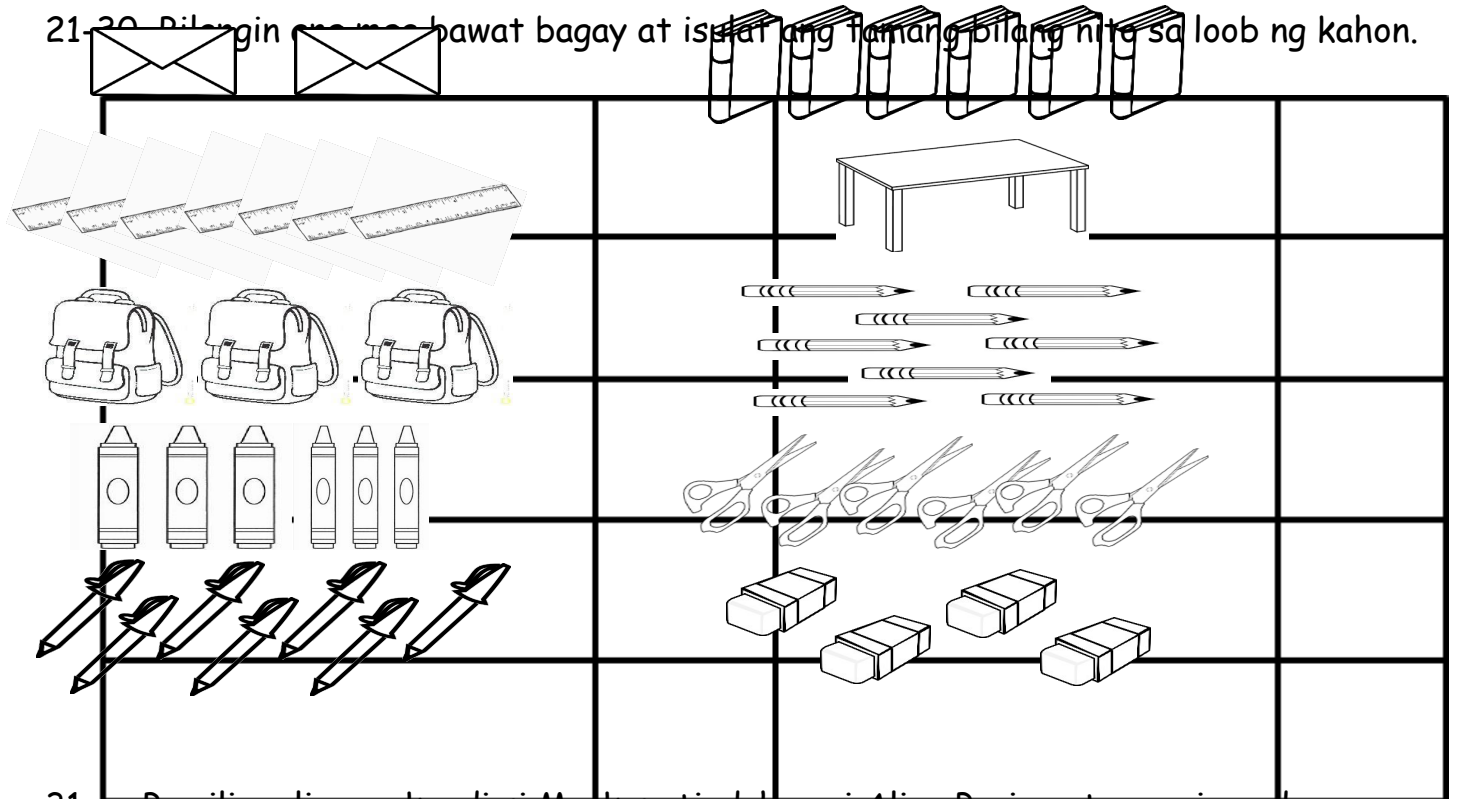
18. _____

19. _____

20. _____

III. Mathematics

21-20. Bilangin ang mga bawat bagay at isulat ang tamang bilang nito sa loob ng kahon.



31. Bumili ng limang kendi si Mark sa tindahan ni Aling Puring at umawi agad ng bahay. Pagdating niya ay may inabot agad si tatay Ben na dalawang tsokolateng pasalubong bigay ng kanyang tita galing Saudi. Ilang lahat ang kanyang kendi at tsokolateng natanggap?

6

7

8

32. Mahilig bumili si Ana ng lobo. Siya ay nagpabili sa kanyang nanay ng tatlong pulang lobo at limang asul na lobo. Ilang lobo mayroon si Ana?

6

7

8

33. Mayroong anim na mansanas si Anton. Kinain niya ang dalawa ng siya ay nagmeryenda. Ilang mansanas na lang ang natira kay Anton?

3

4

5

34. Binigyan si Carl ng kanyang ninang Donna ng sampung lapis. Ngunit humingi ang kanyang kapatid at binigyan niya ito ng limang lapis. Ilang lapis ang natira kay Carl?





3

4

5

IV. Physical and Natural Environment (PNE)

35-37. Kulayan ng asul ang mga hayop na makikita sa tubig.



Isulat sa loob ng kahon ang bilang ng paa ng mga hayop:

38.

