



AVALIAÇÃO – 4º BIMESTRE

NOME: _____

TURMA: _____

DATA: _____

1. Observe os objetos a seguir.



As imagens estão fora de proporção.

- De que materiais são feitos esses objetos? Esses materiais são naturais ou artificiais?

2. Leia o texto a seguir e responda às questões.

No passado, o ferro de passar roupas era feito apenas de metal e madeira. Ele era oco e no seu interior se colocava carvão em brasa para mantê-lo quente.

Hoje em dia o ferro de passar é feito de plástico e metal e funciona com energia elétrica.

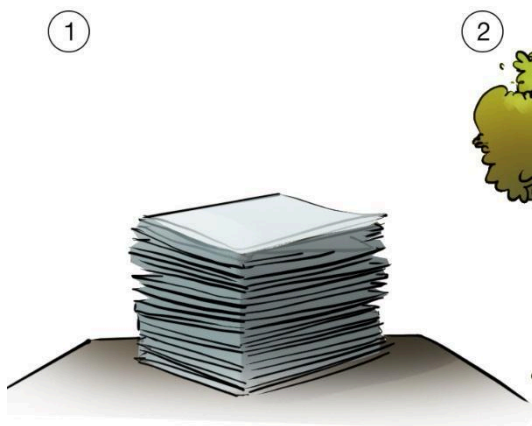
- a) Circule no texto exemplos de materiais naturais.
- b) Sublinhe no texto exemplos de materiais artificiais.
- c) Em sua opinião, o que mudou entre o ferro de passar usado no passado e o usado atualmente?



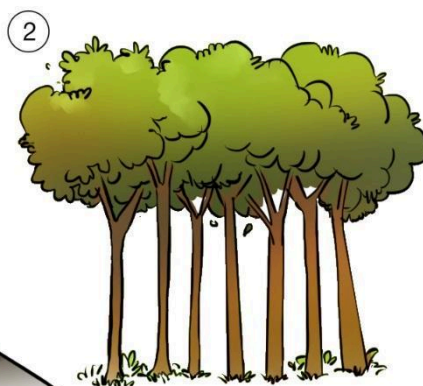


3. As imagens a seguir estão fora da ordem. Escolha a alternativa que apresenta a ordem correta das etapas de produção do papel.


Representação fora de proporção.



Folhas de papel.



Árvores que serão usadas na produção de papel.



TIAGO SILVA

Indústria produzindo papel.

- a) 1, 2, 3.
- b) 3, 2, 1.
- c) 2, 1, 3.
- d) 2, 3, 1.

4. Observe a tirinha a seguir e responda as questões.



TIAGO SILVA

Representação fora de proporção.

a) O que aconteceu com o picolé de Gabriel?

b) Em que estado físico estava o picolé de Gabriel no primeiro quadro? E no último?





5. Observe as imagens a seguir e responda às questões.



As imagens estão fora de proporção.

a) Qual é o material utilizado em cada um dos objetos?

b) Justifique por que esses materiais são adequados para a construção desses objetos.

6. Em relação às características dos materiais de que são feitos os objetos, responda:

● Qual objeto é feito com o material mais flexível?

- a) Copo de vidro.
- b) Panela de pressão.
- c) Caneta esferográfica.
- d) Garrafa plástica.



7. Sabemos que é importante prevenir acidentes em casa. Para isso, algumas situações devem ser evitadas. Marque a alternativa que representa um risco de acidente em casa.

a)



b)



c)



d)





Representações fora de proporção.



8. A tesoura é um material muito utilizado nas aulas, mas devemos ter muito cuidado ao manuseá-la. As crianças devem utilizar tesoura com pontas arredondadas.

a) De que materiais é feita a tesoura?

b) Explique por que é melhor que as crianças utilizem tesoura com pontas arredondadas.

9. Observe a imagem de uma escola e marque a alternativa que mostra como ela seria vista de cima.

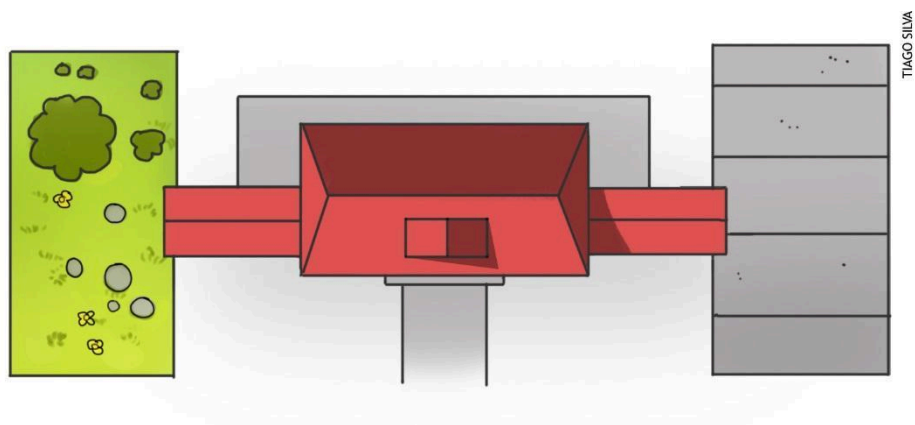


TIAGO SILVA

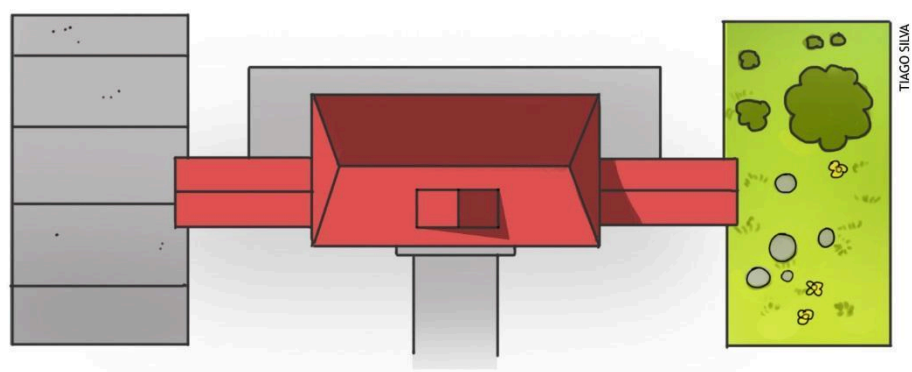
Representação fora de proporção.



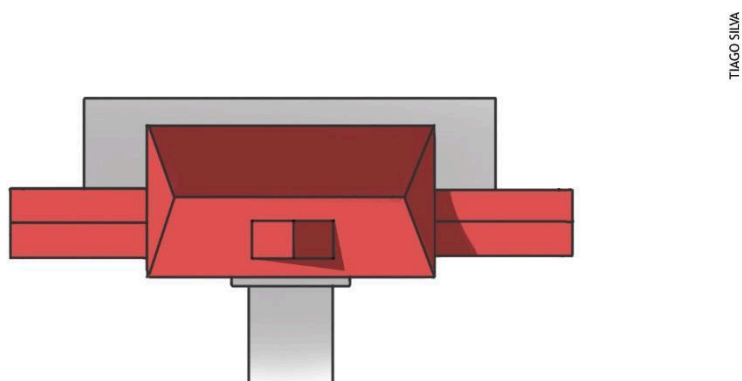
a)



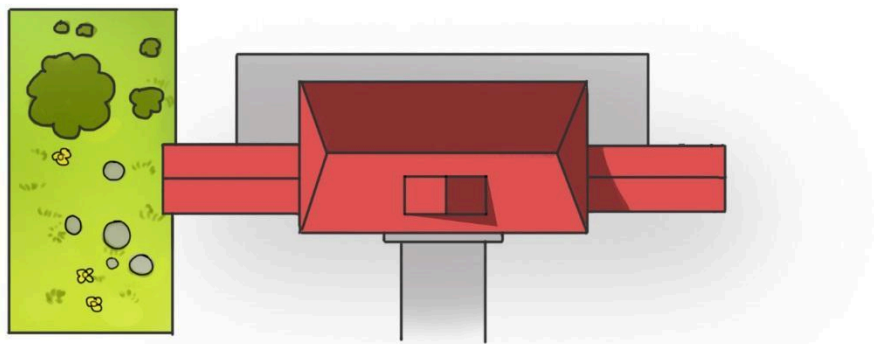
b)



c)




d)



TIAGO SILVA



10. Observe a imagem a seguir e responda às questões.



Representação fora de proporção.

a) Quem está ao lado direito de João?

b) Quem está à frente de Estela?

c) Em qual ponto de vista a imagem foi representada?

11. Observe as imagens a seguir e escreva qual ponto de vista elas representam.

a)



b)





12. Leia o texto a seguir e responda às questões.

Em 1963, a avó de Matheus era professora. Ela utilizava a máquina de escrever para redigir as provas. Atualmente, Matheus guarda a máquina de escrever de sua avó como uma recordação dela.

a) Como a avó de Matheus utilizava a máquina de escrever no passado?

b) Por que Matheus guardou a máquina de escrever de sua avó?

14. Marque a opção que não é verdadeira:

- a) A família é parte da história de uma pessoa.
- b) Algumas brincadeiras de antigamente ainda existem até hoje, como brincar de peteca.
- c) As cartas podem ser excelentes registros de nosso futuro.
- d) Alguns objetos são guardados por nossos familiares porque trazem boas lembranças.

15. Por que alguns objetos devem ser guardados em museus?

- a) Para preservar a sua história ou o modo de fazer alguma atividade.
- b) Para continuarem sendo usados no presente.
- c) Para serem usados no futuro.
- d) Para serem descartados.