

Educando:

Avaliação bimestral – 63 – 3º trimestre

1 - São elevações que apresentam grandes desníveis, vales profundos e cumes muito altos e altitudes, a partir de 300 metros. A seqüência destes acidentes geográficos chama-se cordilheira.

O texto acima está se referindo a algumas das características de:

- Montanhas Planaltos
 Planícies Depressões

2 – Qual conjunto de montanhas é formado pela colisão das placas abaixo?



3 - Quando uma depressão tem altitude inferior ao nível do mar

chamamos de:

- (a) agentes esculturais
(b) pequena depressão
(c) depressão relativa
(d) depressão absoluta

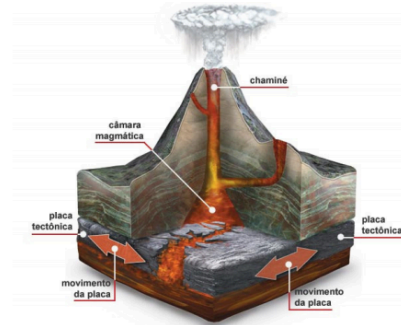
4 - Como chamamos a área drenada por um rio principal e seus afluentes?

5 - Agora marque a alternativa que contenha somente agentes externos na formação do relevo terrestre:

- a) Terremotos, vulcões e água;
b) Vento, chuva e água dos rios;
c) Vento, terremotos e vulcões;

d) Mar, vento e vulcões

6 - A figura abaixo exemplifica a ação de:



7 - A erupção vulcânica é um fenômeno da natureza, e geralmente ocorre o transbordamento do magma de regiões profundas da Terra para a superfície do planeta. Qual a camada da Terra de onde vem a lava?

- a) Crosta terrestre b) Núcleo c) Manto

8 – Como chamamos o declive acentuado de uma chapada?

9 - Marque a opção que representa somente os agentes internos de formação do relevo:

- a) Vento e vulcanismo;
b) Chuva e tectonismo;
c) Vulcanismo e vento;
d) Tectonismo e vulcanismo.

10 - São as forças que atuam do interior para o exterior da Terra, provocando modificações na superfície terrestre.

O texto está dando a definição de:

- Agentes internos do relevo
 Erosão eólica do relevo
 Erosão pluvial do relevo
 Agentes externos do relevo

Educando:

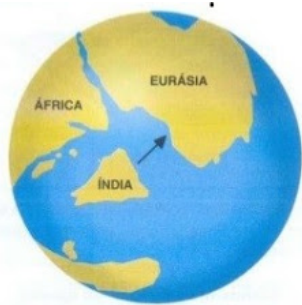
Avaliação bimestral – 63 – 3º trimestre

1 - São elevações que apresentam grandes desníveis, vales profundos e cumes muito altos e altitudes, a partir de 300 metros. A seqüência destes acidentes geográficos chama-se cordilheira.

O texto acima está se referindo a algumas das características de:

- Montanhas Planaltos
 Planícies Depressões

2 – Qual conjunto de montanhas é formado pela colisão das placas abaixo?



3 - Quando uma depressão tem altitude inferior ao nível do mar

chamamos de:

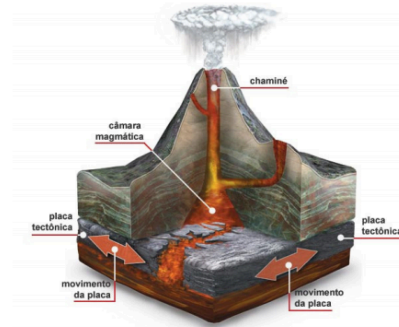
- (a) agentes esculturais
(b) pequena depressão
(c) depressão relativa
(d) depressão absoluta

4 - Como chamamos a área drenada por um rio principal e seus afluentes?

5 - Agora marque a alternativa que contenha somente agentes externos na formação do relevo terrestre:

- a) Terremotos, vulcões e água;
b) Vento, chuva e água dos rios;
c) Vento, terremotos e vulcões;
d) Mar, vento e vulcões

6 - A figura abaixo exemplifica a ação de:



7 - A erupção vulcânica é um fenômeno da natureza, e geralmente ocorre o transbordamento do magma de regiões profundas da Terra para a superfície do planeta. Qual a camada da Terra de onde vem a lava?

- a) Crosta terrestre b) Núcleo c) Manto

8 – Como chamamos o declive acentuado de uma chapada?

9 - Marque a opção que representa somente os agentes internos de formação do relevo:

- a) Vento e vulcanismo;
b) Chuva e tectonismo;
c) Vulcanismo e vento;
d) Tectonismo e vulcanismo.

10 - São as forças que atuam do interior para o exterior da Terra, provocando modificações na superfície terrestre.

O texto está dando a definição de:

- Agentes internos do relevo
 Erosão eólica do relevo
 Erosão pluvial do relevo
 Agentes externos do relevo