

Mi nombre es: _____



Anterior

Escribe el numeral anterior.

Activity description: A boy is standing on a stack of five empty boxes. A girl is standing on a stack of five boxes containing the numbers 7, 9, 4, 8, and 2. A red arrow points from the girl's stack to the boy's stack, indicating the task of writing the previous number.

	7
	9
	4
	8
	2

Mi nombre es: _____

Anterior

Escribe el numeral anterior.

10

13

7

15

5

Mi nombre es: _____

Posterior

Escribe el numeral posterior.

14

11

5

12


9

Mi nombre es: _____



Entre

Escribe el numeral que esta entre.



14 16

11 13

9 11

5 7


18 20

Mi nombre es: _____

Entre


Escribe el numeral que esta entre.

8




10

5




7

0




2

6



8

3



5

Mi nombre es: _____



Anterior y posterior

Escribe el numeral anterior y posterior según corresponda.

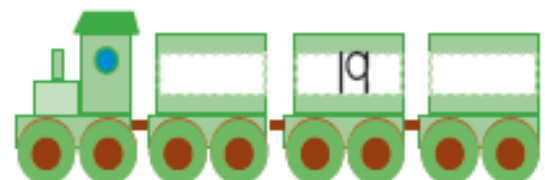

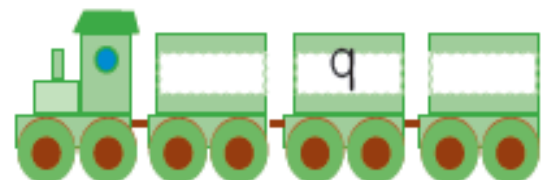

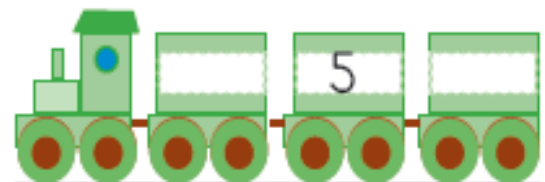
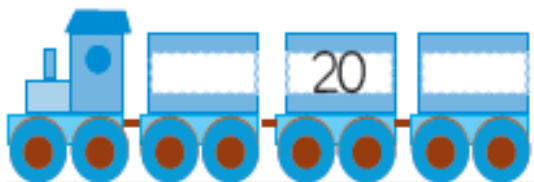
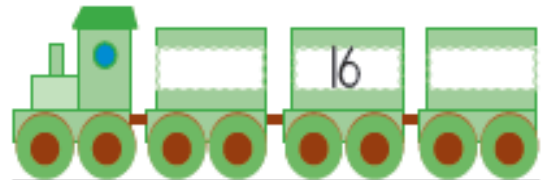
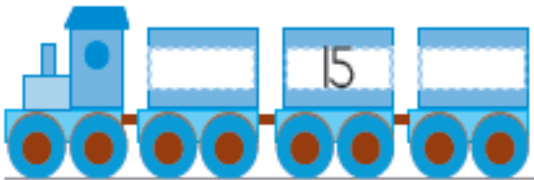
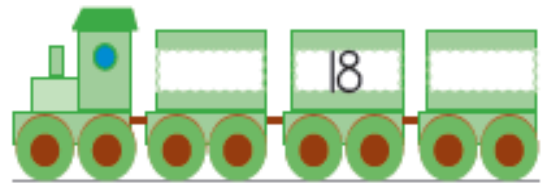
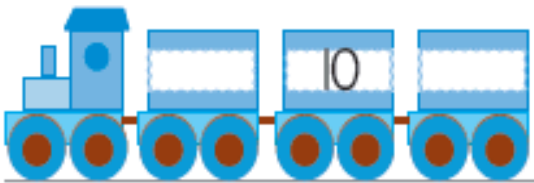
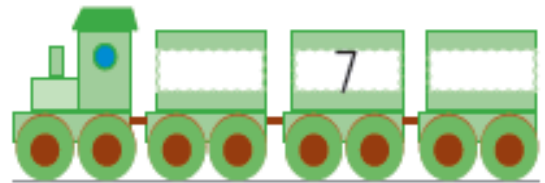

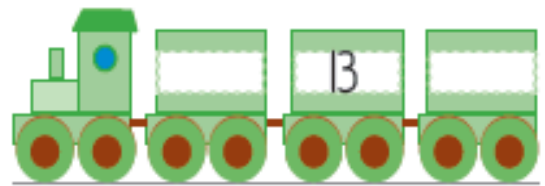
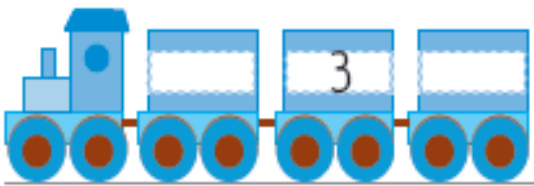
The caterpillar has segments numbered 1 through 9. Below the caterpillar is a grid of yellow stars on a blue grid background. The stars are arranged in four rows and two columns. The numbers in the stars are as follows:

4			6
	3		8
5			4
	9		1

Mi nombre es: _____

Anterior y posterior

Escribe los números, según corresponda.



Mi nombre es: _____

_____	_____	_____
-------	-------	-------

Escribe los números antes y después de cada número.



6



10



15



2



11



8



19



5



17



13



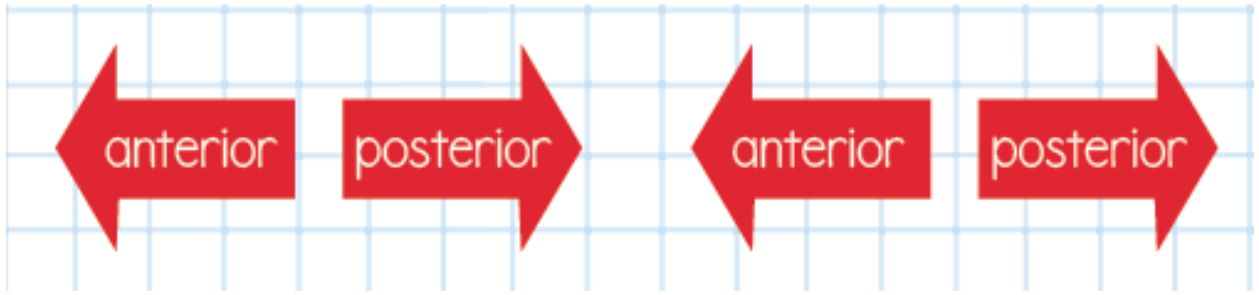
3



9

Mi nombre es:

Three empty boxes for writing a name.



	6	19			20	2	
	16	5			7	4	
	10	9			15	17	
	8	15			19	11	
	17	18			10	9	
	3	7			2	19	

Mi nombre es: _____

--	--	--

$\square \leftarrow 2 \rightarrow \square$

$\square \leftarrow 3 \rightarrow \square$

$\square \leftarrow 4 \rightarrow \square$

$\square \leftarrow 5 \rightarrow \square$

$\square \leftarrow 6 \rightarrow \square$

$\square \leftarrow 7 \rightarrow \square$

$\square \leftarrow 8 \rightarrow \square$

$\square \leftarrow 9 \rightarrow \square$

$\square \leftarrow 10 \rightarrow \square$

$\square \leftarrow 11 \rightarrow \square$

Escribe los números
anteriores y posteriores
según corresponde.

