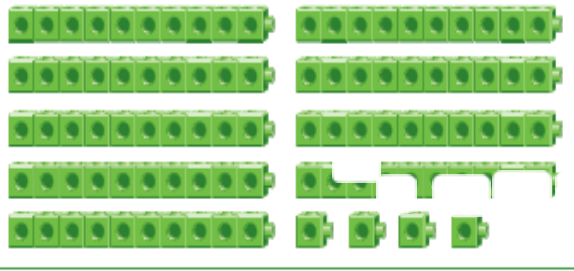


اختر الإجابة الصحيحة لكل من الأسئلة من 1 إلى 5 ، وذلك بوضع علامة × داخل المربع
المجاور للإجابة الصحيحة:

تعليمات

الدرجة (2)	السؤال رقم (1)																														
	أي مما يلي يكمل النمط في اللوحة ؟ <table border="1" style="margin: 10px auto;"><tr><td>61</td><td>62</td><td>63</td><td>64</td><td>65</td><td>66</td><td>67</td><td>68</td><td>69</td><td>70</td></tr><tr><td>71</td><td>72</td><td>73</td><td>74</td><td>75</td><td>76</td><td>77</td><td>78</td><td>79</td><td>80</td></tr><tr><td>81</td><td>82</td><td>83</td><td>84</td><td>85</td><td>86</td><td>87</td><td>___</td><td>___</td><td>___</td></tr></table> <p>A 79 , 78 , 77</p> <p>B 90 , 89 , 88</p> <p>C 76 , 75 , 74</p>	61	62	63	64	65	66	67	68	69	70	71	72	73	74	75	76	77	78	79	80	81	82	83	84	85	86	87	___	___	___
61	62	63	64	65	66	67	68	69	70																						
71	72	73	74	75	76	77	78	79	80																						
81	82	83	84	85	86	87	___	___	___																						

الدرجة (2)	السؤال رقم (2)
	ما العدد الذي تمثله المكعبات ؟  <p>A 57</p> <p>B 76</p> <p>C 94</p>
الدرجة (2)	السؤال رقم (3)

ما العدد الذي يأتي بعد العدد 3 8 مباشرة ؟


80,81,82,83 _____,

- A 84
 B 85
 C 86

الدرجة (2)

السؤال رقم (4)

أي مما يلي يمثل العدد الكلي للفراشات ؟



- A 40
 B 50
 C 60

الدرجة (2)

السؤال رقم (5)

أي مما يلي يمثل الأعداد الناقصة في اللوحة ؟

1	2	3	4	5	6		8	9	10
11	12	13	14	15	16		18	19	20
21	22	23	24	25	26	27	28	29	30

- A 6, 16
 B 7, 17
 C 17, 27

تعليمات
عند الإجابة على الأسئلة من 6 و 8 ، اكتب إجاباتك في المساحات المخصصة لذلك مع توضيح خطوات الحل:

السؤال رقم (6)

الدرجة (2)

أجب عن الأسئلة التالية:

A. حوِّط الأعداد 21,22,23,24 ووصف النمط

1	2	3	4	5	6	7	8	9	10
11	12	13	14	15	16	17	18	19	20
21	22	23	24	25	26	27	28	29	30


صف النمط الذي تراه.

B- أكتب الأعداد الناقصة على لوحة الأعداد أدناه لإكمال النمط.


71	72	73	74	75	76	77	78	79	___
___	___	83	84	85	86	87	88	89	90
91	92	93	94	95	96	97	98	99	100

الدرجة (2)			السؤال رقم (7)
--------------	--	--	------------------

أجب عن الأسئلة التالية :
A. أعد بالعشرات والآحاد ثم اكتب العدد.

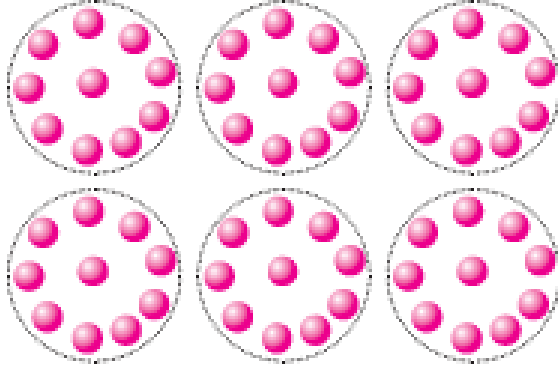


B. أعد بالعشرات , والآحاد و اكتب العدد.




الدرجة (2)		السؤال رقم (8)
--------------	--	------------------

أجب عن الأسئلة التالية :
A. أعدد بالعشرات ثم اكتب العدد.



B. أعدد بالعشرات ثم اكتب العدد.



السؤال رقم (9)		الدرجة (4)
----------------	--	--------------

أجب عن الأسئلة التالية :
A. أعد تصاعدياً بالأحاد بدءاً من العدد الذي تحوطه حتى العدد في المربع المظلل (لون الأعداد التي تعدها)

A أحوط العدد أحد عشر.

1	2	3	4	5	6	7	8	9	10
11	12	13	14	15	16	17	18	19	20
21	22	23	24	25	26	27	28	29	30
31	32	33	34	35	36	37	38	39	40
41	42	43	44	45	46	47	48	49	50
51	52	53	54	55	56	57	58	59	60
61	62	63	64	65	66	67	68	69	70
71	72	73	74	75	76	77	78	79	80
81	82	83	84	85	86	87	88	89	90
91	92	93	94	95	96	97	98	99	100

B. أحوط العدد ثمانون.

1	2	3	4	5	6	7	8	9	10
11	12	13	14	15	16	17	18	19	20
21	22	23	24	25	26	27	28	29	30
31	32	33	34	35	36	37	38	39	40
41	42	43	44	45	46	47	48	49	50
51	52	53	54	55	56	57	58	59	60
61	62	63	64	65	66	67	68	69	70
71	72	73	74	75	76	77	78	79	80
81	82	83	84	85	86	87	88	89	90
91	92	93	94	95	96	97	98	99	100