

Mata Pelajaran : Matematika

Kelas/ Semester : 2/2

Hari/ Tanggal :

Waktu :

A. Berilah tanda silang (x) huruf A, B, atau C pada jawaban yang paling benar !

1. Perhatikan gambar berikut!



Setiap bagian buah pepaya menunjukkan nilai pecahan...

A. $\frac{1}{2}$

B. $\frac{1}{3}$

C. $\frac{1}{4}$

2. Gambar yang menunjukkan pecahan $\frac{1}{2}$ adalah...


A.



B.



C.



3. Ibu membeli 14 buah jambu.


Setengah dari kumpulan buah jambu adalah...

A. 6

B. 7

C. 8

4. Perhatikan gambar berikut!



Setengah dari buah jeruk adalah... buah.

A.8

B.6

C.4

5. Perhatikan gambar berikut!

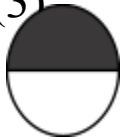
(1)



(2)



(3)



(4)



Bagian dengan nilai seperempat ditunjukkan oleh nomor...

A. (1) dan (3)

B. (2) dan (4)

C. (3) dan (4)

6. Kakak memotong roti menjadi 4 bagian yang sama besar.


Setiap potongan roti tersebut bernilai pecahan...

A. $\frac{1}{4}$

B. $\frac{1}{3}$

C. $\frac{1}{2}$

7. Perhatikan gambar berikut!



Nilai pecahan satu potong apel adalah...

A. $\frac{1}{2}$

B. $\frac{1}{3}$

C. $\frac{1}{4}$

8. Apabila berat 2 sendok sama dengan berat 10 kelereng. Maka berat 1 sendok sama dengan berat...

- A. 2 kelereng
- B. 5 kelereng
- C. 10 kelereng

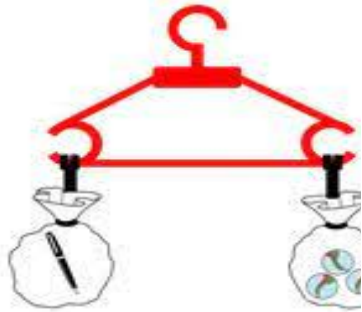
9. Perhatikan gambar berikut!



Berat 1 buah anggur ... berat 3 buah apel .

- A. Lebih ringan
- B. Lebih berat
- C. Sama dengan

10. Perhatikan gambar berikut!



Berat 1 pena sama dengan berat....

- A. 2 kelereng
- B. 3 kelereng
- C. 4 kelereng


11. Perhatikan nama buah berikut!

- (1) semangka
- (2) mangga
- (3) strawberi

Urutan buah dari yang paling ringan adalah...

- A. (1), (2), (3)
- B. (2), (3), (1)
- C. (3), (2), (1)

12. Perhatikan gambar berikut!



Gambar tersebut menunjukkan pukul...

- A. 09.00
- B. 10.00

C. 12.00

13. Perhatikan gambar berikut!



Waktu yang ditunjukkan adalah...

A. 03.00

B. 08.00

C. 17.00

14. Mika makan malam pukul 20.00.

Waktu makan malam Mika adalah...

A. Tujuh malam

B. Delapan malam

C. Sembilan malam

15. Kegiatan yang paling lama adalah...

A. Minum

B. Menguap

C. Belajar

B. Jodohkanlah gambar pernyataan di bawah ini dengan menarik garis pada lajur sebelah kanan!

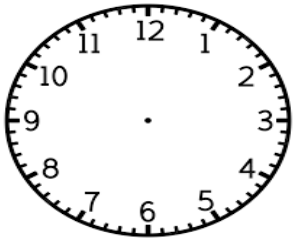
16. Pecahan dengan nilai penyebut 2 dan pembilang 1 adalah...	<input type="checkbox"/>	$\frac{1}{2}$
17. Lama Nurul berlari selama 50 detik	<input checked="" type="checkbox"/>	Nurul
Lama Lela berlari selama 30 detik	<input type="checkbox"/>	2
Anak yang paling cepat berlari adalah...	<input checked="" type="checkbox"/>	Lela

C. Berilah tanda centang (✓) pada kolom B jika benar dan S jika salah berdasarkan pernyataan berikut!

Pernyataan	B	S
18. Setengah dari 20 jeruk adalah 10.	<input type="checkbox"/>	<input type="checkbox"/>
19. Buah manggis lebih berat dari buah durian.	<input type="checkbox"/>	<input type="checkbox"/>

D. Isilah titik – titik dibawah ini dengan benar!

20. Perhatikan gambar dibawah ini!



Gambarlah jam yang menunjukkan pukul 05.00!

