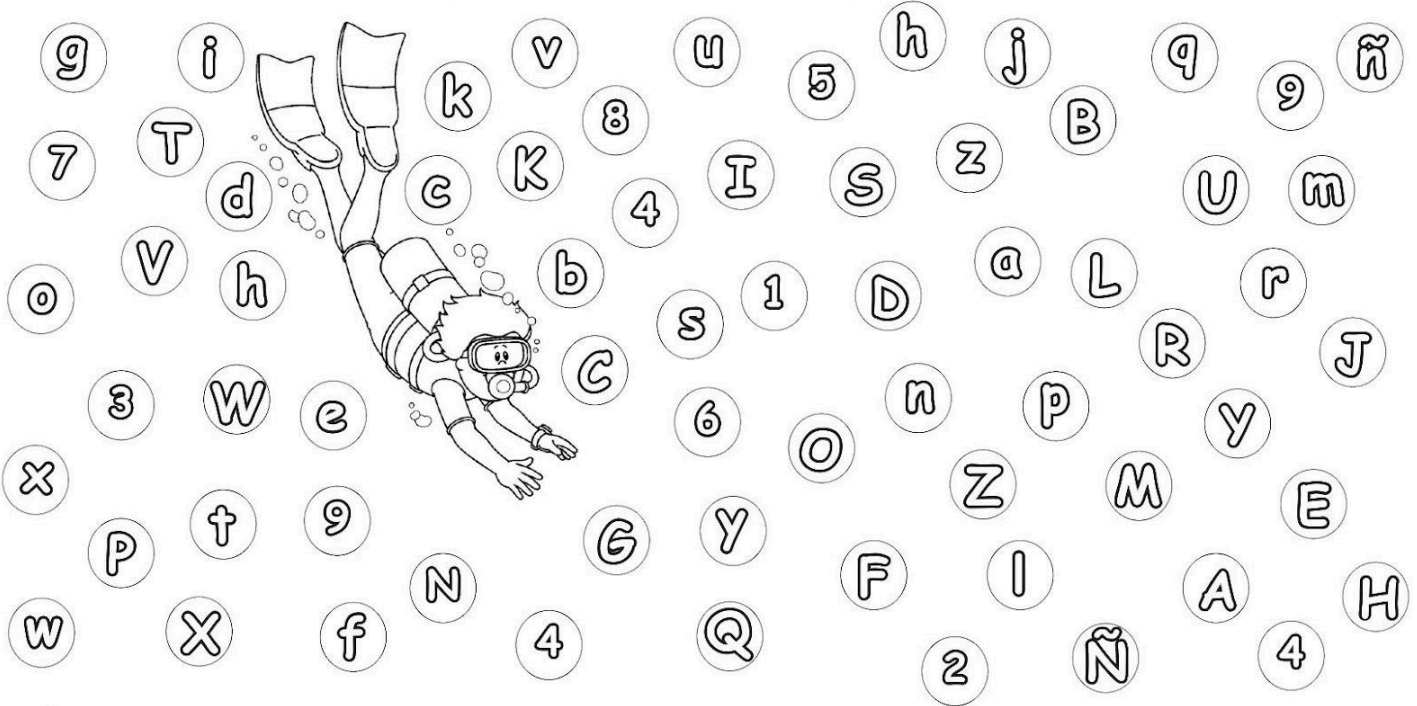


 Encuentra las letras y rellénalas con tu lápiz.



 Escribe tu nombre, cuidando que cada letra esté dentro de un cuadro.

--	--	--	--	--	--	--	--	--	--

1      2      3      4      5      6      7      8      9      10

 Cuenta cuántas letras tiene tu nombre y responde.




Mi nombre tiene

\_\_\_ letras.

 Recorta y pega tres palabras que encuentres en etiquetas, letreros o anuncios de revistas que comienzan con la primer letra de tu nombre.

👁️👁️ Observa el dibujo y contesta lo que se pide.



- Encierra la mayúscula de cada libro.
- Colorea los libros, revistas o cancioneros que hablan de animales.
- Marca una ✕ los cancioneros del tendedero.

 Manuel leyó el siguiente texto, dibuja de lo que se trata.

### El leopardo

Es un elegante y fuerte felino, pariente de los leones, los tigres y los jaguares. Su pelaje tiene manchas y se pierde entre las ramas de los árboles para atacar a sus presas, son cazadores nocturnos. En algunos lugares están amenazados, especialmente en las regiones fuera de África.

<https://www.nationalgeographic.es/animales/leopardo>  
Consultado el 10/marzo/2021

Texto adaptado para fines didácticos MEAD.





Te cuento que... las tablas de datos son medios para presentar información de manera clara, con el fin de que cualquier persona al verlas, sea capaz de entender los datos.








www.icarito.com

Consultado el 10/marzo/2021

Texto adaptado para fines didácticos MEAD.

**Observa los siguientes animales y completa la tabla coloreando la cantidad que hay de cada uno, después escribe el número que corresponde a cada uno.**

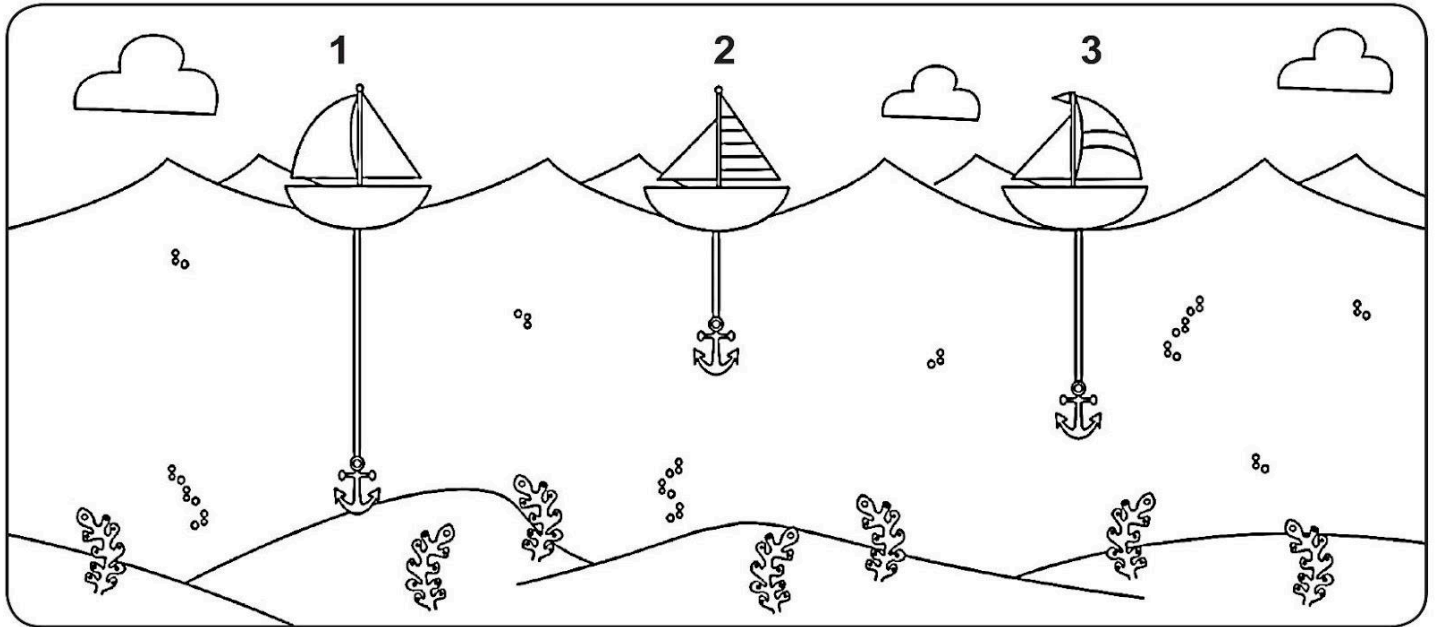


	Cantidad										
											6
											
											
											
	1	2	3	4	5	6	7	8	9	10	

**Completa la tabla preguntando a tus familiares cuál es su fruta favorita.**

Fruta	Dibuja el número de frutas que eligieron	Escribe el número
Manzana		
Naranja		
Mango		

👁️👁️ Observa las imágenes y contesta. Puedes apoyarte en tu libro de matemáticas en las páginas 56 a la 59.

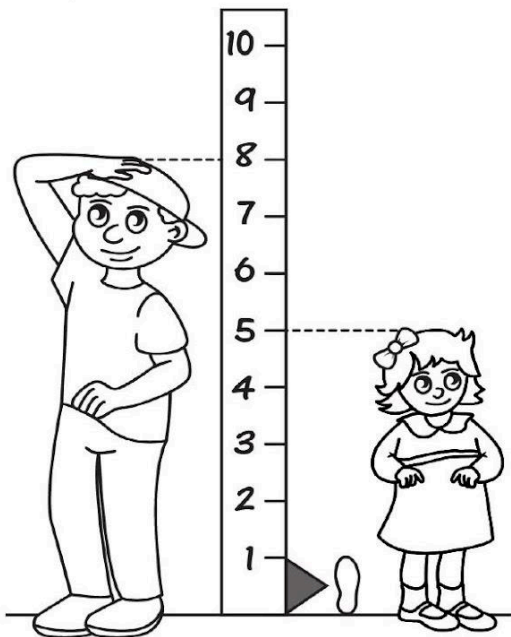


1. ¿Cuál es el número de barco que tiene el ancla más larga?

\_\_\_\_\_

2. ¿Cuál es el número de barco que tiene el ancla más corta?

\_\_\_\_\_



1. ¿Cuántos pasos mide José?

\_\_\_\_\_

2. ¿Cuántos pasos mide Ana?



\_\_\_\_\_

3. ¿Cuántos pasos más mide José que Ana?






\_\_\_\_\_

👁️👁️ Observa con atención la imagen y escribe sobre las líneas, ¿cuántas frutas y verduras hay de cada una?

1	2	3	4	5	6	7	8	9	10
---	---	---	---	---	---	---	---	---	----



 Completa la tabla.

Frutas o verduras	Frecuencia	Cantidad
		
		1
		
		3
		

 Contesta las preguntas de acuerdo a la información de la tabla.

1. ¿Cuál es la verdura que menos compran los clientes?

---

2. ¿Cuál fruta es la que más se vendió?

---

3. ¿Cuál fruta o verdura elegirías?

---















**VISITA:**

**<https://materialeducativo.org/>**

**&**

**<https://materialeseducativos.m>**

**X**