



Secretaría de Educación Pública
Escuela Primaria Urbana o Rural
“<https://materialeducativo.org/>”
C.C.T.: XXXXXXXXX

Zona Escolar: XX Sector: XX
Ciclo Escolar: 2023 – 2024
Grado: 6° Grupo: X

EXAMEN DEL PRIMER TRIMESTRE



SEXTO GRADO



Nombre del alumno(a): _____
Lugar: _____
Fecha: _____
Nombre del maestro: _____
Nombre del padre de familia o tutor: _____

Asignatura	Reactivo s	Acierto s	Calificació n	Firma del padre o tutor
Lenguajes	28			
Saberes y pensamiento científico	50			
Ética, naturaleza y sociedades	37			
De lo humano y lo comunitario	18			
PROMEDIO				

Lenguajes

Lee lo siguiente y contesta los reactivos 1 al 3

45. ¿Que es lo que más te gusta de la escuela?

1. ¿Qué palabra del reactivo anterior, presenta falta de ortografía?

- a) Entrevista. c) Que.
- b) Función. d) Es.

2. ¿Qué tipo de reactivo tiene el recuadro?

- a) Pregunta cerrada.
- b) Opción múltiple.
- c) Jerarquización.
- d) Pregunta abierta.

3. ¿Cuál es su objetivo?

- a) Saber si se comprendió algo y exponerlo.
- b) Conocer a alguien.
- c) Hacer plática con alguien.
- d) Dar la única respuesta.

4. ¿Cómo se llaman los signos que acompañan a las preguntas?

- a) De admiración.
- b) De pregunta.
- c) De interrogación.
- d) De exclamación.

5. ¿Cuál es una estrategia para estudiar?

- a) Escribir las respuestas en un papelito y copiar.
- b) Leer rápidamente las indicaciones.
- c) Reflexionar antes de escribir.
- d) No revisar.

6. ¿Para qué me sirve un cuadro sinóptico?

- a) Para organizar y sintetizar información de estudio.
- b) Para elegir un tema.
- c) Para hacer una lista de actividades.
- d) Para escribir respuestas.

7. ¿Qué tipo de modalidad de guía de estudio es la siguiente?

¿A los niños y las niñas les engrosa la voz en la pubertad?

()sí ()no

- a) Falso y verdadero.
- b) Completar frase.
- c) Pregunta abierta.
- d) Pregunta cerrada.

8. ¿Cuál de las siguientes es una modalidad de falso-verdadero?

- a) ¿Cómo es la vida de los animales marinos?
- b) La vida en el bosque es calurosa. _____
- c) La Tierra es _____.
- d) ¿Cómo se llaman los planetas?

Lee el siguiente texto y contesta los reactivos.

Magdalena Carmen Frida Kahlo Calderón (Coyoacán, 6 de julio de 1907-ibidem, 13 de julio de 1954) fue una pintora mexicana.² Su vida estuvo marcada por el infortunio de contraer poliomielitis y después por un grave accidente en su juventud que la mantuvo postrada en cama durante largos periodos, llegando a someterse hasta a 32 operaciones quirúrgicas.³ Llevó una vida poco convencional.³ Su obra pictórica gira temáticamente en torno a su biografía y a su propio sufrimiento. Fue autora de unas 200 obras, principalmente autorretratos, en los que proyectó sus dificultades por sobrevivir. La obra de Frida y la de su marido, el reconocido pintor Diego Rivera, se influyeron mutuamente. Ambos compartieron el gusto por el arte popular mexicano de raíces indígenas, inspirando a otros pintores mexicanos del periodo posrevolucionario.

En 1939 expuso sus pinturas en Francia gracias a una invitación de André Breton, quien intentó convencerla de que eran «surrealistas», aunque Kahlo decía que esta tendencia no correspondía con su arte ya que ella no pintaba sueños sino su propia vida. Una de las obras de esta exposición (Autorretrato-El marco, que actualmente se encuentra en el Centro Pompidou) se convirtió en el primer cuadro de un artista mexicano adquirido

por el Museo del Louvre. Hasta entonces, Frida Kahlo había pintado solo privadamente y a ella misma le costó admitir que su obra pudiese tener un interés general. Aunque gozó de la admiración de destacados pintores e intelectuales de su época como Pablo Picasso, Vasili Kandinski, André Breton o Marcel Duchamp, su obra alcanzó fama y verdadero reconocimiento internacional después de su muerte, especialmente a finales de los años de 1980 y principios de 1990 por coleccionistas como la cantante Madonna.

https://es.wikipedia.org/wiki/Frida_Kahlo

9. ¿Qué tipo de texto es el anterior?

- a) Es un guión de radio.
- b) Es una autobiografía.
- c) Es un relato histórico.
- d) Es una biografía.

10. ¿Qué pronombre personal se usa en el texto?

- a) Yo. c) Él.
- b) Tú. d) Usted.

11. Lee la siguiente frase y elige qué tipo de oración es.

"Juan Rulfo nació el 16 de mayo de 1917 en la casa familiar de Apulco, Jalisco; aunque fue registrado en la ciudad de Sayula"

- a) Yuxtapuesta.
- b) Coordinada.
- c) Subordinada.
- d) Meta coordinada.

12. Elige la frase que muestra una descripción:

- a) En 1948 se casó con Clara Aparicio, con la que tendría varios hijos.
- b) La labor etnográfica de Rulfo culminó con su trabajo en el Instituto Nacional Indigenista de México.
- c) Juan Rulfo era un hombre de fino humor y su joven esposa una bella mujer.
- d) En 1953 escribió El Llano en llamas.

13. ¿Qué pronombre personal se usa en una autobiografía?

- a) Yo. c) Él.
- b) Tú. d) Nosotros.

14. Se le llama así al encargado de poner la música y grabar el programa de radio.

- a) Operador. c) Guionista.
- b) Locutor. d) Director.

15. Es la identificación del programa. Se utiliza al comienzo y al final del programa o para salir a comerciales.

- a) Cortinilla. c) Cápsula.
- b) Rúbrica. d) Música.

16. Son personas que realizan un programa de radio, excepto.

- a) Locutores. c) Secretaria.
- Productor. d) Guionista.

Lee el siguiente texto y contesta los reactivos

Villahermosa, Ciudad energética del mundo.



Villahermosa es la ciudad capital del estado de **Tabasco, México**, y la cabecera del municipio de **Centro**. Se fundó el **24 de junio de 1564** (día de **San Juan Bautista**, de ahí su nombre original) por el español don **Diego de Quijada**.

La ciudad se destaca como un centro de negocios y administración de la industria petrolera y del sureste de México. Villahermosa, ha sido nombrada una de las "Ciudades Energéticas del Mundo", (siendo la única de **América Latina**), y desde hace varios años, es sede permanente de la "Conferencia y Exposición Internacional del Petróleo de México" evento que se realiza cada año y que aglutina a más de 3000 asistentes y 200 expositores de todo el mundo.

Localización

Ubicada a 904 km al sureste de la **Ciudad de México**, la ciudad se encuentra en el municipio de **Centro**, el cual colinda al norte con los municipios de Nacajuca y Centla, al sur con los municipios de **Jalapa** y **Teapa** y con el Estado de **Chiapas**, al este con los municipios

de **Centla**, **Jalapa** y **Macuspana** y al oeste con el estado de Chiapas y con los municipios de **Cunduacán** y **Nacajuca**.

Clima

Al igual que la mayor parte del estado de Tabasco, el clima en Villahermosa es cálido-húmedo-seco. La temperatura durante la primavera puede llegar a superar los 40° C con una **humedad relativa** superior al 90%; durante el corto invierno el clima es más seco y las temperaturas son más bajas.

Turismo

Villahermosa le brinda al turista una gran cantidad de atracciones, entre las que se encuentran zoológicos, museos de historia, parques ecológicos, museos interactivos y enormes áreas verdes. Villahermosa es cultura y tradición.

Gastronomía

Se distingue por una amplia variedad de sabores, muchos de ellos herencia de la mezcla de la cultura chontal e hispánica. Algunos de los platillos tradicionales son las empanadas y los tamales de pejelagarto, las empanadas rellenas de camarón, la tortuga acompañada con plátano verde, pescados y mariscos, etc., La bebida típica del estado es el **pozol**, la cual es una mezcla de maíz molido con cacao.

Cultura y lugares para visitar

La ciudad acoge dos museos excelentes: el **Parque Museo La Venta**, único en su género considerado uno de los museos más extraordinarios de México, en el que se exhiben más de 30 piezas de la cultura **olmeca** diseminadas en un ambiente selvático, y el museo de antropología "**Carlos Pellicer Cámara**", que contiene piezas **mayas**, **olmecas** y de otras culturas mesoamericanas.

Festividades

Entre sus festividades tenemos:

- Carnaval de Villahermosa.

Se celebra año tras año antes del miércoles de ceniza, e incluye una agenda itinerante entre las villas del municipio de **Centro**.

- San Juan el bautista (24 de junio)

La celebración más importante es el 24 de junio, (día de San Juan Bautista) patrono de la ciudad, además de celebrarse ese día, la fundación de Villahermosa.

- Feria de tabasco.

La **Feria Tabasco** está catalogada como una de las 3 ferias más importantes de **México** y la número uno en cantidad de atracciones y espectáculos, al recibir más de 2 millones de visitantes. Se lleva a cabo en esta ciudad durante los últimos días de abril y los primeros de mayo.

[https://es.wikipedia.org/wiki/Villahermosa_\(Tabasco\)](https://es.wikipedia.org/wiki/Villahermosa_(Tabasco))

17. ¿Por qué Villahermosa es denominada "ciudad energética del mundo"?

- a) Porque es tan bella que da energía al turista.
- b) Porque sus verdes valles brindan energía cada mañana.
- c) Porque es un centro de negocios y administración de la industria petrolera.
- d) Porque tiene fuentes de energía eólica con sus molinos de viento.

18. ¿Qué dato importante nos habla el párrafo 4?

- a) Acerca de la alta temperatura que existe en primavera de 40°C.
- b) Sobre la gran cantidad de atracciones turísticas.
- c) De los ricos platillos de pejelagarto y sus bebida típicas.
- d) Sobre su ubicación con otros municipios de Centro.

19. Son elementos de un reportaje excepto.

- a) Título.
- b) Subtemas.
- c) El suspenso.
- d) Fuente bibliográfica.

20. Cuando investigamos sobre un tema se sugiere organizar la información en:

- a) El cuaderno.
- b) Notas de investigación.
- c) El libro de texto.
- d) El celular.

21. Son características de los cuentos de misterio o terror, excepto.

- a) Mantienen al lector en suspenso.
- b) Hay protagonistas y antagonistas.
- c) Sus escenarios pueden ser abiertos o cerrados.
- d) Está escrito en segunda persona.

Lee el siguiente texto y contesta los reactivos

"La mujer miró a su alrededor, parecía perdida y desorientada, su corazón comenzó a latir mientras caminaba buscando la salida. En ese momento, se detuvo a mirar por un orificio, no podía creer lo que veían sus ojos, solo tapó su boca para no gritar aterradoramente..."

22. La mujer era:

- a) Una señora enojona de 60 años que había ido a la iglesia.
- b) Una chica tierna que había perdido a su perro en el parque.
- c) Una chica asustada dentro de una cabaña que estaba inmersa en un oscuro bosque.
- d) Una señora triste que no encontraba el vestido que quería comprar.

23. ¿En cuál frase se presenta una narración simultánea?

- a) La mujer miró a su alrededor.
- b) No podía creer lo que veían sus ojos.
- c) En ese momento, se detuvo.
- d) Su corazón comenzó a latir mientras caminaba buscando la salida.

24. Es un conector que crea suspenso en el texto.

- a) En ese momento.
- b) Mientras.
- c) Atterradoramente.

Comenzó.

Saberes y pensamiento científico

1. ¿Cuál es la cifra mayor que se puede formar con los siguientes números?

6, 1, 5, 8, 0, 9, 3, 3

- a) 98, 336, 510.
- b) 98, 653, 310.
- c) 98, 653, 910.
- d) 98, 633, 510.

2. Carmen, Memo, Poncho y Jocelyn están en una carrera de bicicletas. Carmen lleva $\frac{3}{5}$ del trayecto, Memo $\frac{4}{7}$, Poncho $\frac{3}{4}$ y Jocelyn $\frac{1}{2}$, ¿quién lleva más recorrido?

- a) Carmen.
- b) Poncho.
- c) Memo.
- d) Jocelyn.

3. Fuimos al Circo "Hermanos Poncho y Carlos", y tuvimos que pagar en total \$350 por mis dos hermanos, mis padres y yo. Mi mamá pagó $\frac{1}{7}$ parte del total, mi

hermano mayor $\frac{2}{5}$ del total y mi papá el resto. ¿Cuánto pagó mi papá?

- a) \$140
- b) \$160
- c) \$50
- d) \$300

4. ¿Cuánto agrego a $\frac{2}{4}$ para completar $\frac{5}{8}$?

- a) $\frac{4}{3}$
- b) $\frac{1}{5}$
- c) $\frac{2}{7}$
- d) $\frac{1}{8}$

5. Mi tío compró un terreno campestre de forma rectangular que mide $\frac{3}{4}$ hm de largo y $\frac{1}{2}$ hm de ancho, ¿cuál es su área?


- a) $\frac{3}{8}$ hm².
- b) $\frac{3}{7}$ hm².
- c) $\frac{2}{8}$ hm².
- d) $\frac{5}{3}$ hm².

6. El precio del listón tricolor cuesta \$15.5 metro, si mi mamá me hizo dos moños para el festival de la Independencia y cada moño necesitó 3.5 m de listón, ¿cuánto pagó mi mamá?

- a) \$100.50
- b) \$205.30
- c) \$108.50
- d) \$105.80

7. ¿Cuántos ejes de simetría tiene la siguiente figura?

- a) 1 eje.
- b) 2 ejes.
- c) 3 ejes.
- d) 4 ejes.



8. ¿Cuántos ejes de simetría tiene la siguiente figura?

- a) 1 eje.
- b) 2 ejes.
- c) 3 ejes.
- d) 4 ejes.



Observa el siguiente mapa y contesta.



9. ¿Cuál es la distancia real en kilómetros entre Puebla y Oaxaca si su escala es de 1:6,800,000 y en el mapa mide 5 centímetros de un punto a otro?

- a) 150 km c) 68 km
- b) 340 km d) 6800 km

10. Voy a pedir un préstamo. Si por cada \$100 que pida voy a pagar 5 pesos de interés, ¿Cuánto interés pagaré si pido \$10,000 prestados?

- a) \$500.00 c) \$5000.00
- b) \$50.00 d) \$5.00

11. Mi hermano también fue a pedir prestado, pero él solo pidió \$2500, ¿cuánto pagará de interés?

- a) \$250.00 c) \$1000.00
- b) \$100.00 d) \$125.00


12. Mi tía compró un reloj de regalo para mi tío con un precio de \$1550, pero además tenía el 10% de descuento, ¿cuánto pagó finalmente por el reloj ya con descuento?

- a) \$1410.50 c) \$1230.5
- b) \$1395.00 d) \$155.00

13. Esther compró un celular que costaba \$6200, pero al pagar solo le cobraron \$4340 porque tenía descuento. ¿De cuánto era el descuento en porcentaje?

- a) 10% c) 30%
- b) 20% d) 40%

Observa la siguiente gráfica de una venta bimestral de la papelería "La Geometría", y contesta los reactivos.



Total vendido: 9200 pesos.

14. ¿Cuánto se vendió de borradores en pesos?

- a) \$1380.00 c) \$1500.00
- b) \$15.00 d) \$200.00

15. Si se vendieron 115 forros, ¿cuánto cuesta cada forro?

- a) \$10.00 c) \$12.50
- b) \$11.50 d) \$12.00

16. Mi primo y yo fuimos a una competencia de Motociclismo de velocidad, con un circuito de 400 m en donde los competidores dan 12 vueltas en el menor tiempo posible. Cuando iban en el minuto 4 los competidores llevaban el siguiente recorrido:

Competidor A: $\frac{1}{4}$ del recorrido total.
 Competidor B: 0.25 del recorrido total.
 Competidor C: $\frac{2}{5}$ del recorrido total.
 Competidor D: 1600 m. del recorrido total.

¿Quién iba ganando en ese momento la carrera?

- a) Competidor A. c) Competidor C.
- b) Competidor B. d) Competidor D.

17. Se empacaron 28 cajas de unicel con 100 paletas cada una, ¿cuántas paletas se empacaron?

- a) 28000 paletas. c) 2800 paletas.
- b) 2800 cajas. d) 280 cajas.

18. Es el resultado de multiplicar 1907 X 1000.

- a) 1907000. c) 1900700.
- b) 197000. d) 1900070.

19. ¿Cuántas caras laterales tiene un prisma hexagonal?

- a) 5. c) 7.
- b) 6. d) 8.

20. ¿Qué forma tienen las caras laterales de una pirámide cuadrangular?

- a) Cuadrada. c) Circular.
- b) Rectangular. d) Triangular.

21. El precio en lista de una gorra azul de la marca *Mike* es de \$1150, si tiene un descuento del 25%, ¿cuál es su precio final?

- a) \$287.50 c) \$1000.00
- b) \$862.50 d) \$950.00

22. Una playera de la misma marca cuesta con IVA incluido \$612.48, ¿cuál será su precio sin IVA?

- a) \$528.00 c) \$514.48
- b) \$98.00 d) \$600.00

23. ¿Qué cantidad de agua se recomienda beber diariamente?

- a) 8 vasos al día.
- b) 8 litros al día.
- c) 6 litros al día.
- d) 5 tazas al día.

24. Las siguientes son actividades de un estilo de vida saludable, excepto:

- a) Llevar una dieta adecuada con los tres tipos de alimento.
- b) Beber agua diariamente.
- c) Hacer ejercicio una vez al año.
- d) Ir al doctor a revisión dos veces al año.

25. Es el sistema que nos permite reaccionar a estímulos, permitiendo tener movimientos voluntarios e involuntarios.

- a) Sistema respiratorio.
- b) Sistema nervioso.

- c) Sistema inmunológico.
- d) Sistema circulatorio.

26. Es el sistema que se encarga de proteger el cuerpo de bacterias o virus que entran en él.

- a) Sistema respiratorio.
- b) Sistema nervioso.
- c) Sistema inmunológico.
- d) Sistema circulatorio.

27. El siguiente puede ser un riesgo en la escuela.

- a) Estudiar en el salón.
- b) Leer un libro.
- c) Compartir una torta.
- d) Ir al baño corriendo.

28. ¿Cuál es la etapa que inicia físicamente con la pubertad, entre los 10 y 14 años y termina aproximadamente a los 19 años?

- a) Infancia. c) Vejez.
- b) Adultez. d) Adolescencia.

29. Es un factor de riesgo para contraer cáncer de mama.

- a) Continuar menstruando después de los 50 años.
- b) Trabajar durante 8 horas diarias.
- c) No tener novio.
- d) No utilizar hormonas durante la menopausia.

30. ¿Por qué es importante estar informado con respecto a la sexualidad?

- a) Para conocer a nuestra pareja.
- b) Para evitar enfermedades sexuales o embarazos a temprana edad.
- c) Para dar clases de sexualidad a nuestros amigos cercanos.
- d) Para convivir con hombres y mujeres.

31. Es el método anticonceptivo que además de prevenir una infección sexual, también previene el embarazo.

- a) Implante anticonceptivo.
- b) Pastillas anticonceptivas.
- c) Condón masculino o preservativo.
- d) Hormonas.

32. Es una infección sexual mortal.

- a) SIDA. c) Ataque al corazón.
Gripa. d) Dolor de garganta.

33. ¿Por qué es importante tener conocimiento de los fósiles?

- a) Porque son seres mitológicos del pasado.
b) Porque fueron los antepasados de los dragones.
c) Para saber sobre el medio que les rodeaba en el pasado y sus particularidades.
d) Porque sin ellos no hubiera museos.

34. Son algunas razones de las extinciones masivas, excepto.

- a) Cambios drásticos en la formación del relieve terrestre.
b) Cambios climáticos.
c) Actividad y expansión humana.
d) Exceso de alimento.

35. ¿Cuáles son algunos factores físicos que necesitan los seres vivos para sobrevivir?

- a) El celular y la computadora.
b) La ropa y los zapatos.
c) El agua y el aire.
d) Las frutas y verduras.

36. ¿Es posible que una rana sobreviva si el charco donde vive se seca?

- a) Sí, porque puede esperarse a que llueva.
b) Sí, porque puede ir en busca de otro charco.
c) No, porque en cuanto se seca el charco, ella muere.
d) No, porque solo puede vivir en un solo charco.

37. ¿Cómo cuidan la naturaleza los lacandones de Chiapas?

- a) Procuran no extender sus áreas de cultivo y variar los productos que cultivan.
b) Siembran siempre el mismo producto.
c) No siembran nunca para que los suelos se conserven.
d) Tumban los árboles viejos y plantan nuevos.

1. Son representaciones de porciones de la superficie terrestre elaboradas sobre un plano (hoja de papel).

- a) Los mapas.
b) Las casas.
c) Los globos terráqueos.
d) GPS.

2. ¿Cuáles son los dos tipos de mapas de acuerdo a su contenido?

- a) Grandes y chicos.
b) De climas y ríos.
c) De continentes y municipios.
d) De referencia y temático.

3. Son elementos de los mapas, excepto.

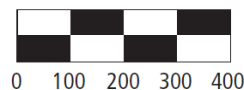
- a) Proyección y simbología.
b) Margen y colores.
c) Escala y orientación espacial.
d) Título y proyección.

4. Es la proyección que más usamos, por ejemplo en un planisferio.

- a) Proyección cilíndrica.
b) Proyección cónica.
c) Proyección plana o acimutal.
d) Proyección organizada.

5. Es un ejemplo de escala gráfica.

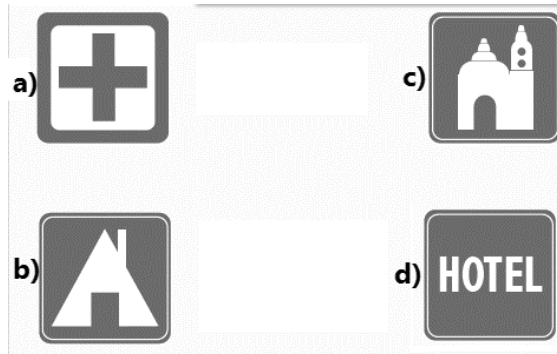
- a) 1 a 10 millones.
b) 1: 10 000 000.
c) Uno a diez millones.
d) Escala 1: 10 000 000



6. Además de ser representaciones de ciudades, tienen valor histórico porque se registran en las diferentes épocas de la ciudad.

- a) El mapa.
b) El plano urbano.
c) La imagen satelital.
d) La fotografía.

7. Es el símbolo que significa lugar para acampar.



8. Son registros de la superficie de la Tierra que se captan desde aviones.

- a) La imagen satelital.
- b) El plano urbano.
- c) La fotografía aérea.
- d) El plano.

9. Sus imágenes captan espacios mayores e incluso pueden captar hasta la radiación que emite la Tierra.

- a) El mapa.
- b) El plano urbano.
- c) La imagen satelital.
- d) La fotografía aérea.

10. Es un receptor que determina las coordenadas geográficas de cualquier lugar de la superficie terrestre, incluso localiza objetos fijos o en movimiento.

- a) GPS o SIG.
- b) Fotografía aérea.
- c) Imagen satelital.

Plano histórico.

11. ¿Cuál es el movimiento de la Tierra que ocasiona el día y la noche?

- a) Movimiento de Rotación.
- b) Movimiento de Traslación.
- c) Movimiento de Nutación.
- d) Movimiento de Precesión.

12. El movimiento de traslación tiene como consecuencia las estaciones del año. ¿Qué estación del año tenemos en México en noviembre?

- a) Primavera.
- b) Verano.
- c) Otoño.
- d) Invierno.

13. Es el movimiento de divergencia de las placas tectónicas.

- a) Cuando las placas chocan entre sí.
- b) Cuando las placas se alejan una de otra.
- c) Cuando ninguna de las dos se toca sino que se desplazan horizontalmente.
- d) Ninguna de las anteriores.

14. ¿Cuál es la unidad de medida que proporciona la magnitud de un sismo?

- a) Richter.
- b) Decibel.
- c) Kilómetro.
- d) Centígrado.

15. ¿Cómo se distribuyen el agua en nuestro planeta?

- a) 3% agua salada y 97% agua dulce.
- b) 90% agua dulce y 10% agua salada.
- c) 97% agua salada y 3% agua dulce.
- d) 50% agua salada y 50% agua dulce.

16. La primera Civilización agrícola floreció en Mesopotamia hacia el año 4000 a. C., ¿hace cuántos siglos sucedió este evento?

- a) Hace 40 siglos.
- b) Hace 400 siglos.
- c) Hace 60 siglos.
- d) Hace 200 siglos.

17. ¿Por qué las primeras civilizaciones surgieron en los márgenes de los grandes ríos de Asia y África?

- a) Porque ahí se encontraban los suelos más fértiles.
- b) Porque eran los lugares no habitados.
- c) Porque ese lugar fue el que compraron entre todos.
- d) Porque no había más opciones para habitar.

18. ¿Por qué el Mar Mediterráneo se convirtió en un importante espacio de intercambio?

- a) Por sus escasas corrientes que favorecieron la navegación y la cercanía de sus islas.
- b) Porque tenía corrientes muy fuertes para navegar y pronto llegaban a su destino.
- c) Porque era un mar muy profundo.
- d) Porque era el mar más bonito y conocido por todos.

19. ¿Qué significa democracia?

- a) El pueblo del gobierno.
- b) La nación del gobierno.
- c) El gobierno del pueblo.
- d) El pueblo del pueblo.

20. ¿Qué fue lo que favoreció la expansión del Imperio Romano?

- a) Que tenía mucho territorio.
- b) Su organización y su control militar.
- c) Su gran disponibilidad para convencer a los países de unirse a él.

La poca capacidad de su rey para

21. Según investigaciones, el ser humano tiene su origen en ese continente.

- a) Europa.
- b) Asia.
- c) América.
- d) África.

22. Elige la frase verdadera.

- a) Los seres humanos cruzaron de Asia a América por el Estrecho de Bering.
- b) Los nómadas se quedaban en sus aldeas.
- c) El hombre proviene de Oceanía.
- d) Nosotros somos considerados homo erectus.

23. ¿Por qué fueron capaces los homínidos de fabricar instrumentos?

- a) Porque las glaciaciones terminaron.
- b) Porque tenían dedos pulgares que les permitían manejar objetos.
- c) Porque tenían más fuerza que otros.
- d) Porque a eso se dedicaban para venderlos.

24. ¿Cuáles son los dos grupos de homínidos?

- a) Hombre y mujer.
- b) Los Australopithecus y los Homo.
- c) Sapiens sapiens y erectus.
- d) Sedentarios y nómadas.

25. La caza era una actividad coordinada en la que participaban:

- a) Hombres y niños.
- b) Mujeres y niños.
- c) Hombres.
- d) Hombres y mujeres.



26. Es una de las características más sobresalientes de los sedentarios.

- a) Lograron asentarse en las cercanías de los sembradíos.
- b) Andaban de un lugar a otro buscando alimento.
- c) Recolectaban frutos silvestres mientras caminaban.
- d) Buscaban agua.

27. ¿Cuándo y dónde se descubrió la agricultura?

- a) Hace 3000 años en África.
- b) Hace 10000 años en Asia.
- c) Hace 5000 años en América.
- d) Hace 1000 años en Europa.

28. Observa la siguiente imagen y elige la escritura alfabética, la cual es el antecedente de nuestra escritura.



29. ¿Por qué es importante la invención de la escritura?

- a) Porque marcó el fin de la prehistoria y fue así como el ser humano pudo dejar registros escritos, que más tarde sirvieron como fuente de estudio.

- b) Porque los símbolos eran necesarios en las cosechas y si no sabían escribir, no comían.
- c) Porque las ciudades impulsaron el intercambio de productos y entre ellos la escritura.
- d) Porque la sociedad lo solicitó al jefe mayor.

30. Esta presa era muy difícil de cazar, para hacerlo tenían que conducirlo a un pantano donde quedaba atrapado y ahí le arrojaban sus lanzas y flechas.

- a) La ballena blanca.
- b) La vaca.
- c) El tigre dientes de sable.

El mamut.

31. La primera Civilización agrícola floreció en Mesopotamia hacia el año 4000 a. C., ¿hace cuántos siglos sucedió este evento?

- e) Hace 40 siglos.
- f) Hace 400 siglos.
- g) Hace 60 siglos.
- h) Hace 200 siglos.

32. ¿Por qué las primeras civilizaciones surgieron en los márgenes de los grandes ríos de Asia y África?

- e) Porque ahí se encontraban los suelos más fértiles.
- f) Porque eran los lugares no habitados.
- g) Porque ese lugar fue el que compraron entre todos.
- h) Porque no había más opciones para habitar.

33. ¿Por qué el Mar Mediterráneo se convirtió en un importante espacio de intercambio?

- e) Por sus escasas corrientes que favorecieron la navegación y la cercanía de sus islas.
- f) Porque tenía corrientes muy fuertes para navegar y pronto llegaban a su destino.
- g) Porque era un mar muy profundo.
- h) Porque era el mar más bonito y conocido por todos.

34. ¿Qué significa democracia?

- e) El pueblo del gobierno.
- f) La nación del gobierno.
- g) El gobierno del pueblo.

- h) El pueblo del pueblo.

35. ¿Qué fue lo que favoreció la expansión del Imperio Romano?

- d) Que tenía mucho territorio.
- e) Su organización y su control militar.
- f) Su gran disponibilidad para convencer a los países de unirse a él.

La poca capacidad de su rey para gobernar.

De lo humano y lo comunitario

1. Elige la frase verdadera.

- a) Los cambios físicos están separados de los emocionales.
- b) Las emociones y los sentimientos están conectados con lo físico.
- c) A los hombres les crecen los ovarios.
- d) La pubertad es crecimiento de vellos en las axilas.

2. Es un cambio físico exclusivo de la mujer en la pubertad.

- a) El olor del sudor se hace más intenso.
- b) Aparece acné.
- c) Enamoramiento y atracción sexual.
- d) Crecen las mamas.

3. "La pubertad también es una etapa de construcción de identidad personal y social"

La frase anterior es:

- a) Verdadera.
- b) Falsa.
- c) Parcialmente falsa.
- d) Ninguna de las anteriores.

4. Todos los seres humanos tienen derecho a:

- a) Estar enfermos y decir que tienen salud.
- b) Resistir una enfermedad y no atenderse.
- c) La salud.
- d) No dormir.

5. ¿Cuáles son los riesgos de salud al iniciar la vida sexual?

- a) Que tu pareja no sea lo que esperabas.
- b) Contraer una enfermedad sexual (ITS).
- c) No embarazarse.

Cuidar a tu pareja.

6. Pablo es novio de Magnolia y le pidió que tuvieran relaciones sexuales. ¿Cuál es la mejor opción para que Bertha tome una buena decisión?

- a) Platicar con su mejor amiga para que decida por ella.
- b) Buscar información en el internet.
- c) Platicarlo con Mario para decidir juntos.
- d) Buscar el consejo de su mamá, maestra o algún familiar a quien le tenga confianza.

7. ¿Cómo podemos evitar la baja percepción de riesgo?

- a) Teniendo miedo siempre.
- b) Aprender a estar alerta y prestar atención a las emociones que nos avisan del peligro.
- c) Estar atentos a los avisos de nuestros amigos.
- d) Vivir siempre sin preocupaciones.

8. ¿Qué es un estereotipo?

- a) Es un comercial de refrescos.
- b) Son las mujeres que pasan en los comerciales educativos.
- c) Es la imagen que tiene todos los libros en su portada.
- d) Es la imagen o modelo de cómo debe ser alguien de cierto grupo de personas.

9. ¿Cuál de las siguientes situaciones presenta un estereotipo?

- a) Lolita va a comprar una torta para desayunar.
- b) Miguel no tiene amigos.
- c) Rosario siempre viste de rosa, porque su mamá dice que ese es el color de las niñas.
- d) Minerva usa pantalón de mezclilla.

10. Lo mejor es:

- a) No hacer caso a estereotipos ni prejuicios.
- b) Hacer caso de los estereotipos.

- c) Estar en un grupo de amigos que te piden ser de una cierta manera.
- d) Ser solitario todo el tiempo.

11. ¿Cómo reaccionamos cuando sentimos alegría?

- a) Nos achicamos.
- b) Tocamos a los demás y brincamos.
- c) Nos ponemos alertas y sentimos escalofríos.
- d) Ponemos cara de enojo.

12. Es una manera asertiva de expresar un enojo.

- a) Gritar y cerrar los ojos.
- b) Respirar fuerte y golpear cosas.
- c) Llorar y sentirse triste.
- d) Respirar profundo y hablar del problema con alguien de confianza.

13. Son estrategias para fortalecer tu capacidad de comunicar de forma asertiva tus sentimientos y emociones, excepto.

- a) Utilizar frases en primera persona describiendo lo que sientes.
- b) Comunicarse claramente diciendo lo que te asusta o lastima.
- c) Proyectar seguridad y amabilidad al expresarte.
- d) No controlar los impulsos y actuar antes de pensar.

14. Mentir es:

- a) Un acto de incongruencia porque no concuerda lo que se dice con lo que se hace.
- b) Necesario cuando mis padres no saben dónde ando.
- c) Importante, pues así me aceptan mis amigos.
- d) Solo para los niños, pues los adultos no lo pueden hacer.

15. Los siguientes son valores positivos, excepto:

- a) Responsabilidad.
- b) Equidad.
- c) Ilegalidad.
- d) Honestidad.

HOJA DE RESPUESTAS

Nombre del alumno: _____

Lenguajes					Saberes y pensamiento científico					Ética, naturaleza y sociedades					De lo humano y lo comunitario				
1	A	B	C	D	1	A	B	C	D	1	A	B	C	D	1	A	B	C	D
2	A	B	C	D	2	A	B	C	D	2	A	B	C	D	2	A	B	C	D
3	A	B	C	D	3	A	B	C	D	3	A	B	C	D	3	A	B	C	D
4	A	B	C	D	4	A	B	C	D	4	A	B	C	D	4	A	B	C	D
5	A	B	C	D	5	A	B	C	D	5	A	B	C	D	5	A	B	C	D
6	A	B	C	D	6	A	B	C	D	6	A	B	C	D	6	A	B	C	D
7	A	B	C	D	7	A	B	C	D	7	A	B	C	D	7	A	B	C	D
8	A	B	C	D	8	A	B	C	D	8	A	B	C	D	8	A	B	C	D
9	A	B	C	D	9	A	B	C	D	9	A	B	C	D	9	A	B	C	D
10	A	B	C	D	10	A	B	C	D	10	A	B	C	D	10	A	B	C	D
11	A	B	C	D	11	A	B	C	D	11	A	B	C	D	11	A	B	C	D
12	A	B	C	D	12	A	B	C	D	12	A	B	C	D	12	A	B	C	D
13	A	B	C	D	13	A	B	C	D	13	A	B	C	D	13	A	B	C	D
14	A	B	C	D	14	A	B	C	D	14	A	B	C	D	14	A	B	C	D
15	A	B	C	D	15	A	B	C	D	15	A	B	C	D	15	A	B	C	D
16	A	B	C	D	16	A	B	C	D	16	A	B	C	D	16	A	B	C	D
17	A	B	C	D	17	A	B	C	D	17	A	B	C	D	17	A	B	C	D
18	A	B	C	D	18	A	B	C	D	18	A	B	C	D	18	A	B	C	D
19	A	B	C	D	19	A	B	C	D	19	A	B	C	D	19	A	B	C	D
20	A	B	C	D	20	A	B	C	D	20	A	B	C	D	20	A	B	C	D
21	A	B	C	D	21	A	B	C	D	21	A	B	C	D	21	A	B	C	D
22	A	B	C	D	22	A	B	C	D	22	A	B	C	D	22	A	B	C	D
23	A	B	C	D	23	A	B	C	D	23	A	B	C	D	23	A	B	C	D
24	A	B	C	D	24	A	B	C	D	24	A	B	C	D	24	A	B	C	D
25	A	B	C	D	25	A	B	C	D	25	A	B	C	D	25	A	B	C	D
26	A	B	C	D	26	A	B	C	D	26	A	B	C	D	26	A	B	C	D
27	A	B	C	D	27	A	B	C	D	27	A	B	C	D	27	A	B	C	D
28	A	B	C	D	28	A	B	C	D	28	A	B	C	D	28	A	B	C	D
29	A	B	C	D	29	A	B	C	D	29	A	B	C	D	29	A	B	C	D
30	A	B	C	D	30	A	B	C	D	30	A	B	C	D	30	A	B	C	D
31	A	B	C	D	31	A	B	C	D	31	A	B	C	D	31	A	B	C	D
32	A	B	C	D	32	A	B	C	D	32	A	B	C	D	32	A	B	C	D
33	A	B	C	D	33	A	B	C	D	33	A	B	C	D	33	A	B	C	D
34	A	B	C	D	34	A	B	C	D	34	A	B	C	D	34	A	B	C	D
35	A	B	C	D	35	A	B	C	D	35	A	B	C	D	35	A	B	C	D
36	A	B	C	D	36	A	B	C	D	36	A	B	C	D	36	A	B	C	D
37	A	B	C	D	37	A	B	C	D	37	A	B	C	D	37	A	B	C	D

CLAVE DE RESPUESTAS

Lenguajes		Saberes y pensamiento científico		Ética, naturaleza y sociedades		De lo humano y lo comunitario	
Reactivo	Respuesta	Reactivo	Respuesta	Reactivo	Respuesta	Reactivo	Respuesta
1	C	1	B	1	A	1	B
2	D	2	C	2	D	2	D
3	B	3	B	3	B	3	A
4	C	4	D	4	A	4	C
5	C	5	A	5	D	5	B
6	A	6	C	6	B	6	D
7	D	7	D	7	B	7	B
8	B	8	C	8	C	8	D
9	D	9	B	9	C	9	C
10	C	10	A	10	A	10	A
11	A	11	D	11	A	11	B
12	C	12	B	12	C	12	D
13	A	13	C	13	B	13	D
14	A	14	A	14	A	14	A
15	B	15	D	15	C	15	C
16	C	16	C	16	D	16	
17	C	17	C	17	A	17	
18	A	18	A	18	B	18	
19	C	19	B	19	B	19	
20	B	20	D	20	D	20	
21	D	21	B	21	A	21	
22	C	22	A	22	B	22	

23	D		23	A		23	C		23	
24	A		24	C		24	A		24	
25			25	B		25	D		25	
26			26	C		26	C		26	
27			27	D		27	A		27	
28			28	D		28	A		28	
29			29	A		29	C		29	
30			30	B		30	B		30	
31			31	C		31			31	
32			32	A		32			32	
33			33	C		33			33	
34			34	D		34			34	
35			35	C		35			35	
36			36	B		36			36	
37			37	A		37			37	

Gracias por visitar:

<https://materialeducativo.org/>

&

<https://materialeseducativos.mx/>

Únete a nuestro canal de Youtube:

https://www.youtube.com/channel/UC2c9MOFE8JOwPAc9EY_uMe0w

Únete a nuestras páginas de Facebook:

<https://www.facebook.com/materialeducativomx/>

<https://www.facebook.com/educacionprimariamx/>

El texto, imágenes y contenido de los exámenes pertenecen a sus respectivos autores, nosotros solo compartimos el material como fin informativo y educativo, sin fines de lucro.

Grupos de Facebook:



Nombre del grupo:	Enlace para unirte:
Material Educativo	https://www.facebook.com/groups/materialeseducativosmx/
Maestros Con Vocación	https://www.facebook.com/groups/maestrosconvocacion/
Todo Sobre Docencia	https://www.facebook.com/groups/todosobredocencia/
Maestro De Primaria	https://www.facebook.com/groups/maestrodeprimaria/
Material De Apoyo	https://www.facebook.com/groups/1226193467462502/
Materiales Educativos	https://www.facebook.com/groups/MaterialEducativoMX/
Primer Grado 2023 – 2024	https://www.facebook.com/groups/primergradodeprimaria/
Segundo Grado 2023 – 2024	https://www.facebook.com/groups/segundogradodeprimaria/
Tercer Grado 2023 – 2024	https://www.facebook.com/groups/1676345985933461/
Cuarto Grado 2023 – 2024	https://www.facebook.com/groups/cuartogradodeprimaria/
Quinto Grado 2023 – 2024	https://www.facebook.com/groups/quintogradodeprimaria/
Sexto Grado 2023 – 2024	https://www.facebook.com/groups/sextogradoprimariamx/
Fase 3 1ero y 2do	https://www.facebook.com/groups/materialeducativoprimerysegundogrado/
Fase 4 3ero y 4to	https://www.facebook.com/groups/materialeducativotercerycuartogrado/
Fase 5 5to y 6to	https://www.facebook.com/groups/materialeducativoquintoysextogrado/
Recursos Didácticos	https://www.facebook.com/groups/937442069621501/
Primer Grado	https://www.facebook.com/groups/primergradoiniciacion/
Tercer Grado	https://www.facebook.com/groups/tercergradodeprimaria/

Grupos de WhatsApp:



(Si el grupo está lleno, puedes ingresar a otro o informarnos para crear uno nuevo)

Nombre del grupo:	Enlace para unirte:
Material Educativo	https://chat.whatsapp.com/HCH4iLQzHVFFMNvU1rEM6
MaterialEducativo.Org	https://chat.whatsapp.com/EkpWS87fB0U78L5fpalLHQ
MaterialPrimaria.Com	https://chat.whatsapp.com/CsNPTuCClg261yMVENi0RO
Materia Primaria	https://chat.whatsapp.com/CugchCe8FW62AWCDiX2daR
MaterialesEducativos.Mx	https://chat.whatsapp.com/GYUY2zApjw0FPt33WUaM1N
Materiales Educativos	https://chat.whatsapp.com/KzSXWScrV4B06x2UNkYYZp
Primer Grado 2023 – 2024	https://chat.whatsapp.com/JfgY19xH8es61OkZSdX4bP
Segundo Grado 2023 – 2024	https://chat.whatsapp.com/KVjTT12Qu8s5qjcZyceDzR
Tercer Grado 2023 – 2024	https://chat.whatsapp.com/JSEZwHfRDJQ00diHKdKL7m
Cuarto Grado 2023 – 2024	https://chat.whatsapp.com/L2cbFdHJfy365ReJf5Odlh
Quinto Grado 2023 – 2024	https://chat.whatsapp.com/CYppQf7wBA9HRUYjHAd82r
Sexto Grado 2023 – 2024	https://chat.whatsapp.com/K4fj8WiPbkZ2RtCDH1EJcx
Primer Grado De Primaria	https://chat.whatsapp.com/IR2nMeatOCWKOhaMLhe7U0
Segundo Grado De Primaria	https://chat.whatsapp.com/CkePgSyaQh1JiS1cSIOTnP
Tercer Grado De Primaria	https://chat.whatsapp.com/Lm7RHR9Urdf1mSpKPBjTWK
Cuarto Grado De Primaria	https://chat.whatsapp.com/lmvWWNyvfMCCglZzpRHmYj
Quinto Grado De Primaria	https://chat.whatsapp.com/L1yH7fTStOkB1SMkozfqfD
Sexto Grado De Primaria	https://chat.whatsapp.com/JON96BEiLMh5GeQgkdYcJF

Grupos de Telegram:



Nombre del grupo:	Enlace para unirte:
Material Educativo	https://t.me/+9lIHVu6TM6NjMzBh
Primer Grado De Primaria	https://t.me/+P_tocv7pIAkzNGEx
Segundo Grado De Primaria	https://t.me/+lpMcBB0jCgs5NzIx
Tercer Grado De Primaria	https://t.me/+2uOuORxbemQwZjRh
Cuarto Grado De Primaria	https://t.me/+JuTdpqAlvqEyNjZh
Quinto Grado De Primaria	https://t.me/+wHpCI-TvP7gwYjZh
Sexto Grado De Primaria	https://t.me/+JLXLZORU2d41NTEEx

Visita:

<https://materialeducativo.org/>

<->

<https://materialeseducativos.mx>

Los textos, las imágenes, dibujos y el contenido de este examen es propiedad de sus respectivos autores solo se utilizó para realizar el examen y compartir de manera gratuita y educativa sin fines de lucro.

Créditos de las imágenes:



Licencia de las imágenes adquiridas en TPT y ETSY.

Otras imágenes obtenidas de la red.

&

<https://www.facebook.com/materialeducativomx/>