

## **Тести з ПРАВИЛ дорожнього руху для здобувачів освіти ЧФК харчових технологій та бізнесу.**

Правила дорожнього руху треба знати всім: і автомобілістам, і тим, хто пересувається вулицями на велосипеді, і пішоходам. Незнання або ігнорування правил має сумні наслідки і часто закінчується аваріями і травмами всіх учасників руху. Щоб уникнути неприємностей подібного характеру, потрібно розповідати здобувачам освіти, як правильно поводитися на проїзdnій частині, пояснити права та обов'язки пішоходів, а для закріплення отриманих знань можна проводити тематичні вікторини та тестування.

### **1. Тести з ПРАВИЛ дорожнього руху для здобувачів освіти ЧКТ мінімальної складності.**

#### **1.1. Варіант 1**

##### **Питання 1.**

Хто такі учасники дорожнього руху?

Варіанти відповідей:

- А) водії транспортних засобів
- Б) пішоходи
- В) пасажери
- Г) всі перераховані категорії

##### **Питання 2.**

Дотримуватись правил дорожнього руху потрібно?

Варіанти відповідей:

- А) у темний час доби
- Б) завжди
- В) коли поблизу перебуває регулювальник або інспектор ГИБДД
- Г) коли на це є настрій

### **Питання 3.**

Де знаходиться батьківщина першого у світі світлофора?

Варіанти відповідей:

А) в Голландії

Б) в Росії

В) в Англії

Г) в Італії

### **Питання 4.**

Скільки сигналів має світлофор для пішоходів?

Варіанти відповідей:

А) один

Б) два

В) три

Г) жодного

### **Питання 5.**

Що означає червоний сигнал світлофора?

Варіанти відповідей:

А) рух всім учасникам дорожнього руху починати не можна: пішоходам і транспортним засобам

Б) можна починати рух пішоходам і транспортним засобам

В) можна починати рух автотранспортним засобам і пішоходам не можна

Г) можна починати рух пішоходів і не можна автотранспортних засобів

### **Питання 6.**

Що означає зелений сигнал світлофора?

Варіанти відповідей:

- А) рух всім учасникам дорожнього руху починати не можна: пішоходам і транспортним засобам
- Б) можна починати рух пішоходам і транспортним засобам
- В) можна починати рух автотранспортним засобам і пішоходам не можна
- Г) можна починати рух пішоходів і не можна автотранспортних засобів

**Питання 7.**

Що означає жовтий сигнал світлофора?

Варіанти відповідей:

- А) рух всім учасникам дорожнього руху починати не можна: пішоходам і транспортним засобам
- Б) можна починати рух пішоходам і транспортним засобам
- В) можна починати рух автотранспортним засобам і пішоходам не можна
- Г) можна починати рух пішоходів і не можна автотранспортних засобів

**Питання 8.**

Якщо світлофор не справний, хто регулює рух на проїжджій частині?

Варіанти відповідей:

- А) інспектор
- Б) регулювальник
- В) поліцейський
- Г) дорожній робітник

**Питання 9.**

Який інструмент використовує регулювальник для регулювання руху на проїжджій частині?

Варіанти відповідей:

- А) рупор

Б) рацію

В) жезл

Г) паличку

**Питання 10.**

Якого елемента дороги не існує?

Варіанти відповідей:

А) парапет

Б) бордюр

В) тротуар

Г) обочина

**1.2.Варіант 2**

**Питання 1.**

При відсутності тротуарів як пішоходи пересуваються по узбіччю проїжджої частини?

Варіанти відповідей:

А) по ходу руху автотранспорту

Б) назустріч руху автотранспорту

В) по бордюру

Г) як завгодно

**Питання 2.**

Який дорожній знак, встановлений біля дороги біля технікуму, дозволяє безпечно перетинати проїжджу частину?

Варіанти відповідей:

А) знак «Обережно, діти»

Б) знак «Пішохідний перехід»

В) знак «Рух прямо»

Г) знак «Проїзд заборонений»

**Питання 3.**

Дорожній знак «Пішохідний перехід» відноситься до групи:

Варіанти відповідей:

А) попереджуючих

Б) заборонних

В) інформаційно-вказівних

Г) знаки пріоритету

**Питання 4.**

Пішохідні переходи бувають:

Варіанти відповідей:

А) наземними

Б) підземними

В) надземні

Г) відповіді А і Б вірні

Д) відповіді Б і В вірні

Е) всі відповіді вірні

Ж) немає вірних відповідей

**Питання 5.**

Пішохід збирається переходити вулицю. Скільки разів йому потрібно подивитися вправо і вліво, щоб перейти на іншу сторону проїзної частини?

Варіанти відповідей:

А) досить одного разу

Б) досить двох разів

В) скільки потрібно, щоб переконатися – небезпеки немає

Г) можна взагалі не дивитися, якщо переходити вулицю по пішохідному переходу

**Питання 6.**

Що робити пішоходу, який не встиг перейти дорогу на зелене світло світлофора

Варіанти відповідей:

А) потрібно продовжити рух, поки він не перейде вулицю

Б) потрібно повернутися назад

В) зупинитися на островці безпеки і почекати потрібного сигналу

Г) як можна швидше перебігти дорогу

**Питання 7.**

Пасажир – це:

Варіанти відповідей:

А) людина, яка ходить пішки

Б) людина, яка керує транспортним засобом

В) людина, яка знаходиться в транспортному засобі крім водія

Г) всі відповіді не вірні

**Питання 8.**

Громадський транспорт – це:

Варіанти відповідей:

А) тролейбус, автомобіль, вантажівка

Б) автобус, тролейбус, трамвай

В) трамвай, поїзд, електричка

Г) літак, пароплав, паровоз

### **Питання 9.**

В які ігри можна грати на проїжджій частині?

Варіанти відповідей:

- А) у малорухомі
- Б) в настільні
- В) у підлогові
- Г) ні в які

### **Питання 10.**

Як називається транспорт для перевезення людей?

Варіанти відповідей:

- А) особистий
- Б) загальний
- В) громадський
- Г) приватний

## **2.Тести з ПРАВИЛ дорожнього руху для здобувачів освіти ЧКТ середньої складності.**

### **2.1.Варіант 1**

#### **Питання 1.**

На картинці зображена певна ситуація. Як вчинити пішоходу?

Варіанти відповідей:

- А) поступитися місцем автотранспортного засобу
- Б) перейти дорогу перед автомобілем
- В) автомобіліст зобов'язаний пропустити пішохода.



## Питання 2.

На картинці зображена певна ситуація. Як пішоходам слід переходити проїжджу частину?

Варіанти відповідей:

- А) у будь-якому місці, їжі є пішохідний перехід
- Б) перед і за регулювальником
- В) переходити проїзну частину заборонено.



### Питання 3.

На картинці зображена певна ситуація. З якого боку від регулювальника можна переходити проїжджу частину?

Варіанти відповідей:

- А) переходити дорогу заборонено
- Б) перед і за регулювальником
- В) в будь-якому місці по «зебрі»



### Питання 4.

На картинці зображена певна ситуація. Коли можна переходити дорогу без допомоги підземного переходу?

Варіанти відповідей:

- А) якщо немає рухомого автотранспорту
- Б) якщо пішоходи дуже поспішають
- В) тільки по підземному переходу і ніяк інакше
- Г) за своїм розсудом.





**Питання 7.**

Як правильно обходити трамвай?

Варіанти відповідей:

- А) тільки ззаду
- Б) тільки спереду
- В) без різниці, обидва відповіді вірні

**Питання 8.**

На картинці зображений дорожній знак. Що він означає?

Варіанти відповідей:

- А) рух пішоходів заборонено
- Б) рух пішоходів дозволено
- В) пішохідний перехід



**Питання 9.**

Якщо відсутній пішохідний перехід, в якому місці пішоходи можуть перетинати проїжджу частину?

Варіанти відповідей:

- А) у ділянках проїзної частини, де мало автомобілів, під прямим кутом до бордюру
- Б) на перехрестях
- В) без різниці, обидва відповіді вірні

**Питання 10.**

На картинці зображена ситуація. В якій ділянці проїжджої частини пішоходам дозволяється переходити дорогу?

Варіанти відповідей:

- А) 1
- Б) 2
- В) 3
- Г) 4

Д) 5



## 2.2.Варіант 2

### Питання 1.

Як правильно перейти проїжджу частину, якщо поблизу відсутній пішохідний перехід?

Варіанти відповідей:

А) йти вздовж узбіччя до найближчого світлофора

Б) оцінити ситуацію і при відсутності рухомого автотранспорту перейти дорогу

В) подивитися ліворуч, пропустити рухається автотранспорт, дійти до середини проїжджої частини, подивитися направо, пропустити рухається автотранспорт, продовжити рух.



### Питання 2.

Як правильно обходити тролейбус?

Варіанти відповідей:


- А) тільки ззаду
- Б) тільки спереду
- В) без різниці, обидва відповіді вірні

### Питання 3.

На картинці зображена ситуація. Який дорожній знак слід розмістити в цьому випадку?

Варіанти відповідей:

- А) 1
- Б) 2
- В) 3



### Питання 4.

Скільки людей одночасно може їхати на велосипеді?

Варіанти відповідей:

- А) один
- Б) два
- В) три
- Г) скільки поміститься
- Д) один чи два за наявності велокрісла

**Питання 5.**

Як правильно обходити трамвай?

Варіанти відповідей:

- А) тільки ззаду
- Б) тільки спереду
- В) без різниці, обидва відповіді вірні

**Питання 6.**

На картинці зображений дорожній знак. Що він означає?

Варіанти відповідей:

- А) рух заборонено
- Б) обережно, йде будівництво
- В) в'їзд заборонений для автотранспортних засобів, для пішоходів рух дозволено.



**Питання 7.**

Який з дорожніх знаків означає «пішохідну доріжку»?

Варіанти відповідей:

А) 1

Б) 2

В) 3

Г) 4



**1**



**2**



**3**



**4**

**Питання 8.**

Який з дорожніх знаків означає «пішохідний перехід»?

Варіанти відповідей:

А) 1

Б) 2

В) 3

Г) 4

**Питання 9.**

На картинці зображений дорожній знак. Що він означає?

Варіанти відповідей:

А) пішохідний перехід

Б) рух пішоходів заборонено

В) перехідна доріжка.



**Питання 10.**

На картинці зображена ситуація. Який дорожній знак слід розмістити в цьому випадку?

Варіанти відповідей:

- A) 1
- Б) 2
- В) 3
- Г) 4



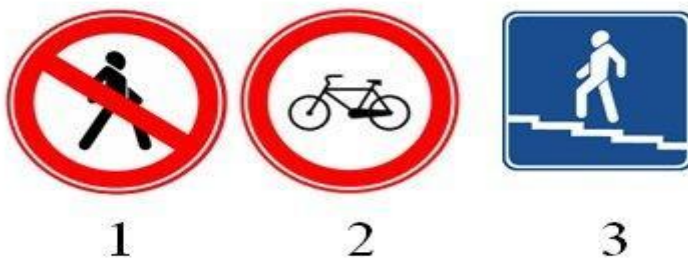
**3. Тести з ПРАВИЛ дорожнього руху для здобувачів освіти ЧКТ високої складності.**

**Питання 1.**

На картинці зображені дорожні знаки. Який з них означає, що рух пішоходів заборонено?

Варіанти відповідей:

- A) 1
- Б) 2
- В) 3



**Питання 2.**

На картинці зображені дорожні знаки. Який з них означає стоянку автотранспортних засобів?

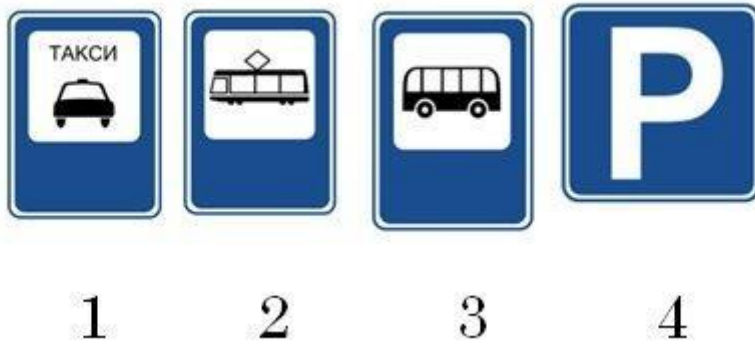
Варіанти відповідей:

А) 1

Б) 2

В) 3

Г) 4



**Питання 3.**

На картинці зображені дорожні знаки. Який з них означає пішохідний перехід?

Варіанти відповідей:

А) 1

Б) 2

В) 3

Д) 4



1



2



3



4

**Питання 4.**

На картинці зображені дорожні знаки. Який з них означає заборону на рух велосипедів?

Варіанти відповідей:

А) 1

Б) 2

В) 3



1



2



3

**Питання 5.**

На картинці зображений дорожній знак. Що він означає?

Варіанти відповідей:

А) підземний перехід

Б) надземний перехід

В) вихід з підземного переходу

Д) вхід в будівлю по сходах.



Питання 6.

На картинці зображена певна ситуація. Як пішоходам не варто переходити проїжджу частину?

Варіанти відповідей:

- А) у будь-якому місці, їжі є пішохідний перехід
- Б) перед і за регулювальником
- В) всі відповіді вірні
- Г) правильних відповідей немає.



Питання 7.

На картинці зображена певна ситуація. З якого боку від регулювальника заборонено переходити проїжджу частину?

Варіанти відповідей:

А) перед і за регулювальником

Б) в будь-якому місці по «зебрі»



**Питання 8.**

На картинці зображений дорожній знак. До якої групи знаків він відноситься?

Варіанти відповідей:

- А) Забороняє
- Б) Застережливий
- В) Знаки пріоритету



**Питання 9.**

Як правильно обходити трамвай?

Варіанти відповідей:

- А) тільки ззаду
- Б) тільки спереду
- В) без різниці, обидва відповіді вірні

**Питання 10.**

Як правильно обходити тролейбус і автобус?

Варіанти відповідей:

- А) тільки ззаду

Б) тільки спереду

В) без різниці, обидва відповіді вірні.