

**KENDRIYA VIDYALAYA SANGATHAN  
LUCKNOW REGION**

**MONTHLY TEST – AUGUST (2025-26)  
CLASS: X**

**SUBJECT –SOCIAL SCIENCE  
TIME: 1.00 HOUR**

**MAX.MARKS:30**

**निर्देश : INSTRUCTIONS:**

1. इस प्रश्न - पत्र में कुल 14 प्रश्न हैं। सभी प्रश्न अनिवार्य हैं।  
The question paper has 14 questions in all. All questions are compulsory.
  2. प्रश्न संख्या 1 से 6 तक 1 अंक के हैं। Questions from serial No.1 to 6 are 1 marks question.
  3. प्रश्न संख्या 7 से 9 तक 2 अंक के हैं। Questions from serial No.7 to 9 are 2 marks questions.
  4. प्रश्न संख्या 10 और 11 तक 3 अंक के हैं। Questions from serial No.10 to 11 are 3 marks questions.
  5. प्रश्न संख्या 12, 4 अंक का है। Questions from serial No.12 is 4 marks question.
  6. प्रश्न संख्या 13, 5 अंक का है। Questions No. 13 is 5 marks question.
  7. प्रश्न संख्या 14 मानचित्र प्रश्न है जो 3 अंक का है। Questions serial No.14 is 3 mark map question.
- -----

**Multiple Choice Questions – / बहुविकल्पीय प्रश्न -**

Q.1. Which of the following conservation strategies do NOT directly involve community participation?

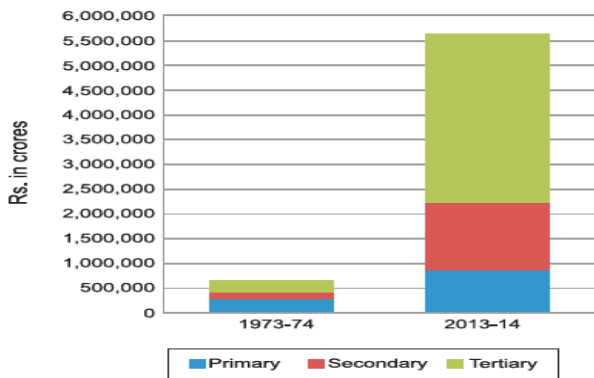
प्रश्न 1. निम्नलिखित में से कौन-सी संरक्षण रणनीतियाँ प्रत्यक्ष रूप से भागीदारी को शामिल नहीं करती हैं?

- (a) Joint forest management / संयुक्त वन प्रबंधन
- (b) Beej Bachao Andolan / बीज बचाओ आंदोलन
- (c) Chipko Movement / चिपको आंदोलन
- (d) Demarcation of National Parks / राष्ट्रीय उद्यानों की सीमा निर्धारण

Q.2. Observe the graph carefully. Which of the following statement/s is/are true?

प्रश्न 2. ग्राफ को ध्यानपूर्वक देखें। निम्नलिखित में से कौन-सा/कौन-से कथन सही है/हैं?

**Graph 1 : GDP by Primary, Secondary and Tertiary Sectors**



- A) Primary sector has contributed the most.  
ए) प्राथमिक क्षेत्र का योगदान सबसे अधिक रहा है।
- B) Production in all the three sectors has increased.  
बी) सभी तीन क्षेत्रों में उत्पादन बढ़ा है।
- C) Tertiary sector has emerged as the largest producing sector.  
सी) तृतीयक क्षेत्र सबसे बड़ा उत्पादन करने वाला क्षेत्र बनकर उभरा है।

D) Production in secondary sector has declined.

डी) द्वितीयक क्षेत्र में उत्पादन घटा है।

Options / विकल्प:

i) Only A is correct. / केवल ए सही है।

ii) A, B, C are correct. / ए, बी, सी सही हैं।

iii) B and C are correct. / बी और सी सही हैं।

iv) All are correct. / सभी सही हैं।

---

Q.3. Ravi is an able-bodied young man. He lives in a village where he cannot find any work. Under which scheme can he find at least 100 days of work in a year?

प्रश्न 3. रवि एक सक्षम और स्वस्थ युवक है। वह एक गाँव में रहता है जहाँ उसे कोई काम नहीं मिलता। किस योजना के तहत उसे वर्ष में कम से कम 100 दिनों का काम मिल सकता है?

(a) Aatmanirbhar Bharat Yojana / आत्मनिर्भर भारत योजना

(b) Pradhan Mantri Garib Kalyan Yojana / प्रधानमंत्री गरीब कल्याण योजना

(c) Mahatma Gandhi National Rural Employment Guarantee Act / महात्मा गांधी राष्ट्रीय ग्रामीण रोजगार गारंटी अधिनियम

(d) Rural Employment Generation Programme / ग्रामीण रोजगार सृजन कार्यक्रम

---

Q.4. \_\_\_\_\_ used to say that religion can never be separated from politics. He believed that politics must be guided by ethics drawn from religion.

प्रश्न 4. \_\_\_\_\_ कहा करते थे कि धर्म को कभी भी राजनीति से अलग नहीं किया जा सकता। उनका मानना था कि राजनीति को धर्म से प्राप्त नैतिकता द्वारा संचालित होना चाहिए।

(a) C Rajagopalachari / सी. राजगोपालाचारी

(b) Sardar Patel / सरदार पटेल


(c) Gandhiji / गांधीजी

(d) Nehru ji / नेहरू

---

Q.5. Given is the image of an important personality of the National movement in India. With which of the following can you identify the person?

प्रश्न 5. भारत के राष्ट्रीय आंदोलन की एक महत्वपूर्ण हस्ती का चित्र दिया गया है। आप इस व्यक्ति को निम्नलिखित में से किससे पहचानेंगे?



(a) VandeMataram / वंदेमातरम्

(b) Ananda Math / आनंद मठ

(c) Jana GanaMana / जन गण मन

(d) Sare Jahan Se Accha Hindustan Hamara / सारे जहाँ से अच्छा हिंदुस्तान हमारा

---

Q.6. Assertion (A): The Non-Cooperation Movement was called off due to the Chauri Chaura incident.

अभिकथन(ए): असहयोग आंदोलन को चौरी-चौरा कांड के कारण वापस ले लिया गया था।

Reason (R): The violence at Chauri Chaura contradicted Mahatma Gandhi's principle of nonviolent resistance, leading him to withdraw the movement as a form of protest against the violence.

तर्क (आर): चौरी-चौरा में हुई हिंसा महात्मा गांधी के अहिंसात्मक प्रतिरोध के सिद्धांत के विपरीत थी, जिसके कारण उन्होंने हिंसा के विरोध में आंदोलन को वापस ले लिया।

Options / विकल्प:

- A) Both assertion and reason are true, and the reason is the correct explanation of the assertion.  
अभिकथन और तर्क दोनों सही हैं, और तर्क अभिकथन का सही स्पष्टीकरण है।
- B) Both assertion and reason are true, but the reason is not the correct explanation of the assertion.  
अभिकथन और तर्क दोनों सही हैं, लेकिन तर्क अभिकथन का सही स्पष्टीकरण नहीं है।
- C) Assertion is true, but the reason is false.  
अभिकथन सही है, लेकिन तर्क गलत है।
- D) Assertion is false, but the reason is true.  
अभिकथन गलत है, लेकिन तर्क सही है।

---

**VERY SHORT QUESTION / अति लघु प्रश्न**

Q.7. Write the name of two National Parks along with states for protection of Tiger.

प्रश्न 7. बाघ संरक्षण के लिए दो राष्ट्रीय उद्यानों के नाम एवं उनके राज्यों के नाम लिखिए।

---

Q.8. Why is the 'tertiary sector' becoming important in India? Explain any two reasons.

प्रश्न 8. भारत में 'तृतीयक क्षेत्र' क्यों महत्वपूर्ण होता जा रहा है? कोई दो कारण समझाइए।

---

Q.9. Explain the term 'feminist movements'.

प्रश्न 9. 'नारीवादी आंदोलनों' शब्द की व्याख्या कीजिए।

---


**SHORT QUESTION / लघु प्रश्न**

Q.10. Kamal is a daily wage labourer in a nearby grocery shop. Suggest ways to protect his interest as an unorganised sector worker.

प्रश्न 10. कमल एक किराना दुकान में दैनिक मजदूरी पर कार्य करता है। एक असंगठित क्षेत्र के मजदूर के रूप में उसके हितों की रक्षा के उपाय सुझाइए।

---

Q.11.



i) What is shown in the cartoon?

कार्टून में क्या दिखाया गया है?

ii) What is Vote Bank politics?

वोट बैंक की राजनीति क्या है?

iii) Do you think that political leaders are right to treat people belonging to a caste as 'vote banks'?

क्या आपको लगता है कि राजनीतिक नेताओं द्वारा किसी जाति के लोगों को 'वोट बैंक' समझना सही है?

---

**CASE STUDY / अध्ययन आधारित प्रश्न**

Q.12. Conservation strategies are not new in our country. We often ignore that in India, forests are also home to some of the traditional communities. In some areas of India, local communities are struggling to conserve these habitats along with government officials, recognising that only this will secure their own

long-term livelihood. In Sariska Tiger Reserve, Rajasthan, villagers have fought against mining by citing the Wildlife Protection Act. In many areas, villagers themselves are protecting habitats and explicitly rejecting government involvement. The inhabitants of five villages in the Alwar district of Rajasthan have declared 1,200 hectares of forest as the Bhairodev Dakav 'Sonchuri', declaring their own set of rules and regulations which do not allow hunting, and are protecting the wildlife against any outside encroachments.

प्रश्न 12. हमारे देश में संरक्षण की रणनीतियाँ नई नहीं हैं। हम अक्सर यह अनदेखा करते हैं कि भारत में जंगल कुछ पारंपरिक समुदायों का घर भी हैं। भारत के कुछ क्षेत्रों में, स्थानीय समुदाय सरकारी अधिकारियों के साथ मिलकर इन आवासों के संरक्षण के लिए संघर्ष कर रहे हैं, यह मानते हुए कि केवल यही उनके दीर्घकालिक आजीविका को सुरक्षित करेगा। राजस्थान के सरिस्का टाइगर रिज़र्व में, ग्रामीणों ने वन्यजीव संरक्षण अधिनियम का हवाला देते हुए खनन के खिलाफ संघर्ष किया है। कई क्षेत्रों में, ग्रामीण स्वयं आवासों की रक्षा कर रहे हैं और स्पष्ट रूप से सरकारी हस्तक्षेप को अस्वीकार कर रहे हैं। राजस्थान के अलवर जिले के पाँच गाँवों के निवासियों ने 1,200 हेक्टेयर जंगल को भैरोंदेवडाकाव 'सोन्चुरी' घोषित किया है, अपने स्वयं के नियम और विनियम बनाए हैं जो शिकार की अनुमति नहीं देते, और बाहरी अतिक्रमणों से वन्यजीवों की रक्षा कर रहे हैं।

(a) How are forests related with communities?

(क) वन समुदायों से कैसे जुड़े हुए हैं?

(b) Explain the aim of Wildlife Protection Act.

(ख) वन्यजीव संरक्षण अधिनियम का उद्देश्य बताइए।

(c) How are communities working for the conservation of Wildlife? Explain with example.

(ग) समुदाय वन्यजीव संरक्षण के लिए कैसे कार्य कर रहे हैं? उदाहरण सहित समझाइए।

---

### LONG QUESTION / दीर्घ प्रश्न

Q.13. Why did Gandhiji start the 'Civil Disobedience Movement'? Explain any four features of Civil Disobedience Movement.

प्रश्न 13. गांधीजी ने 'सविनय अवज्ञा आंदोलन' क्यों प्रारंभ किया? सविनय अवज्ञा आंदोलन की कोई चार विशेषताएँ समझाइए।

---

### MAP WORK / मानचित्र कार्य

Q.14. Locate and label the following regions on the given political map of India with appropriate symbols.

प्रश्न 14. भारत के दिए गए राजनीतिक मानचित्र पर निम्नलिखित स्थानों को उचित प्रतीक के साथ पहचानकर अंकित कीजिए।

1. Kaziranga National Park/ काज़ीरंगा राष्ट्रीय उद्यान
  2. The place where Jallianwala Bagh incident took place/ वह स्थान जहाँ जलियांवाला बाग कांड हुआ था
  3. The place where the Indian National Congress Session September 1920 was held/ वह स्थान जहाँ सितंबर 1920 में भारतीय राष्ट्रीय कांग्रेस का अधिवेशन हुआ
-