

# Soal Matematika Kelas 1 Bab 8 Mengenal Diagram

## Pilihan Ganda

Pilihlah huruf a, b, c, atau d di depan jawaban yang paling tepat!

Soal No.1

Perhatikan gambar berikut!

Daftar Mainan di Toko	
Ada 6 pesawat	
Ada 5 mobil-mobilan	
Ada 7 bola	

Mainan yang paling sedikit yaitu. . .

- A. pesawat
- B. mobil-mobilan
- C. bola

Soal No.2

Perhatikan gambar berikut!

Daftar Mainan di Toko	
Ada 11 boneka	
Ada 6 pesawat	
Ada 5 mobil-mobilan	
Ada 7 bola	

Mainan yang paling banyak yaitu. . .

- A. boneka
- B. pesawat
- C. modil-mobilan

Soal No.3



Tabel Pensil Warna

Warna Pensil	Banyaknya
Kuning	3
Biru	...
Merah	5
Hitam	6

Bilangan yang tepat untuk mengisi tabel yang kosong yaitu. . .

- A. 3
- B. 4
- C. 5

Soal No.4

Perhatikan gambar berikut!

Tabel Mainan Kesukaan

Mainan			
	Boneka	Gasing	Kelereng
Banyak anak	7	5	8

Anak yang suka boneka ada....

- A. 5
- B. 7
- C. 8

Soal No.5

Perhatikan gambar berikut!

Tabel Mainan Kesukaan

Mainan	 Boneka	 Gasing	 Kelereng
Banyak anak	7	5	8

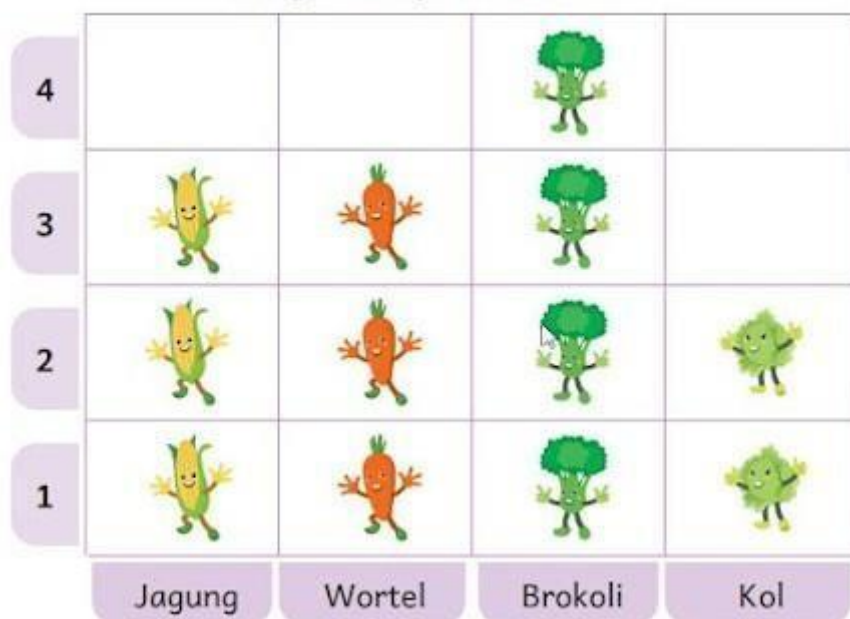
Jumlah semua anak yaitu....

- A. 15
- B. 18
- C. 20

Soal No.6

Perhatikan gambar berikut!

Diagram Sayur Kesukaan




Sayur yang paling disukai yaitu...

- A. kol
- B. brokoli
- C. wortel

Soal No.7

Perhatikan gambar berikut!

Diagram Mainan Kesukaan



Gambar 😊 mewakili 1 anak.

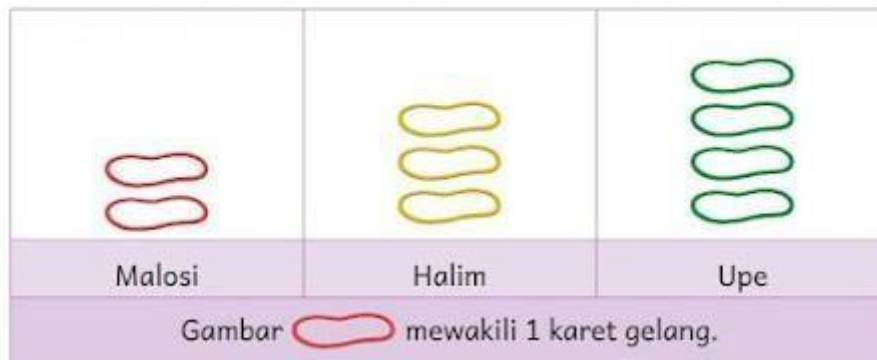
Banyak anak yang suka mobil-mobilan yaitu. . .

- A. 4
- B. 5
- C. 6

Soal No.8

Perhatikan gambar berikut!

Diagram Banyak Karet Gelang



Banyak semua gelang yaitu. . .

- A. 9
- B. 10
- C. 11

Soal No.9

Perhatikan gambar berikut!

Diagram Buah Kesukaan



Ada 6 anak yang suka buah. . .

- A. apel
- B. jeruk
- C. belimbing

Soal No.10

Perhatikan gambar berikut!

Diagram Buah Kesukaan



Anak yang suka belimbing lebih banyak . . . dari anak yang suka apel.

- A. 2
- B. 3
- C. 4

## Uraian

Jawablah soal berikut dengan benar!

**Tabel Kue Kesukaan**

Nama Kue	Kue Talam	Kue Cucur	Kue Lapis	Kue Bugis
Banyak anak	<b>3</b>	<b>5</b>	<b>6</b>	<b>2</b>

1. Ada . . . anak yang suka kue talam
2. Ada . . . anak yang suka kue lapis
3. Ada . . . anak yang suka kue cucur
4. Nama kue yang paling disukai yaitu. . .
- 5.**Jumlah semua anak yaitu. ...