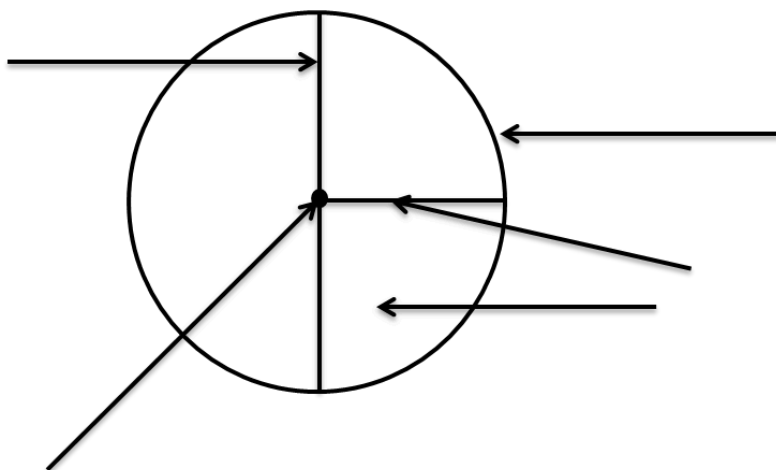


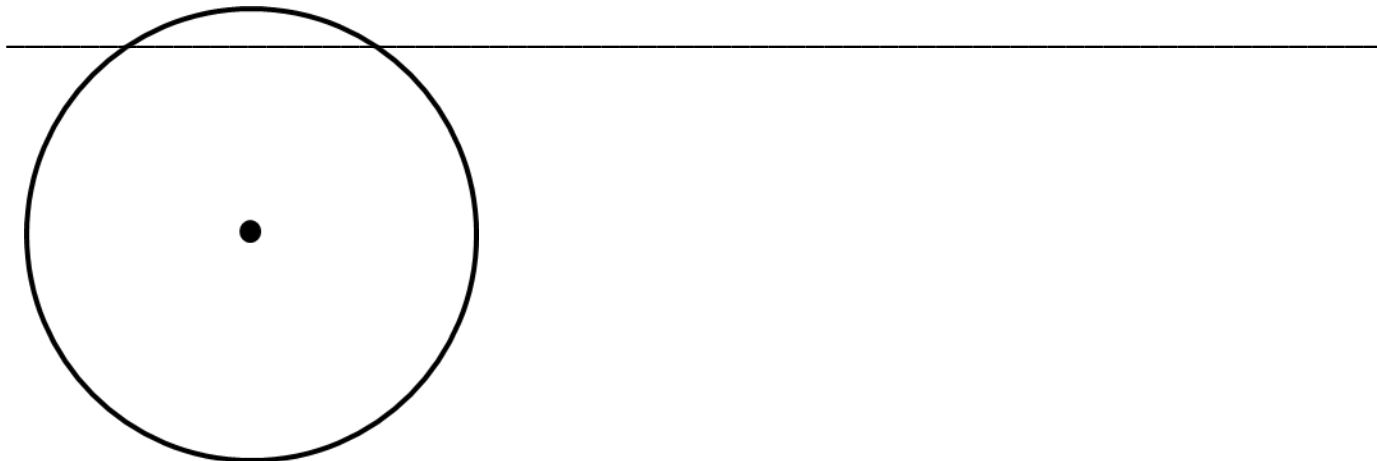
Имя: \_\_\_\_\_ Дата: \_\_\_\_\_



**1 задание.** Подпиши рядом со стрелками расположение: окружность, круг, центр окружности, радиус, диаметр.



**2 задание.** Дана окружность. Проведи её диаметр и радиус. Измерь их длины, запиши:

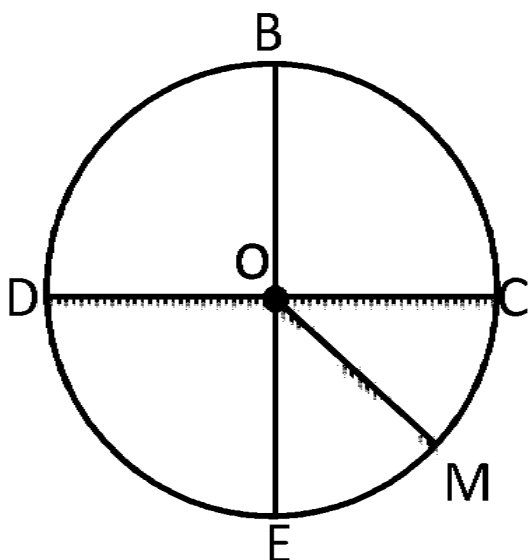


**3 задание.**

А) Дана окружность. Запиши все её радиусы и диаметры буквами:

Радиусы: \_\_\_\_\_

Диаметры: \_\_\_\_\_



Б) Начерти рядом окружность, диаметр которой на 1 см 5 мм меньше.