

ACTIVIDADES

1.5. Los tipos celulares.

1. Haz una tabla dónde se muestren las características de las células eucariotas y procariotas.
2. ¿Cuál es la diferencia de una pared celular vegetal y una pared de un procariota?
3. A continuación se muestran 3 imágenes. Di en cada caso:
 - a. Si se trata de una célula animal o vegetal.
 - b. Si se trata de una célula eucariota o procariota.
 - c. Con que tipo de microscopio se han realizado.
 - d. Si puedes identificar alguna estructura u orgánulo.
 - e. Si sabes de que se trata.




Imagen 1

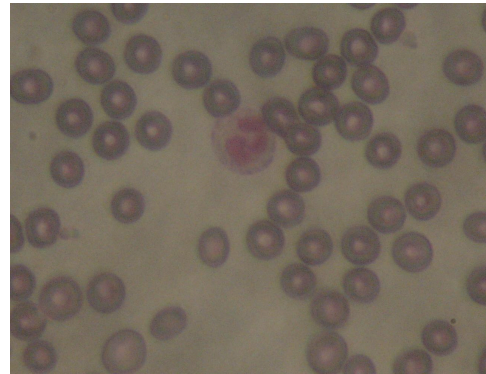


Imagen 2

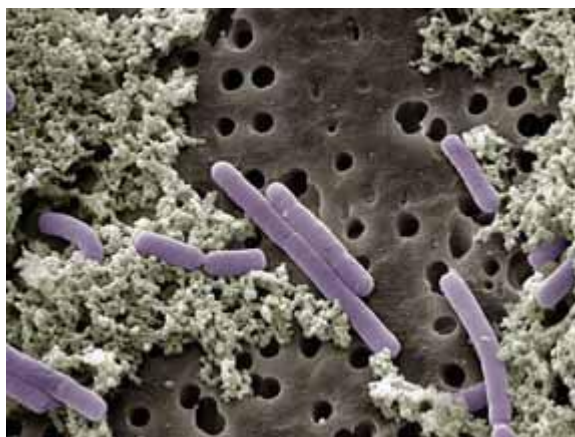


Imagen 3