

ADI-SOYADI:
PUAN

SINIFI: 5/..... NO:

- 1) $a = 12,4$
 $b = 12,418$
 $c = 12,47$
 $a = 12,04$

Yukarıda verilen ondalık sayıları küçükten büyüğe doğru sıralayınız.(10 PUAN)

2) Aliye hanım bir mağazadan 78,75 TL ye etek 42,87 TL ye gömlek ve 12,3 TL ye çorap alıyor. Aliye hanım mağazaya 200 TL verdiği göre kaç TL para üstü alır? (10 PUAN)

3) Aşağıda sol tarafta verilen sayıları sağ taraftaki eşitleri ile eşleştiriniz .(8 PUAN)

0,8

$\frac{3}{20}$

$\frac{33}{55}$

% 8

%15

% 60

$\frac{2}{25}$

$\frac{4}{5}$

4) Aşağıda verilen sayıları küçükten büyüğe doğru sıralayınız.(10 PUAN)

0,3

$\frac{3}{12}$

%27

$\frac{7}{25}$

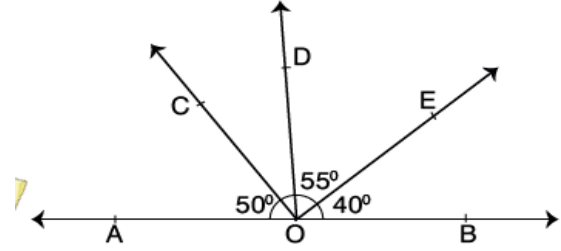
5) Aşağıda verilen soruları hesaplayınız. (15 PUAN)

a) 300 sayısının %20 sini hesaplayınız.

b) 65 sayısının %40 sini hesaplayınız.

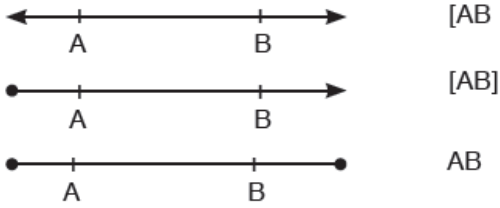
c) 575 sayısının %32 sini hesaplayınız.

6) Hüseyin Bey, arabasının deposunda bulunan 75 litre benzinin %28'ini kullanmış, sonra kalan benzinin %50'sini kullanmıştır. Buna göre, Hüseyin Bey'in arabasının deposunda kaç litre benzin kalmıştır? (10 PUAN)



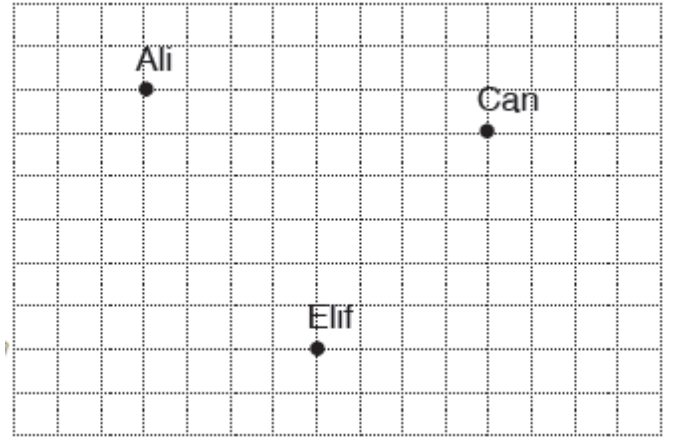
- \widehat{AOD} açısı geniş açıdır.
- \widehat{COE} açısı dik açıdır.
- \widehat{DOB} açısı dar açıdır.
- \widehat{COB} açısı geniş açıdır.

7) Aşağıdaki şekilleri gösterimlerle eşleştiriniz. (6 PUAN)



8) Aşağıdaki şekle göre boşlukları boşlukları doğru (D) veya yanlış (Y) ile doldurunuz. (8 PUAN)

9) Aşağıda verilen şekle göre soruları yanıtlayınız. (10 PUAN)



Ali'nin Can'a göre konumunu yazınız.

Elif'in Ali'ye göre konumunu yazınız.

10. Aşağıdaki üslü ifadelerin değerlerini yazınız. (8 PUAN)

$$2^3 =$$

$$3^3 =$$

$$1^2 =$$

$$4^2 =$$

11. 30 kişilik bir sınıfın %40 'ı voleybol oynamaktadır. Buna göre kaç kişinin voleybol oynadığını bulunuz.

- A) 12
- B) 18
- C) 10
- D) 15

BAŞARILAR DİLERİM