

SDN KHERYSURYAWAN.ID PENILAIAN HARIAN KURIKULUM 2013 TAHUN PELAJARAN 20../20..	Nama :
	No. Absen :
Pelajaran : Tema 8 Subtema 4	Nilai :
Kelas : 3 (Tiga)	
Waktu : 90 menit	
Tanggal :	

I. Isilah soal berikut dengan jawaban yang benar !

SOAL A

A. PPKN

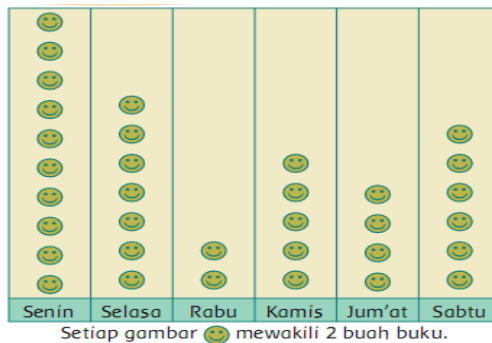
1. Sila kelima dalam Pancasila disimbolkan gambar...
2. Sila ketiga dalam Pancasila disimbolkan gambar...

B. B.INDO

1. Matahari terbit dari arah timur, saat kamu menghadap matahari terbit berarti kamu sedang menghadap timur dan punggungmu menghadap di barat. Lalu tangan kanan mu menghadap sebelah mana?
2. Salah satu manfaat dari melakukan kegiatan pramuka?

C. MTK

1. Perhatikan gambar berikut untuk soal nomor 1 dan 2!



Berapa jumlah buku pada hari sabtu?

2. Total jumlah buku hari rabu dan hari jumat sesuai table diatas...

D. SBDP

1. Bahan tali untuk bermain lompat tali terbuat dari...
2. Salah satu pekerjaan dalam berkarya adalah...

E. PJOK

1. Perhatikan gambar berikut!



Sesuai gambar diatas mereka akan melakukan permainan...

2. Alat yang digunakan untuk permainan lompat tali ialah...

II. Jawablah pertanyaan berikut dengan jawaban yang tepat!

SOAL B

A. PPKN

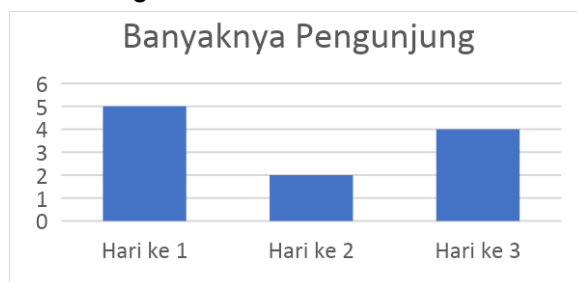
1. Sikap saling gotong royong dan membantu sesama demi kesatuan bangsa adalah pengamalan sila pancasila keberapa. Sebutkan bunyinya!
2. Bu guru memberi hukuman kepada siswa apabila ada yang terlambat hadir. Sikap bu guru tersebut bersikap adil kepada seluruh siswa dan tidak membeda-bedakan apabila ada yang melanggarnya. Bentuk pengamalan sila berapa yang dilakukan bu guru? Sebutkan bunyinya!

B. BAHASA INDONESIA

1. Apa manfaat denah dan tanda arah?
2. Sebutkan arah mata angin!

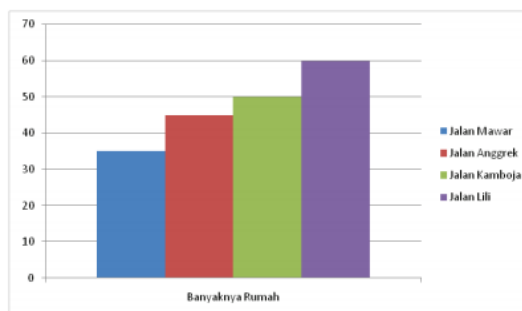
C. MATEMATIKA

1. Perhatikan diagram berikut!



Berapa jumlah pengunjung selama 3 hari?

2. Perhatikan diagram berikut!



Berapa jumlah rumah yang ada di jalan kamboja dan jalan mawar?

D. SBDP

1. Sebutkan petunjuk membuat rumah-rumahan!
2. Sebutkan alat yang digunakan untuk membuat rumah-rumahan!


E. PJOK

1. Perhatikan gambar dibawah ini!



Bagaimana cara melakukan gerakan seperti diatas?

2. Perhatikan gambar dibawah ini!



Bagaimana cara melakukan gerakan diatas?

KUNCI JAWABAN

SOAL A

- A. PPKN
 - 1. Padi dan kapas
 - 2. Pohon beringin

- B. B.INDO
 - 1. Selatan
 - 2. Dilatih untuk dapat bekerja secara mandiri

- C. MTK
 - 1. 12 buah
 - 2. 12 buah

- D. SBDP
 - 1. Getah pohon karet
 - 2. Menggambar

- E. PJOK
 - 1. Lompat tali
 - 2. Tali yang terbuat dari karet

SOAL B

- A. PPKN
 - 1. Sila ketiga. Yang berbunyi Persatuan Indonesia
 - 2. Sila kelima yang berbunyi Keadilan Sosial bagi Seluruh Rakyat Indonesia

- B. BAHASA INDONESIA
 - 1. Menemukan suatu lokasi yang dimaksud
 - 2. Ada 8. Timur, tenggara, selatan, barat daya, barat, barat laut, utara, timur laut

- C. MATEMATIKA
 - 1. 11 pengunjung
 - 2. 85 rumah

- D. SBDP
 - 1. Membuat pola
Guntinglah gambar pola
Lipat bagian yang diberi tanda garis putus-putus
Lem dan tempelkan kertas tersebut sehingga terbentuk menjadi rumah
 - 2. Gunting, Lem, Pensil

- E. PJOK

1. -Tentukan dua pemain untuk memegang tali
Pemain berdiri di dekat tali
- Ayunlah tali sambil diputar melewati badan pemain
- Pemain mengangkat kedua kaki secara bersamaan saat posisi tali berada di bawah
 - Meloncatlah dengan benar dan upayakan tali tidak mengenai kaki
 - Tali mengenai kaki pemain berarti tiba saatnya berganti peran. Pemain lompat tali akan berganti tugas menjadi pemegang tali. Petugas pemegang tali akan berganti menjadi pemain lompat tali.
2. Berdiri tegak dan buka kaki selebar bahu
Letakkan kedua tangan dibelakang kepala
Lakukan gerakan jongkok
Angkat kedua kaki bersama-sama. Meloncatlah setinggi yang kamu mampu
Saat posisi badan mendarat lakukan secara perlahan. Kembali pada posisi jongkok
Ulang kegiatan beberapa kali