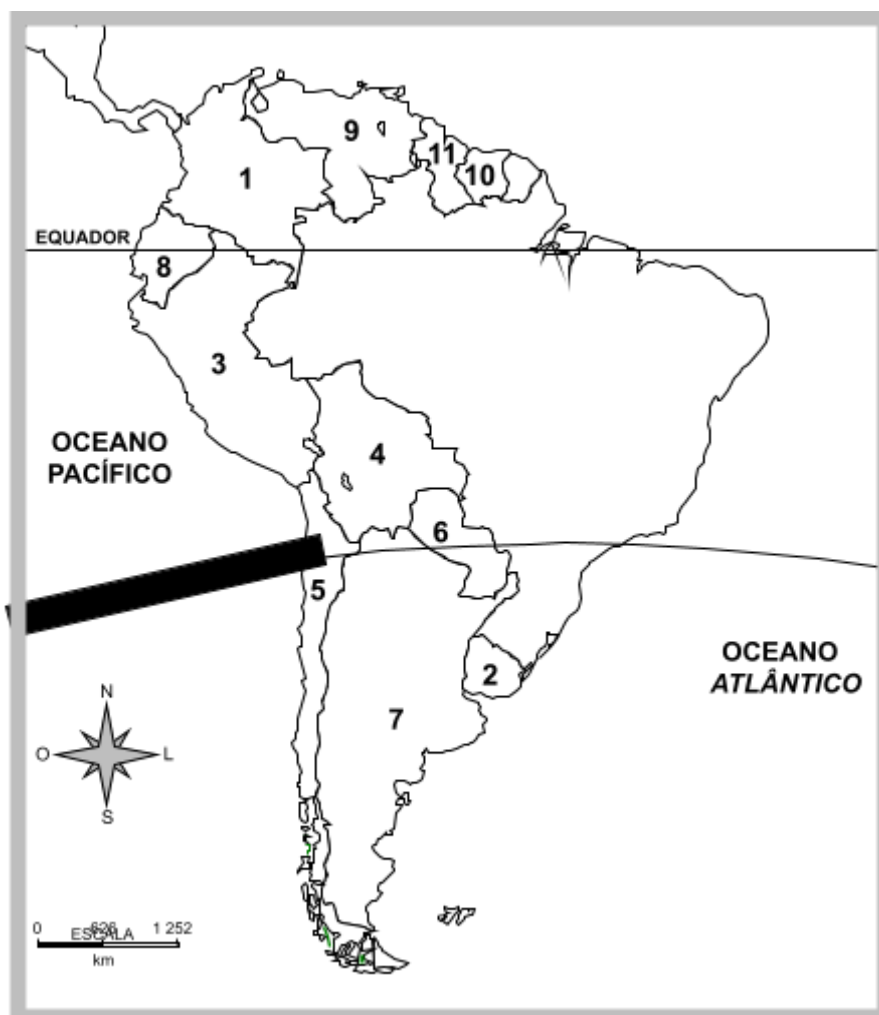


Nome do aluno:	Série: 3º ano
Professor: Magnun Souza Voges	Disciplina: Geografia
	Data:

Objetivos	A	AP	NA
1- Localizar alguns dos países do continente.			
2-Reconhecer as características naturais sul-americanas.			
3- Localizar as formações vegetais do continente.			
4- Reconhecer as características climáticas da sul-americanas.			
5-8- Reconhecer as características hidrográficas sul-americanas.			
9 e 10- Reconhecer as características físicas sul-americanas.			

A- atingiu o objetivo proposto. AP- atingiu parcialmente os objetivos. NA- não atingiu o objetivo proposto – Precisa Retomar.

**1 –** Observe o mapa e assinale a(s) proposição(ões) CORRETA(S). *1 ponto*



( ) A Colômbia, identificada no mapa com o número 1, possui litoral tanto no Atlântico como no Pacífico, o que facilita a conexão das rotas do narcotráfico com os países europeus, africanos, asiáticos e da Oceania

( ) Os países identificados com os números 2, 3 e 4 formam o conjunto regional denominado América Platina

( ) O Brasil tem suas terras mais concentradas na porção centro-oriental do continente sul-americano.

( ) A Amazônia está presente na Colômbia e no Equador, por exemplo.

( ) Suriname não está numerada neste mapa.

( ) Paraguai e Bolívia não possuem litoral.



**Gardner**  
educação interativa

## AVALIAÇÃO

2. Caracterize a forma de relevo encontrada na porção centro-ocidental da América do Sul: *1 ponto*

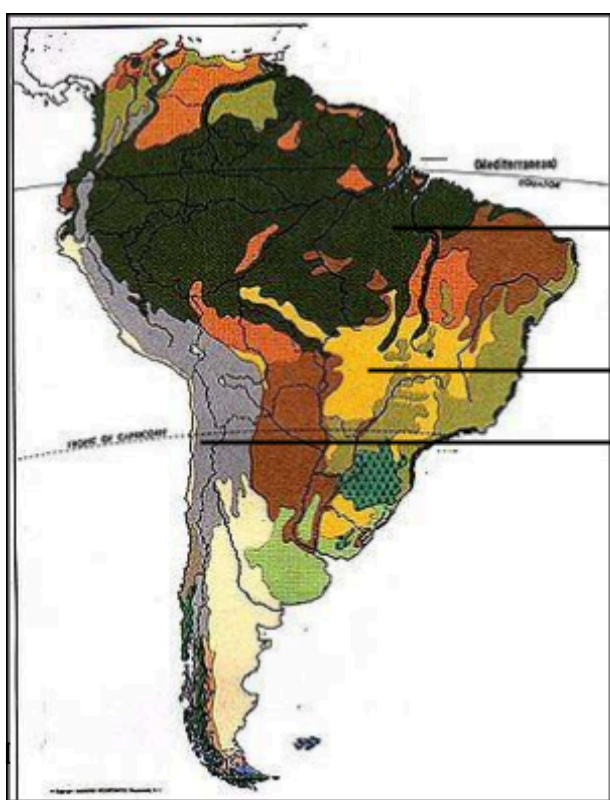
---

---

---

---

3. Escreva o nome das formações vegetais indicadas no mapa: *1 ponto*



---

---

---

4 – Caracteriza a diversidade climática da América do Sul: *1 ponto*

---

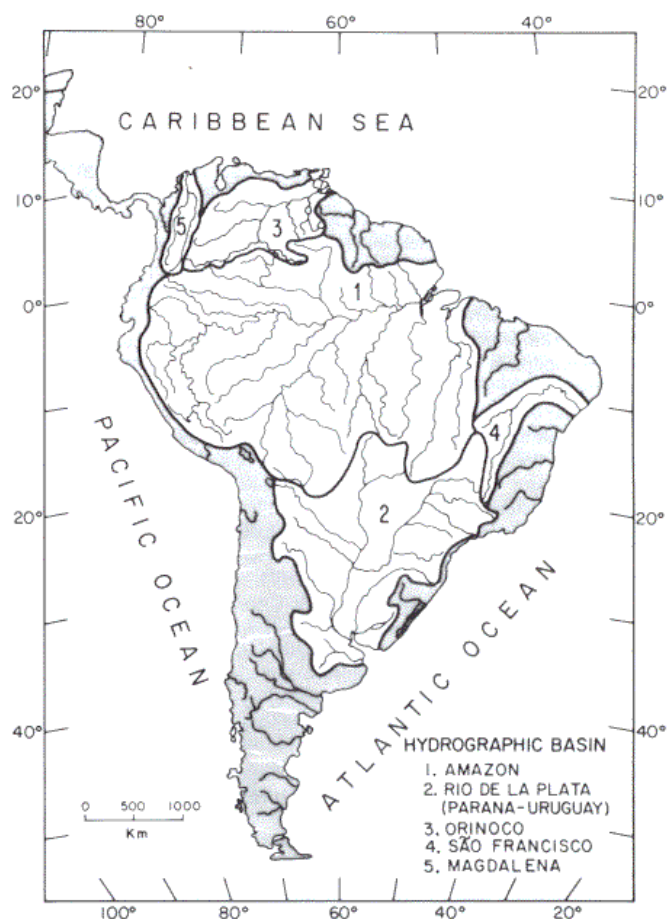
---

---

---

---

---



5 – As bacias hidrográficas destacadas no mapa pertencem a qual vertente? *1 ponto*

6 – Que países possuem parte da Bacia: *1 p.*

a) Do Amazonas: \_\_\_\_\_

b) Do Prata: \_\_\_\_\_

7 – Disserte sobre a paisagem onde percorre a maior parte do Rio São Francisco: *1 ponto*

---



---

8 - Disserte sobre a paisagem onde percorre a maior parte do Rio Amazonas: *1 ponto*

---



---



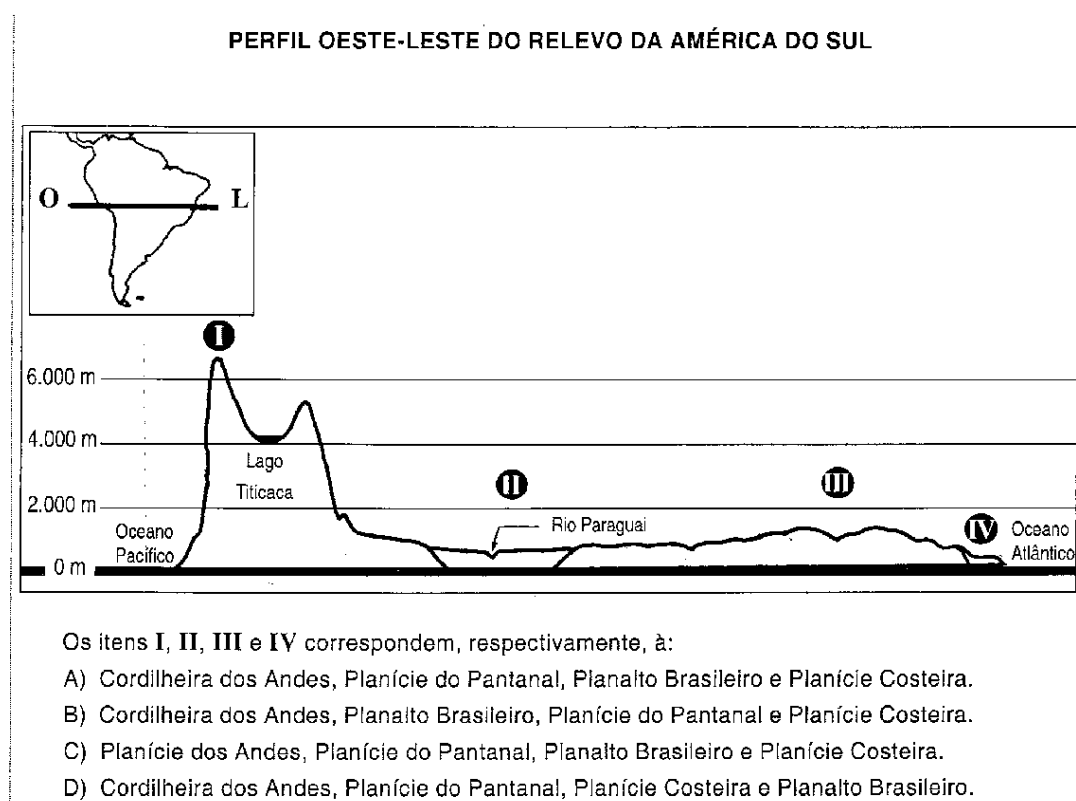
---



---

9 –

*1 ponto*



10 - Com base no mapa apresentado abaixo, é correto afirmar que: *1 ponto*

América do Sul



I) a Bolívia e o Paraguai são os dois únicos países mediterrâneos da América do Sul.



# Gardner

educação interativa

## AVALIAÇÃO

II) o Equador e o Chile são os dois únicos países mediterrâneos da América do Sul.

III) a margem ocidental da América do Sul limitase com o Oceano Atlântico.

IV) a margem setentrional da América do Sul limita-se com o Oceano Atlântico.

V) a margem ocidental da América do Sul limita-se com o Oceano Pacífico.

Estão corretas apenas as afirmativas:

A) I, IV e V

B) I, II e IV

C) II, III e V

D) III, IV e V

E) II, IV e V

**Há uma força motriz mais  
poderosa que o vapor, a  
eletricidade e a energia  
atômica: a vontade."  
( Albert Einstein )**