


LOGO SEKOLAH	<p>PEMERINTAH KABUPATEN .....</p> <p>DINAS PENDIDIKAN</p> <p>.....</p> <p><b>SUMATIF AKHIR SEMESTER I TINGKAT SD/MI</b></p> <p><b>TAHUN PELAJARAN 20../20..</b></p>	 <p>Kurikulum Merdeka</p>
-----------------	---	--

Kelas : 5 (Lima)	Nama : .....
Mata Pelajaran : Seni Musik	Nomor Peserta : .....
Hari/Tanggal : .....	Nama SD : .....
Waktu : .....	Nilai : .....

**Petunjuk Umum :**

1. Tulis terlebih dahulu nama, nomor, SD sebelum kamu mengerjakan soal di bawah ini.
2. Berdoa sebelum mengerjakan soal.
3. Kerjakan soal pada lembar kerja yang telah disediakan.
4. Gunakan pensil 2B untuk mengerjakan.
5. Periksa kembali hasil pekerjaanmu sebelum diserahkan .

----- Selamat Mengerjakan -----

**I. Berilah tanda silang ( X ) pada huruf A, B, C, atau D yang merupakan jawaban yang paling benar pada lembar jawab yang disediakan!**

1. Madonna dan Lady Gaga adalah penyanyi dengan karakter suara sedang. Ini berarti keduanya memiliki jenis suara ....

- A. Sopran
- B. Mezzo-sopran
- C. Contralto
- D. Alto

2. Bunyi alat musik dapat dibedakan berdasarkan cara memainkannya. Kolintang dan Doll adalah contoh alat musik yang dimainkan dengan cara ...

- A. digoyang
- C. digesek
- B. ditiup
- D. dipukul

3. Tangga nada adalah susunan nada yang ditata secara teratur. Tangga nada ditata mulai dari nada dasar sampai dengan ....

- A. oktaf
- B. quart

C. kuint

D. sekon

Perhatikan judul lagu berikut ini!

- i. Hari Merdeka
- ii. Bagimu Negeri
- iii. Indonesia Pusaka
- iv. Berkibarlah Benderaku

Judul lagu yang menggunakan tangga nada diatonis mayor ditunjukkan oleh huruf ....

- A. i dan ii
- B. i dan iii
- C. i dan iv
- D. ii dan iv

5. Alike sedang bernyanyi. Suara Alike ketika bernyanyi dihasilkan oleh organ-organ penghasil suara dalam tubuhnya. Berikut ini termasuk organ penghasil suara, kecuali ...

- A. paru-paru
- B. mulut
- C. pita suara
- D. dada

6. Laring yaitu bagian atas tenggorokan manusia. Laring disebut juga voice box karena ....

- A. tempat terjadinya suara
- B. tempat pertukaran udara
- C. tempat modifikasi suara
- D. tempat resonansi suara

7. Rongga resonansi adalah tempat dimana suara-suara diperkuat dan dimodifikasi oleh resonator vokal. Resonator vokal terdiri dari ....

- A. mulut, laring, pita suara
- B. hidung, mulut, pita suara
- C. tenggorokan, mulut, hidung
- D. pita suara, mulut, tenggorokan

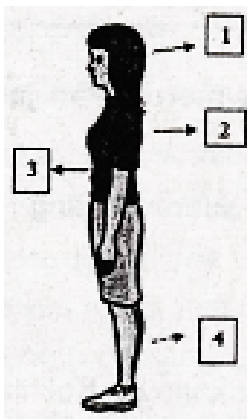
8. Mulut merupakan alat ucap manusia. Salah satu bagian mulut yakni artikulator. Organ yang termasuk artikulator adalah ....

- A. lidah
- B. gusi
- C. gigi
- D. anak tekak

9. Posisi kaki saat bernyanyi sebaiknya tetap lentur dan dapat bergerak kapan saja. Kelenturan ini berfungsi untuk ....

- A. mengurangi rasa tegang
- B. mengurangi rasa percaya diri
- C. menambah kegugupan
- D. menambah kecemasan

10. Perhatikan gambar berikut!



Bagian tubuh berupa rongga yang mendukung sistem pernapasan pada saat bernyanyi ditunjukkan oleh nomor ....

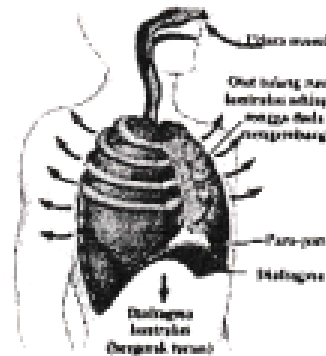
- A. 1
- B. 2
- C. 3

D. 4

11. Pernapasan sangat penting dalam bernyanyi. Menurut McKinney salah satu tahap yang perlu dipelajari dalam teknik pernapasan adalah recovery yaitu ....

- A. menghirup napas
- B. menahan napas
- C. mengatur udara yang keluar
- D. relaksasi otot pernapasan

12. Perhatikan gambar berikut!



Gambar tersebut menunjukkan proses pernapasan manusia pada tahap ....

- A. inspirasi pernapasan perut
- B. ekspirasi pernapasan perut
- C. inspirasi pernapasan dada
- D. inspirasi pernapasan dada

13. Solfeggio adalah latihan bernyanyi dengan cara mengikuti nada yang dimainkan menggunakan alat musik, misalnya keyboard. solfeggio digunakan untuk melatih ....

- A. artikulasi
- B. intonasi
- C. teknik vibrasi
- D. pernapasan

14. Irama yang tercipta dari beberapa instrumen yang dimainkan secara bersamaan dengan pola yang berbeda disebut ...

- A. polioritmik
- B. polimerik
- C. pola ostinato
- D. pola sincope

15. Bentuk penampilan musik vokal yang dilakukan oleh dua orang penyanyi disebut ....

- A. paduan suara
- B. vokal grup
- C. trio

D. duet

16. Musik instrumental adalah bentuk penampilan musik yang menggunakan alat musik saja. Kelompok musisi yang memainkan alat musik bersama-sama dengan jumlah besar disebut ....

- A. Orchestra
- B. Band
- C. Kwartet
- D. Trio

17. Di bawah ini adalah kegiatan yang dapat dilakukan dalam apresiasi musik, kecuali ....

- A. mendengarkan musik atau lagu
- B. mengevaluasi atau menilai lagu
- C. memberikan saran atau kritik untuk lagu
- D. melakukan plagiat atau menjiplak lagu

18. Lagu populer bertema anak biasanya berisi keceriaan dan semangat. "Kring-kring Ada Sepeda" adalah lagu anak populer ciptaan ....

- A. AT. Mahmud
- B. Pak Kasur
- C. L. Manik
- D. WR. Supratman

19. Indonesia memiliki banyak lagu daerah. Lagu daerah memiliki ciri khas menggunakan bahasa daerahnya masing-masing. Berikut ini adalah lagu daerah dari Jawa Barat ....

- A. Manuk Dadali, Es Lilin, Bubuy Bulan
- B. Bungong Jeumpa, Tawar Sedenge
- C. Kicir-kicir, Surilang, Kelap-kelip
- D. Ampar-ampar pisang, Anak pipit

20. Perhatikan lirik lagu berikut ini

- 1) Nang mana batis kutung dikitip bidawang
  - 2) Bengkok dimakan api, apinya clang curupan
  - 3) Mangga lepok mangga tepot, patai kayu bengkok
  - 4) Masak bigi dihurung bari-bari
  - 5) Ampar-ampar pisang, pisangku belum masak
- Urutan yang benar lagu "Ampar-ampar pisang" adalah

- A. 1-5-4-3-2
- B. 3-2-1-5-4
- C. 5-4-1-3-2
- D. 5-4-3-2-1

**II. Isilah titik-titik di bawah ini dengan**

**jawaban yang benar pada tembar jawaban yang telah tersedia!**

21. secara umum, suara manusia dibagi menjadi dua jenis, yaitu suara ... dan ...

22. Alat musik ini terdiri dari dua atau lebih batang bambu dengan ukuran berbeda. Alat musik ini berasal dari Jawa Barat. Alat musik yang dimaksud adalah ...

23. Garis ini disebut juga sangkar nada atau balok not. Garis ini digunakan untuk menulis notasi. Garis yang dimaksud adalah ...

24. Tangga nada pentatonis umumnya dipakai dalam musik tradisional. Tangga nada pentatonis dibagi menjadi dua, yaitu ... dan ...

25. setiap organ penghasil suara memiliki fungsi yang berbeda. organ yang terletak pada laring dan akan bergetar apabila tersentuh embusan napas dari paru-paru adalah ...

26. Mulut merupakan alat ucap yang terdiri dari bagian artikulator dan titik artikulasi. Gigi, gusi, dan langit-langit termasuk bagian- . . . .

27. Menyenandungkan nada, misalnya do-re-mi-fa-sol-la-si-do dapat dilakukan sebagai ... sebelum bernyanyi.

28. Kesulitan menyanyikan nada rendah atau nada tinggi dan Suara Sengau diakibatkan oleh ... tubuh yang kurang baik saat bernyanyi.

29. Teknik pernapasan yang baik dan benar sangat diperlukan dalam produksi suara. Teknik pernapasan yang umum digunakan dalam bernyanyi adalah pernapasan dada, perut, dan ...

30. Huruf vokal disebut juga huruf hidup. Huruf vokal terdiri dari ... dan ...

31. Dua huruf vokal yang berdekatan dalam satu suku kata, misalnya au dan ai disebut ...

32. Dalam bernyanyi terdapat teknik vibrasi. Teknik vibrasi digunakan untuk menciptakan atau mengeluarkan ... suara.

33. Pola irama merupakan kumpulan bunyi yang ditata dengan cara tertentu dalam birama. Pola irama hadir secara ... dan teratur dalam sebuah lagu.

34. Pola irama ini berasal dari Italia dan banyak diterapkan dalam musik klasik. Pola ini sudah mulai digunakan sejak abad ke-15. Pola irama yang dimaksud adalah

35. Kwartet adalah bentuk penampilan musik vokal yang dilakukan oleh ... orang penyanyi yang melodinya berbeda.

36. Musik campur adalah bentuk penampilan

rnusik yang menggabungkdn antara vokal dan  
37. Seiring perkembangan teknologi, apresiasi seni musik dapat dilakukan dengan lebih mudah. Spotify

adalah contoh platform legal untuk ... musik.

38. Perhatikan penggalan lirik lagu berikut ini!

... ku duduk dimuka, ku duduk samping pak kusir yang sedang bekerja ....

Penggalan lirik lagu di atas berjudul ...

39. Perhatikan tabel berikut ini!

Judul lagu	Pencipta
i. Desaku	L. Manik
ii. Bintang kecil	Ibu sud
iii. Indonesia raya	WR. Supratman
iv. Hari merdeka	Kusbini

Pasangan judul lagu dan penciptanya yang tepat ditunjukkan oleh huruf ... dan ...

40. Potong Bebek Angsa dan Anak Kambing Saya adalah lagu daerah dari provinsi . . . .

**III. Jawablah pertanyaan-pertanyaan di bawah ini dengan jelas dan tepat pada lembar jawaban yang telah tersedia!**

41. Indonesia memiliki berbagai jenis alat musik tradisonal. Sebutkan 3 contoh alat musik tradisional Indonesia beserta cara memainkannya!

42. Dalam penulisan instrumen musik menggunakan notasi balok terdapat istilah birama, garis birama, dan tanda birama. Jelaskan perbedaan ketiga istilah ter:sebut!

43. Seorang penyanyi harus mampu menerapkan teknik pernapasan yang baik. Sebutkan 3 jenis teknik pernapasan yang umum digunakan dalam bernyanyi!

44. Musik vokal adalah bentuk penampilan musik yang hanya menampilkan suara penyanyi saja, tanpa disertai iringan musik. Sebutkan bentuk-bentuk kelompok musik vokal dan jumlah penyanyinya!

45. Salah satu ciri lagu walib nasional adalah syairnya mengajak untuk mencintaitanah air dan bangsa. Sebutkan 3 contoh tagu wajib nasional beserta penciptanya!