

Secretaría de Educación Pública
Escuela Primaria Urbana o Rural

“XXXXXXXXXXXXXXXXXX”

C.C.T.: XXXXXXXXX

Zona Escolar: XX Sector: XX

Ciclo Escolar: 2023 – 2024

Grado: 2° Grupo: X

Maestro(a): <https://materialeseducativos.mx/>

NEM



Nombre del alumno: _____

Lugar: _____




Fecha: _____

Nombre del padre de familia o tutor: _____



ASIGNATURA	REACTIVO S	ACIERTOS	CALIFICACIÓ N	FIRMA DEL PADRE O TUTOR
LENGUAJE				
SABERES Y PENSAMIENTO CIENTÍFICO				
ÉTICA, NATURALEZA Y SOCIEDADES				
DE LO HUMANO Y LO COMUNITARIO				
PROMEDIO				

Escribe el nombre de cada fruta.

		
1. _____	2. _____	3. _____

4. Escribe los signos que faltan.

__Cuál es tu fruta favorita__
 La sandía.
 __Qué sorpresa__ La mía también.

Escucha la lectura del texto y responde las preguntas 5 y 6

Si quieres conservar la salud, come frutas y verduras. Uno de los mejores alimentos es la manzana, muy recomendable para todas las edades. Contiene vitaminas y fibra, que dan grandes beneficios para la salud.

Se recomienda una manzana como refrigerio cuando nos sentimos cansados o no podemos concentrarnos en una tarea y para mejorar la memoria, ya que es mucho mejor que un dulce o frituras.

5. El texto trata de...

- ☐ las frutas.

☐ la manzana.

☐ las enfermedades.

6. La palabra "refrigerio" significa lo mismo que...

- ☐ medicamento.

☐ alimento.

☐ desayuno.

7. Escribe de forma correcta el siguiente enunciado:

La uva es una fruta dulce.	
Con piel berde, amarilla o morada.	

8. ¿Cómo se llama la leyenda, según la portada del libro?



- ☐ Conejito tiene miedo.
- ☐ El conejo de la luna.
- ☐ Cráteres de la luna.

Escribe las letras que faltan para completar las palabras.



9. e _ _ _ e



10. ca _ _ _ a

11. Lee el siguiente texto y marca con color rojo lo que se tiene que corregir.

Tiene hojos y no ve,
tiene corona y no es rei
tiene escamas y no es pes.




Une con líneas cada portada con el tipo de narración.

Cuento



12. Fábula



13. Leyenda



14. Une con líneas la palabra con la imagen que corresponde.



pera

perra



15. Subraya la frase que se usa para empezar un cuento.

Cuando menos lo esperaba.

Había una vez.

Y colorín colorado.

16. Subraya la frase que podemos usar para terminar un cuento.

Y fueron felices para siempre.

En un lugar lejano

Éste era un rey.

Escucha la lectura de esta parte del poema y responde la pregunta 17.

EL LAGARTO ESTÁ LLORANDO
Federico García Lorca

El lagarto está llorando.
La lagarta está llorando.

El lagarto y la lagarta
con delantalitos blancos.

Han perdido sin querer
su anillo de desposados.

¡Ay, su anillito de plomo,
ay, su anillito plomado!

17. El lagarto y la lagarta lloran porque...

☐

se mancharon sus delantales.

☐

se perdieron sus anillos.

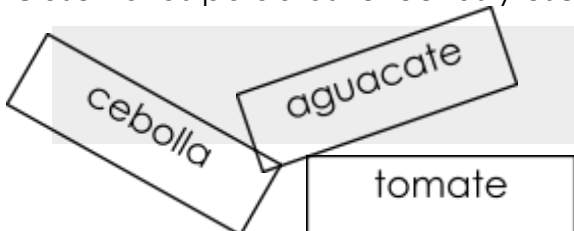
☐

se tienen que separar.

18. Escribe el nombre a cada imagen.



19. Observa las palabras revueltas y escríbelas en las líneas según el orden alfabético.



20. Escribe el nombre de una fruta que empiece con la misma letra que las otras.

papaya

plátano

pera

SABERES Y PENSAMIENTO CIENTÍFICO

Observa el calendario que llevó Agustín al salón de clases y responde las preguntas 21 y 22.



21. ¿Cuántos meses le faltan al calendario que llevó Agustín?

meses.

22. ¿Cuál es el mes más corto del año?

- ☐ Enero
- ☐ Febrero
- ☐ Septiembre

23. ¿Quién organizó 480 chocolates de manera correcta en cajas con 100 y bolsas con 10 chocolates, sin que sobren ni falten chocolates?


- ☐ Martín quiere llenar 4 cajas y 8 bolsas.
- ☐

Alicia quiere llenar 3 cajas y 12 bolsas.

☐ Fermín quiere llenar 4 cajas y 5 bolsas.

24. Colorea los cuadritos indicados en la suma y escribe correctamente cuántos hay en total:

$100+56=$



25. Encierra el recipiente que tiene mayor capacidad que un litro.



26. Matías y Karina prepararon un limpiador ecológico. Para 4 litros de agua, necesita 1 litro de vinagre blanco y el jugo de 4 limones. Si quisieran preparar limpiador, ¿cuántos litros de vinagre blanco y cuántos limones tienen que poner a 8 litros de agua?

Limpiador ecológico.		
Litros de agua:	Cantidad de vinagre blanco:	Cantidad de limones:
Para 4 litros de agua	1 litro de vinagre blanco	4 limones
Para 8 litros de agua		

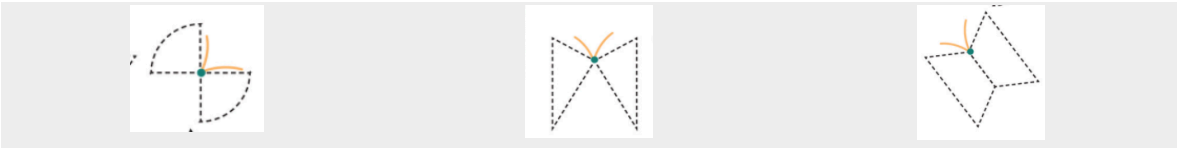
27. A Don Jacinto le hicieron 2 pedidos de chocolates en paquetes de 10 y chocolates sueltos. Observa la tabla y escribe cuántos chocolates va a entregar en total Don Jacinto. _____

Perdidos	Paquetes con 10	Chocolates sueltos:
Pedido 1	3	7
Pedido 2	4	5

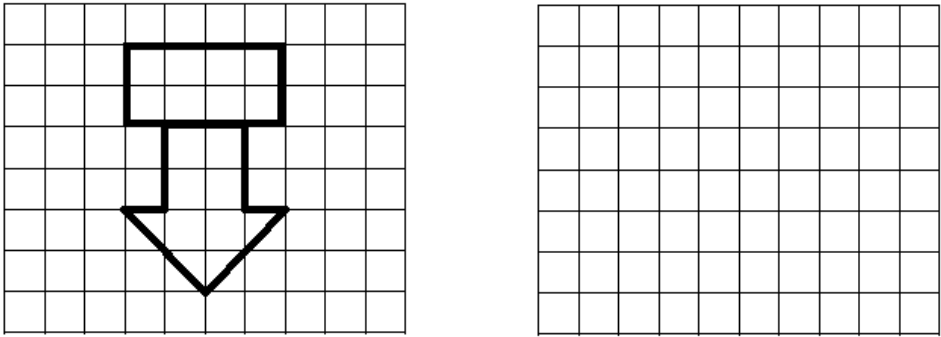
28. Si tenemos 61 paletas, ¿cuántas faltan para completar 70?

6	8	9
---	---	---


29. Colorea la mariposa que tiene las alas en forma de triángulos.



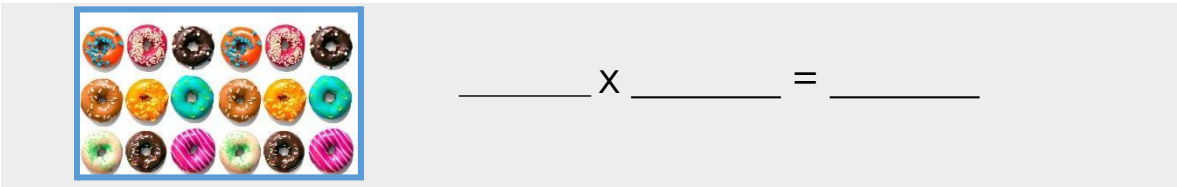
30. Copia el dibujo. Trata que quede igual, con todos sus lados rectos. Puedes utilizar una regla.



31. ¿En cuál caso se puede calcular el total de frijoles con una multiplicación?



32. Anota la multiplicación con la que se puede calcular el total de donas que hay en la charola.



Observa los cuerpos geométricos y haz lo que se te pide en los reactivos 33 y 34.



33. Encierra el cuerpo geométrico que

se forma con las siguientes caras.



34. Tacha el cuerpo geométrico que se parece a un dado y tiene 6 lados cuadrados."

35. ¿Cuál estudiante tiene las tarjetas que forman el número 345?

100	100	100	100	100	10	1	1	1	1	1		
10	10	10	10	1	1	1	1	1	10	10	10	10
1	1	1	1	1								
Estudiante 1				Estudiante 2				Estudiante 3				

36. Ayuda a Javier a saber cuánto dinero le falta para completar lo que quiere ahorrar.

Tiene	Quiere completar	¿Cuánto le falta?
\$ 250	\$ 600	

37. Las tiras representan el tamaño de los pasos de cada niña. ¿Quién dio el paso más largo?

Carmen

Julia

Felicia

Carmen

Julia

Felicia

38. Calcula cuánto mide la ventana de ancho. Utiliza la vara.

2 varas

5 varas

10 varas



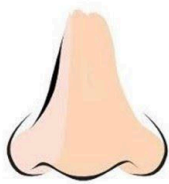
Lee los resultados de la encuesta realizada a 100 personas y completa la tabla.




Actividad:	Total de personas que prefieren:
Pesas	6
39. Natación	
40. Deportes en equipo	

ÉTICA, NATURALEZA Y SOCIEDADES

41. ¿Cuál es el sentido que sirve para reconocer una canción en la radio?

<input type="checkbox"/>		<input type="checkbox"/>		<input type="checkbox"/>	
--------------------------	-------------------------------------------------------------------------------------	--------------------------	-------------------------------------------------------------------------------------	--------------------------	--------------------------------------------------------------------------------------

42. Marca la acción que debemos realizar para cuidar los oídos.



43. ¿Cuál es la imagen que representa la palabra "lunes"?



44. ¿Cuál animal tiene más desarrollado el oído que los seres humanos?


- | | | |
|-------|------|---------|
| perro | topo | caracol |
|-------|------|---------|

Une con líneas cada tradición con la imagen que le corresponde.

45. Día de muertos



46. La Guelaguetza



47. Las posadas




48. Colorea los meses del calendario escolar que corresponden al invierno.


- | | | | |
|--------|------------|---------|-----------|
| agosto | septiembre | octubre | noviembre |
|--------|------------|---------|-----------|

diciembre	enero	febrero	marzo
abril	mayo	junio	julio


Escribe debajo de cada planta, si es **árbol**, **arbusto** o **yerba**.



49. _____



50. _____



51. _____




52. Escribe una acción para ayudar a proteger las plantas.

Completa el crucigrama escribiendo el nombre de 3 lugares de referencia que sirven para ubicar cómo llegar a algún sitio.

		53. ↓					
		m				54. ↓	
					P		
55. →	e						a
		o			a		



56.- Dibuja cómo representarías la iglesia y los árboles en un croquis:

		
Iglesia	Casa de Juan	Árboles

Escribe debajo de cada imagen que acción realizan los niños para producir sonidos al usar instrumentos musicales.

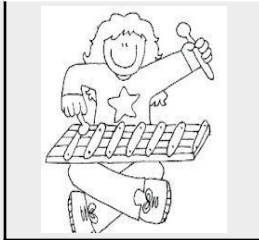
soplar

rasgar


golpear



57.



58.



59.

60. Tacha la imagen que represente un sonido desagradable.



61. ¿Cómo se llama la tradición mexicana que se representa en la imagen?



☐ Fiesta de Santiago

☐ Voladores de Papantla

☐ Día de Muertos

62. Escribe el nombre de un juego que les gusta jugar en el parque a los niños de tu edad.

Une con líneas las costumbres que se describen con el lugar de donde son originarias las tradiciones.

63. Se acostumbra comer chapulines, hormigas y gusanos.

Veracruz

64. Se celebra la ceremonia de los voladores de Papantla.

Oaxaca

65. Se lleva comida y bebida a los panteones el Día de Muertos.

Michoacán

66. "Contribuir" en los grupos de la escuela o en la familia, significa que...

☐

estamos siempre atentos a lo que hacen los demás.

☐

apoyamos en actividades para el bienestar de los demás.

☐

pedimos ayuda cuando necesitamos apoyo de los demás.

Relaciona el tipo de apoyo con las personas que lo realizan.

67. Ordeno la ropa y otras cosas en mi habitación.



68. Preparo los alimentos para toda la familia.



69. Riego las plantas una vez por semana.



70. Explico a los alumnos lo que no comprenden.



Escribe la palabra “igualdad” o “desigualdad”, según corresponda.

71. La mamá limpia la casa y el papá trabaja en el taller.

72. Mi tía y mi tío cuidan juntos a sus tres hijos.

73. Mi hermano no puede ayudar a barrer porque él estudia.

74. Mi prima gana más en su trabajo por ser mujer.

75. Le explico a mi hermana que ella no debe jugar fútbol.

76. ¿Cuál es la mejor forma de resolver un conflicto en el salón de clases?

☐

Convencer a todos para que hagan lo que queremos.

☐

Trabajar solamente con compañeros que piensen igual.

☐

Platicar sobre lo que piensa cada uno sobre el tema.

Escucha la lectura de lo que pasó en un grupo de primer grado y responde las preguntas 77 a 80.

El maestro Roberto pidió a los alumnos que realizaran un cartel. Martín investigó en sus libros y decidió que hicieran el cartel sobre los cuidados de las mascotas. Ana y Daniela dijeron que preferían un cartel sobre juguetes tradicionales. Jaime dijo que no importa el tema, lo que a él le gustaría es que lleve muchos colores e imágenes grandiosas.

77. ¿Cómo podrían llegar a un acuerdo?

- ☐ Por medio del diálogo.
- ☐ Con una votación.
- ☐ Preguntando al maestro.

78. ¿Cuál tema deberían elegir?

- ☐ El de Martín porque él investigó.
- ☐ El de Ana y Daniela porque son más.
- ☐ El que elijan entre los cuatro alumnos.






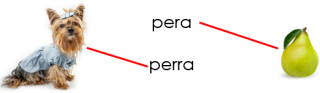

79. ¿Qué debe hacer el maestro para ayudar a solucionar el conflicto?

- ☐ Elegir el tema él mismo y decirles a los alumnos cuál será.
- ☐ Invitar a los alumnos a explicar por qué quieren cada tema.
- ☐ Cambiar la actividad para que los alumnos ya no discutan.

80. ¿Qué significa "empatía"?







- ☐ Ser una persona graciosa para otros.
- ☐ Obtener los mismos resultados que otros.
- ☐ Ponerse en el lugar de los otros.

TREN DE RESPUESTAS
GRADO: SEGUNDO

LENGUAJE		SABERES Y PENSAMIENTO CIENTÍFICO	
Reactivo	Respuesta correcta	Reactivo	Respuesta correcta
1	Escribe correctamente: naranja	21	3
2	Usa la g al escribir "guayaba". Puede tener otros errores.	22	Febrero
3	Escribe correctamente: mango	23	Martín
4	<div style="border: 1px solid black; padding: 5px;"> <p>¿Cuál es tu fruta favorita?</p> <p>La sandía.</p> <p>¡Qué sorpresa! La mía también.</p> </div>	24	56
5	la manzana	25	
6	alimento	26	2 litro de vinagre blanco y 8 limones.
7	Corrige: dulce, verde.	27	82
8	El conejo de la luna	28	9
9	elote	29	
10	calabaza	30	Realiza el dibujo igual al modelo.
11	<div style="border: 1px solid black; padding: 5px;"> <p>Tiene hojos y no ve,</p> <p>tiene corona y no es rei</p> <p>tiene escamas y no es pes.</p>  </div>	31	$4 + 4 + 4$
12		32	$6 \times 3 = 18$
13		33	
14		34	
15	Había una vez.	35	Estudiante 1
16	Y fuero felices para siempre.	36	\$350
17	...se perdieron sus anillos.	37	Felicia
18	carta guante aguacate	38	5 varas
19	cebolla tomate	39	25
20	piña	40	35

TREN DE RESPUESTAS

GRADO: SEGUNDO

ÉTICA, NATURALEZA Y SOCIEDADES		DE LO HUMANO Y LO COMUNITARIO	
Reactivo	Respuesta correcta	Reactivo	Respuesta correcta
41		61	Voladores de Papantla
42		62	Juego que se acostumbra en la comunidad: futbol, escondidas, etc.
43		63	Oaxaca
44	perro	64	Veracruz
45		65	Michoacán
46		66	apoyamos en actividades...
47		67	
48	Diciembre, enero, febrero	68	
49	yerba	69	
50	árbol	70	
51	arbusto	71	desigualdad
52	Regarlas, poner abono, limpiar el jardín, no cortar hojas, etc.	72	igualdad
53	mercado	73	desigualdad
54	plaza	74	desigualdad
55	escuela	75	igualdad
56	Realiza dibujos sencillos de iglesia y árboles. No importa la calidad.	76	Platicar sobre lo que piensa cada uno...
57	rasgar	77	Por medio del diálogo
58	golpear	78	El que elijan entre los ...
59	soplar	79	Invitar a los alumnos...
60		80	Ponerse en el lugar de los otros.

Gracias por visitar:

<https://materialeducativo.org/>

&

<https://materialeseducativos.mx/>

Únete a nuestro canal de Youtube:

https://www.youtube.com/channel/UC2c9MOFE8JOwPAc9EY_uMe0w

Únete a nuestras páginas de Facebook:

<https://www.facebook.com/materialeducativomx/>

<https://www.facebook.com/educacionprimariamx/>

El texto, imágenes y contenido de los exámenes pertenecen a sus respectivos autores, nosotros solo compartimos el material como fin informativo y educativo, sin fines de lucro.

Grupos de Facebook:



Nombre del grupo:	Enlace para unirte:
Material Educativo	https://www.facebook.com/groups/materialeseducativosmx/
Maestros Con Vocación	https://www.facebook.com/groups/maestrosconvocacion/
Todo Sobre Docencia	https://www.facebook.com/groups/todosobredocencia/
Maestro De Primaria	https://www.facebook.com/groups/maestrodeprimaria/
Material De Apoyo	https://www.facebook.com/groups/1226193467462502/
Materiales Educativos	https://www.facebook.com/groups/MaterialEducativoMX/
Primer Grado 2023 – 2024	https://www.facebook.com/groups/primergradodeprimaria/
Segundo Grado 2023 – 2024	https://www.facebook.com/groups/segundogradodeprimaria/
Tercer Grado 2023 – 2024	https://www.facebook.com/groups/1676345985933461/
Cuarto Grado 2023 – 2024	https://www.facebook.com/groups/cuartogradodeprimaria/
Quinto Grado 2023 – 2024	https://www.facebook.com/groups/quintogradodeprimaria/
Sexto Grado 2023 – 2024	https://www.facebook.com/groups/sextogradoprimariamx/
Fase 3 1ero y 2do	https://www.facebook.com/groups/materialeducativoprimerysegundogrado/
Fase 4 3ero y 4to	https://www.facebook.com/groups/materialeducativotercerycuartogrado/
Fase 5 5to y 6to	https://www.facebook.com/groups/materialeducativoquintoysextogrado/
Recursos Didácticos	https://www.facebook.com/groups/937442069621501/
Primer Grado	https://www.facebook.com/groups/primergradoiniciacion/
Tercer Grado	https://www.facebook.com/groups/tercergradodeprimaria/

Grupos de WhatsApp:



(Si el grupo está lleno, puedes ingresar a otro o informarnos para crear uno nuevo)

Nombre del grupo:	Enlace para unirte:
Material Educativo	https://chat.whatsapp.com/HCH4ijLQzHVFFMNvU1rEM6
MaterialEducativo.Org	https://chat.whatsapp.com/EkpWS87fB0U78L5fpalLHQ
MaterialPrimaria.Com	https://chat.whatsapp.com/CsNPTuCClg261yMVENi0RO
Materia Primaria	https://chat.whatsapp.com/CugchCe8FW62AWCDiX2daR
MaterialesEducativos.Mx	https://chat.whatsapp.com/GYUY2zApjw0FPt33WUaM1N
Materiales Educativos	https://chat.whatsapp.com/KzSXWScrV4B06x2UNkYYZp
Primer Grado 2023 – 2024	https://chat.whatsapp.com/JfgY19xH8es61OkZSdX4bP
Segundo Grado 2023 – 2024	https://chat.whatsapp.com/KVjTT12Qu8s5qjcZyceDzR
Tercer Grado 2023 – 2024	https://chat.whatsapp.com/JSEZwHfRDJQ00diHKdKL7m
Cuarto Grado 2023 – 2024	https://chat.whatsapp.com/L2cbFdHJfy365ReJf5Odlh
Quinto Grado 2023 – 2024	https://chat.whatsapp.com/CYppQf7wBA9HRUYjHAd82r
Sexto Grado 2023 – 2024	https://chat.whatsapp.com/K4fj8WiPbkZ2RtCDH1EJcx
Primer Grado De Primaria	https://chat.whatsapp.com/IR2nMeatOCWKOhaMLhe7UO
Segundo Grado De Primaria	https://chat.whatsapp.com/CkePgSyaQh1liS1cSIOTnP
Tercer Grado De Primaria	https://chat.whatsapp.com/Lm7RHR9UrdflmSpKPBjTWK
Cuarto Grado De Primaria	https://chat.whatsapp.com/lmvWWNyvfMCGclZzpRHmYj
Quinto Grado De Primaria	https://chat.whatsapp.com/L1yH7fTStOkB1SMkozfqfD
Sexto Grado De Primaria	https://chat.whatsapp.com/ION96BEiLMh5GeQgkdYcJE

Grupos de Telegram:



Nombre del grupo:	Enlace para unirte:
Material Educativo	https://t.me/+9lIHVu6TM6NjMzBh

Primer Grado De Primaria	https://t.me/+P_tocv7pIAkzNGEx
Segundo Grado De Primaria	https://t.me/+IpMcBB0jCgs5NzIx
Tercer Grado De Primaria	https://t.me/+2uOuORxbemQwZjRh
Cuarto Grado De Primaria	https://t.me/+JuTdpqAlvqEyNjZh
Quinto Grado De Primaria	https://t.me/+wHpCJ-TvP7gwYjZh
Sexto Grado De Primaria	https://t.me/+JLXLZORU2d41NTEEx

Visita:

<https://materialeducativo.org/>

<->

<https://materialeseducativos.mx>