

اختاري الإجابة
الصحيحة لكل
من العبارات

ات

② تسريع عمليات البحث
③ الرموز المستخدمة قد تستنفذ
④ إدخال اسرع للبيانات

ثرون ومحلات بيع الكتب لتحديد عناوين الكتب واصداراتها

② Barcodes ③ ID ④ ISBN

مجالات ويعمل على تحليل البيانات لاستخراج معلومات ذات مغزى تؤدي إلى معرفة

② المعلومات ③ المعرفة ④ ترميز البيانات

من تنظيم البيانات وترتيبها بطريقة محددة باستخدام رموز مختلفة كالأرقام أو الحروف أو

② المعلومات ③ المعرفة ④ ترميز البيانات

المخططات أنه يناسب مجموعات البيانات التي يصل عددها إلى 50 قيمة

② المخطط الخطي ③ المخطط العمودي ④ المخطط الرسومي

ن طريق إخفائها عن الأشخاص غير المرغوب بهم

② التنبؤ ③ المعرفة ④ التشفير

لمستقبلية بناء على البيانات السابقة

② التنبؤ ③ المعرفة ④ التشفير

من المستشعرات ومسجلات البيانات وحتى الاستبانات

Name

ZIPGRADE.COM

- 1 ① ② ③ ④ 13 ص خ
- 2 ① ② ③ ④ 14 ص خ
- 3 ① ② ③ ④ 15 ص خ
- 4 ① ② ③ ④ 16 ص خ
- 5 ① ② ③ ④ 17 ص خ
- 6 ① ② ③ ④ 18 ص خ
- 7 ① ② ③ ④ 19 ص خ
- 8 ① ② ③ ④ 20 ص خ
- 9 ① ② ③ ④
- 10 ① ② ③ ④
- 11 ① ② ③ ④
- 12 ① ② ③ ④

1 البيانات الثانوية 2 البيانات الرئيسية 3 البيانات العامة 4 بيانات التنبؤ

9- أهم مراحل الدراسة لظاهر معينة وهي عملية جمع الحقائق والأرقام والكلمات للمتغيرات المستهدفة وتحسينها

1 جمع البيانات 2 معالجة البيانات 3 التحقق من البيانات 4 مراجعة البيانات

10- أحد أنواع التحقق من الصحة يجعل عملية الإدخال إلزامية في الخلية مما يضمن عدم تركها فارغة هو التحقق من :

1 التواجد 2 الطول 3 الصيغة 4 النوع

11- أحد أنواع التحقق من الصحة يستخدم للتأكد من أن البيانات تأتي بصيغة محددة مسبقاً

1 التواجد 2 الطول 3 الصيغة 4 النوع


12- يستخدم هذا النوع من مخططات التنبؤ بشكل كبير لعرض التغيير بمرور الوقت من خلال سلسلة من نقاط البيانات المتصلة بخط مستقيم ويساعد في تحديد العلاقة بين مجموعتين من القيم

1 المخطط الدائري 2 المخطط الخطي 3 المخطط العمودي 4 المخطط الرسومي

13


خطأ

صواب





خطأ	صواب	14

خطأ	صواب	15




		16
خطأ	صواب	






خطأ	صواب
17	



خطأ	صواب	18

خطأ	صواب	19

خطأ	صواب	20



اختبار الفترة الأولى
تقنية رقمية 2 - 1 للعام الدراسي 1445 هـ

طالبتى الغالية سمي بالله واستعيني به ثم اختاري الإجابة
الصحيحة بتظليل رقم الإجابة في النموذج التالي

