

 <b>UPTD SDN</b> WEBSITE : <a href="http://www.kherysuryawan.id">www.kherysuryawan.id</a> <b>PENILAIAN AKHIR SEMESTER</b> <b>TAHUN PELAJARAN 20../20..</b>	Nama :
	No. Absen :
	Nilai :
Mata Pelajaran : Tema 4 Kelas : II (DUA) Waktu : 90 menit Tanggal :	

PPKN (3.4) B.INDONESIA (3.4) MATEMATIKA (3.9 3.10 3.11)	PG : 3.4 (1,2,3) ISIAN :16 PG : 3.4 (4,5,6) ISIAN : 17 PG:3.9 (7,8),3.10 (9) ISIAN : 18	SBdP (3.1 3.2 3.3) PJOK (3.4)	PG:3.1(10) 3.2 (11) 3.3 (12) ISIAN: 3.4 (19) PG: 3.4 (13,14,15) ISIAN : 3.4 (20)
--	--	-------------------------------------	---

**I. Pilihlah huruf A, B, C, atau D untuk jawaban yang benar !**

- Yang bukan merupakan contoh sikap hidup bersatu di lingkungan masyarakat adalah... .
  - mengikuti kerja bakti
  - menghargai pendapat orang lain
  - menyelesaikan permasalahan dengan cara voting
- Sikap iri terhadap kelompok lain merupakan perbuatan....
  - tercela
  - terpuji
  - teratasi
- Manusia adalah makhluk sosial, artinya....
  - manusia dapat hidup sendiri
  - manusia membutuhkan pertolongan manusia lain
  - manusia dapat memenuhi kebutuhan sendiri
- Sampah kering adalah sampah yang memiliki kandungan air.....
  - banyak
  - sedikit
  - berlebih
- Sapu, kemoceng, dan kain pel

merupakan alat untuk membersihkan.....

- A. halaman
- B. toilet
- C. kelas

6. Dalam membaca suatu cerita, harus memperhatikan.....

- A. tanda baca
- B. pengarang
- C. judul

7. **Perhatikan bangun datar di bawah ini!**



Bangun disamping mempunyai ..... ruas garis.

- A. 3
- B. 2
- C. 1

8. Bangun datar jajar genjang memiliki ..... sudut.

- A. 2
- B. 4
- C. 6

9. **Perhatikan bangun datar di bawah ini!**



Pola bangun datar di atas terdiri dari bangun.....

- A. Segitiga, segiempat, lingkaran
- B. Segitiga, jajar genjang, lingkaran
- C. Segitiga, belah ketupat, lingkaran

10. Berikut ini merupakan karya dua dimensi adalah ... .

- A. patung
- B. arca
- C. lukisan

11. Gerak tari serempak termasuk gerak tari pada jenis... .

- A. perorangan
- B. kelompok
- C. individu

**12. Perhatikan gambar!**



1



2



3

Kerajinan yang terbuat dari daun kering adalah gambar... .

- A. 3
- B. 2
- C. 1

13. Gerakan melatih keseimbangan dapat dilakukan dengan... .

- A. merentangkan kedua tangan sambil di gerak-gerakkan
- B. mengangkat satu kaki dan merentangkan kedua tangan
- C. berlari satu arah

**14. Perhatikan gambar!**



Pada saat melakukan gerakan seperti gambar diatas posisi kepala menghadap ke arah... .

- A. atas
- B. bawah
- C. samping

15. Olah raga yang dilakukan secara bersama-sama adalah ... .

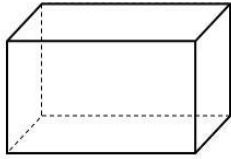
- A. sepak bola
- B. hula hoop
- C. skipping

**I. Isilah titik-titik di bawah ini dengan jawaban yang benar !**

16. Membersihkan got bersama tetangga merupakan contoh sikap hidup bersatu di ... .


17. Pengaruh jiwa yang sehat maka tubuh akan menjadi ... .

18. **Perhatikan gambar di bawah ini!**



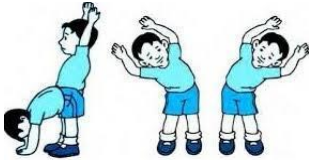
Berapa jumlah rusuk bangun di samping?

19. **Perhatikan gambar!**



Kegiatan yang dilakukan tono dan teman - teman  
h....

20. **Perhatikan gambar di bawah ini!**



Gerakan pada gambar tersebut termasuk dalam  
gerakan ... .