

التاريخ:

# اختبار قصير (1)



مدرسة أم الحكم بنت الزبير للتعليم الأساسي (10-1)

2021\10م

اسم المثابرة: .....

الصف: الثامن

المادة: دراسات اجتماعية

أولاً: اختاري الإجابة الصحيحة من بين البدائل المعطاة:

(1) المصطلح الذي يطلق على حالة الجو بجميع ظواهره المختلفة خلال فترة زمنية قصيرة:

أ- الطقس      ب- المناخ      ج- النشرة الجوية      د- حالة الجو

(2) تيار بحري دافئ يؤدي إلى فتح الملاحة في موانئ النرويج طوال العام:

أ- تيار البيرو      ب- تيار كناري      ج- تيار الخليج      د- تيار بنجويلا

(3) جميع ما يلي من المصادر الثانوية للحرارة على سطح الأرض ما عدا:

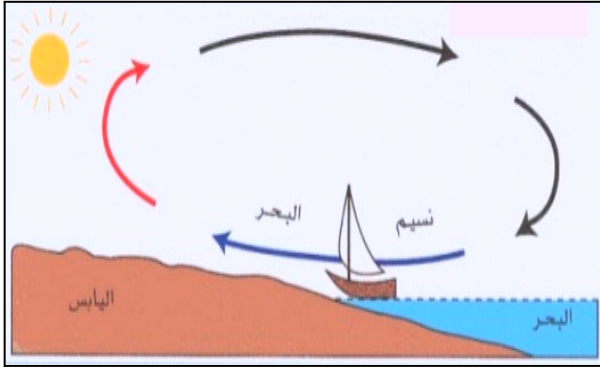
أ- الشمس      ب- البراكين      ج- الشهب      د- النافورات الحارة

(4) نوع التكاثف الذي يظهر بالقرب من سطح الأرض ويؤدي إلى ضعف الرؤيا:


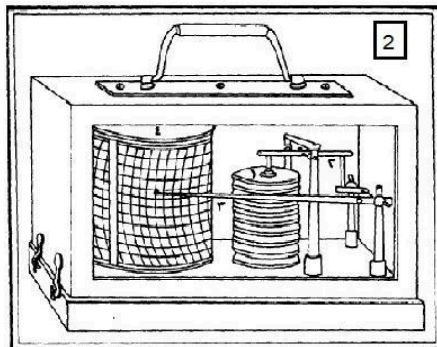
أ- الندى      ب- السحب      ج- الضباب      د- الرطوبة

(5) نوع الرياح الذي يمثله الشكل المقابل:

أ- رياح دائمة      ب- رياح يومية      ج- رياح موسمية      د- رياح محلية



ثانياً: أ) أكتبي أمام كل رقم اسم الجهاز التي يمثله الشكل المقابل مع ذكر ما يقيسه كل جهاز.



(1) اسم الجهاز.....

يقيس .....

(2) اسم الجهاز.....

يقيس .....

ب) عللي: حرص الناس على سماع النشرة الجوية.

ج) أذكر إثنين من العوامل التي تتوقف عليها كمية الأشعة الشمسية التي تصل إلى سطح الأرض.

ثالثاً: 1) أدرسي الخريطة أدناه ثم أجيب عن الأسئلة التالية:



أ- ما الرقم الدال على الآتي:

1) أحد الدول التي تتأثر بالأعاصير المدارية. (.....)

2) نطاق يقع ضمن المنطقة الباردة الجنوبية. (.....)

ب- ارسمي على الخريطة اتجاه الرياح الموسمية الشتوية في قارة آسيا.

ج- ظللي على الخريطة أحد البحار المعتدلة التي تتأثر بالمنخفضات الجوية في الشتاء.

2) متى بدأ تاريخ الرصد الجوي المنتظم في سلطنة عمان؟ وفي أي مطار؟

عام ..... ، مطار .....

انتهت الأسئلة مع تمنياتي للجميع بالنجاح