

الصف: ثالث ابتدائي
اليوم:
التاريخ: / / 1445هـ



المملكة العربية السعودية
وزارة التعليم
إدارة تعليم منطقة
مدرسة

اختبار الفترة لمادة العلوم للصف الثالث ابتدائي الفصل الدراسي الثاني



200

200

200



1- فتحة في القشرة الأرضية تندفع منها الصهارة:

الفيضان

د

الإعصار





ج

البراكين

ب

أ الزلازل

2- يشكل مخلوط المعادن وفتات الصخور:

أ	الرياح	ب	التربة	ج	التجوية	د	الزلازل
3- بقايا ضع علامة أو امام العبارات التالية							
أ	الماء	ب	الوقود	ج	الاحفورة	د	البركان
4- طبقة التربة التي تحتوي على بقايا المخلوقات المتحللة:							
أ	السطحية	ب	تحت السطحية	ج	الصخرية	د	تحت الصخرية
5- لا يمثل احفورة:							
أ		ب		ج		د	



1- التربة الغنية بالسبان يحون نوبها أبيض.	<input type="radio"/>
2- يحتاج الوقود الأحفوري إلى ملايين السنين لكي يتكون.	<input type="radio"/>
3- التربة مورد طبيعي.	<input type="radio"/>
4- تسبب البراكين في نمو النباتات بشكل كبير.	<input type="radio"/>
5- الطبقات نوع من الاحافير.	<input type="radio"/>



التجوية

الوقود
التجوية

التعرية

1- مادة يتم حرقها للحصول على الطاقة.
2- تفتت الصخور الى أجزاء اصغر.
3- نقل الفتات الصخري من مكان الى مكان اخر.

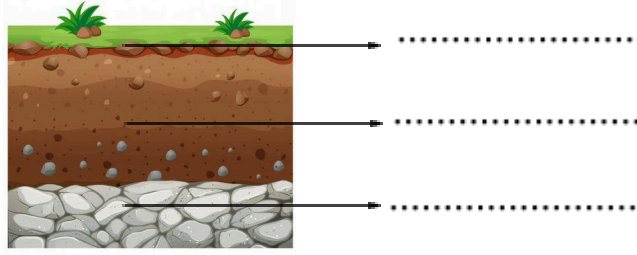



(النفط - الماء - الرياح - الفحم الحجري - الشمس - الغاز الطبيعي)

موارد طاقة غير متجددة	موارد طاقة متجددة



(الطبقة الصخرية - الطبقة السطحية - الطبقة تحت السطحية)



النتيجة	السبب
 الزلازل

انتهت الأسئلة

دعواتي لكن بالتوفيق

المعلمة: أمل الزهراني