


## Вариант 1.

### Задание 1.

Перечень тем:

- А) Древний Египет
- Б) Вавилонское царство
- В) Древняя Палестина
- Г) Персидская держава

1. Каждая из иллюстраций, приведённых ниже, относится к одной из указанных в перечне тем. Установите соответствие между темами и иллюстрациями: к каждой теме подберите по одной иллюстрации.



1.

2.

3.

4.

Запишите в таблицу выбранные цифры под соответствующими буквами. Запишите в таблицу выбранные цифры под соответствующими буквами.

А	Б	В	Г

### Задание 2.

Прочтите отрывок из исторического источника и определите, к какой из данных тем он относится. В ответе напишите букву, которой обозначена эта тема.

Сет дал самую великую и последнюю клятву: — Я больше не буду драться и проливать кровь. Мы построим себе каменные ладьи и поплывём наперегонки. Тому, кто обгонит соперника, пусть будет отдана корона... — Я согласен, — ответил Гор, — но вы все слышали — это состязание будет

ОТВЕТ: \_\_\_\_\_.

3. Выбранная тема: \_\_\_\_\_ (укажите букву в перечне).

*Иероглифы, Библия,, алфавит, зороастризм, мумия.*

Ответ: \_\_\_\_\_

Ответ:.

4. Выбранная тема: \_\_\_\_\_ (укажите букву в перечне).

Строительство пирамиды фараона Хеопса, деятельность правителя Дария I, строительство иерусалимского храма, законы царя Хаммурапи,

Ответ:

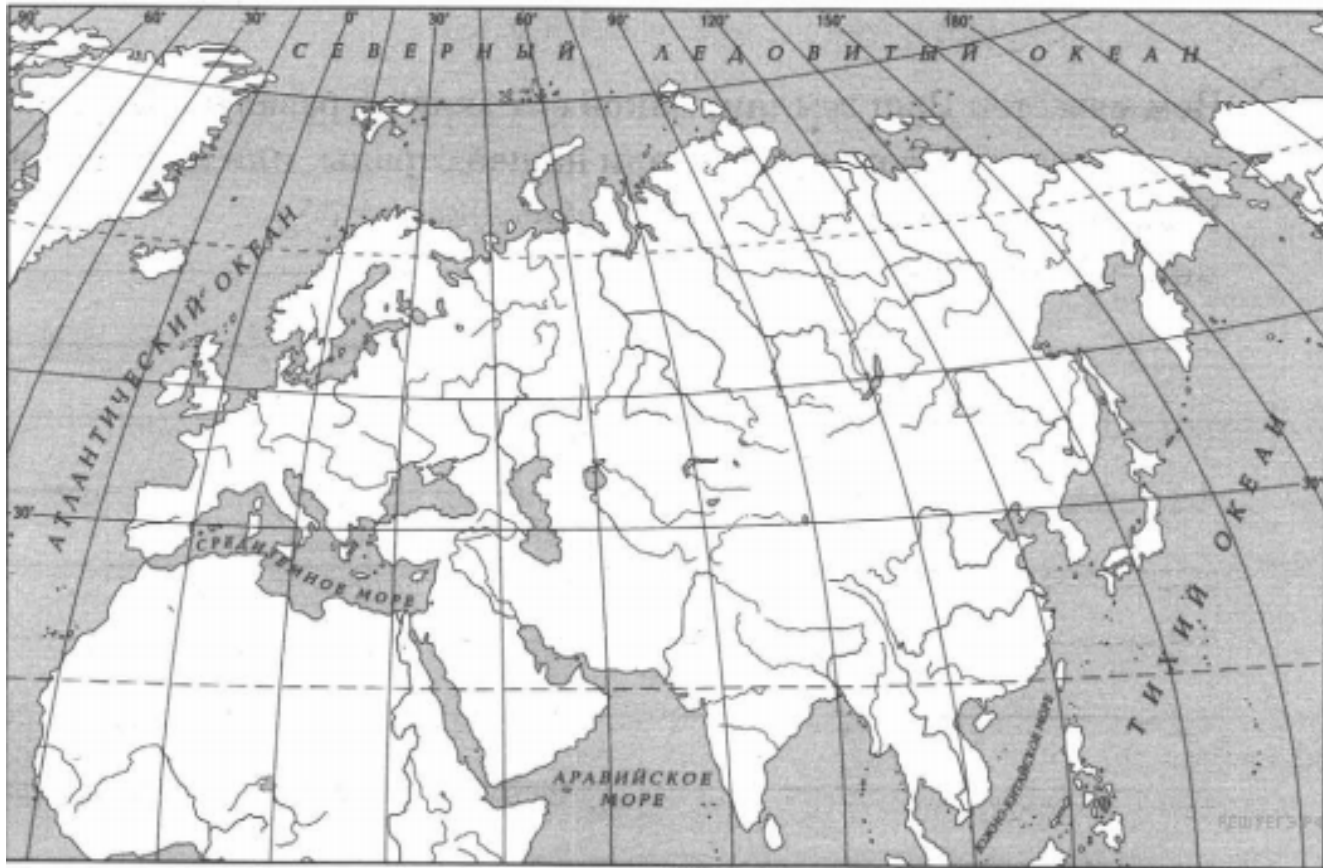
Используя знания по истории, расскажите об этом событии (явлении, процессе). Ваш рассказ должен содержать не менее двух исторических фактов.

[illegible]

### Задание 5.

Выбранная тема: \_\_\_\_\_ (укажите букву в перечне).

Заштрихуйте на контурной карте один четырёхугольник, образованный градусной сеткой (параллелями и меридианами), в котором полностью или частично располагалась страна (города-государства), указанная(-ые) в выбранной Вами теме.



6. Выбранная тема: \_\_\_\_\_ укажите букву в перечне).

Используя знания исторических фактов, объясните, как природно-климатические условия повлияли на занятия жителей этой страны (городов-государств).

[illegible]


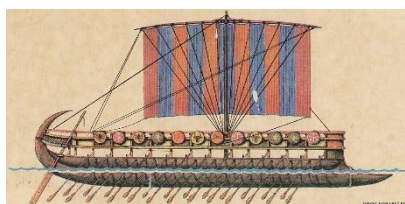
## Вариант 2.

### Задание 1.

Перечень тем:

- А) Древний Египет
- Б) Вавилонское царство
- В) Древняя Палестина
- Г) Древняя Финикия

1. Каждая из иллюстраций, приведённых ниже, относится к одной из указанных в перечне тем. Установите соответствие между темами и иллюстрациями: к каждой теме подберите по одной иллюстрации.



1.

2.

3.

4.

Запишите в таблицу выбранные цифры под соответствующими буквами. Запишите в таблицу выбранные цифры под соответствующими буквами.

А	Б	В	Г

### Задание 2.

Прочтите отрывок из исторического источника и определите, к какой из данных тем он относится. В ответе напишите букву, которой обозначена эта тема.

■ Если кто-то обвинит другого в том или ином преступлении, а доказать это не сможет, то сам должен подвергнуться соответствующему наказанию. Даже если наказание за преступление –

смертная казнь, то несправедливо обвиняющий тогда должен сам быть казнен. (Сурово, но справедливо).

■ Если судья без оснований изменит свое решение, то он лишается звания судьи (без права занимать его впредь) и платит большой денежный штраф. (Такой закон для наших судей бы не помешал, как думаете?)

■ За кражу из дворца или храма, а также за разбой и мародерство во время пожара, войны или других бедствий полагалось самое суровое наказание – смертная казнь.

Ответ: \_\_\_\_\_.

### Задание 3.

Выберите одну тему из перечня, а затем выполните относящиеся к этому перечню задания только по выбранной Вами теме. Перед выполнением каждого из относящихся к перечню заданий укажите букву, которой обозначена выбранная тема. Указанные в заданиях буквы должны быть одинаковыми.

3. Выбранная тема: \_\_\_\_\_ (укажите букву в перечне).

Прочтите список слов и напишите слово, относящееся к выбранной Вами теме.

*Саркофаг, арии, алфавит, пурпур, сфинкс.*

Ответ: \_\_\_\_\_

Объясните смысл этого слова.

Ответ: \_\_\_\_\_  
\_\_\_\_\_  
\_\_\_\_\_

### Задание 4.

4. Выбранная тема: \_\_\_\_\_ (укажите букву в перечне).

Прочтите список событий (явлений, процессов) и напишите событие (явление, процесс), которое относится к выбранной Вами теме.

*Завоевательные походы Тутмоса III, царство Давида, основание колоний, возвышение Вавилона,*

Ответ: \_\_\_\_\_

Используя знания по истории, расскажите об этом событии (явлении, процессе). Ваш рассказ должен содержать не менее двух исторических фактов.

---

---

---

---

---

---

---

---

Выбранная тема: \_\_\_\_\_ (укажите букву в перечне).

Заштрихуйте на контурной карте один четырёхугольник, образованный градусной сеткой (параллелями и меридианами), в котором полностью или частично располагалась страна (города-государства), указанная(-ые) в выбранной Вами теме.



6. Выбранная тема: \_\_\_\_\_ укажите букву в перечне).

Используя знания исторических фактов, объясните, как природно-климатические условия повлияли на занятия жителей этой страны (городов-государств).

[illegible]