



VUI HỌC TOÁN TUẦN 10

Phần 1. Trắc nghiệm:

Câu 1. Số lớn nhất trong các số : 6 , 8 , 10 , 1 , 4 là :

- A. 10 B. 8 C . 1

Câu 2. Các số : 3, 9, 10, 6, 5 xếp theo thứ tự từ bé đến lớn là:

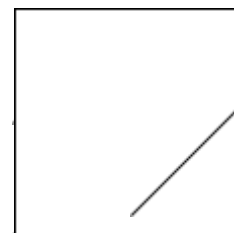
- A. 9 , 3 , 10, 6 , 5 B. 10 , 9, 6 , 5, 3 C . 3 , 5 , 6, 9, 10

Câu 3: Số cần điền vào : $\square + 2 = 5 + 1$ là :

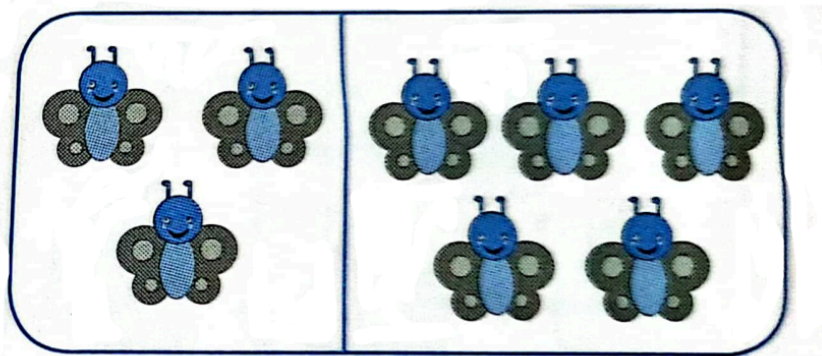
- A. 4 B. 5 C . 6

Câu 4. Có mấy hình tam giác ?

- A. 2 hình B. 3 hình C . 4 hình



Câu 5. Phép tính phù hợp với hình vẽ là:



A.

3	+	5	=	7
---	---	---	---	---

B.

3	+	5	=	8
---	---	---	---	---

Phần 2. Tự luận.

Câu 1: Tính

$8 + 1 = \dots$

$7 + 2 = \dots$

$6 + 4 = \dots$

$6 + 4 = \dots$

$0 + 9 = \dots$

$4 + 4 = \dots$

$5 + 3 = \dots$

$1 + 7 = \dots$

$1 + 2 + 5 = \dots$

$3 + 4 + 1 = \dots$

$0 + 3 + 6 = \dots$

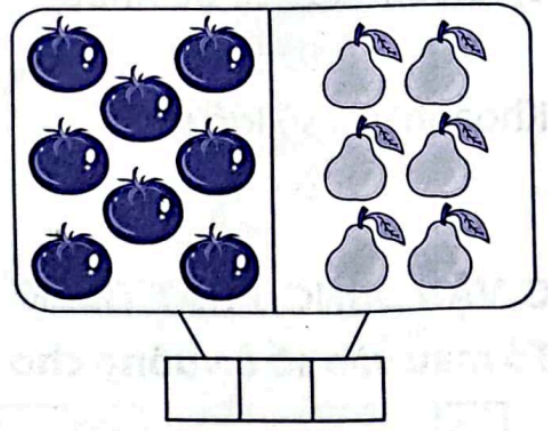

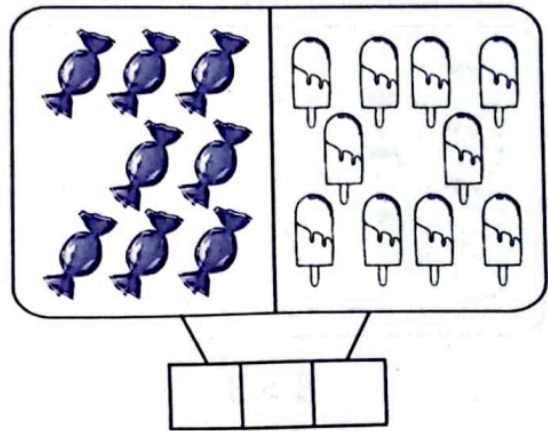
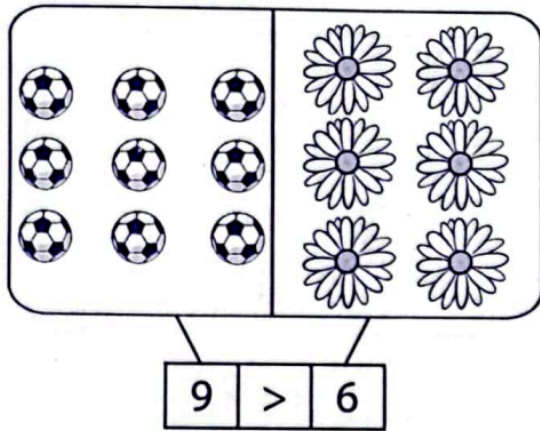
Câu 2. Đúng ghi Đ, sai ghi S

$7 > 6$

$8 + 1 = 9$

$6 + 4 < 4 + 5$

Câu 3. Viết (theo mẫu)



Câu 4. Số ?

a) + 6 = 6

b) 3 + = 2 + = 7

Câu 5. Hình bên có

- hình tròn
- hình tam giác
- hình vuông

