

## UH IPA Tema 2

1. Perhatikan gambar di bawah ini! \*



Organ pernafasan yang sama pada gambar di atas adalah ....

- A. burung
- B. kelinci
- C. ikan
- D. katak

2. Perhatikan gambar di bawah ini! \*



Hewan pada gambar di atas bernafas dengan ....

- A. trakea
- B. kulit
- C. paru-paru
- D. kulit dan trakea

3. Perhatikan teks di bawah ini! \*

Burung bernafas dengan alat pernafasan khusus berupa paru-paru dan pundi-pundi udara. Saat terbang, pernafasan burung di bantu oleh organ yang disebut pundi-pundi udara. Pundi-pundi udara mampu menyimpan udara, tetapi saat terbang burung tidak melakukan pernafasan dengan cara menghirup udara melainkan dari udara yang tersimpan di dalam pundi-pundi udara. Kepakan sayap burung membantu udara di dalam pundi-pundi udara mengalir ke paru-paru

Informasi yang tepat berdasarkan teks di atas adalah ....

- A. Burung bernafas menggunakan paru-paru
- B. Pundi-pundi udara mampu menyimpan udara sehingga saat terbang burung tidak perlu bernafas
- C. Pundi-pundi udara digunakan pada saat burung terbang juga digunakan pada saat burung istirahat
- D. Burung bernafas menggunakan paru-paru, namun saat terbang pernafasan burung di bantu oleh pundi-pundi udara

4. Perhatikan gambar di bawah ini! \*



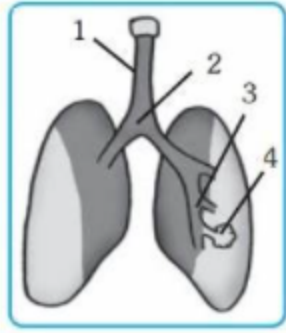
Pernyataan yang tepat berdasarkan organ pernafasan yang dimiliki kedua hewan di atas adalah ....

- A. saat di darat katak dan burung bernafas dengan paru-paru
- B. burung dan katak saat terbang bernafas menggunakan paru-paru dan pundi-pundi udara
- C. di samping menggunakan paru-paru, katak juga pernafasan menggunakan permukaan kulit
- D. burung dan katak sama-sama bernafas menggunakan paru-paru dan kulit

5. Berikut ini yang bukan termasuk organ pernafasan pada manusia adalah .... \*

- A. hidung
- B. trakea
- C. kerongkongan
- D. bronkus

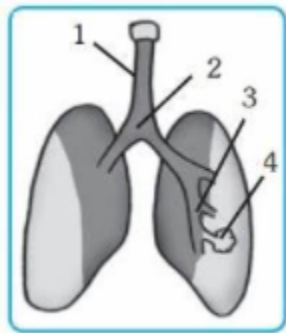
5. Perhatikan gambar di bawah ini! \*



Pertukaran oksigen dan korbondioksida pada gambar di atas ditunjukkan pada nomor ....

- A. 1
- B. 2
- C. 3
- D. 4

6. Perhatikan gambar di bawah ini! \*



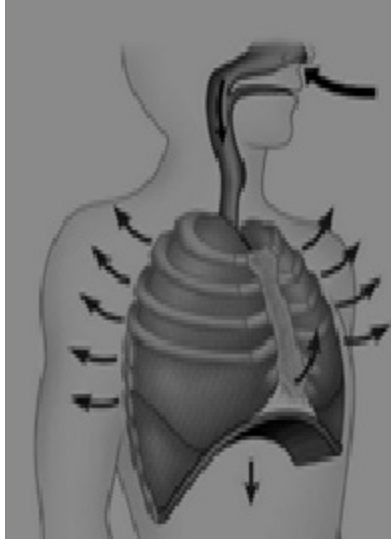
Nama organ pernafasan yang ditunjukkan pada nomor 2 adalah ...

- A. alveolus
- B. brokiolus
- .C. bronkus
- D. trakea

7. Perhatikan proses pernafasan berikut. Udara masuk melalui hidung - faring - laring G - bronkus - H - J. Bagian alat pernafasan yang tepat untuk menggantikan huruf G, H, dan J secara urutan adalah ..... \*

- A. trakea, brokiolus dan alveolus
- B. bronkiolus, alveolus dan trakea
- C. alveolus, bronkiolus, dan trakea
- D. trakea, alviolus dan bronkiolus

8. Perhatikan gambar di bawah ini! \*



Proses pernafasan pada gambar dinamakan .... karena ....

- A. inspirasi, udara masuk sehingga rongga dada mengendur
- B. inspirasi, udara masuk sehingga rongga dada mengembang
- C. ekspirasi, diafragma membesar sehingga udara keluar
- D. ekspirasi, otot antartulang rusuk mengendur sehingga udara keluar

9. Salah satu dampak dari kabut asap akibat pembakaran hutan bagi kesehatan manusia adalah ... \*

- A. hewan banyak yang mati
- B. banyak orang yang terkena PHK
- C. menimbulkan kemiskinan
- D. banyak orang menderita ISPA

10. Kabut asap mudah menyerang organ pernafasan, sehingga seseorang akan mengalami gangguan pernafasan. Berikut adalah salah satu usaha melindungi diri dari bahaya kabut asap, kecuali .... \*

- A. memakai masker jika keluar rumah
- B. banyak mengkonsumsi air putih
- C. menutup tempat penampungan air dan makanan
- D. keluar rumah dengan sepeda motor tanpa mengenakan helm dan masker

11. Salah satu penyebab tingginya polusi di kota-kota besar adalah asap pabrik dan kendaraan bermotor. Berikut cara efektif yang tidak menimbulkan masalah di lingkungan masyarakat kota untuk mengurangi polusi udara adalah .... \*

- A. menutup semua pabrik di perkotaan
- B. melarang kendaraan bermotor masuk ke perkotaan
- C. memperbanyak taman-taman kota dan gerakan rumah hijau
- D. membuka pabrik dan memberlakukan kendaraan ganjil genap

12. Seorang pasien di diagnosa oleh dokter dengan gejala : mudah letih, berat badan menurun, batuk disertai darah, dada terasa sesak, Kemungkinan penyakit yang menyerang pasien tersebut adalah ... \*

- A. Influenza
- B. TBC
- C. sariwan
- D. covid-19

13. Covid -19 yang melanda di belahan dunia selama hampir dua tahun merupakan jenis penyakit yang menyerang organ pernafasan manusia. Ciri yang mudah di kenal seseorang terkena virus covid -19 adalah .... \*

- A. muka pucat dan sulit tidur
- B. tidak merasakan bau dan hilang rasa
- C. timbul bintik-bintik merah di seluruh tubuh
- D. mimisan dan demam tinggi

14. Perhatikan gambar di bawah ini! \*



Kegiatan anak-anak pada gambar di atas bertujuan ....

- A. menjaga kesehatan organ pernafasan
- B. agar tidak dikenal orang lain
- C. mengikuti lomba memakai masker yang baik
- D. karnaval lomba kebersihan lingkungan

15. Pernyataan di bawah ini yang tidak mendukung usaha menjaga kesehatan organ pernafasan adalah .... \*

- A. menjaga kebersihan lingkungan
- B. menghindari udara kotor
- C. olah raga yang teratur
- D. sering begadang dan makan malam

Kirim

Halaman 1 dari 1

[Kosongkan formulir](#)

Jangan pernah mengirimkan sandi melalui Google Formulir.

Formulir ini dibuat dalam Kementerian Pendidikan dan Kebudayaan Indonesia (SD). [Laporkan Penyalahgunaan](#)

\_Formulir