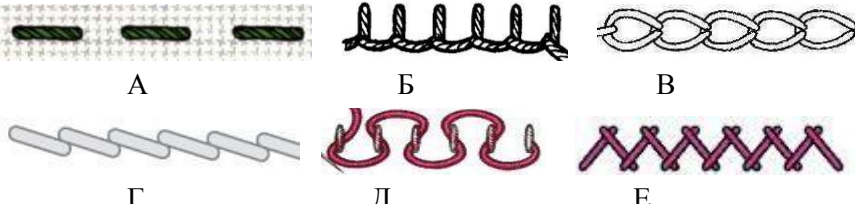
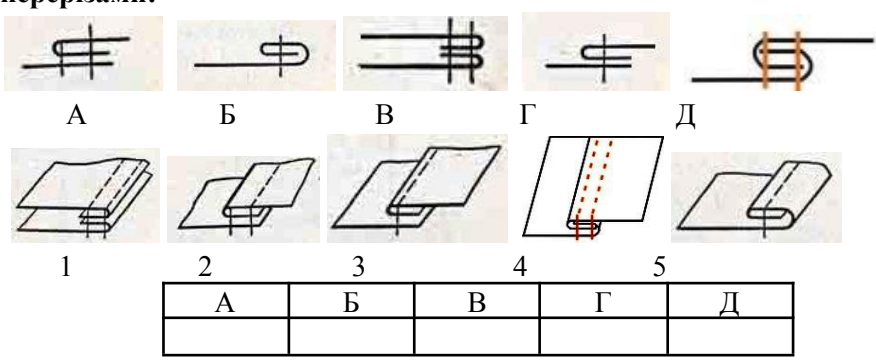



## Завдання

теоретичного туру I етапу Всеукраїнської олімпіади  
з трудового навчання (обслуговуючі види праці)

№ з/п	Зміст завдання	Максимальна кількість балів	Відповідь												
1	<b>На якій відстані під час вишивання має бути виріб від очей?</b> А. 25-30см. Б. 15-20см В. 30-35см Г. 10-15.см.	0,5													
2	<b>Який вид пряді є натуральним?</b> А. віскоза; Б. капрон В. бавовна Г. лавсан.	0,5													
3	<b>На тканині якого переплетення виконують шви прозоро-рахункової групи (мережки)?</b> А. атласного; Б. саржевого; В. сатинового; Г. полотняного.	0,5													
4	<b>Характерними ознаками панчішної в'язки є:</b> А. лицьовий і виворітний бік однаковий; Б. лицьовий і виворітний бік неоднаковий; В. край в'язаного полотна не скручується; Г. в'язане полотно не розтягується.	0,5													
5	<b>Однією із основних вимог щодо виконання шва «уперед голкою» є:</b> А. шов виконують справа наліво; Б. шов виконують зліва направо; В. кожен наступний стібко виконують поверх попереднього; Г. стібки, які прикріплюють петлю до тканини повинні бути однакові.	0,5													
6	<b>На якому етапі проектування виконується економічне та екологічне обґрунтування виробу:</b> А. Організаційно-підготовчий; Б. Конструкторський; В. Технологічний; Г. Заключний.	0,5													
7	<b>Вкажіть правильну відповідь: Моделювання - це :</b> А. зміна фасону виробу; Б. зміна викрійки, відповідно до нової моделі; В. зміна виготовленого виробу.	0,5													
8	<b>Об'єкт проектування це –</b> А. виріб, що виготовляється; Б. виріб побачений в інформаційних джерелах; В. виріб, що сподобався.	0,5													
9	<b>Укажіть відповідні назви швів:</b>  А Б В Г Д Е 1. Петельний. 2. Тамбурний. 3. Стебловий. 4. Козлик. 5. Уперед голку. 6. Верхоплут.	1													
		<table border="1"> <tr> <td>А</td> <td>Б</td> <td>В</td> <td>Г</td> <td>Д</td> <td>Е</td> </tr> <tr> <td></td> <td></td> <td></td> <td></td> <td></td> <td></td> </tr> </table>		А	Б	В	Г	Д	Е						
А	Б	В	Г	Д	Е										

10	<p>Установіть відповідність між графічним зображенням швів та їх перерізами:</p>  <table border="1" data-bbox="343 425 981 504"> <tr> <td>А</td> <td>Б</td> <td>В</td> <td>Г</td> <td>Д</td> </tr> <tr> <td></td> <td></td> <td></td> <td></td> <td></td> </tr> </table>	А	Б	В	Г	Д						1	
А	Б	В	Г	Д									
11	<p>Під час в'язання трикотажного полотна основними петлями є <i>лицьова</i> і <i>виворітна</i>. Вкажіть їх на малюнках.</p> 	1											
12	<p>Використовуючи біоніку у проєктуванні одягу, намалуйте ескіз спідниці. Дайте їй опис.</p>	5											

*Загальна кількість балів:*