



¡ COMPLETA el siguiente alfabeto con las letras que faltan.

El orden alfabético es importante porque permite encontrar una palabra fácilmente. Las palabras se ordenan siguiendo progresivamente el orden del alfabeto de las letras que las conforman.



¡ ESCRIBE en el directorio los apellidos de los contactos en orden alfabético.

Cuéllar	Barraza
Quiroz	Chávez
Juárez	Zubía
Martínez	Pérez
Salinas	Gómez
Arellano	Padilla



 **CALCULA los desafíos sin hacer operaciones.**

1. Carlos tiene 20 barras de plastilina y su prima Luisa 24, ¿cuántas tienen entre los dos?

Resultado



2. La mamá de Rosa le dio \$90 pesos para comprar mandado. ¿Cuánto pagó en la tienda si de cambio le dieron \$13?

Resultado



3. El grupo de tercero tiene 25 alumnos. Si de estos 13 son niñas, ¿cuántos niños hay?

Resultado

4. Un camioneta pueden cargarla con 150 cajas de manzanas. Si sólo lleva 135 ¿cuántas cajas le faltan para llevar la carga completa?

Resultado



 **Resuelve mentalmente cada operación.**

$25 + \square = 78$

$33 + \square = 85$

$150 + \square = 288$

$68 + 25 = \square$

$65 + 24 = \square$



$200 - \square = 115$

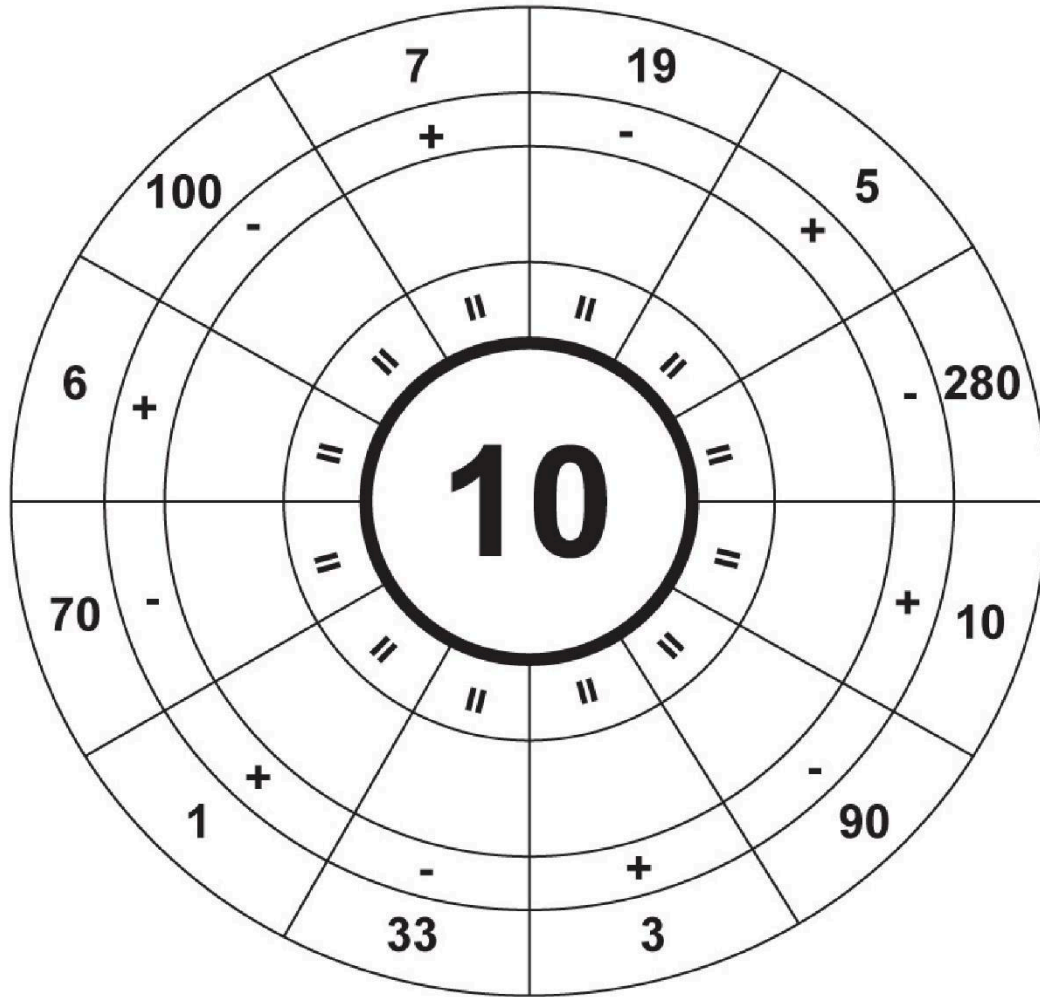
$33 - \square = 10$

$135 - \square = 110$

$68 - 13 = \square$

$87 - 17 = \square$

 Resuelve el siguiente ejercicio. Apóyate en tu libro Desafíos Matemáticos, página 14.



 Escribe dos problemas con alguna cifra de las escritas en el círculo.

VISITA:

<https://materialeducativo.org/>

&

<https://materialeseducativos.m>

[X](#)