

رائز التقويم التشخيصي المستوى الثالث ابتدائي

الأستاذ : عبد العزيز ادوموش / م.م المنظر الجميل / المديرية الاقليمية لوزارة التربية الوطنية تارودانت

الاسم الكامل

الأنشطة العددية :

1 - أكتب الأعداد بالأرقام و بالحروف :

خمس مئة و أربعون	165	ثلاثة و سبعون	53

2 - أقرن كل عددين بوضع أحد الرموز < أو > أو = :

35	35	55	62	57
			38	

3 - أكتب عدد الوحدات و عدد العشرات و أكمل :

	<p>الوحدات</p> <p>العشرات</p>
	<p>الوحدات</p> <p>العشرات</p>

وحدات و عشرات هي وحدات و عشرات هي


4 - أكتب عدد البيضات التي أكلها الثعبان :



$$12 - 7 = \dots$$

$$12 - \dots = 7$$

5 - أم العمليات التالية ما يناسب :



$$x \cdot 2 \quad . \quad = \quad . \quad - 12$$

$$. \quad = \quad . \quad + 4$$

$$=$$

:

6- أنجز العمليات

التالية

5 6 2

854⁺

$$\begin{array}{r} x \\ \hline . \quad . \quad . \end{array}$$

$$\begin{array}{r} 5 \ 6 \ 7 - \\ 4 \end{array}$$

$$\begin{array}{r} 5 \ 6 \ 7 \\ 4 \ 7 \ 6 \\ \hline . \quad . \quad . \end{array}$$

....

1 ألاحظ الجدول و أكتب :

§ *تل النشر التالي نشر ل

* أكتب الرقم 7 في الخانة في الشجرة .

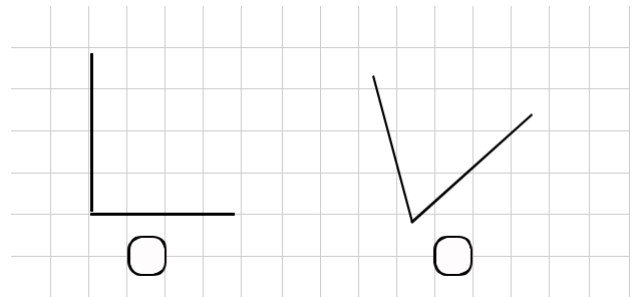
* أكتب الرقم 5 في الخانة يسار الشجرة .

* أكتب الرقم 1 في الخانة أسفل الشجرة .

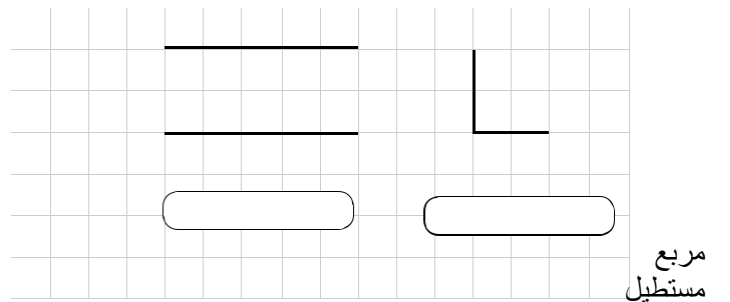
* أكتب الرقم 5 في الخانة أعلى الشجرة .

- 2 أضع (x) تحت الشكل المثلث :


- 3 أضع (x) تحت كل الزاوية القائمة :

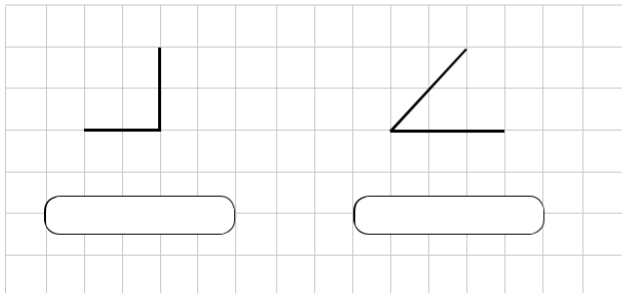
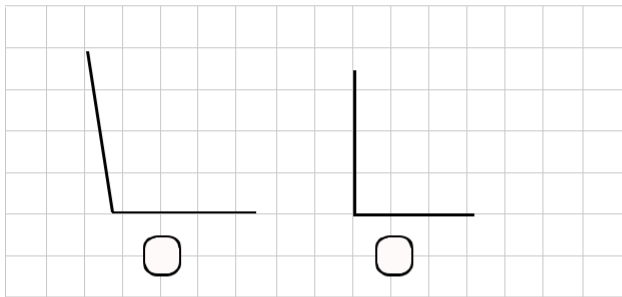


- 4 أ م رسم الأشكال الهندسية :




- 5 ماذا في النشر التالي :





مثلث

مربع



§ *تل النشر التالي نشر ل

1 - أكتب و أرسم التوقيت الذي تشد اليه كل ساعة :



: :

2:50

7:40

2 - أكتب أسد الأوراق و القطع النقدية :

درهم ورقة نقدية من فئة



درهم ورقة نقدية من فئة



درهم ورقة نقدية من فئة



دراهم

قطعة نقدية من فئة



درهم

قطعة نقدية من فئة



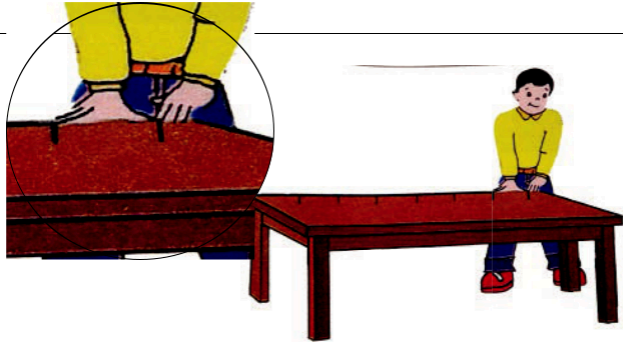
سنتيمات

قطعة نقدية من فئة



3 - أحسب طول الطاولة :

* طول الطاولة أشبار و أصابع



4 - أحسب طول القلم :

* طول القلم هو سنتيمترات



5 - أحسب كتلة الموز :

* كتلة الموز هي غرام

