

1、單題(第1~53題)

(D) 1. 1854年某英國博物學家前往東印度群島考察，八年內總共蒐集了12萬餘件的生物標本，並著有《馬來群島自然考察記：紅毛猩猩與天堂鳥的原鄉》。該博物學家在當地所見到的傳統住屋型式最可能是下列何者？

(A) (B) (C) (D)



科目【地理】第四冊第二篇第3章 東南亞與南亞

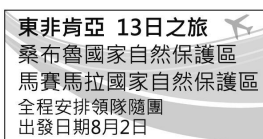
試題解析：東印度群島(印尼)位於熱帶雨林溼熱氣候，為高架屋。(A)為蒙古包，見於中國溫帶草原氣候區；(B)窯洞，見於中國溫帶氣候區的黃土高原；(C)冰屋，見於寒帶氣候區。

(C) 2. 近年來我國政府審慎評估「農村引進農業外勞」的可行性，研擬該政策最主要是為了因應下列哪一項臺灣農業特色？(A)農作種類多樣 (B)農業耕地狹小 (C)農村人力老化 (D)農產品商品化。

科目【地理】第二冊第一篇第2章 第一級產業

試題解析：農村引進農業外勞，代表臺灣的農業缺乏人力及勞力老化的問題。

(C) 3. 圖(一)是雜誌上的旅遊廣告，該行程的主要特色最可能是下列何者？(A)針葉林生態探索 (B)峽灣海岸郵輪行 (C)莽原動物大遷徙 (D)葡萄酒莊體驗遊。



圖(一)

科目【地理】第六冊第一篇第1章 非洲

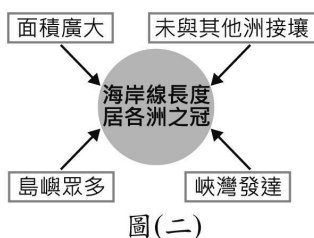
試題解析：雜誌上的旅遊廣告中，肯亞為熱帶莽原氣候，所以沒有寒帶針葉林，故(A)錯誤；(B)峽灣因冰河作用而形成，見於溫帶海洋及寒帶氣候區；(D)葡萄酒莊常見於溫帶地中海氣候區內。

(A) 4. 「2016年初，滿載商品的貨運列車從中國浙江義烏出發，經西安、蘭州和烏魯木齊等城市後，駛往伊朗德黑蘭，歷時14天完成首航，再現古絲路的輝煌。」這班列車在駛離中國後，最可能途經下列何地？(A)中亞 (B)南亞 (C)東歐 (D)東南亞。

科目【地理】第三冊第一篇第5章 產業與經濟

試題解析：古絲路由長安(西安)經河西走廊到新疆往中亞，所以最適合的解答為(A)。題幹為駛往伊朗，故不會經過南亞、東歐、東南亞。

(C) 5. 圖(二)是阿政繪製某大洲海岸特色的成因分析，●代表特色，○代表成因。該大洲最可能是下列何者？(A)亞洲 (B)非洲 (C)美洲 (D)歐洲。



圖(二)

科目【地理】第五冊第一篇第6章 中南美洲

試題解析：1.題幹中未與他洲接壤，(A)亞洲、(D)歐洲不可能為選項；2.峽灣發達，(B)非洲沒有寒帶，所以此題最適合的答案為(C)美洲。因為南美智利有峽灣，中美島嶼眾多且未與其他洲接壤，北美(美國、加拿大)接近2,000萬平方公里面積廣大。

(C) 6. 臺灣因山林面積廣大、巡查不易，出現許多違法開發山林資源的事件。政府機關若要快速比對不同時間的地表狀況，找出可能遭到大範圍違法伐林的地點，使用下列哪一種地圖最為適合？(A)分層設色圖 (B)地形剖面圖 (C)衛星影像圖 (D)等高線地形圖。

科目【地理】第一冊第一篇第2章 地形

試題解析：題幹所述面積廣大，且要快速比對的地圖，只有衛星影像圖有此功能。(A)分層設色圖、(B)地形剖面圖、(D)等高線地形圖等，即時性沒有衛星影像圖高。

(A) 7. 圖(三)分別是保存在新竹和宜蘭的歷史文物，根據圖片內容判斷，這些文物與下列何者關係最密切？(A)清朝人才選拔制度的施行 (B)鄭氏政權對於儒學的推廣 (C)臺灣總督府所實施的教育制度 (D)荷蘭聯合東印度公司的文教政策。




圖(三)

科目【歷史

史】第一冊第二篇第5章 清領前期的社會與文化

試題解析：早期移民忙於拓墾，文教事業並不發達，待人民經濟生活改善，通過科舉考試人數才漸多。由圖(三)新竹進士鄭用錫(臺灣第一位進士)宅第的匾額，和宜蘭舉人黃纘緒宅第的匾額可知答案為(A)。

(C) 8. 圖(四)是《美國憲法》某次修正案的內容。此一修正案的通過最可能與下列哪一事件有關？(A)獨立宣言的頒布 (B)門羅宣言的發表 (C)南北戰爭的影響 (D)經濟大恐慌蔓延。



圖(四)

科目【歷史】第五冊第二篇第6章 近代民主政治的發展

試題解析：南北戰爭後林肯總統主張解放黑奴，由圖(四)中文字「不允許有奴隸制度」可知答案是(C)。

(C) 9. 以下是對中國近代史上某組織的介紹：「他們號召建立一個土地財產公有和男女平等的社會，科舉考試也向女性開放，考試內容取自於統治者所闡述的「拜上帝會」教義。他們沒有獲得西方基督教國家的支持，也無法得到士紳階級的認同，但還是在南京堅持了十年。」此組織應是下列何者？(A)義和團 (B)滿洲國 (C)太平天國 (D)中國共產



黨。

科目【歷史】第四冊第二篇第1章 晚清的變局

試題解析：洪秀全建立的太平天國，從「拜上帝會」開始，主張男女平等，並定都於南京，改名天京，故可知答案是(C)。

- (B) 10. 圖(五)是臺灣一份報紙的頭版標題，下列何項政策的施行與標題的公告關係密切？ (A)推廣公地放領 (B)開放人民組織政黨 (C)宣布興建十大建設 (D)實施九年國民義務教育。

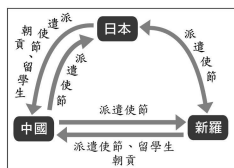


圖(五)

科目【歷史】第二冊第二篇第4章 戰後臺灣的政治變遷

試題解析：民國76年，蔣經國總統宣布解除戒嚴，開放黨禁、報禁，以及保障人民集會遊行的自由，故可知答案是(B)。

- (A) 11. 圖(六)是某一時期亞洲三個國家交流的情形，根據內容判斷，此時期的交流對當時日本造成了何種影響？ (A)採行「大化革新」，努力吸收中國文化 (B)推動「大政奉還」，天皇重新掌權執政 (C)推行「明治維新」，日本成為亞洲強國 (D)採行「鎖國政策」，只許中荷前來貿易。



圖(六)

科目【歷史】第三冊第二篇第4章 胡漢融合的隋唐帝國

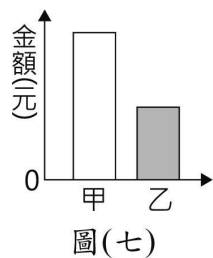
試題解析：日本大量派遣使節、留學生到中國來學習唐朝文化，是在日本孝德天皇在位時，史稱「大化革新」。新羅大量學習中國文化也是在唐朝，故可知答案是(A)。

- (D) 12. 爸爸與剛上國中的女兒一同參加家長座談會，看到教室牆上貼著「班級生活公約」，感慨地說：「以前我們唸書時，學生只能遵守由學校制定的校規與班規，真羨慕你們現在師生可以相互溝通，共同擬定大家願意接受的生活公約。」上述父親所描述的轉變，最可能是因下列何項概念逐漸受到重視？ (A)主權在民 (B)地方自治 (C)終身學習 (D)學生自治。

科目【公民】第一冊第三篇第5章 友善校園與終身學習

試題解析：「班級生活公約」在老師指導下，由學生針對學生的事務自行訂定公約，屬於學生自治的一環。

- (B) 13. 圖(七)為某班園遊會擺設冷飲攤的營收結果，其中甲代表銷貨收入，乙代表利潤。若後來發現生產成本中少列入一筆設備租金費用，在此筆費用列入計算後，圖中甲、乙最可能出現的情況為下列何者？ (A)甲不變，乙不變 (B)甲不變，乙下降 (C)甲下降，乙不變 (D)甲下降，乙下降。



圖(七)

科目【公民】第五冊第三篇第2章 生產與利潤

試題解析：利潤=銷貨收入-生產成本。當發現生產成本少列時，代表利潤會下降，銷貨收入則不變。

- (D) 14. 圖(八)是某商品的廣告情節，廠商藉由甲、乙二人的對話，凸顯該商品量販包的上



圖(八)

2頁，共8頁

請翻面繼續作答

市，讓大量採購該商品的民眾更加便利。若甲所提及親屬皆是自己的家人，依圖中訊息判斷，則下列關於甲家中五人的敘述何者正確？ (A)甲的奶奶與家人間皆沒有姻親關係 (B)甲的媽媽與家人間皆沒有配偶關係 (C)甲的哥哥與家人間皆沒有直系血親關係 (D)甲的爸爸與家人間皆沒有旁系血親關係。

科目【公民】第一冊第三篇第3章 家庭生活

試題解析：(A)奶奶與媽媽是姻親；(B)媽媽與爸爸是配偶；(C)哥哥與奶奶、爸爸、媽媽是直系；(D)爸爸與家人是直系與配偶。

- (D) 15. 圖(九)是新聞報導中的標題，若新聞事件中的受害者要尋求權利救濟，下列哪一項法律最能提供他協助？ (A)《刑法》 (B)《少年事件處理法》 (C)《性別工作平等法》 (D)《性別平等教育法》。



圖(九)

科目【公民】第一冊第三篇第2章 和諧的性別關係

試題解析：校園內的性騷擾，優先適用「性別平等教育法」。由教育主管單位先行處理。

- (D) 16. 對於具有歷史意義的建築，有些專家會向政府提報列為古蹟，經被列為古蹟後，依法不得擅自裝修，導致部分仍住在古蹟內的居民，可能因建材腐朽影響居住安全而感到不滿。關於上述內容，從我國對於人民權利保障與限制的角度判斷，下列何者最適當？ (A)居民認為隱私權受到侵害 (B)居民認為遷徙自由受到侵害 (C)專家的目的是為了維持社會秩序 (D)專家的目的是為了增進公共利益。

科目【公民】第四冊第四篇第2章 人民的權利與義務

試題解析：文中古蹟的維護旨在增進公共利益。(A)與隱私權無關；(B)是居住而非遷徙；(C)與社會秩序無涉。

- (B) 17. 表(一)是某一作物三大品種在全球及中國分布的比較。根據表中資訊判斷，該作物最可能為下列何者？ (A)玉米 (B)咖啡 (C)棉花 (D)葡萄。

Table with 4 columns: 品種分布 (Variety Distribution), 甲 (A), 乙 (B), 丙 (C). It compares the origin, global distribution, and Chinese production of three crop varieties.

科目【地

理】第六冊

第一篇第1章 非洲

試題解析：從甲-28°N~38°S、巴西、哥倫比亞；乙-10°N~10°S、東南亞、印度、中非、東非；丙-賴比瑞亞、馬來西亞、印度、印尼。由甲乙丙作物品種分布地區判斷，多分布在熱帶地區，所以(B)咖啡最適合。(A)玉米中國種植在溫帶季風氣候；(C)棉花種植在全球乾燥區及新疆；(D)葡萄種植在溫帶地中海氣候區及新疆。

- (B) 18. 中國某行政區的南部位於農牧過渡地帶，因氣候乾燥少雨、生態環境脆弱、水土流失嚴重及自然災害頻繁，被聯合國認為是最不適宜人



圖(十)


類生存的地區之一，因此2011年當地政府對人民實施搬遷計畫。上述行政區應是圖(十)中何者？

(A)甲 (B)乙 (C)丙 (D)丁。

科目【地理】第三冊第一篇第6章 環境問題與環境保育

試題解析：題幹中所述的區域為農牧過渡帶及水土流失嚴重(黃土高原)，代表此區南部剛好位於農牧分界線的交界帶，也就是季風、乾燥氣候的分界線及水土流失嚴重(黃土高原)，所以(乙)最適合，(甲)(丙)(丁)都位於農業區。

(A) 19. 圖(十一)為2010年世界各國都市化程度示意圖，圖中圓圈大小代表該國的都市人口數，圓圈顏色深淺代表該國的都市化程度。其中都市化程度最高的圖例應為下列何者？



圖(十一)

(A) ○ (B) ● (C) ● (D) ●

科目【地理】第五冊第一篇第6章 南美洲

試題解析：圓圈大小代表都市人口數，圖中所示，中國都市人口較多，圓圈顏色代表都市化程度。全球都市化程度較高的地區，位於北美洲與中南美洲、德國以西及中國以東等地區，因此選這些區域的顏色，故為(A)。

(A) 20. 圖(十二)為小芬在網路上看到的某日下午一點臺灣部分測站的氣溫資料，當時臺灣氣溫空間分布的差異與下列何者關係最為密切？



圖(十二)

(A)大陸冷氣團逐漸南下 (B)蒸發旺盛形成熱對流 (C)熱帶低氣壓逐漸增強 (D)滯留鋒面持續向北移。

科目【地理】第一冊第一篇第4章 天氣與氣候

試題解析：圖上所示，北部只有12°C、13°C，南部大多超過30°C，代表(A)大陸冷氣團逐漸南下；(B)熱對流所造成的南北溫差不會那麼大；(C)大多是對降水量、風向及風速有影響；(D)無關。


(A) 21. 有位中國老農夫回憶：「當時煉鋼要超英趕美，因此人人將鍋、鏟全丟進煉鐵爐燒煉。因為上級交代蓋一條用來運鋼的道路，所以只好將鄭和墓塚的石頭拿去墊路基，但我們一直沒有煉出夠多的數量，讓卡車來載運。」上述情況最可能與下列何者有關？

(A)大躍進 (B)抗美援朝 (C)文化大革命 (D)六四天安門事件。

科目【歷史】第四冊第三篇第6章 中華人民共和國的建立與發展

試題解析：中華人民共和國在1958年開始推行「大躍進」活動，喊出「超英趕美」的口號，並在工業方面採用「土法煉鋼」，結果煉出的卻是一堆堆廢鐵，故答案是(A)。

(C) 22. 圖(十三)是政治諷刺漫畫，呈現一帝國在某戰爭結束後，因被迫簽署和約而產生的變化，此戰爭最可能是下列何者？



圖(十三)

(A)普法戰爭 (B)英法百年戰爭 (C)第一次世界大戰 (D)第二次世界大戰。

科目【歷史】第六冊第二篇第2章 新帝國主義與第一次世界大戰

試題解析：第一次世界大戰後，依據美國總統威爾遜提出的民族自決原則，造成德意志、奧匈、俄羅斯、鄂圖曼土耳其等帝國瓦解，所以奧匈帝國分裂為奧地利和匈牙利，可知答案是(C)。

(B) 23. 表(二)呈現史前人類生活情形的變化，若要以「舊石器時代」新石器時代的方式，表

表(二)

甲	種植根莖類作物 → 種植稻米
乙	打製石器 → 磨製石器
丙	燒製陶器 → 冶煉鐵器
丁	不知用火 → 用火煮食


示舊石器時代至新石器時代的文化變遷，表中甲、乙、丙、丁何者最為適切？

(A)甲 (B)乙 (C)丙 (D)丁。

科目【歷史】第一冊第二篇第1章 史前臺灣與原住民文化

試題解析：新石器時代的特色有①磨製石器②燒製陶器③飼養家畜④種植農作物。甲：只是農作物種類變化，皆為新石器時代。乙：舊石器時代為打製石器→新石器時代為磨製石器。丙：從新石器時代→金屬器時代。丁：舊石器時代特色(已知用火)，故答案為(B)。

(C) 24. 圖(十四)是某時期日本在臺灣發布的告示，此告示最可能與下列何者有關？



圖(十四)

(A)霧社事件 (B)牡丹社事件 (C)臺灣民主國 (D)臺灣民眾黨。

科目【歷史】第二冊第二篇第1章 日治時期的殖民統治

試題解析：1895年，馬關條約清朝割讓臺灣、澎湖給日本，而丘逢甲推臺灣巡撫唐景崧為總統，成立「臺灣民主國」，抗拒日本的接收，故答案是(C)。

(B) 25. 「這個帝國興盛時期，疆域廣大，橫跨三洲。皇帝在政治上享有至高無上的權力，同時在宗教上也是上帝的代表，可以任命帝國首都主教，主導教會行事，而且也常頒布與基督教教義有關的規定。」此一帝國最可能是下列何者？

(A)查理曼帝國 (B)拜占庭帝國 (C)亞歷山大帝國 (D)神聖羅馬帝國。

科目【歷史】第五冊第二篇第3章 中世紀的歐洲及伊斯蘭世界

試題解析：東羅馬帝國(即拜占庭帝國)以基督教為國教，實施「政教合一」，皇帝同時掌管政治與宗教事務，不似西歐政教分離，國王管政治，教宗管宗教事務，故答案為(B)。

(D) 26. 某媒體常在網站上以虛擬動畫呈現新聞內容，但因表現方式有時過於血腥、暴力，引起輿論譴責。民間團體呼籲該媒體應顧及報導對社會可能產生的負面影響，勿以商業利益為優先考量。上述團體的訴求內容，主要凸顯出下列何項議題的重要性？

(A)資訊科技的多元發展 (B)社會團體的監督力量 (C)新聞報導的自由程度 (D)傳播媒體的社會責任。

科目【公民】第六冊第三篇第2章 科技發展

試題解析：呼籲傳播媒體的報導，減少對社會的負面影響，此乃要求傳播媒體善盡社會責任。



(D)27.近年來醫療機構中醫護人員遭攻擊的暴力事件頻傳，不但嚴重干擾醫療行為的進行，還危及醫護人員的人身安全，因此醫護團體推動相關修法，將這種暴力行為的追究改為非告訴乃論，以遏止此類事件發生。根據上述內容判斷，下列何者正確？ (A)文中團體的類型屬《人民團體法》中的政治團體 (B)文中團體若想要達成目的，應向立法院進行訴願 (C)修法通過後，相關法律條文將交由行政院院長公布施行 (D)修法通過後，醫護人員同意和解也不會停止檢察官偵查。

科目【公民】第四冊第四篇第5章 權利救濟

試題解析：(A)醫護團體為職業團體；(B)訴願為人民向行政機關請求撤銷或變更原處分；(C)由總統公布；(D)非告訴乃論不會因同意和解而停止檢察官偵查。

(C)28.公民老師在課堂上講述「無罪推定原則」時，請同學舉出例子加以說明，下列何者的舉例最適當？ (A)甲：「小偉因闖紅燈遭處罰鍰，所以他是犯罪的。」 (B)乙：「花花因涉嫌殺人遭警察逮捕，所以她是犯罪的。」 (C)丙：「大雄雖因恐嚇鄰居遭起訴，但仍不能認定他有罪。」 (D)丁：「阿娟雖因辱罵他人遭處罰金，但仍不能認定她有罪。」

科目【公民】第四冊第四篇第5章 權利救濟

試題解析：(A)闖紅燈是行政罰；(B)逮捕非判刑確定；(C)起訴非判刑確定；(D)處罰金是判刑確定。

(B)29.花蓮縣境內有許多高山，隨著近年登山活動日益盛行，轄內的登山意外事故也隨之增加，每次搜救工作常須動員大量人力、物力。為因應此情況，該縣已通過自治條例，將對擅入管制區的民眾處以罰鍰，且若發生山難事故，當事人須自行支付搜救費用。根據上述內容判斷，下列敘述何者正確？ (A)文中通過規定的機關為立法院 (B)文中通過規定的機關為縣議會 (C)違規遭處罰者是負起民事責任 (D)違規遭處罰者是負起刑事責任。

科目【公民】第三冊第三篇第3章 地方政府

試題解析：(A)自治條例由地方議會通過；(B)花蓮縣的民意機關為縣議會；(C)行政責任；(D)行政責任。

(A)30.甲、乙、丙、丁四人分別進行了一項投資，其投資報酬率如表(三)所示，若他們各自投資所獲得的利潤皆相同，根據表中內容判斷，何者的投資金額最高？ (A)甲 (B)乙 (C)丙 (D)丁。

表(三)

投資人	投資報酬率
甲	10%
乙	20%
丙	30%
丁	40%

科目【公民】第五冊第三篇第5章 個人與家庭經濟

試題解析：利潤=投資金額X投資報酬率。文中利潤皆相同，因此投資報酬率最低者，則投資金額最高。

(A)31.表(四)是1949年至2014年臺灣北、中、南、東四大區域平均逕流量的相關數據，其中何者為南部區域？ (A)甲 (B)乙 (C)丙 (D)丁。

表(四)

月分 區域	11~4月	5~10月
甲	1814.66	15668.50
乙	3405.17	11909.67
丙	4186.25	12670.98
丁	5594.71	9446.95

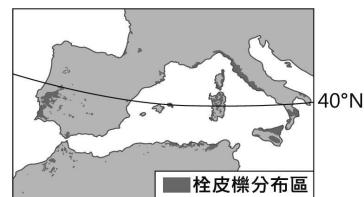
單位：百萬立方公尺

科目【地理】第一冊第一篇第5章 水文

試題解析：臺灣南部是荒溪型河川，夏季5至10月逕流量較大，冬季11至4月逕流量小，甲乙丙都是5至10月逕流量多，11至4月逕流量較少，但甲區域兩者逕流量相差較多，符合荒溪型條件。

(D)32.封裝酒瓶的軟木塞是由栓皮櫟的樹皮製成。根據圖

(十五)栓皮櫟的分布區判斷，其生長環境的氣候特色，主要為下列何者？ (A)全年有雨，無明顯乾季 (B)乾燥少雨，年降水量250mm以下 (C)夏雨冬乾，年降水量1,000mm以上 (D)冬雨夏乾，年降水量400至800mm。



圖(十五)

科目【地理】第五冊第一篇第2章 歐洲概說與南歐

試題解析：圖中栓皮櫟樹分布區為環地中海區，為地中海型氣候，夏乾冬雨，年降水量400至800mm。(A)溫帶海洋氣候；(B)溫帶沙漠性氣候；(C)溫帶大陸性氣候。

(B)33. 圖(十六)為蔣渭水高速公路路線圖，其中甲路段經過的地形主要為下列何者？ (A)山地 (B)平原 (C)丘陵 (D)盆地。



圖(十六)

科目【地理】第一冊第一篇第2章 地形

試題解析：蔣渭水高速公路為北宜高速公路，甲路段頭城到蘇澳為宜蘭平原，坪林到頭城為經過雪山山脈的雪山隧道。

(A)34. 我國海軍敦睦艦隊

表(五)

在遠航訓練前，會先繞行臺灣進行短程的航訓任務，並停靠主要港口供民眾參觀。表(五)甲至己為2015年該艦隊依序停靠的本島

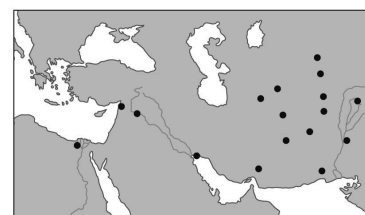
港口	經度	緯度
甲	120.27°E	22.62°N
乙	120.15°E	22.99°N
丙	120.52°E	24.26°N
丁	121.74°E	25.13°N
戊	121.86°E	24.60°N
己	121.62°E	23.98°N

港口，根據各港口位置判斷，該航線應為下列何者？ (A)由西南部出發行經臺灣北部至東部沿海 (B)由西南部出發行經臺灣南部至東部沿海 (C)由東部出發行經臺灣北部至西南部沿海 (D)由東部出發行經臺灣南部至西南部沿海。

科目【地理】第一冊第一篇第1章 地理位置與範圍

試題解析：甲為高雄、乙為臺南、丙為臺中、丁為臺北、戊為花蓮、己為臺東。故先從高雄出發，由西南逆時針繞到臺東。

(C)35.圖(十七)的●處是歷史上某軍事行動後，統治者在征服區所興建的城市。根據分布範圍判斷，此行動最可能是下列何者？ (A)十字軍東征 (B)拿破崙征俄 (C)亞歷山大東征 (D)日耳曼民族入侵。



圖(十七)

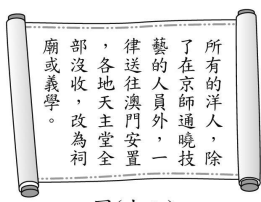
科目【歷史】第五冊第二篇第2章 希臘與羅馬文化

試題解析：圖(十七) ●的城市，分布於埃及、西亞、波斯等



處，最東到印度河西岸，可知是亞歷山大東征建立的版圖，故答案是(C)。

- (D)36.圖(十八)是中國歷史上某一史事的相關內容，根據內文判斷，該史事最可能是下列何者？ (A)齊桓公尊王攘夷 (B)漢武帝獨尊儒術 (C)秦始皇焚書坑儒 (D)清世宗下令禁教。



圖(十八)

科目【歷史】第三冊第二篇第6章 明代與盛清的發展

試題解析：洋人在明末清初才到中國傳教，故圖(十八)可知是清世宗下令禁教，答案是(D)。

- (B)37.有一本書提到：「啟蒙運動的基礎是科學革命」，下列何項敘述，對這句話的詮釋最為恰當？ (A)希臘、羅馬文化再發現，強調古代經典作品以人為本的價值 (B)人類社會如同自然世界，可以依循理性尋找普遍的運作原則 (C)機器逐漸取代人工生產，實施工廠制度促進物質生活的發展 (D)白種人優越意識的提升，肩負開化世界其他地區的神聖使命。

科目【歷史】第五冊第二篇第5章 近代歐洲的變革

試題解析：答案的詮釋：(A)文藝復興；(B)啟蒙運動；(C)工業革命；(D)新帝國主義，故選(B)。

- (C)38.圖(十九)的四張卡片分別代表清朝曾對臺灣採取的統治措施，若依這些措施最早在臺施行的時間先後順序排列，下列何者正確？ (A)甲→丁→乙→丙 (B)乙→甲→丙→丁 (C)丙→乙→丁→甲 (D)丁→丙→甲→乙。



圖(十九)

科目【歷史】第一冊第二篇第6章 清領後期的開港與建省

試題解析：依圖(十九)可知→甲：清光緒11年(1885年)中法戰爭後，臺灣建省。乙、咸豐8年(1858年)英法聯軍，清軍戰敗，臺灣開港通商，進入清領後期。丙、清領前期，清廷消極治臺，對漢人採「渡臺禁令」，對原住民實施「劃界封山」。丁、同治13年(1874年)牡丹社事件發生後，清廷派沈葆楨來臺，開山撫番，故答案是(C)。

- (C)39.學者對日本統治時期臺灣學生的校外旅行有以下敘述：「臺北因是政治中心，常是外地學校旅行的首選，當時參訪景點包含臺灣神社、臺北市街、總督府等，讓學童藉此感受臺北的文明進步。隨著此一史事的發生，日本展開對外作戰，之後的旅遊行程則以到臺灣神社參拜、為國祈福，並前往醫院慰問戰爭中受傷士兵為主。」文中的「史事」應為下列何者？ (A)苗栗事件 (B)噶吧哖事件 (C)盧溝橋事變 (D)臺灣議會設置請願運動。

科目【歷史】第四冊第三篇第5章 國民政府的統治

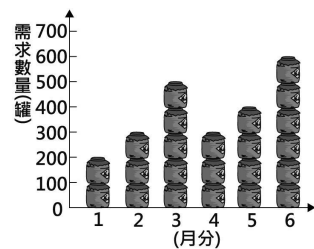
試題解析：日本在1937年中日戰爭爆發後，便在臺灣實施「皇民化」政策，積極將臺人改造成效忠日本天皇的子民。而1937年即為民國26年盧溝橋事變開始的八年抗戰，故選(C)。

- (D)40.新聞報導：新竹縣及縣內的竹北市人口成長快速，若照目前的增長速度推估，到了2018年底舉辦地方選舉時，依據相關法律的規定，竹北市選民所能選出的地方民意代表席次，都各將增加一席。上述報導中所指稱的地方民意代表，應為下列哪一組合？ (A)市議員、立法委員 (B)縣議員、立法委員 (C)市議員、市民代表 (D)縣議員、市民代表。

科目【公民】第三冊第三篇第6章 政治參與和選舉

試題解析：立法委員為中央民意代表。新竹縣的地方民意代表為新竹縣議員，竹北市為新竹縣轄市，其地方民意代表為竹北市民代表。

- (A)41.小邁家每個月第一天自製400罐醬菜販售，且為保持產品品質，當月沒賣完的產品就會銷毀，絕不在下個月販售。圖(二十)為上半年消費者對小邁家自製醬菜的需求數量圖。根據圖中資料判斷，小邁家的醬菜上半年銷售總量為多少罐？ (A)2,000 (B)2,100 (C)2,300 (D)2,400。



圖(二十)

科目【公民】第五冊第三篇第2章 生產與利潤

試題解析：1~6月的銷售量分別是：200、300、400、300、400、400，合計2,000罐。


- (B)42.表(六)為某一時期官方所頒行機關學校放假日期的部分內容，根據內容判斷，此一日程最可能由下列何者所頒行？ (A)1895年的清廷 (B)1929年的南京國民政府 (C)1945年的臺灣總督府 (D)1979年的中華人民共和國。

放假日期	放假事由及天數
1/1	中華民國開國紀念，放假一天
1/2-1/3	新年，放假二天
3/12	孫中山逝世紀念，放假一天
3/29	黃花崗七十二烈士殉國紀念，放假一天
10/10	中華民國國慶紀念，放假一天
11/12	孫中山誕辰紀念，放假一天

科目【歷史】第四冊第三篇第3章 清朝的覆亡

試題解析：由表(六)內容可知是中華民國建國重要事蹟，並紀念國父孫中山先生為主軸，故選(B)。(A)是滿清；(B)是中華民國；(C)是日本殖民時期；(D)是中華人民共和國。

- (C)43.圖(二十一)為某國以該國著名的景觀為主題所發行的郵票。這些郵票最可能是由下列何國所發行？ (A)法國 (B)瑞士 (C)德國 (D)西班牙。

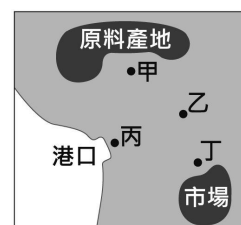


圖(二十一)

科目【地理】第五冊第一篇第3章 西歐與北歐

試題解析：題幹所指島嶼瀕波羅的海，故(A)(B)(D)所在位置不符。(A)瀕大西洋及地中海；(B)在阿爾卑斯山區；(D)西班牙瀕地中海。另外一圖的城堡鄰近奧地利，在德國南部。

- (C)44.王先生計畫在圖(二十二)甲、乙、丙、丁選擇設廠，表(七)呈現同地點設廠的生產不同設廠地點的成僅來自運輸成本，於原料，該工廠的



圖(二十二)

二)中的一地開選擇不成本。若本差異則相較產品具



有下列何種特性？(A)易腐敗 (B)易破碎 (C)體積變小 (D)重量增加。

科目【地理】第二冊第一篇第3章 第二、三級產業

試題解析：產品易腐、易破碎，體積加大，宜設在市場產地，但此題甲的成本較低，為接近原料產地，故選體積變小。

(D) 45. 外流就業人口是指不住在戶籍地縣市，而住在外縣市之就業人口，例如某人戶籍地在嘉義縣，但因工作而住在臺南市，則計入嘉義縣的外流就業人口。表(八)為2012年桃園縣(已改制為桃園市)、雲林縣、臺東縣、澎湖縣四個行政區的外流就業人口統計資料，其中何者為桃園縣？(A)甲 (B)乙 (C)丙 (D)丁。

行政區	外流就業人口(千人)	外流就業人口占該區就業人口比率(%)
甲	12	30.78
乙	31	29.86
丙	83	25.06
丁	59	6.28

科目【地理】第二冊第一篇第1章 人口

試題解析：桃園市為直轄市，人口較臺東、澎湖、雲林多，所以雖然外流就業人口多，但只占就業人口比率6.28%。

(D) 46. 十九世紀後期，一位美國學者到臺南考察，當地西拉雅族頭目帶著二十餘份文件讓他瀏覽，這些文件以羅馬字母、漢字拼寫，標注清朝雍正、乾隆及嘉慶的年號和日期，又蓋有印章。他認為這是極有價值的史料，因此便以槍枝換取了這些文件。這些文件的內容最可能包含下列何者？(A)噶吧哖事件始末 (B)安平洋行貿易資料 (C)臺灣總督府林野調查紀錄 (D)原住民與漢人土地交易契約。

科目【歷史】第一冊第二篇第2章 國際競爭下的臺灣

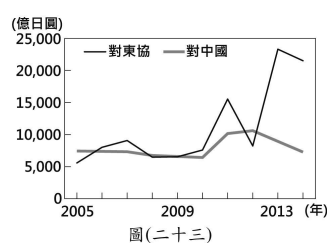
試題解析：荷蘭統治臺灣時，曾替臺南的平埔族(西拉雅族)用羅馬字母拼寫自己的語言，形成所謂新港文。西拉雅族延用到與漢人土地交易契約，故選(D)。

(C) 47. 第二次世界大戰後，許多殖民地脫離原殖民母國獨立而成為新興國家，但由於當初列強占領時未考慮該地區族群、宗教等因素，導致這些新興國家境內常因不同立場、生活方式等而發生衝突。下列何種作法最有助於減緩上述衝突？(A)發揚主流價值，同化少數族群 (B)削弱次文化勢力，獨尊強勢文化 (C)尊重不同族群，包容多元文化差異 (D)鼓勵全球化思維，限制本土文化發展。

科目【公民】第六冊第三篇第1章 全球化下的多元文化

試題解析：減緩不同文化間的衝突，並非同化與削弱或限制其他文化的發展，而在於互相尊重與包容。

(B) 48. 圖(二十三)為日本近年來對於中國和東協國家的投資金額統計，對兩者投資金額差距擴大與下列何者關係最為密切？



(A)東南亞天災日益頻繁 (B)東協的生產成本較低 (C)中國實施全面開放二胎 (D)東協反日意識漸趨高漲。

科目【公民】第五冊第三篇第4章 分工與貿易

試題解析：圖中所示日本對東協及中國投資金額在2013年差距擴大，是因為東協生產成本較中國低，基於比

較利益原則選東協獲利較高。(A)(C)(D)都無相關。

(D) 49. 全球穆斯林人口成長快速，市場商機相當龐大，資訊科技產業針對該族群的需求，設計相關產品，例如智慧型手機的應用程式可在任何地點指引禮拜方向、提醒禮拜時間、判別經過認證的食物等。下列何者也是針對上述族群所設計？(A)線上拉丁文翻譯字典 (B)手機查詢無牛肉料理的餐廳 (C)《聖經》閱讀筆及口袋電子書 (D)利用虛擬實境技術做麥加的虛擬朝聖。

科目【地理】第四冊第二篇第1章 世界概說

試題解析：穆斯林是回教徒。(A)拉丁文是基督文化區；(B)回教徒不吃豬肉；(C)是可蘭經；(D)麥加是回教聖地。

(D) 50. 宋朝宰相王安石力圖變法，但因個性固執，不接納眾人意見，加上用人不當，導致變法失敗。若某部連續劇讓王安石以穿越時空的方式，意外成為我國最高行政機關首長，然而他的作風依舊不變，引發朝野不滿。根據我國現行憲政體制判斷，下列何者最可能是穿越時空後的王安石將面臨的處境？(A)由憲法法庭審理 (B)被監察院提案糾正 (C)遭立法院提出彈劾案 (D)遭立法院提出不信任案。

科目【公民】第三冊第三篇第2章 中央政府

試題解析：(A)憲法法庭審理正副總統彈劾案；(B)糾正為以「事」為對象；(C)立法院只能彈劾正副總統；(D)立法院可對行政院提出不信任案。

(C) 51. 表(九)是一件發生在中國境內的案件審判概況，根據內容判斷，此審判最可能出現在下列何時？(A)十七世紀前期 (B)十八世紀前期 (C)十九世紀後期 (D)二十世紀後期。

審判概況	
審判地點	廈門的美國領事法庭
裁決者	美國駐廈門領事館總領事
陪審員	三人，包括一名美國領事館代表
被告	美國公民 J.H. Edward
罪名	於中國非法徵募及販運勞工至國外
判決	依美國法律判決一年監禁、罰款一千元

科目【歷史】第四冊第二篇第1章 晚清的變局

試題解析：道光22年(1842年)鴉片戰爭後，中英簽訂南京條約。次年簽續約。中國給予英國領事裁判權，指外國人在中國犯罪時，由該國領事依該國法律處理，不受中國法律制裁。此後美、法等國享受相同特權，故答案選(C)。

(D) 52. 「這個國家有著多處世界文化遺產，包括馬雅文明的都市遺址、阿茲提克帝國神廟遺跡、西班牙殖民時期重要銀礦區，和多座壯麗的天主教堂及修道院。」此一國家最可能是下列何者？(A)巴西 (B)古巴 (C)秘魯 (D)墨西哥。

科目【歷史】第五冊第二篇第4章 近代歐洲的興起

試題解析：印第安古文明馬雅文化和阿茲提克文明，由地圖



可知在中美洲的墨西哥，而印加文明在南美洲的秘魯。在16世紀時，阿茲提克和印加文明被西班牙人摧毀，故選(D)。

- (A) 53.我國總統自直接民選以來，歷屆總統、副總統選舉的選舉資料概況，如表(十)所示。根據表中資料判斷，可對近年的社會現象做出何項推論？ (A)人口結構顯示出少子化現象 (B)民眾政治參與意願逐年上升 (C)自然增加率大於社會增加率 (D)政黨輪替後兩黨制日趨成型。

表(十)

屆數	總人數(萬人)	具投票權人數(萬人)	具投票權人數比例(%)	投票率(%)
9	2131	1431	67.16	76.04
10	2213	1546	69.86	82.69
11	2257	1650	73.12	80.28
12	2292	1732	75.56	76.33
13	2322	1808	77.88	74.38
14	2348	1878	79.98	66.27

科目【公民】第三冊第三篇第6章 政治參與和選舉

試題解析：總人數與具投票權人數都上升，不具投票權的人數逐年下降。此乃反映人口結構少子化與逐漸高齡化，故選(A)。(B)政治參與意願時升時降；(C)無法判斷自然增加或社會增加；(D)無法判斷政黨類型。

2、題組：(54~63題)

閱讀下列選文，回答第54至56題：

高雄市岡山區開發甚早，過去曾隸屬於萬年州，當時的「統治政權」亦派官員進駐治理。岡山當地迄今仍保有許多傳統，例如：至今已有兩百多年歷史的「籃籠會」，一年固定舉辦三次，時間分別在農曆3月23日(媽祖生日)、農曆8月14日(中秋節前夕)及農曆9月15日(義民爺生日)，早期以販售竹製農用器具為主，現今販售的商品內容已逐漸多元化，類似一般傳統的市集。

近年來，區公所還時常將當地羊肉料理特產與籃籠會結合，擴大宣傳岡山羊肉文化節與籃籠會，希望藉此吸引更多的遊客，活絡地方經濟。但部分住戶反應，舉辦籃籠會所吸引而來的遊客車潮，經常導致鄰近地區大塞車，因此希望相關單位規畫解決之道，不要讓問題一再重演。

- (B) 54.上述「統治政權」，曾同時在臺灣設置下列哪一個行政區？ (A)淡水廳 (B)天興州 (C)噶瑪蘭廳 (D)臺東直隸州。

科目【歷史】第一冊第二篇第3章 鄭氏時期的經營

試題解析：鄭成功來臺後，在臺南設承天府，承天府以北設天興縣，以南設萬年縣，鄭經時將兩縣改為州，故選(B)。

- (D) 55.上文中的區公所主要是經由下列何種方式，來達到活絡地方經濟的目的？ (A)提高農漁牧業比例 (B)興建社區活動中心 (C)增加地方賦稅收入 (D)發展地方特色產業。

科目【公民】第三冊第三篇第3章 地方政府

試題解析：區公所活絡地方經濟可透過舉辦活動來達成。文中擴大宣傳岡山羊肉文化節便是發展地方特色產業。

- (C) 56.由文中內容判斷，下列何項作法最有助於解決「籃籠會」活動所產生的問題，且不影響區公所舉辦此活動的目的？ (A)調高到訪遊客的入場停車費用 (B)調降販售業者的攤位承租費用 (C)提供免費公車以減少車輛進出 (D)提供觀光資訊以及商品優惠券。

科目【公民】第三冊第三篇第4章 政府的經濟功能

試題解析：不影響地方經濟且要解決大塞車問題。(A)會導致遊客減少；(B)與解決大塞車無關；(C)提供免費公車不會增加業者的成本，還會帶來人潮，同時解決大塞車問題；(D)與解決大塞車無關。

閱讀下列選文，回答第57至58題

每天黎明時，來自海上的厚重霧氣會逐漸瀰漫到智利的沙漠邊緣。研究人員發明一種如圖(二十四)的採霧設備，將其裝置在迎風面，使霧中水氣凝結在無數細微黑線上再匯聚成水滴，最終落入容器中累積。由於架設方便、集水效率高，此技術已推廣至其他水資源相對稀少的地區。



圖(二十四)

- (B) 57.文中所指的霧氣最可能來自下列何者？ (A)大西洋 (B)太平洋 (C)印度洋 (D)北極海。

科目【地理】第五冊第一篇第6章 中南美洲

試題解析：圖中為智利的捕霧網，智利瀕臨太平洋，有秘魯涼流所造成的溼氣。

- (B) 58.根據上文判斷，下列何者最可能是適宜推廣此項設備的地區？ (A)亞洲東南部 (B)非洲西南部 (C)歐洲西北部 (D)北美洲東北部。

科目【地理】第六冊第一篇第1章 非洲

試題解析：題幹中所指已推廣至其他水資源相對稀少地區，是指靠海的沙漠。(A)亞洲東南部為東南亞，為熱帶季風及熱帶雨林的溼熱氣候；(B)非洲西南部有納米比沙漠；(C)歐洲西北部有溫帶海洋性氣候，為溼潤氣候；(D)北美東北部為溫帶大陸及寒帶氣候，故選(B)。

閱讀下列選文，回答第59至61題

在紅豆播種期間，有些農民會在田間施用毒餌，以避免小型鳥類啄食剛撒在土壤上的種子而影響收成，這樣的作法雖能降低農業損失，但由於黑鳶會檢食遭毒死的小型鳥類屍體，所以也間接造成許多黑鳶中毒死亡，影響整體生態環境。有位林姓農夫因認同守護黑鳶的想法和作為，決定改採較友善的耕作方式種植紅豆，他以機械播種將紅豆深埋入土中，取代毒害鳥群的行為，雖然生產成本因而上升，但他相信這才是正確的作法。

此情況經媒體報導後，吸引某一企業主的關注，決定與農民簽訂耕作契約，保證以特定價格收購農產品，讓農民專心生產，而由該企業負責銷售。受到契約保障的鼓勵，有更多農夫願意嘗試改變作法，與生態環境和諧共生。

- (D) 59.關於文中最初提及的降低農業損失作法及其影響，隱含了下列哪一概念？ (A)比較利益 (B)供給法則 (C)受益原則 (D)外部效果

科目【公民】第三冊第三篇第4章 政府的經濟功能

試題解析：在田間施用毒餌是將內部成本外部化，故選(D)外部效果。

- (C) 60.文中林姓農夫的轉變，可用下列何者說明？ (A)制度變遷影響生產者行為 (B)制度變遷影響消費者行為 (C)理念變遷影響生產者行為 (D)理念變遷影響消費者行為。

科目【公民】第二冊第三篇第5章 變遷中的社會

試題解析：從追求獲利到追求生態環境是理念的變遷，且林姓農夫為生產者，故答案選(C)。

- (A) 61.關於文中提及企業主與農夫合作的方式，若雙方在合作內容簽訂生效後，對於內容發生爭議，以下列何種方式處理最為適當？ (A)向調解委員會聲請



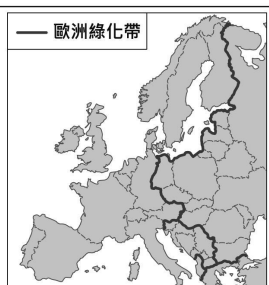
調解 (B)向當地警察局提出告訴 (C)向地方法院提起刑事訴訟 (D)向訴願管轄機關提起訴願。

科目【公民】第四冊第四篇第5章 權利救濟

試題解析：(A)民事契約爭議可聲請調解；(B)非刑事訴訟；(C)非刑事訴訟；(D)民事契約爭議不能提起訴願。

閱讀下列選文，回答第62至63題

「歐洲綠化帶」是一條覆蓋歐洲24個國家，長達12,500公里的生態保護區域。這個保護區域最早是沿著歷史上東德、西德之間的邊界形成，當時邊界滿布隔離設施，阻絕人車，使得這片地帶近40年免於人為開發與破壞，土地和生物都得以喘息。之後，環保人士倡議繼續沿著過去敵對雙方的邊界線拓展保護區域，形成如圖(二十五)所示的「歐洲綠化帶」。近年來「歐洲綠化帶」的工作團隊，也在亞洲已經軍事對峙六十餘年的「停戰線」處，協助規畫設立生態保護區域，提供野生動植物棲息地。



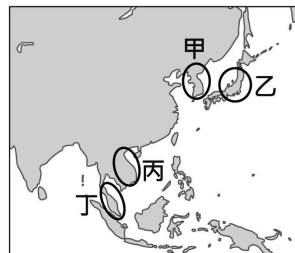
圖(二十五)

(D)62.根據上文與圖中資訊判斷，上述「歐洲綠化帶」主要路線的形成，最可能與下列何者關係密切？(A)希臘正教與羅馬公教的衝突對立 (B)第一次世界大戰時壕溝戰的僵持 (C)德蘇互不侵犯條約下的勢力畫分 (D)冷戰時期共產和反共集團的對峙。

科目【歷史】第六冊第二篇第4章 第二次世界大戰後的局勢

試題解析：二次大戰後，形成以美國為首的反共和以蘇聯共產黨為首的兩大集團，互相對抗的「冷戰」。而德國也在二戰後分裂為東德、西德，故選(D)。

(A)63.根據上文，近年來「歐洲綠化帶」的工作團隊，應是在圖(二十六)中甲、乙、丙、丁何處，協助規畫設立生態保護區域？(A)甲 (B)乙 (C)丙 (D)丁。



圖(二十六)

科目【地理】第四冊第二篇第2章 東北亞

試題解析：文章中提到亞洲軍事對峙60餘年的「停戰線」是指朝鮮半島的(甲)的(A)。

試題結束

